



Phase-XI/2023/Selection Posts and Selection Posts/Ladakh/2023

Roll Number	
Candidate Name	Selection Post
Venue Name	iON Digital Zone iDZ 1 GT Karnal Road
Exam Date	27/06/2023
Exam Time	9:00 AM - 10:00 AM
Subject	Selection Post Matriculation Level

Section : General Intelligence

Q.1 उस विकल्प का चयन कीजिए जो तीसरे शब्द से उसी प्रकार संबंधित है जिस प्रकार दूसरा शब्द पहले शब्द से संबंधित है। (शब्दों को अर्थपूर्ण हिंदी शब्दों के रूप में माना जाना चाहिए और शब्द में अक्षरों की संख्या/व्यंजनों/स्वरों की संख्या के आधार पर वे एक-दूसरे से संबंधित नहीं होने चाहिए।)

कोरियोग्राफर : नृत्यनाटिका (Ballet) :: नाटककार : ?

- Ans
- 1. गीत-रचना (Composition)
 - 2. नाटक (Play)
 - 3. चलचित्र (Movie)
 - 4. रूप-रेखा (Design)

Question ID : 264330142864

Status : Answered

Chosen Option : 2

Q.2 विकल्पों में से कौन-सी संख्या दी गई श्रृंखला में प्रश्न चिह्न (?) को प्रतिस्थापित करेगी?
54, 46, 34, 26, 14, ?

- Ans
- 1. 8
 - 2. 6
 - 3. 5
 - 4. 7

Question ID : 264330142987

Status : Answered

Chosen Option : 2

Q.3 उस विकल्प का चयन करें, जो दिए गए शब्दों की सही व्यवस्था को उस क्रम में इंगित करता है, जिस क्रम में वे अंग्रेजी शब्दकोश में दिखाई देते हैं।

1. Bunion
2. Bureau
3. Bundle
4. Bunting
5. Bungle

- Ans
- 1. 4, 5, 1, 3, 2
 - 2. 4, 5, 3, 1, 2
 - 3. 3, 5, 1, 4, 2
 - 4. 5, 3, 4, 2, 1

Question ID : 264330126643

Status : Answered

Chosen Option : 3

Click to Join the Telegram Channel



Q.4 * चिह्नों को प्रतिस्थापित करने और दिए गए समीकरण को संतुलित करने के लिए गणितीय चिह्नों के सही संयोजन का चयन कीजिए।
 $119 * 7 * 63 * 24 * 3 * 8$

- Ans
- 1. -, +, +, x, =
 - 2. +, +, -, x, =
 - 3. +, +, -, x, =
 - 4. +, +, x, -, =

Question ID : 264330142886

Status : Answered

Chosen Option : 3

Q.5 * चिह्नों को क्रमानुसार प्रतिस्थापित करने और दिए गए समीकरण को संतुलित करने के लिए गणितीय चिह्नों के सही संयोजन का चयन करें।
 $289 * 121 * 154 * 307 * (34 * 3) * 2$

- Ans
- 1. +, +, -, x, +, =
 - 2. +, -, =, -, x, +
 - 3. +, -, +, -, x, =
 - 4. x, +, -, =, +, +

Question ID : 26433057643

Status : Answered

Chosen Option : 2

Q.6 'A # B' का अर्थ है 'A, B का भाई है'।
'A @ B' का अर्थ है 'A, B की पुत्री है'।
'A & B' का अर्थ है 'A, B का पति है'।
'A % B' का अर्थ है 'A, B की पत्नी है'।
यदि L @ M % F # Q & P @ N है, तो F, P से किस प्रकार संबंधित है?

- Ans
- 1. पति का भाई
 - 2. पति
 - 3. भाई
 - 4. पिता

Question ID : 264330142900

Status : Answered

Chosen Option : 1

Q.7 उस विकल्प का चयन करें जो उन अक्षरों का निरूपण करता है, जिन्हें नीचे श्रृंखला में दिए गए रिक्त स्थानों पर बाएं से दाएं क्रमिक रूप से रखने पर श्रृंखला पूर्ण हो जाएगी।

M _ O _ _ N O _ _ N _ P M _ O _

- Ans
- 1. N P M P M O N P
 - 2. N P O P M O P O
 - 3. O P M P M O P M
 - 4. N P M P M P M N

Question ID : 264330142848

Status : Answered

Chosen Option : 1

Q.8 'A # B' का अर्थ है कि 'A, B की पत्नी है'।
'A @ B' का अर्थ है कि 'A, B का पिता है'।
'A % B' का अर्थ है कि 'A, B की बहन है'।
'A & B' का अर्थ है कि 'A, B की पुत्री है'।
यदि A % G & H # B @ Z % M है, तो H का M से क्या रिश्ता है?

- Ans
- 1. पुत्र
 - 2. पुत्री
 - 3. माँ
 - 4. सास

Question ID : 26433068265

Status : Answered

Chosen Option : 3

Q.9 तीन कथनों के बाद I, II और III से क्रमांकित तीन निष्कर्ष दिए गए हैं। आपको इन कथनों को सत्य मानना है, भले ही वे सामान्य रूप से ज्ञात तथ्यों से भिन्न प्रतीत होते हों। यह तय करें कि कौन सा/से निष्कर्ष तार्किक रूप से दिए गए कथनों का अनुसरण करता है/ करते हैं।

कथन:
अधिकांश सूट, ट्राउजर हैं।
कुछ शर्ट, टाई हैं।
सभी सूटकेस, घड़ियाँ हैं

निष्कर्ष:
(I) सभी ट्राउजर, सूट हैं।
(II) कुछ शर्ट, सूटकेस हैं।
(III) कुछ शर्ट, घड़ियाँ नहीं हैं।

- Ans
- 1. या तो निष्कर्ष I अनुसरण करता है या निष्कर्ष III अनुसरण करता है
 - 2. केवल निष्कर्ष I अनुसरण करता है
 - 3. केवल निष्कर्ष II अनुसरण करता है
 - 4. इनमें से कोई भी निष्कर्ष अनुसरण नहीं करता है

Question ID : 264330142978

Status : Answered

Chosen Option : 4

Q.10 नीचे तीन कथन और उनके बाद तीन निष्कर्ष I, II और III दिए गए हैं। कथनों को सत्य मानते हुए, भले ही वे सामान्य रूप से ज्ञात तथ्यों से भिन्न प्रतीत होते हों, यह निर्णय लीजिए कि कौन सा/से निष्कर्ष कथनों का तार्किक रूप से अनुसरण करता है/ करते हैं।

कथन:
कुछ पालने, पैट हैं।
कोई भी पालना, टैप नहीं है।
सभी पैट, शोल हैं।

निष्कर्ष:
I. सभी शोलों के पालना होने की संभावना है।
II. कम से कम कुछ टैप, पालना नहीं हैं।
III. कुछ पैट, टैप नहीं हैं।

- Ans
- 1. केवल निष्कर्ष II और III अनुसरण करते हैं
 - 2. निष्कर्ष I, II और III सभी अनुसरण करते हैं
 - 3. केवल निष्कर्ष I और III अनुसरण करते हैं
 - 4. केवल निष्कर्ष I अनुसरण करता है

Question ID : 264330142954

Status : Answered

Chosen Option : 1

Q.11 उस विकल्प का चयन कीजिए जो पाँचवें पद से उसी प्रकार संबंधित है जैसे दूसरा पद पहले पद से और चौथा पद तीसरे पद से संबंधित है।

VISION : IVISNO :: COLOUR : OCOLRU :: YELLOW : ?

- Ans
- 1. EYLOLW
 - 2. LEYWOL
 - 3. WOLLEY
 - 4. EYLLWO

Question ID : 264330142844

Status : Answered

Chosen Option : 4

Q.12 जब दर्पण को चित्र के अनुसार 'PQ' पर रखा जाता है तो दिए गए संयोजन का दर्पण में निर्मित सही प्रतिबिंब चयनित कीजिए।

hFt7695uYhh9g

- Ans
- 1. g644yH9G7J4
 - 2. gEhdyu2e27f7d
 - 3. hFt7695uYhh9g
 - 4. pF7e22uYH9g

Question ID : 264330143274

Status : Answered

Chosen Option : 2

Q.13 उस विकल्प का चयन कीजिए जो दिए गए शब्दों को तार्किक और सार्थक ढंग से सही क्रम व्यवस्था में दर्शाता है।

1. महीना
2. दिन
3. वर्ष
4. घंटा
5. मिनट

- Ans
- 1. 3, 1, 2, 5, 4
 - 2. 3, 1, 2, 4, 5
 - 3. 3, 2, 1, 4, 5
 - 4. 3, 4, 2, 1, 5

Question ID : 264330125997

Status : Answered

Chosen Option : 2

Q.14 तीन कथन दिए गए हैं, जिसके बाद तीन निष्कर्ष I, II और III दिए गए हैं। कथनों को सत्य मानते हुए, भले ही वे सामान्य रूप से ज्ञात तथ्यों से भिन्न प्रतीत होते हों, निश्चित करें कि कौन-सा/से निष्कर्ष कथनों का तार्किक रूप से अनुसरण करता है/करते हैं।

कथन:

सभी कंप्यूटर, फुटबॉल हैं।
कुछ फुटबॉल, गोल हैं।
कुछ गोल, स्टूल हैं।

निष्कर्ष:

- I. कुछ फुटबॉल, कंप्यूटर हैं।
- II. कुछ गोल, फुटबॉल हैं।
- III. कुछ स्टूल, गोल हैं।

- Ans
- 1. केवल निष्कर्ष I और II अनुसरण करते हैं।
 - 2. सभी निष्कर्ष अनुसरण करते हैं।
 - 3. केवल निष्कर्ष II और III अनुसरण करते हैं।
 - 4. केवल निष्कर्ष I और III अनुसरण करते हैं।

Question ID : 26433092649

Status : Answered

Chosen Option : 2

Q.15 कौन-सा अक्षर-समूह प्रश्न-चिह्न (?) को प्रतिस्थापित करेगा और दी गई श्रृंखला को पूरा करेगा?
CURB, ESPC, ?, IOLE, KMJF

- Ans
- 1. GQND
 - 2. HQND
 - 3. GRND
 - 4. HRND

Question ID : 264330142914

Status : Answered

Chosen Option : 1

Q.16 उस विकल्प का चयन करें जो दिए गए शब्दों के उस सही क्रम को दर्शाता है, जिस क्रम में वे अंग्रेजी शब्दकोश में दिखाई देते हैं।

1. Devoted
2. Determine
3. Devastating
4. Diaphragm
5. Diagnose
6. Different

- Ans
- 1. 2, 3, 1, 5, 4, 6
 - 2. 2, 1, 5, 4, 6, 3
 - 3. 2, 3, 1, 5, 6, 4
 - 4. 2, 3, 1, 4, 6, 5

Question ID : 264330142924

Status : Answered

Chosen Option : 1

Q.17 किसी कोड भाषा में 'BANYAN' को 'EDQBDQ' के रूप में लिखा जाता है और 'LAUNCH' को 'ODXQFK' के रूप में लिखा जाता है। उसी भाषा में 'STRIKER' को किस प्रकार लिखा जाएगा?

- Ans
- 1. VVULNHU
 - 2. SCFIRET
 - 3. ELBURPT
 - 4. UNDARSA

Question ID : 26433056264

Status : Answered

Chosen Option : 1

Q.18 उस विकल्प का चयन करें, जो उन अक्षरों का प्रतिनिधित्व करता है, जो रिक्त स्थानों में क्रमिक रूप से बाएँ से दाएँ रखे जाने पर दी गई अक्षर श्रृंखला को पूरा करेंगे।

R M _ G _ M _ _ R _ T G _ M T _

- Ans
- 1. TRGTMRG
 - 2. TRTGMRG
 - 3. TMTGMTG
 - 4. TRGTGMR

Question ID : 26433056778

Status : Answered

Chosen Option : 2

Q.19 उस विकल्प का चयन कीजिए जो तीसरे शब्द से उसी प्रकार संबंधित है जिस प्रकार दूसरा शब्द पहले शब्द से संबंधित है। (शब्दों को अर्थपूर्ण हिंदी शब्दों के रूप में माना जाना चाहिए और शब्द में अक्षरों की संख्या/व्यंजनों/स्वरों की संख्या के आधार पर वे एक-दूसरे से संबंधित नहीं होने चाहिए।)

ऑमलेट : अंडा :: सड़क : ?

- Ans
- 1. फ्लैक्स (Flax)
 - 2. डामर (Asphalt)
 - 3. लैटेक्स (Latex)
 - 4. अयस्क (Ore)

Question ID : 264330142866

Status : Answered

Chosen Option : 4

Q.20 उस आकृति का चयन कीजिए जो निम्न आकृति श्रृंखला में अगले स्थान पर आएगी।




Ans

✗ 1.



✗ 2.



✗ 3.



✓ 4.



Question ID : 264330143286

Status : Answered

Chosen Option : 4

Q.21 अक्षरों के उस संयोजन का चयन कीजिए, जिसे दी गई श्रृंखला के रिक्त स्थानों में क्रमानुसार रखने पर, श्रृंखला पूर्ण हो जाएगी।
G_BAGS_BGSBC_SB_

Ans

✗ 1. BDSC

✓ 2. SBGD

✗ 3. DGSB

✗ 4. SCBD

Question ID : 26433057816

Status : Answered

Chosen Option : 1

Q.22 उस विकल्प का चयन कीजिए जो पाँचवें पद से उसी प्रकार संबंधित है जैसे दूसरा पद पहले पद से और चौथा पद तीसरे पद से संबंधित है।

INPUT : STOMH :: OUTPUT : STOSTN :: SOLVE : ?

- Ans
- ✓ 1. DUKNR
 - ✗ 2. TPMXF
 - ✗ 3. PTUKD
 - ✗ 4. DUMPT

Question ID : 264330142841

Status : Answered

Chosen Option : 1

Q.23 उस आकृति का चयन करें जो निम्न आकृति श्रृंखला में अगले स्थान पर आएगी।



Ans

✓ 1.



✗ 2.



✗ 3.



✗ 4.



Question ID : 264330143285

Status : Answered

Chosen Option : 1

Q.24 नीचे तीन कथन और उनके बाद चार निष्कर्ष I, II, III और IV दिए गए हैं। कथनों को सत्य मानते हुए, भले ही वे सामान्य रूप से ज्ञात तथ्यों से भिन्न प्रतीत होते हों, यह निर्णय लीजिए कि कौन सा/से निष्कर्ष कथनों का तार्किक रूप से अनुसरण करता है / करते हैं।

कथन:

कुछ तोते, सुअर हैं।
कुछ सुअर, खंभे हैं।
सभी खंभे, पालतू हैं।

निष्कर्ष:

I. कुछ खंभे, सुअर हैं।
II. कुछ पालतू, तोते हैं।
III. सभी तोते, पालतू हैं।
IV. कुछ पालतू, सुअर हैं।

- Ans
- 1. केवल निष्कर्ष IV अनुसरण करता है
 - 2. केवल निष्कर्ष I और II अनुसरण करते हैं
 - 3. केवल निष्कर्ष III अनुसरण करता है
 - 4. केवल निष्कर्ष I और IV अनुसरण करते हैं

Question ID : 264330142957

Status : Answered

Chosen Option : 4

Q.25 उस विकल्प का चयन करें जो चौथे पद से उसी प्रकार संबंधित है जिस प्रकार पहला पद दूसरे पद से संबंधित है और पाँचवां पद छठे पद से संबंधित है।
16 : 36 :: ? : 50 :: 9 : 22

- Ans
- 1. 23
 - 2. 34
 - 3. 22
 - 4. 31

Question ID : 26433040808

Status : Answered

Chosen Option : 1

Section : General Awareness

Q.1 ब्रिटिश भारत में, निम्नलिखित राष्ट्रीय नेताओं में से किसे 'ग्रेंड ओल्ड मैन ऑफ इंडिया' कहा जाता था?

- Ans
- 1. महादेव गोविंद रानाडे
 - 2. गोपाल कृष्ण गोखले
 - 3. दादाभाई नौरोजी
 - 4. पृथ्वीश चन्द्र राय

Question ID : 26433065564

Status : Answered

Chosen Option : 2

Q.2 भारत की 2011 की जनगणना के अनुसार, केंद्र शासित प्रदेशों के निम्नलिखित में से किस समूह की साक्षरता दर सबसे अधिक है?

- Ans
- 1. दिल्ली तथा चंडीगढ़
 - 2. चंडीगढ़ तथा अंडमान और निकोबार
 - 3. लक्षद्वीप तथा दमन और दीव
 - 4. दिल्ली तथा लक्षद्वीप

Question ID : 264330142800

Status : Answered

Chosen Option : 4

Q.3 यकृत, दूध, अंडे और मछली सहित विभिन्न खाद्य पदार्थों में पाया जाने वाला जल में घुलनशील विटामिन कौन-सा है जो आपके शरीर की रक्त और तंत्रिका कोशिकाओं को स्वस्थ रखने में मदद करता है?

- Ans
- 1. विटामिन B12
 - 2. विटामिन C
 - 3. विटामिन A
 - 4. विटामिन E

Question ID : 264330142714
Status : Answered
Chosen Option : 1

Q.4 भारत के संविधान का निम्नलिखित में से कौन सा अनुच्छेद यह परिभाषित करता है कि मौलिक कर्तव्य केवल भारतीय नागरिकों के लिए हैं, न कि विदेशियों के लिए?

- Ans
- 1. अनुच्छेद 46 B
 - 2. अनुच्छेद 67 A
 - 3. अनुच्छेद 51 A
 - 4. अनुच्छेद 81 C

Question ID : 26433086790
Status : Answered
Chosen Option : 3

Q.5 रानी गाइदिनल्यू निम्नलिखित में से किस आंदोलन से जुड़ी हैं?

- Ans
- 1. निशा बंध
 - 2. हेराका
 - 3. नुपी लान
 - 4. मीसा पैबि

Question ID : 26433099173
Status : Not Answered
Chosen Option : --

Q.6 विश्व स्तर पर चावल के उत्पादन में भारत का स्थान क्या है? (वर्ष 2020 तक की स्थिति के अनुसार)

- Ans
- 1. पहला
 - 2. तीसरा
 - 3. दूसरा
 - 4. चौथा

Question ID : 26433086895
Status : Answered
Chosen Option : 3

Q.7 मार्च 2022 में, वर्चुअल स्मार्ट ग्रिड नॉलेज सेंटर और इनोवेशन पार्क का शुभारंभ निम्न में से किसके द्वारा किया गया?

- Ans
- 1. हरदीप सिंह पुरी
 - 2. राज कुमार सिंह
 - 3. गिरिराज सिंह
 - 4. किरेन रिजिजू

Question ID : 26433061837
Status : Answered
Chosen Option : 3

Q.8 'संगीत नाटक अकादमी पुरस्कार' से सम्मानित रतिकॉत महापात्र को भारत के निम्नलिखित शास्त्रीय नृत्यों में से किस शास्त्रीय नृत्य के लिए जाना जाता है?

- Ans
- 1. ओडिसी
 - 2. मणिपुरी
 - 3. कथक
 - 4. कथकली

Question ID : 26433097103

Status : Answered

Chosen Option : 1

Q.9 निम्नलिखित में से कौन-सा पोटैशियम लवण एक खनिज पूरक है, जिसका उपयोग रक्त में पोटैशियम के निम्न स्तरों के उपचार या रोकथाम के लिए किया जाता है?

- Ans
- 1. पोटैशियम आयोडाइड
 - 2. पोटैशियम क्लोराइड
 - 3. पोटैशियम साइट्रेट
 - 4. पोटैशियम नाइट्रेट

Question ID : 26433055754

Status : Answered

Chosen Option : 1

Q.10 दक्षिण भारत की ऐसी प्रमुख नदियां कौन सी हैं जो अरब सागर में गिरती हैं?

- Ans
- 1. कृष्णा और कावेरी
 - 2. चंबल और कोसी
 - 3. नर्मदा और ताप्ती
 - 4. महानदी और ब्रह्मपुत्र

Question ID : 26433081918

Status : Answered

Chosen Option : 3

Q.11 भरत वंश के नाम पर इंडिया का नाम 'भारत' रखा गया। निम्नलिखित में से किस वेद में इस वंश का सर्वप्रथम उल्लेख मिलता है?

- Ans
- 1. अथर्ववेद
 - 2. यजुर्वेद
 - 3. सामवेद
 - 4. ऋग्वेद

Question ID : 264330142801

Status : Answered

Chosen Option : 1

Q.12 भारत की 2011 की जनगणना के अनुसार, भारत में पुरुष साक्षरता दर कितनी है?

- Ans
- 1. 88.61%
 - 2. 70.55%
 - 3. 82.14%
 - 4. 64.72%

Question ID : 26433089251

Status : Answered

Chosen Option : 3

Q.13 निम्नलिखित में से किस व्यक्ति को ग्रैमी और ऑस्कर दोनों पुरस्कार प्राप्त हुए हैं?

- Ans
- 1. गुलज़ार
 - 2. अमिताभ भट्टाचार्य
 - 3. जावेद अख्तर
 - 4. जगजीत सिंह

Question ID : 264330141387

Status : Answered

Chosen Option : 2

Q.14 जनवरी 2022 में, प्रधान मंत्री नरेंद्र मोदी की अध्यक्षता में केंद्रीय मंत्रिमंडल ने 31 मार्च 2022 से आगे वर्षों के लिए राष्ट्रीय सफाई कर्मचारी आयोग (NCSK) के कार्यकाल के विस्तार को मंजूरी दी।

- Ans
- 1. तीन
 - 2. चार
 - 3. दो
 - 4. पांच

Question ID : 26433081806

Status : Not Answered

Chosen Option : --

Q.15 निम्नलिखित में से कौन-सी आत्मकथा भारतीय फ़िल्म अभिनेता बलराज साहनी द्वारा लिखी गई थी?

- Ans
- 1. मेरी फ़िल्मी आत्मकथा
 - 2. द एक्ट ऑफ़ लाइफ़
 - 3. मैं एक हरफनमौला
 - 4. आई एम नॉट एन आइलैंड

Question ID : 264330141402

Status : Not Answered

Chosen Option : --

Q.16 जुलाई 2021 में, ओलंपिक में एकल टेनिस मैच जीतने वाले केवल तीसरे भारतीय कौन बने?

- Ans
- 1. सुमित नागल
 - 2. रामकुमार रामनाथन
 - 3. प्रजनेश गुणेश्वरन
 - 4. मुकुंद शशिकुमार

Question ID : 264330142687

Status : Answered

Chosen Option : 1

Q.17 पारिस्थितिक तंत्र के कार्य करने और बने रहने के लिए बुनियादी आवश्यकता क्या है?

- Ans
- 1. सौर ऊर्जा का निवेश
 - 2. जीव
 - 3. मृदा संरचना
 - 4. सूक्ष्म जीव

Question ID : 26433064762

Status : Answered

Chosen Option : 1

Q.18 निम्नलिखित में से कौन-सा शस्योत्सव कर्नाटक में नवम्बर - दिसम्बर के महीनों में मनाया जाता है?

- Ans
- 1. हूथरी
 - 2. दसरा
 - 3. कम्बाला
 - 4. हम्पी

Question ID : 264330141230
Status : Answered
Chosen Option : 3

Q.19 निम्नलिखित में से कौन-सी शास्त्रीय नृत्य शैली भगवान जगन्नाथ की पूजा से संबंधित है?

- Ans
- 1. सत्रीया
 - 2. भरतनाट्यम्
 - 3. ओड़िसी
 - 4. कथक

Question ID : 264330141227
Status : Answered
Chosen Option : 1

Q.20 दक्षिणी भारत में सैन्य अभियान शुरू करने वाला दिल्ली सल्तनत का पहला सुल्तान कौन था?

- Ans
- 1. मुहम्मद तुगलक
 - 2. शम्सुद्दीन इल्तुतमिश
 - 3. अलाउद्दीन खिलजी
 - 4. गयासुद्दीन बलबन

Question ID : 26433089872
Status : Answered
Chosen Option : 3

Q.21 भारत की प्रथम महिला उच्चतम न्यायालय न्यायाधीश फातिमा बीवी भारत के किस राज्य से संबंधित हैं?

- Ans
- 1. केरल
 - 2. आंध्र प्रदेश
 - 3. तमिलनाडु
 - 4. कर्नाटक

Question ID : 264330113427
Status : Answered
Chosen Option : 1

Q.22 होयसलेश्वर मंदिर का निर्माण निम्नलिखित में से किस पत्थर से एक होयसल राजा ने 1150 में करवाया था?

- Ans
- 1. बलुआ पत्थर
 - 2. ग्रे बेसाल्ट
 - 3. सफ़ेद संगमरमर
 - 4. काला शिस्ट पत्थर

Question ID : 26433090743
Status : Not Answered
Chosen Option : --

Q.23 उस उपकरण का नाम बताइए जिसका इस्तेमाल मौसम विज्ञानियों द्वारा सौर विकिरण को समतल सतह पर आपतन के गोलाकार क्षेत्र से मापने के लिए किया जाता है?

- Ans
- 1. हाइग्रोमीटर
 - 2. एनीमोमीटर
 - 3. पाइरैनोमीटर
 - 4. बैरोमीटर

Question ID : 264330142718

Status : Answered

Chosen Option : 3

Q.24 बैडमिंटन की एक अंतरराष्ट्रीय पुरुष टीम चैंपियनशिप, थॉमस कप का पहला संस्करण निम्नलिखित में से किस वर्ष आयोजित किया गया था?

- Ans
- 1. 1949
 - 2. 1955
 - 3. 1952
 - 4. 1961

Question ID : 26433059364

Status : Not Answered

Chosen Option : --

Q.25 पद्म पुरस्कार विजेता सुधा सिंह निम्नलिखित में से किस क्षेत्र की खिलाड़ी हैं?

- Ans
- 1. शूटिंग
 - 2. तैराकी
 - 3. एथलेटिक्स
 - 4. टेबल टेनिस

Question ID : 264330142688

Status : Not Answered

Chosen Option : --

Section : Quantitative Aptitude

Q.1 ₹7,000 पर R% वार्षिक दर से 2 वर्षों में अर्जित साधारण ब्याज, ₹5,000 पर 5% वार्षिक दर से 14 वर्षों में अर्जित साधारण ब्याज के बराबर है। R का मान (प्रतिशत में) क्या है?

- Ans
- 1. 25%
 - 2. 28%
 - 3. 15%
 - 4. 20%

Question ID : 264330102358

Status : Answered

Chosen Option : 1

Q.2 दो संख्याओं का योग $10373 + 24871$ निम्नलिखित में से किस संख्या से विभाज्य है?

- Ans
- 1. 7
 - 2. 8
 - 3. 6
 - 4. 13

Question ID : 264330142548

Status : Answered

Chosen Option : 3

Q.3 3600 m लंबे ट्रैक के अनुदिश एक वृत्ताकार दौड़ में, X और Y क्रमशः 27 km/h और 45 km/h की गति से दौड़ते हैं। मान लीजिए कि वे एक ही समय और एक ही दिशा में चलना शुरू करते हैं, तो वे फिर से शुरुआती बिंदु पर कब मिलेंगे?

- Ans
- 1. 720 sec
 - 2. 1440 sec
 - 3. 2200 sec
 - 4. 1200 sec

Question ID : 26433083092
Status : Answered
Chosen Option : 1

Q.4 एक विद्यालय में 32 विद्यार्थियों का माध्य भार 50 kg है। यदि शिक्षक के भार को शामिल कर लिया जाए, तो माध्य 500 ग्राम बढ़ जाता है। शिक्षक का भार ज्ञात कीजिए।

- Ans
- 1. 63.5 kg
 - 2. 64.5 kg
 - 3. 66.5 kg
 - 4. 65.5 kg

Question ID : 26433058655
Status : Answered
Chosen Option : 3

Q.5 एक टीवी का अंकित मूल्य ₹24,500 है। यदि इसका विक्रय मूल्य ₹20,090 है, तो छूट प्रतिशत क्या है?

- Ans
- 1. 22%
 - 2. 20%
 - 3. 15%
 - 4. 18%

Question ID : 264330102755
Status : Answered
Chosen Option : 4

Q.6 A, B और C अलग-अलग एक कार्य को क्रमशः 20, 25 और 30 दिनों में पूरा कर सकते हैं। यदि A अकेले पहले दिन कार्य करता है, B अकेले दूसरे दिन और C अकेले तीसरे दिन कार्य करता है, और यह क्रम आगे भी चलता है, तो पूरा कार्य कितने दिनों में समाप्त हो जाएगा?

- Ans
- 1. $25\frac{1}{75}$
 - 2. $25\frac{4}{15}$
 - 3. $24\frac{1}{75}$
 - 4. $24\frac{4}{15}$

Question ID : 26433075571
Status : Answered
Chosen Option : 4

Q.7 उस घनाभ के विकर्ण की लंबाई (दशमलव के एक अंक तक) ज्ञात कीजिए, जिसकी विमाएँ 12 m, 10 m और 8 m हैं।

- Ans
- 1. 18m
 - 2. 17m
 - 3. 16.5m
 - 4. 17.54m

Question ID : 26433075511

Status : Answered

Chosen Option : 4

Q.8 एक वस्तु को इस शर्त पर खरीदा जाता है कि ₹3,993 की तीन समान किस्तों का 10% चक्रवृद्धि ब्याज की दर से भुगतान किया जाना है जबकि ब्याज वार्षिक रूप से चक्रवृद्धि किया जाता है। वस्तु की कीमत क्या है?

- Ans
- 1. ₹9,590
 - 2. ₹9,050
 - 3. ₹10,000
 - 4. ₹9,930

Question ID : 264330103731

Status : Answered

Chosen Option : 3

Q.9 वेंकट अपनी आय का 65% खर्च करता है और प्रति माह ₹1,100 बचाने में सक्षम है। उसका मासिक खर्च (दो दशमलव अंक तक सही) ज्ञात कीजिए।

- Ans
- 1. ₹2,402.85
 - 2. ₹2,042.85
 - 3. ₹2,240.85
 - 4. ₹2,024.85

Question ID : 26433076372

Status : Answered

Chosen Option : 2

Q.10 16 और 24 का तीसरा समानुपाती _____ होगा।

- Ans
- 1. 30
 - 2. 40
 - 3. 36
 - 4. 32

Question ID : 264330142532

Status : Answered

Chosen Option : 3

Prepare 50% Faster

Q.11 यदि $C = D$ का $\frac{2}{3}$ और $D = E$ का $\frac{3}{8}$ है, तो $C : E$ का अनुपात ज्ञात कीजिए।

- Ans
- 1. 1:4
 - 2. 4:1
 - 3. 3:4
 - 4. 1:3

Question ID : 264330142554
Status : Answered
Chosen Option : 1

Q.12 सोमेश एक दुकानदार है जो ₹560 अंकित मूल्य वाली छतरी पर दो क्रमिक छूट प्रदान करता है। दी गई प्रथम छूट 17% है। यदि ग्राहक महेश छतरी के लिए ₹420 का भुगतान करता है, तो दी गई द्वितीय छूट (दशमलव के दो स्थान तक सही) ज्ञात करें।

- Ans
- 1. 6.94%
 - 2. 6.49%
 - 3. 9.64%
 - 4. 4.69%

Question ID : 264330130089
Status : Answered
Chosen Option : 3

Q.13 कक्षा I में, औसत आयु 20 वर्ष के 12 छात्र हैं और कक्षा II में औसत आयु 23 वर्ष के 16 छात्र हैं। इन दोनों कक्षाओं के सभी छात्रों के लिए लगभग औसत आयु क्या होगी?

- Ans
- 1. 1.53 वर्ष
 - 2. 43 वर्ष
 - 3. 20.7 वर्ष
 - 4. 21.7 वर्ष

Question ID : 26433073121
Status : Answered
Chosen Option : 4

Q.14 निम्नलिखित में से कौन सी संख्या 72 से विभाज्य नहीं है?

- Ans
- 1. 754344
 - 2. 359784
 - 3. 426816
 - 4. 486280

Question ID : 264330142676
Status : Answered
Chosen Option : 4

Q.15 एक खोखले अर्धगोलाकार कटोरे का आंतरिक और बाहरी व्यास क्रमशः 6 cm और 10 cm हैं। यदि इसे पिघलाकर 14 cm व्यास वाले एक ठोस बेलन के रूप में ढाला जाता है, तो बेलन की ऊंचाई cm में क्या होगी?

- Ans
- 1. 1
 - 2. 1.33
 - 3. 1.22
 - 4. 1.1

Question ID : 26433041645
Status : Answered
Chosen Option : 3

Q.16 एक पंसारी 13% के लाभ पर दालें बेचता है और ऐसे बाट का उपयोग करता है, जो बाजार के बाट से 24% कम है। उसके द्वारा अर्जित लाभ का प्रतिशत (2 दशमलव स्थान तक सही) _____ होगा।

- Ans
- 1. 37.75%
 - 2. 45.56%
 - 3. 48.68%
 - 4. 42.35%

Question ID : 26433081473

Status : Answered

Chosen Option : 3

Q.17 एक व्यक्ति 48 km की दूरी 8 km/h की चाल से, 36 km की दूरी 18 km/h की चाल से और 16 km की दूरी 8 km/h की चाल से तय करता है। पूरी दूरी तय करने में उसकी औसत चाल क्या है?

- Ans
- 1. 11 km/h
 - 2. 10 km/h
 - 3. 10.5 km/h
 - 4. 9 km/h

Question ID : 264330142262

Status : Answered

Chosen Option : 2

Q.18 यदि क्रय मूल्य विक्रय मूल्य का 66% है, तो लाभ प्रतिशत क्या है (2 दशमलव स्थानों तक पूर्णांकित)?

- Ans
- 1. 55.62%
 - 2. 50.52%
 - 3. 51.52%
 - 4. 60.25%

Question ID : 264330142239

Status : Answered

Chosen Option : 3

Q.19 एक नृत्य कक्षा के तीन बैचों में छात्रों का अनुपात 2 : 3 : 5 है। यदि प्रत्येक बैच में 20 छात्र बढ़ते हैं तो अनुपात बदलकर 4 : 5 : 7 हो जाता है। वृद्धि से पहले तीनों बैचों में छात्रों की कुल संख्या ज्ञात कीजिए।

- Ans
- 1. 80
 - 2. 120
 - 3. 150
 - 4. 100

Question ID : 264330142664

Status : Answered

Chosen Option : 4

Q.20 एक छात्रावास में 35 विद्यार्थियों के लिए 27 दिन का भोजन उपलब्ध है। 45 विद्यार्थियों के लिए यह भोजन कितने दिन के लिए पर्याप्त होगा?

- Ans
- 1. 22
 - 2. 23
 - 3. 25
 - 4. 21

Question ID : 26433061084

Status : Answered

Chosen Option : 4

Q.21 अरविंद ने साधारण ब्याज पर 5 वर्ष के लिए ₹18,500 जमा किए। 5 वर्षों के बाद, उसे ब्याज के रूप में ₹4,625 प्राप्त हुए। वार्षिक ब्याज की दर क्या थी?

- Ans 1. 5%
 2. 7%
 3. 6.5%
 4. 6%

Question ID : 264330142260
Status : Answered
Chosen Option : 1

Q.22 एक संख्या में पहले 5% की वृद्धि की जाती है और फिर इसमें 20% की वृद्धि की जाती है। मूल संख्या में कितने प्रतिशत (%) की वृद्धि होती है?

- Ans 1. 16%
 2. 26%
 3. 30%
 4. 18%

Question ID : 264330142551
Status : Answered
Chosen Option : 2

Q.23 यदि किसी संख्या के 20% को, दूसरी संख्या से घटाया जाता है और दूसरी संख्या घटकर 70% हो जाती है, तो पहली संख्या और दूसरी संख्या का अनुपात क्या होगा?

- Ans 1. 3:2
 2. 4:3
 3. 2:3
 4. 3:4

Question ID : 26433075650
Status : Answered
Chosen Option : 1

Q.24 कक्षा A में 20 छात्रों ने औसतन 75 अंक प्राप्त किए, और कक्षा B में 30 छात्रों ने औसतन 60 अंक प्राप्त किए। दोनों कक्षाओं का औसत क्या होगा?

- Ans 1. 66
 2. 62
 3. 64
 4. 68

Question ID : 264330103604
Status : Answered
Chosen Option : 1

Q.25 यदि क्रय मूल्य विक्रय मूल्य का 94% है, तो लाभ प्रतिशत ज्ञात कीजिए।

- Ans
- 1. 4.6%
 - 2. 6.5%
 - 3. 5.6%
 - 4. 6.4%

Question ID : 26433076175
Status : Answered
Chosen Option : 4

Section : English Language

Q.1 Select the most appropriate meaning of the given idiom.

To show a clean pair of heels

- Ans
- 1. To run fast
 - 2. Show clean shoes
 - 3. To clean shoes fast
 - 4. Show clean feet

Question ID : 26433098328
Status : Answered
Chosen Option : 1

Q.2 Select the correct spelling of the underlined word from the options.

She is the most underrated cricketer in the country.

- Ans
- 1. underateed
 - 2. underrated
 - 3. undderated
 - 4. underatted

Question ID : 26433088782
Status : Answered
Chosen Option : 2

Q.3 Select the most appropriate option to fill in the blank.
You must _____ what you cannot cure.

- Ans
- 1. embracing
 - 2. endure
 - 3. state
 - 4. take

Question ID : 26433060056
Status : Answered
Chosen Option : 2

Q.4 Select the idiom that gives the most appropriate meaning of the underlined phrase in the following sentence.

'Honesty is the best policy' does not remain valid in the present times of corruption and greed.

- Ans
- 1. Go through thick and thin
 - 2. Hold good
 - 3. Keep pace with
 - 4. Put up

Question ID : 26433086436

Status : Answered

Chosen Option : 4

Q.5 Select the most appropriate synonym of the underlined word in the following sentence.

Biosphere reserves are 'learning places for sustainable development'.

- Ans
- 1. maintainable
 - 2. unsuitable
 - 3. temporary
 - 4. brief

Question ID : 26433059798

Status : Answered

Chosen Option : 1

Q.6 Select the option that expresses the given sentence in active voice.
The manager was being scolded by Rushikesh.

- Ans
- 1. Rushikesh has been scolding the manager.
 - 2. Rushikesh will be scolding the manager.
 - 3. Rushikesh was scolding the manager.
 - 4. Rushikesh scolded the manager.

Question ID : 264330134203

Status : Answered

Chosen Option : 3

Q.7 Select the option that expresses the given sentence in indirect speech.
Aravind said, "My teacher is correcting the answer sheets."

- Ans
- 1. Aravind said that his teacher was correcting the answer sheets.
 - 2. Aravind said his teacher was be corrected the answer sheets.
 - 3. Aravind said that his teacher is being correcting the answer sheets.
 - 4. Aravind said that teacher is corrected the answer sheets.

Question ID : 264330135982

Status : Answered

Chosen Option : 1

Q.8 Select the option that can be used as a one-word substitute for the given group of words.

The wide variety of shared and different personal and group characteristics among human beings

- Ans
- 1. Community
 - 2. Intensity
 - 3. Viscosity
 - 4. Diversity

Question ID : 26433060300

Status : Answered

Chosen Option : 4

Q.9 Fill in the blank with the most appropriate word that can be used here based on the given context.

We as human beings usually tend to forget that life itself is an accumulated process of _____.

- Ans
- 1. recalling
 - 2. testing
 - 3. learning
 - 4. remembering

Question ID : 26433059829

Status : Answered

Chosen Option : 3

Q.10 Select the most appropriate meaning of the given idiom.

He brought his servant to book for breaking the beautiful showpiece.

- Ans
- 1. Scolded his servant
 - 2. Relieved his servant
 - 3. Rewarded his servant
 - 4. Sent his servant away

Question ID : 264330122973

Status : Answered

Chosen Option : 1

Q.11 Identify the most appropriate ANTONYM of the underlined word in the given sentence.

Precious stones are expensive because they are not common.

- Ans
- 1. Extinct
 - 2. Abundant
 - 3. Natural
 - 4. Rare

Question ID : 26433060801

Status : Answered

Chosen Option : 4

Q.12 Parts of the following sentence have been underlined and given as options. Select the option that contains a spelling error.

In the unscientific age or community, there are official repositories of wisdom, such as Egyptian preists and Tibetan Lamas.

- Ans
- 1. repositories
 - 2. Egyptian
 - 3. preists
 - 4. unscientific

Question ID : 26433088434

Status : Answered

Chosen Option : 1

Q.13 Select the option that can be used as a one-word substitute for the underlined group of words in the given sentence.

Adversity always presents opportunities for the examination of one's own conscious thoughts and feelings.

- Ans
- 1. evaluation
 - 2. cognition
 - 3. judgement
 - 4. introspection

Question ID : 26433073850

Status : Answered

Chosen Option : 3

Q.14 Choose the correct spelling of the underlined word in the given sentence.

We are going on a hiking expidition.

- Ans
- 1. i Expedition
 - 2. expedetion
 - 3. exhipidition
 - 4. expedition

Question ID : 26433084611

Status : Answered

Chosen Option : 4

Q.15 Select the most appropriate meaning of the given idiom.

Easier said than done

- Ans
- 1. Not as difficult as it appears to be
 - 2. Not as moderate as it appears to be
 - 3. Not as restricted as it appears to be
 - 4. Not as easy as it appears to be

Question ID : 26433061014

Status : Answered

Chosen Option : 4

Prepare 50% Faster

Comprehension:

In the following passage, some words have been deleted. Read the passage carefully and select the most appropriate option to fill in each blank.

Power foods are foods that provide (1) _____ levels of nutrients like fibre, potassium and minerals. With people becoming increasingly health conscious today, a lot of fitness trainers encourage their clients to include these foods in their daily diet to (2) _____ muscle development. There are various ways of incorporating power foods in your daily diet. Of course, the key to enjoying power foods is proper preparation of these foods, the (3) _____ of season-fresh foods and identifying your choice of flavour among power foods. Some of the recommended power food combinations are those that are prepared in our kitchens on a regular basis. Take for instance, the combination of chickpeas and onions. This combination is a powerful source of iron which is required by the body to transport oxygen to its various parts. Iron (4) _____ can lead to anaemia, fatigue, brain fog and tiredness. A study by the Journal of Agricultural and Food Chemistry says that sulphur compounds in onion and garlic help in the absorption of iron and zinc from chickpeas. The combination is a hit with teenagers who need to be (5) _____ about getting iron in their diet. A quick way to prepare this power food is to make a chickpea salad with chopped onions, chaat masala and cilantro.

SubQuestion No : 16

Q.16 Select the most appropriate option to fill in blank number 1.

- Ans
- 1. prosperous
 - 2. rich
 - 3. flourishing
 - 4. thriving

Question ID : 26433072017

Status : Answered

Chosen Option : 1

Comprehension:

In the following passage, some words have been deleted. Read the passage carefully and select the most appropriate option to fill in each blank.

Power foods are foods that provide (1) _____ levels of nutrients like fibre, potassium and minerals. With people becoming increasingly health conscious today, a lot of fitness trainers encourage their clients to include these foods in their daily diet to (2) _____ muscle development. There are various ways of incorporating power foods in your daily diet. Of course, the key to enjoying power foods is proper preparation of these foods, the (3) _____ of season-fresh foods and identifying your choice of flavour among power foods. Some of the recommended power food combinations are those that are prepared in our kitchens on a regular basis. Take for instance, the combination of chickpeas and onions. This combination is a powerful source of iron which is required by the body to transport oxygen to its various parts. Iron (4) _____ can lead to anaemia, fatigue, brain fog and tiredness. A study by the Journal of Agricultural and Food Chemistry says that sulphur compounds in onion and garlic help in the absorption of iron and zinc from chickpeas. The combination is a hit with teenagers who need to be (5) _____ about getting iron in their diet. A quick way to prepare this power food is to make a chickpea salad with chopped onions, chaat masala and cilantro.

SubQuestion No : 17

Q.17 Select the most appropriate option to fill in blank number 2.

- Ans
- 1. increase
 - 2. magnify
 - 3. intensify
 - 4. spike

Question ID : 26433072018

Status : Answered

Chosen Option : 4

Prepare 50% Faster

Comprehension:

In the following passage, some words have been deleted. Read the passage carefully and select the most appropriate option to fill in each blank.

Power foods are foods that provide (1) _____ levels of nutrients like fibre, potassium and minerals. With people becoming increasingly health conscious today, a lot of fitness trainers encourage their clients to include these foods in their daily diet to (2) _____ muscle development. There are various ways of incorporating power foods in your daily diet. Of course, the key to enjoying power foods is proper preparation of these foods, the (3) _____ of season-fresh foods and identifying your choice of flavour among power foods. Some of the recommended power food combinations are those that are prepared in our kitchens on a regular basis. Take for instance, the combination of chickpeas and onions. This combination is a powerful source of iron which is required by the body to transport oxygen to its various parts. Iron (4) _____ can lead to anaemia, fatigue, brain fog and tiredness. A study by the Journal of Agricultural and Food Chemistry says that sulphur compounds in onion and garlic help in the absorption of iron and zinc from chickpeas. The combination is a hit with teenagers who need to be (5) _____ about getting iron in their diet. A quick way to prepare this power food is to make a chickpea salad with chopped onions, chaat masala and cilantro.

SubQuestion No : 18

Q.18 Select the most appropriate option to fill in blank number 3.

- Ans
- 1. wield
 - 2. handle
 - 3. apply
 - 4. use

Question ID : 26433072019

Status : Answered

Chosen Option : 4

Comprehension:

In the following passage, some words have been deleted. Read the passage carefully and select the most appropriate option to fill in each blank.

Power foods are foods that provide (1) _____ levels of nutrients like fibre, potassium and minerals. With people becoming increasingly health conscious today, a lot of fitness trainers encourage their clients to include these foods in their daily diet to (2) _____ muscle development. There are various ways of incorporating power foods in your daily diet. Of course, the key to enjoying power foods is proper preparation of these foods, the (3) _____ of season-fresh foods and identifying your choice of flavour among power foods. Some of the recommended power food combinations are those that are prepared in our kitchens on a regular basis. Take for instance, the combination of chickpeas and onions. This combination is a powerful source of iron which is required by the body to transport oxygen to its various parts. Iron (4) _____ can lead to anaemia, fatigue, brain fog and tiredness. A study by the Journal of Agricultural and Food Chemistry says that sulphur compounds in onion and garlic help in the absorption of iron and zinc from chickpeas. The combination is a hit with teenagers who need to be (5) _____ about getting iron in their diet. A quick way to prepare this power food is to make a chickpea salad with chopped onions, chaat masala and cilantro.

SubQuestion No : 19

Q.19 Select the most appropriate option to fill in blank number 4.

- Ans
- 1. drought
 - 2. lack
 - 3. deficiency
 - 4. inadequacy

Question ID : 26433072020

Status : Answered

Chosen Option : 3

Comprehension:

In the following passage, some words have been deleted. Read the passage carefully and select the most appropriate option to fill in each blank.

Power foods are foods that provide (1) _____ levels of nutrients like fibre, potassium and minerals. With people becoming increasingly health conscious today, a lot of fitness trainers encourage their clients to include these foods in their daily diet to (2) _____ muscle development. There are various ways of incorporating power foods in your daily diet. Of course, the key to enjoying power foods is proper preparation of these foods, the (3) _____ of season-fresh foods and identifying your choice of flavour among power foods. Some of the recommended power food combinations are those that are prepared in our kitchens on a regular basis. Take for instance, the combination of chickpeas and onions. This combination is a powerful source of iron which is required by the body to transport oxygen to its various parts. Iron (4) _____ can lead to anaemia, fatigue, brain fog and tiredness. A study by the Journal of Agricultural and Food Chemistry says that sulphur compounds in onion and garlic help in the absorption of iron and zinc from chickpeas. The combination is a hit with teenagers who need to be (5) _____ about getting iron in their diet. A quick way to prepare this power food is to make a chickpea salad with chopped onions, chaat masala and cilantro.

SubQuestion No : 20

Q.20 Select the most appropriate option to fill in blank number 5.

- Ans
- 1. immersed
 - 2. swamped
 - 3. diligent
 - 4. vibrant

Question ID : 26433072021

Status : Answered

Chosen Option : 4

Comprehension:

Read the given passage and answer the questions that follow.

"For me, trees have always been the most penetrating preachers. I revere them when they live in tribes and families, in forests and groves. And even more I revere them when they stand alone. They are like lonely persons. Not like hermits who have stolen away out of some weakness, but like great, solitary men, like Beethoven and Nietzsche. In their highest boughs the world rustles, their roots rest in infinity; but they do not lose themselves there, they struggle with all the force of their lives for one thing only: to fulfil themselves according to their own laws, to build up their own form, to represent themselves. Nothing is holier, nothing is more exemplary than a beautiful, strong tree. When a tree is cut down and reveals its naked death-wound to the sun, one can read its whole history in the luminous, inscribed disk of its trunk: in the rings of its years, its scars, all the struggle, all the suffering, all the sickness, all the happiness and prosperity stand truly written, the narrow years and the luxurious years, the attacks withstood, the storms endured. And every young farm-boy knows that the hardest and noblest wood has the narrowest rings, that high on the mountains and in continuing danger the most indestructible, the strongest, the ideal trees grow."

SubQuestion No : 21

Q.21 Which of the following labels is most appropriate for the author of the given passage?

- Ans
- 1. Arrogant theorist
 - 2. Social activist
 - 3. Nostalgic dreamer
 - 4. Environment enthusiast

Question ID : 26433076132

Status : Answered

Chosen Option : 4

Comprehension:

Read the given passage and answer the questions that follow.

"For me, trees have always been the most penetrating preachers. I revere them when they live in tribes and families, in forests and groves. And even more I revere them when they stand alone. They are like lonely persons. Not like hermits who have stolen away out of some weakness, but like great, solitary men, like Beethoven and Nietzsche. In their highest boughs the world rustles, their roots rest in infinity; but they do not lose themselves there, they struggle with all the force of their lives for one thing only: to fulfil themselves according to their own laws, to build up their own form, to represent themselves. Nothing is holier, nothing is more exemplary than a beautiful, strong tree. When a tree is cut down and reveals its naked death-wound to the sun, one can read its whole history in the luminous, inscribed disk of its trunk: in the rings of its years, its scars, all the struggle, all the suffering, all the sickness, all the happiness and prosperity stand truly written, the narrow years and the luxurious years, the attacks withstood, the storms endured. And every young farm-boy knows that the hardest and noblest wood has the narrowest rings, that high on the mountains and in continuing danger the most indestructible, the strongest, the ideal trees grow."

SubQuestion No : 22

Q.22 Where can one read the complete history of a tree?

- Ans
- 1. On its skin when it is counted
 - 2. On its trunk when it is cut down
 - 3. On its branches when it is full-grown
 - 4. On its leaves in sunny days

Question ID : 26433076129

Status : Answered

Chosen Option : 2

Comprehension:

Read the given passage and answer the questions that follow.

"For me, trees have always been the most penetrating preachers. I revere them when they live in tribes and families, in forests and groves. And even more I revere them when they stand alone. They are like lonely persons. Not like hermits who have stolen away out of some weakness, but like great, solitary men, like Beethoven and Nietzsche. In their highest boughs the world rustles, their roots rest in infinity; but they do not lose themselves there, they struggle with all the force of their lives for one thing only: to fulfil themselves according to their own laws, to build up their own form, to represent themselves. Nothing is holier, nothing is more exemplary than a beautiful, strong tree. When a tree is cut down and reveals its naked death-wound to the sun, one can read its whole history in the luminous, inscribed disk of its trunk: in the rings of its years, its scars, all the struggle, all the suffering, all the sickness, all the happiness and prosperity stand truly written, the narrow years and the luxurious years, the attacks withstood, the storms endured. And every young farm-boy knows that the hardest and noblest wood has the narrowest rings, that high on the mountains and in continuing danger the most indestructible, the strongest, the ideal trees grow."

SubQuestion No : 23

Q.23 What is the tone of the speaker?

- Ans
- 1. Sarcastic
 - 2. Vituperative
 - 3. Emotional
 - 4. Apathetic

Question ID : 26433076131

Status : Answered

Chosen Option : 3

Comprehension:

Read the given passage and answer the questions that follow.

"For me, trees have always been the most penetrating preachers. I revere them when they live in tribes and families, in forests and groves. And even more I revere them when they stand alone. They are like lonely persons. Not like hermits who have stolen away out of some weakness, but like great, solitary men, like Beethoven and Nietzsche. In their highest boughs the world rustles, their roots rest in infinity; but they do not lose themselves there, they struggle with all the force of their lives for one thing only: to fulfil themselves according to their own laws, to build up their own form, to represent themselves. Nothing is holier, nothing is more exemplary than a beautiful, strong tree. When a tree is cut down and reveals its naked death-wound to the sun, one can read its whole history in the luminous, inscribed disk of its trunk: in the rings of its years, its scars, all the struggle, all the suffering, all the sickness, all the happiness and prosperity stand truly written, the narrow years and the luxurious years, the attacks withstood, the storms endured. And every young farm-boy knows that the hardest and noblest wood has the narrowest rings, that high on the mountains and in continuing danger the most indestructible, the strongest, the ideal trees grow."

SubQuestion No : 24

Q.24 Select the most suitable word given in the passage that means 'very good and perfect'.

- Ans
- 1. Luminous
 - 2. Holier
 - 3. Penetrating
 - 4. Exemplary

Question ID : 26433076130

Status : Answered

Chosen Option : 3

Comprehension:

Read the given passage and answer the questions that follow.

"For me, trees have always been the most penetrating preachers. I revere them when they live in tribes and families, in forests and groves. And even more I revere them when they stand alone. They are like lonely persons. Not like hermits who have stolen away out of some weakness, but like great, solitary men, like Beethoven and Nietzsche. In their highest boughs the world rustles, their roots rest in infinity; but they do not lose themselves there, they struggle with all the force of their lives for one thing only: to fulfil themselves according to their own laws, to build up their own form, to represent themselves. Nothing is holier, nothing is more exemplary than a beautiful, strong tree. When a tree is cut down and reveals its naked death-wound to the sun, one can read its whole history in the luminous, inscribed disk of its trunk: in the rings of its years, its scars, all the struggle, all the suffering, all the sickness, all the happiness and prosperity stand truly written, the narrow years and the luxurious years, the attacks withstood, the storms endured. And every young farm-boy knows that the hardest and noblest wood has the narrowest rings, that high on the mountains and in continuing danger the most indestructible, the strongest, the ideal trees grow."

SubQuestion No : 25

Q.25 Where does the world rustle, according to the given passage?

- Ans
- 1. Around the trunk of trees
 - 2. In the deepest roots of trees
 - 3. Over the forest in the sunny days
 - 4. In the highest boughs of trees

Question ID : 26433076128

Status : Answered

Chosen Option : 4

Phase-XI/2023/Selection Posts and Selection Posts/Ladakh/2023

Roll Number	Selection Post
Candidate Name	Selection Post
Venue Name	iON Digital Zone iDZ 2 Sector 62
Exam Date	27/06/2023
Exam Time	11:45 AM - 12:45 PM
Subject	Selection Post Matriculation Level

Section : General Intelligence

Q.1 उस विकल्प का चयन करें जो दिए गए शब्दों के उस सही क्रम को दर्शाता है जिस क्रम में वे अंग्रेजी शब्दकोश में आएंगे।

1. MUSLIN
2. MOUSSE
3. MOUTH
4. MOW
5. MOVE
6. MUCK

Ans 1. 2,4,3,5,6,1
 2. 2,3,5,4,6,1
 3. 1,2,3,4,5,6
 4. 5,3,4,2,1,6

Question ID : 264330142855

Status : Answered

Chosen Option : 2

Q.2 कौन-सा अक्षर-समूह दी गई श्रृंखला को पूरा करने के लिए प्रश्न-चिह्न (?) को प्रतिस्थापित करेगा?
SPIN, RQJM, ?, PSLK, OTMJ

Ans 1. QRLK
 2. QPKL
 3. QRKL
 4. RQLK

Question ID : 26433056234

Status : Answered

Chosen Option : 3

Q.3 तीन कथन दिए गए हैं, जिसके बाद तीन निष्कर्ष I, II और III दिए गए हैं। कथनों को सत्य मानते हुए, भले ही वे सामान्य रूप से ज्ञात तथ्यों से भिन्न प्रतीत होते हों, निर्धारित करें कि कौन-सा/से निष्कर्ष कथनों का तार्किक रूप से अनुसरण करता है/करते हैं।

कथन:

सभी स्कूल, कॉलेज हैं।
सभी कॉलेज, घर हैं।
सभी घर, सड़कें हैं।

निष्कर्ष:

I. सभी स्कूल, सड़कें हैं।
II. सभी स्कूल, घर हैं।
III. सभी कॉलेज, सड़कें हैं।

- Ans 1. केवल निष्कर्ष II और III अनुसरण करते हैं।
 2. केवल निष्कर्ष I और II अनुसरण करते हैं।
 3. सभी निष्कर्ष अनुसरण करते हैं।
 4. केवल निष्कर्ष I और III अनुसरण करते हैं।

Question ID : 26433095997

Status : Answered

Chosen Option : 3

Q.4 नीचे दिए गए समीकरण में * चिह्नों को बदलने और समीकरण को संतुलित करने के लिए गणितीय चिह्नों के सही संयोजन का चयन कीजिए।
 $62 * 14 * 7 * 18 * 26$

- Ans 1. +, x, =, -
 2. =, +, x, +
 3. =, x, +, -
 4. -, +, =, x

Question ID : 264330142883

Status : Answered

Chosen Option : 2

Q.5 'A + B' का अर्थ है 'A, B का भाई है'।
'A - B' का अर्थ है 'A, B की माता है'।
'A × B' का अर्थ है 'A, B का पिता है'।
'A ÷ B' का अर्थ है 'A, B की बहन है'।
यदि $C \times M \div S \times K - T + Q$ है, तो निम्नलिखित में से कौन-सा कथन सही नहीं है?

- Ans 1. K, Q की माता है।
 2. C, K के पिता का पिता है।
 3. S, Q की माता का पिता है।
 4. M, T के पिता की बहन है।

Question ID : 26433095002

Status : Answered

Chosen Option : 4

Q.6 उस विकल्प का चयन कीजिए जो तीसरे शब्द से उसी प्रकार संबंधित है जिस प्रकार दूसरा शब्द पहले शब्द से संबंधित है। (शब्दों को अर्थपूर्ण हिंदी शब्दों के रूप में माना जाना चाहिए और शब्द में अक्षरों की संख्या/व्यंजनों/स्वरों की संख्या के आधार पर वे एक-दूसरे से संबंधित नहीं होने चाहिए।)

ओआलॉजी (Oology) : अंडे :: पैलेन्टोलॉजी (Palaeontology) : ?

- Ans
- 1. मनुष्य (man)
 - 2. मिट्टी (Soil)
 - 3. लेखन (Writings)
 - 4. जीवाश्म (Fossils)

Question ID : 264330142869

Status : Answered

Chosen Option : 4

Q.7 निम्नलिखित में से कौन-सी संख्या दी गई संख्या श्रृंखला में प्रश्नवाचक चिह्न (?) को प्रतिस्थापित करेगी?
25, 115, 214, 322, ?, 565, 700

- Ans
- 1. 448
 - 2. 427
 - 3. 439
 - 4. 432

Question ID : 264330142881

Status : Answered

Chosen Option : 3

Q.8 उस विकल्प का चयन कीजिए, जो उन अक्षरों का निरूपण करता हो, जिन्हें निम्न अक्षर-श्रृंखला में क्रमानुसार बाएँ से दाएँ रखने पर वे श्रृंखला-पूर्ति करेंगे।
L _ H _ _ L K H C _ _ K H _ _ L _ H C W

- Ans
- 1. K K C W L K C W
 - 2. L C W K K W C L
 - 3. W C L K L W K L
 - 4. K C W W L C W K

Question ID : 26433068991

Status : Answered

Chosen Option : 4

Q.9 उस विकल्प का चयन करें, जो दिए गए शब्दों की सही व्यवस्था को उस क्रम में इंगित करता है, जिस क्रम में वे अंग्रेजी शब्दकोश में दिखाई देते हैं।

1. Memoir
2. Menial
3. Melamine
4. Melancholy
5. Memory

- Ans
- 1. 4, 3, 2, 1, 5
 - 2. 3, 4, 1, 5, 2
 - 3. 5, 3, 1, 4, 2
 - 4. 4, 5, 1, 2, 3

Question ID : 264330126645

Status : Answered

Chosen Option : 2

Q.10 उस विकल्प का चयन कीजिए जो तीसरे पद से उसी प्रकार संबंधित है जिस प्रकार दूसरा पद पहले पद से संबंधित है और छठा पद पाँचवें पद से संबंधित है।

MISSION : NOSSIIM :: PHOENIX : ? :: ORGANIC : CIGANRO

- Ans
- 1. XIOENHP
 - 2. XHOENIP
 - 3. PHOEXIN
 - 4. PHEONIX

Question ID : 264330142837

Status : Answered

Chosen Option : 1

Q.11 उस विकल्प का चयन करें जो उन अक्षरों का निरूपण करता है, जिन्हें नीचे श्रृंखला में दिए गए रिक्त स्थानों पर बाएं से दाएं क्रमिक रूप से रखने पर श्रृंखला पूर्ण हो जाएगी।

_ G _ J Y _ U _ _ G _ _ Y G U _

- Ans
- 1. YUGJYUYJ
 - 2. YUGJYUJJ
 - 3. YUGJYUJU
 - 4. YUGGYUJJ

Question ID : 264330142853

Status : Answered

Chosen Option : 2

Q.12 उस विकल्प का चयन करें जो पांचवें अक्षर-समूह से ठीक उसी प्रकार संबंधित है जैसे दूसरा अक्षर-समूह पहले अक्षर-समूह से संबंधित है और चौथा अक्षर-समूह तीसरे अक्षर-समूह से संबंधित है।

RED : GHU :: BLUE : HXOE :: PINK : ?

- Ans
- 1. JHGF
 - 2. MNHO
 - 3. PLOK
 - 4. NQLS

Question ID : 264330142858

Status : Answered

Chosen Option : 4

Q.13 उस विकल्प का चयन करें जो चौथे पद से उसी प्रकार संबंधित है जिस प्रकार पहला पद दूसरे पद से संबंधित है और पाँचवां पद छठे पद से संबंधित है।

8 : 508 :: ? : 2193 :: 2 : 4

- Ans
- 1. 17
 - 2. 19
 - 3. 15
 - 4. 13

Question ID : 26433040811

Status : Answered

Chosen Option : 4

Q.14 जब दर्पण को चित्र के अनुसार 'PQ' पर रखा जाता है तो दिए गए संयोजन का दर्पण में निर्मित सही प्रतिबिंब चयनित कीजिए।

beR78ergiH6bf

- Ans
- 1. beR78ergiH6bf
 - 2. p6B78eriH6bf
 - 3. j99H!gr87R9v
 - 4. t̄d̄Hiḡi987R9d̄

Question ID : 264330143275

Status : Answered

Chosen Option : 4

Q.15 तीन कथनों के बाद तीन निष्कर्ष I, II और III दिए गए हैं। यह मानते हुए कि कथनों में दी गयी जानकारी सही है, भले ही वह सामान्य रूप से ज्ञात तथ्यों से भिन्न लगे, निर्णय करें कि दिया गया कौन-सा/से निष्कर्ष तार्किक रूप से कथनों का अनुसरण करता है/करते हैं।

कथन:

कोई भी मग, बाल्टी नहीं है।
सभी मग, कप हैं।
कुछ कप, चम्मच हैं।

निष्कर्ष:

I. कुछ चम्मच, बाल्टी हैं।
II. कुछ मग, चम्मच हैं।
III. कुछ कप, बाल्टी नहीं हैं।

- Ans
- 1. केवल निष्कर्ष III अनुसरण करता है
 - 2. केवल निष्कर्ष II और III अनुसरण करते हैं
 - 3. सभी निष्कर्ष अनुसरण करते हैं
 - 4. केवल निष्कर्ष I और II अनुसरण करते हैं

Question ID : 26433091717

Status : Answered

Chosen Option : 1

Q.16 नीचे तीन कथन और उनके बाद तीन निष्कर्ष I, II और III दिए गए हैं। कथनों को सत्य मानते हुए, भले ही वे सामान्य रूप से ज्ञात तथ्यों से भिन्न प्रतीत होते हों, यह निर्णय लीजिए कि कौन सा/से निष्कर्ष कथनों का तार्किक रूप से अनुसरण करता है / करते हैं।

कथन:

सभी टैंक, प्लेट हैं।
सभी चारपाइयां, प्लेट हैं।
कुछ जई, चारपाइयां हैं।

निष्कर्ष:

I. कुछ टैंक, चारपाइयां हैं।
II. कुछ प्लेट, टैंक हैं।
III. कुछ प्लेट, जई हैं।

- Ans
- 1. केवल निष्कर्ष I अनुसरण करता है
 - 2. या तो निष्कर्ष I अनुसरण करता है या II अनुसरण करता है
 - 3. केवल निष्कर्ष II अनुसरण करता है
 - 4. निष्कर्ष II और III दोनों अनुसरण करते हैं

Question ID : 264330142958

Status : Answered

Chosen Option : 4

Q.17 उस विकल्प का चयन कीजिए, जो पाँचवें पद से उसी प्रकार संबंधित है, जिस प्रकार दूसरा पद पहले पद से और चौथा पद तीसरे पद से संबंधित है।

EARLY : YLRAE :: IMAGE : EGAMI :: LASER : ?

- Ans
- 1. ERSLA
 - 2. EASRL
 - 3. RASEL
 - 4. RESAL

Question ID : 264330142833

Status : Answered

Chosen Option : 4

Q.18 तीन कथनों के बाद I, II और III से क्रमांकित तीन निष्कर्ष दिए गए हैं। आपको इन कथनों को सत्य मानना है, भले ही वे सामान्य रूप से ज्ञात तथ्यों से भिन्न प्रतीत होते हों। यह तय करें कि कौन सा/से निष्कर्ष तार्किक रूप से दिए गए कथनों का अनुसरण करता है/ करते हैं।

कथन:

कोई भी कबूतर, पंडुक नहीं है।
कुछ पंडुक, गौरिया हैं।
सभी गौरिया, पक्षी हैं।

निष्कर्ष:

(I) कुछ गौरिया, कबूतर नहीं हैं।
(II) कुछ गौरिया, पंडुक हैं।
(III) कुछ पक्षी, पंडुक हैं।

- Ans
- 1. केवल निष्कर्ष I अनुसरण करता है
 - 2. या तो निष्कर्ष I अनुसरण करता है या निष्कर्ष III अनुसरण करता है
 - 3. I, II और III सभी निष्कर्ष अनुसरण करते हैं
 - 4. केवल निष्कर्ष II अनुसरण करता है

Question ID : 264330142980

Status : Answered

Chosen Option : 3

Q.19 उस आकृति का चयन करें जो निम्न आकृति श्रृंखला में अगले स्थान पर आएगी।



Ans

✗ 1.



✗ 2.



✓ 3.



✗ 4.



Question ID : 264330143284

Status : Answered

Chosen Option : 3

Q.20 * चिह्नों को क्रमानुसार प्रतिस्थापित करने और दिए गए समीकरण को संतुलित करने के लिए गणितीय चिह्नों के सही संयोजन का चयन करें।
 $165 * 33 * 26 * 17 * 2 * 19 * 16$

Ans ✓ 1. +, +, -, ×, +, =

✗ 2. ×, +, -, =, +, +

✗ 3. +, -, +, -, ×, =

✗ 4. +, +, =, +, -, ×

Question ID : 26433057642

Status : Answered

Chosen Option : 1

Q.21 'A # B' का अर्थ है 'A, B की पुत्री है'।
'A % B' का अर्थ है 'A, B का पति है'।
'A & B' का अर्थ है 'A, B का भाई है'।
'A @ B' का अर्थ है 'A, B की बहन है'।
यदि S # P % Q @ T & V % X है, तो X का S से क्या संबंध है?

Ans ✓ 1. भांजी

✗ 2. बहन

✗ 3. भतीजी

✗ 4. भाई

Question ID : 26433091637

Status : Answered

Chosen Option : 1

Q.22 उस विकल्प का चयन करें जो उन अक्षरों का निरूपण करता है, जिन्हें नीचे श्रृंखला में दिए गए रिक्त स्थानों पर बाएं से दाएं क्रमिक रूप से रखने पर श्रृंखला पूर्ण हो जाएगी।

Q _ C _ Q S _ B _ S _ _ Q S _ _

- Ans
- 1. SBCBCBQC
 - 2. BBBCBCBQC
 - 3. CBCQCBBBC
 - 4. SBCQCBCB

Question ID : 264330142851

Status : Answered

Chosen Option : 4

Q.23 उस आकृति का चयन करें जो निम्नलिखित आकृति श्रृंखला में आगे आएगी।



Ans

- 1.
- 2.
- 3.
- 4.

Question ID : 264330143293

Status : Answered

Chosen Option : 2

Q.24 उस विकल्प का चयन कीजिए जो दिए गए शब्दों को तार्किक और सांथक ढंग से सही क्रम व्यवस्था में दर्शाता है।
1. नवांकुर
2. छोटा पौधा
3. वृक्ष
4. बीज
5. वन

- Ans 1. 3, 1, 5, 4, 2
 2. 4, 1, 2, 3, 5
 3. 1, 3, 4, 2, 5
 4. 2, 4, 3, 5, 1

Question ID : 264330125995
Status : Answered
Chosen Option : 2

Q.25 'A # B' का अर्थ है 'A, B का भाई है'।
'A @ B' का अर्थ है 'A, B की पुत्री है'।
'A & B' का अर्थ है 'A, B का पति है'।
'A % B' का अर्थ है 'A, B की पत्नी है'।
यदि W % D # G @ B & M @ है, तो D, M से किस प्रकार संबंधित है?

- Ans 1. पोता
 2. दादाजी
 3. पिता
 4. पुत्र

Question ID : 264330142903
Status : Answered
Chosen Option : 4

Section : General Awareness

Q.1 रोहन बोपन्ना और रामकुमार रामनाथन को जनवरी 2022 में शुरू हुए निम्नलिखित में से किस टेनिस टूर्नामेंट के चौथे संस्करण के युगल के मुख्य ड्रॉ में सीधे प्रवेश मिला?

- Ans 1. बीएनपी परिबास ओपन (BNP Paribas Open)
 2. टाटा ओपन महाराष्ट्र (Tata Open Maharashtra)
 3. कतर एक्सॉनमोबिल ओपन (Qatar ExxonMobil Open)
 4. दुबई ड्यूटी फ्री टेनिस चैंपियनशिप (Dubai Duty Free Tennis Championships)

Question ID : 264330142690
Status : Answered
Chosen Option : 3

Q.2 निम्नलिखित में से किस वर्ष में, अवध के नवाब ने ब्रिटिश भारत के गवर्नर जनरल लॉर्ड वेल्लेस्ली (Lord Wellesley) द्वारा शुरू किए गए सहायक गठबंधन को स्वीकार किया था?

- Ans 1. 1796
 2. 1806
 3. 1809
 4. 1801

Question ID : 26433065544
Status : Answered
Chosen Option : 1

Q.3 जनवरी 2022 में भारत सरकार के मुख्य आर्थिक सलाहकार के रूप में किसे नियुक्त किया गया?

- Ans
- 1. एम जगदीश कुमार
 - 2. संजीव सान्याल
 - 3. माधवी पुरी
 - 4. वी अनंत नागेश्वरन

Question ID : 26433072895

Status : Answered

Chosen Option : 2

Q.4 राष्ट्रीय राजधानी क्षेत्र की विधान सभा के आम चुनाव पहली बार कब हुए थे?

- Ans
- 1. 1991 में
 - 2. 1992 में
 - 3. 1990 में
 - 4. 1993 में

Question ID : 264330113421

Status : Answered

Chosen Option : 1

Q.5 'कर्मयोगी भारत' परियोजना के तहत _____ को डिजिटल साधनों के माध्यम से सेवाओं में बेहतर प्रदर्शन के लिए ऑनलाइन प्रशिक्षण दिया जाता है।

- Ans
- 1. शिक्षाविदों
 - 2. रक्षा कार्मिकों
 - 3. सामाजिक कार्यकर्ताओं
 - 4. लोक सेवकों

Question ID : 26433079548

Status : Answered

Chosen Option : 2

Q.6 टोक्यो पैरालिम्पिक्स में किस खेल में मरियप्पन थंगावेलु और शरद कुमार ने रजत और कांस्य पदक जीते?

- Ans
- 1. भारोत्तोलन
 - 2. ऊंची कूद
 - 3. गोला फेंक
 - 4. निशानेबाजी

Question ID : 264330142685

Status : Answered

Chosen Option : 2

Q.7 डिब्बाबंदी के लिए टमाटर, आलू और अन्य फलों और सब्जियों से छिलके निकालने और खाद्य परिरक्षकों में एक घटक के रूप में किस यौगिक का उपयोग किया जाता है, जो भोजन में फफूंदी और जीवाणुओं की वृद्धि रोकने में मदद करता है?

- Ans
- 1. मैग्नीशियम बाइसल्फाइड
 - 2. सोडियम बाइकार्बोनेट
 - 3. सोडियम हाइड्रॉक्साइड
 - 4. एल्युमिनियम फास्फाइड

Question ID : 264330142708

Status : Answered

Chosen Option : 3

Q.8 वसीय अम्ल का आणविक भार कैसे निर्धारित किया जाता है?

- Ans
- 1. पेरोक्साइड मान
 - 2. साबुनीकरण मान
 - 3. अम्ल मान
 - 4. आयोडीन मान

Question ID : 26433064452

Status : Not Answered

Chosen Option : --

Q.9 नृत्यांगना युगल कमलिनी और नलिनी अस्थाना को 2022 में पद्म श्री से सम्मानित किया गया है। वे निम्नलिखित में से किस नृत्य शैली के लिए प्रसिद्ध हैं?

- Ans
- 1. कुचिपुड़ी
 - 2. मणिपुरी
 - 3. कथक
 - 4. भरतनाट्यम

Question ID : 26433099196

Status : Answered

Chosen Option : 1

Q.10 गुप्तकाल को प्रारंभ करने का श्रेय किसे दिया जाता है?

- Ans
- 1. समुद्रगुप्त
 - 2. चन्द्रगुप्त I
 - 3. चन्द्रगुप्त II
 - 4. कुमारगुप्त

Question ID : 264330108996

Status : Answered

Chosen Option : 3

Q.11 भारत में मानक जनगणना परिभाषा के अनुसार सीमांत कामगार कौन है?

- Ans
- 1. वह व्यक्ति जो एक वर्ष में 200 दिनों से कम काम करता है
 - 2. वह व्यक्ति जो एक वर्ष में 150 दिनों से कम काम करता है
 - 3. वह व्यक्ति जो एक वर्ष में 100 दिनों से कम काम करता है
 - 4. वह व्यक्ति जो एक वर्ष में 183 दिनों से कम काम करता है

Question ID : 264330109872

Status : Answered

Chosen Option : 4

Q.12 वड़ोदरा, गुजरात के लक्ष्मी विलास महल में किस शैली की वास्तुकला का इस्तेमाल किया गया था?

- Ans
- 1. भारत-अरबी
 - 2. मुगल
 - 3. हिंदू मंदिर
 - 4. इंडो-इस्लामिक

Question ID : 26433090746

Status : Answered

Chosen Option : 3

Q.13 निम्नलिखित में से किस खेल में क्लोन एंड जर्क तकनीक का प्रयोग किया जाता है?

- Ans
- 1. भारोत्तोलन
 - 2. बॉडी बिल्डिंग
 - 3. कुश्ती
 - 4. हथौडा फेंक

Question ID : 264330142823
Status : Not Answered
Chosen Option : --

Q.14 निम्नलिखित में से कौन-सा शिखर दक्षिण भारत का सबसे ऊँचा शिखर है?

- Ans
- 1. डोडा बेटा
 - 2. मुकुर्थी
 - 3. महेंद्रगिरि
 - 4. अनाइमुडी

Question ID : 26433097121
Status : Answered
Chosen Option : 4

Q.15 1921-22 में केरल के मालाबार समुद्र तट के किसानों ने एक महान विद्रोह किया, जिसे _____ के रूप में जाना जाता है।

- Ans
- 1. कोल विद्रोह
 - 2. मोपला विद्रोह
 - 3. मुंडा विद्रोह
 - 4. संथाल विद्रोह

Question ID : 264330106577
Status : Answered
Chosen Option : 2

Q.16 भारतीय कृषि में "हरित क्रांति" का क्या अर्थ है?

- Ans
- 1. खाद्यान्नों के उत्पादन में असाधारण वृद्धि
 - 2. कृषि आधारित उद्योगों में वृद्धि
 - 3. वनाच्छादित क्षेत्र में वृद्धि
 - 4. चरागाह भूमि में वृद्धि

Question ID : 26433089203
Status : Answered
Chosen Option : 1

Q.17 फतेहपुर सीकरी में स्थित बुलंद दरवाज़ा निम्नलिखित में से किस मस्जिद का प्रवेश द्वार है?

- Ans
- 1. जमाली कमाली
 - 2. जामा मस्जिद
 - 3. ढाई दिन का झोपड़ा
 - 4. मोती मस्जिद

Question ID : 26433081946
Status : Answered
Chosen Option : 3

Q.18 भारत के संविधान का निम्नलिखित में से कौन-सा अनुच्छेद कहता है कि राज्य-निधि से पूर्णतः पोषित किसी शिक्षण संस्थान में कोई भी धार्मिक शिक्षा नहीं दी जाएगी?

- Ans
- 1. अनुच्छेद 40
 - 2. अनुच्छेद 68
 - 3. अनुच्छेद 54
 - 4. अनुच्छेद 28

Question ID : 26433086813

Status : Answered

Chosen Option : 4

Q.19 यदि 3 Ω , 4 Ω , 5 Ω और 6 Ω के चार प्रतिरोध श्रेणी क्रम में जुड़े हैं, तो चारों प्रतिरोधों का संयुक्त प्रतिरोध क्या होगा?

- Ans
- 1. 3 Ω
 - 2. 9 Ω
 - 3. 18 Ω
 - 4. 10 Ω

Question ID : 26433053976

Status : Answered

Chosen Option : 3

Q.20 भारत में साल 2015 में स्वतंत्रता दिवस की विषयवस्तु क्या थी?

- Ans
- 1. ये इंडिया का टाइम है
 - 2. टुवर्ड्स टू फ्रीडम
 - 3. याद करो कुर्बानी
 - 4. वन कंट्री, वन पीपल

Question ID : 264330141331

Status : Not Answered

Chosen Option : --

Q.21 निम्नलिखित में से कौन-सा संकेतक भारत में व्यावसायिक संरचना और बेरोजगारी की तस्वीर प्रस्तुत करता है?

- Ans
- 1. लिंग अनुपात
 - 2. श्रम शक्ति भागीदारी
 - 3. साक्षरता दर
 - 4. प्रति व्यक्ति आय

Question ID : 264330109516

Status : Answered

Chosen Option : 2

Q.22 निम्नलिखित में से कौन-सा वाद्ययंत्र नंदिनी और रागिनी शंकर द्वारा बजाया जाता है?

- Ans
- 1. मृदंग
 - 2. वीणा
 - 3. सितार
 - 4. वायलिन

Question ID : 264330141393

Status : Not Answered

Chosen Option : --

Q.23 उपन्यास 'ए सुटेबल बॉय' के लेखक कौन हैं जो सबसे लंबे उपन्यासों में से एक है?

- Ans
- 1. रोहिंटन मिस्त्री
 - 2. आर के नारायण
 - 3. सलमान रुश्दी
 - 4. विक्रम सेठ

Question ID : 264330141390

Status : Answered

Chosen Option : 2

Q.24 निम्नलिखित में से कौन-से शास्त्रीय नृत्य की शुरुआत, "केलीकोट्टु" नामक ढोल बजाने के प्रदर्शन के साथ होती है?

- Ans
- 1. ओडिसी
 - 2. कुचिपुडी
 - 3. कथकली
 - 4. भरतनाट्यम्

Question ID : 264330141322

Status : Answered

Chosen Option : 2

Q.25 निम्नलिखित में से किसे भूमिगत गुफाओं और खदानों में छोटा भूकंप माना जाता है जो सतह पर चट्टान के फटने से उत्पन्न भूकंपीय तरंगों के कारण होता है?

- Ans
- 1. विस्फोट भूकंप
 - 2. ज्वालामुखी भूकंप
 - 3. निपात भूकंप
 - 4. जलाशय प्रेरित भूकंप

Question ID : 264330142721

Status : Not Answered

Chosen Option : --

Section : Quantitative Aptitude

Q.1 एक बस 70 km/h की गति से चलती है। 36 मिनट में वह कितनी दूरी तय करेगी?

- Ans
- 1. 42 km
 - 2. 45 km
 - 3. 40 km
 - 4. 39 km

Question ID : 264330142245

Status : Answered

Chosen Option : 1

Q.2 एक अर्धगोले का वक्र पृष्ठीय क्षेत्रफल 693 cm^2 है। इसकी त्रिज्या _____ होगी। ($\pi = \frac{22}{7}$ लीजिए)

- Ans
- 1. 9.5 cm
 - 2. 9 cm
 - 3. 10.5 CM
 - 4. 10 CM

Question ID : 264330142761
Status : Answered
Chosen Option : 3

Q.3 11 और 44 का माध्यानुपाती _____ है।

- Ans
- 1. 33
 - 2. 22
 - 3. 25
 - 4. 27.5

Question ID : 264330103330
Status : Answered
Chosen Option : 2

Q.4 यदि 45 पुरुष 360 m लंबाई की दीवार 18 दिनों में बना सकते हैं, तो उसी प्रकार की 180 m लंबाई की दीवार 15 दिनों में बनाने में कितने पुरुष चाहिए?

- Ans
- 1. 29 पुरुष
 - 2. 25 पुरुष
 - 3. 21 पुरुष
 - 4. 27 पुरुष

Question ID : 26433065005
Status : Answered
Chosen Option : 4

Q.5 A, 10 दी गई संख्याओं का औसत है। B, 2 संख्याओं को 3 अन्य भिन्न संख्याओं द्वारा प्रतिस्थापित करने के बाद का औसत है। हटाई गई संख्याओं का औसत 48 है और नई शामिल की गयी संख्याओं का औसत 56 है। यदि $A + B = 438$ है, तो $A - B$ का मान ज्ञात कीजिए।

- Ans
- 1. 21
 - 2. 12
 - 3. 26
 - 4. 14

Question ID : 264330103692
Status : Answered
Chosen Option : 2

Q.6 ₹8,000 की राशि पर 2 वर्ष का साधारण ब्याज ₹720 है। वार्षिक ब्याज दर कितनी है?

- Ans
- 1. 5.5%
 - 2. 5%
 - 3. 6%
 - 4. 4.5%

Question ID : 264330142276
Status : Answered
Chosen Option : 4

Q.7 एक स्टोर, एक छूट योजना की घोषणा करता है "1 शैम्पू की बोतल खरीदें और उसी गुणवत्ता, आकार और उसी कीमत के दूसरे शैम्पू पर 60% छूट प्राप्त करें।" यदि प्रत्येक शैम्पू की बोतल का क्रय मूल्य, अंकित मूल्य से 60% कम है तो स्टोर का लाभ प्रतिशत कितना है?

- Ans
- 1. 60%
 - 2. 54%
 - 3. 64%
 - 4. 75%

Question ID : 26433063212

Status : Answered

Chosen Option : 4

Q.8 4^{999} को 7 से विभाजित करने पर शेषफल क्या होगा?

- Ans
- 1. 2
 - 2. 1
 - 3. 4
 - 4. 3

Question ID : 264330126163

Status : Answered

Chosen Option : 2

Q.9 20 वस्तुओं को बेचने पर एक दुकानदार को 5 वस्तुओं के विक्रय मूल्य के बराबर लाभ प्राप्त होता है। उसका लाभ प्रतिशत कितना है?

- Ans
- 1. 30%
 - 2. 25%
 - 3. $33\frac{1}{3}\%$
 - 4. $16\frac{2}{3}\%$

Question ID : 26433087357

Status : Answered

Chosen Option : 3

Q.10 एक व्यापारी ने Rs.120/kg और Rs.220/kg की दर से दो प्रकार के चावल खरीदे। दूसरे प्रकार के 72 kg चावल में, पहले प्रकार के कितने चावल (kg में) मिलाए जाने चाहिए ताकि परिणामी मिश्रण को 40% का लाभ अर्जित करने के लिए Rs.280/kg की दर से बेचा जा सके?

- Ans
- 1. 22
 - 2. 20
 - 3. 18
 - 4. 15

Question ID : 26433063197

Status : Answered

Chosen Option : 3

Q.11 In a parallelogram, one of the parallel sides is 16 cm and the other side is 12 cm. If the perpendicular distance between the two parallel sides of dimension 16 cm is 24 cm, then the perpendicular distance between its other two parallel sides is :

- Ans
- 1. 32 cm
 - 2. 24 cm
 - 3. 16 cm
 - 4. 12 cm

Question ID : 26433081736

Status : Answered

Chosen Option : 1

Q.12 एक TV निर्माता किसी वस्तु को थोक व्यापारी को 8% के लाभ पर बेचता है। थोक व्यापारी उसे 10% के लाभ पर एक खुदरा विक्रेता को बेचता है। खुदरा विक्रेता बदले में इसे ग्राहक को ₹11,050 में बेचता है जिससे 15% का लाभ होता है। निर्माता का क्रय मूल्य कितना है? (केवल पूर्ण संख्या में मान लें)

- Ans
- 1. ₹8,088
 - 2. ₹7,088
 - 3. ₹8,000
 - 4. ₹8,888

Question ID : 26433081022

Status : Answered

Chosen Option : 4

Q.13 एक दुकानदार थोक व्यापारी से सामान खरीद रहा है। थोक व्यापारी माल की 165 इकाईयों के विक्रय मूल्य के बराबर का लाभ अर्जित करते हुए माल की 1265 इकाईयां दुकानदार को बेचता है। थोक व्यापारी का लाभ प्रतिशत ज्ञात कीजिए।

- Ans
- 1. 15%
 - 2. 18%
 - 3. 25%
 - 4. 20%

Question ID : 26433082503

Status : Answered

Chosen Option : 1

Q.14 एक निश्चित राशि, साधारण ब्याज की एक निश्चित दर पर, 4 वर्षों में ₹2,225 और 8 वर्षों में ₹2,606 हो जाती है। राशि (₹ में) ज्ञात कीजिए।

- Ans
- 1. 1,344
 - 2. 1,143
 - 3. 1,240
 - 4. 1,844

Question ID : 264330102356

Status : Answered

Chosen Option : 4

Q.15 $(3+\sqrt{5})$ और $(15-\sqrt{125})$ के बीच माध्यानुपाती क्या है?

- Ans
- 1. $5\sqrt{2}$
 - 2. $3\sqrt{5}$
 - 3. $2\sqrt{5}$
 - 4. $9\sqrt{5}$

Question ID : 26433091917
Status : Answered
Chosen Option : 3

Q.16 A और B एक काम को क्रमशः 16 दिनों और 12 दिनों में पूरा कर सकते हैं। दोनों 4 दिन काम करते हैं और फिर A चला जाता है। ज्ञात कीजिए कि B शेष काम को पूरा करने में कितना समय लेगा?

- Ans
- 1. 5 दिन
 - 2. 8 दिन
 - 3. 7 दिन
 - 4. 6 दिन

Question ID : 26433075507
Status : Answered
Chosen Option : 1

Q.17 एक दुकानदार किसी वस्तु के अंकित मूल्य पर 25% की छूट देता है। यदि वस्तु का विक्रय मूल्य ₹150 है, तो उसका अंकित मूल्य ज्ञात करें।

- Ans
- 1. ₹200
 - 2. ₹100
 - 3. ₹500
 - 4. ₹300

Question ID : 26433058968
Status : Answered
Chosen Option : 1

Q.18 ताश खेलते समय, एक व्यक्ति अपने पैसे का 75% पहले राउंड में, शेष का 75% दूसरे राउंड में और शेष का 75% तीसरे राउंड में हार जाता है। यदि उसके पास Rs.100 बचे हैं, तो शुरू में उसके पास कितने पैसे थे?

- Ans
- 1. Rs.2,400
 - 2. Rs.1,600
 - 3. Rs.3,200
 - 4. Rs.6,400

Question ID : 26433073107
Status : Answered
Chosen Option : 4

Q.19 एक भाग प्रश्न में, भाजक भागफल का 12 गुना और शेषफल का 9 गुना होता है। यदि शेषफल 96 है, तो भाज्य ज्ञात कीजिए।

- Ans
- 1. 62205
 - 2. 62208
 - 3. 62304
 - 4. 62404

Question ID : 264330142235

Status : Answered

Chosen Option : 3

Q.20 एक बस 50 मिनट में किसी दूरी को तय करने के लिए 60 km/h की चाल से चल रही है। यात्रा समय को 20 मिनट तक कम करने के लिए, बस को किस चाल (km/h में) से चलना चाहिए?

- Ans
- 1. 140
 - 2. 150
 - 3. 120
 - 4. 90

Question ID : 264330142525

Status : Answered

Chosen Option : 2

Q.21 यदि रीता का वेतन, गीता के वेतन से 25% अधिक है, तो गीता का वेतन, रीता के वेतन से कितने प्रतिशत कम है?

- Ans
- 1. 15%
 - 2. 20%
 - 3. 25%
 - 4. 30%

Question ID : 26433075648

Status : Answered

Chosen Option : 2

Q.22 P बैंक से ₹5,00,000 की धनराशि उधार लेता है, जो वर्ष की शुरुआत में 18% वार्षिक दर से साधारण ब्याज लेता है। वह ₹40,000 की 11 समान मासिक किश्तों का भुगतान करता है और शेष धनराशि का भुगतान करने के लिए वर्ष के अंत में अपनी बाइक को गिरवी रख देता है। गिरवी रखी गई बाइक का मूल्य क्या है?

- Ans
- 1. 1,50,000
 - 2. 1,75,000
 - 3. 1,25,000
 - 4. 1,10,000

Question ID : 264330112104

Status : Answered

Chosen Option : 2

Q.23 एक दुकानदार प्रत्येक पेन ₹12 में, प्रत्येक नोटबुक ₹25 में और प्रत्येक नोटबुक कवर ₹8 में बेचता है। यदि वह 5 पेन, 8 नोटबुक और 16 नोटबुक कवर बेचता है, तो प्रति वस्तु औसत मूल्य (₹ में) (दो दशमलव स्थानों तक पूर्णांकित) क्या होगा?

- Ans
- 1. 18.13
 - 2. 13.83
 - 3. 18.31
 - 4. 13.38

Question ID : 26433085425
Status : Answered
Chosen Option : 4

Q.24 संख्या 20, 32 और 36 का चौथा समानुपाती ज्ञात कीजिए।

- Ans
- 1. 52
 - 2. 49.4
 - 3. 48
 - 4. 57.6

Question ID : 264330142533
Status : Answered
Chosen Option : 4

Q.25 संजीव का वेतन पहले 50% कम किया गया और फिर 50% बढ़ा दिया गया। उसे अपने वेतन की कितने प्रतिशत हानि होती है?

- Ans
- 1. 25%
 - 2. 15%
 - 3. 0%
 - 4. 10%

Question ID : 264330142582
Status : Answered
Chosen Option : 1

Section : English Language

Q.1 Select the most appropriate meaning of the underlined idiom/phrase in the given sentence.

Henry said he would help with the rent, but he left me in the lurch.

- Ans
- 1. To impersonate someone
 - 2. To comfort someone
 - 3. To desert someone
 - 4. To blame someone

Question ID : 26433088224
Status : Answered
Chosen Option : 3

Q.2 Select the option that expresses the given sentence in active voice.
Paddy is grown by the farmers of this village.

- Ans
- 1. The farmers of this village had grown paddy
 - 2. The farmers of this village grow paddy.
 - 3. The farmers of this village grew paddy.
 - 4. The farmers of this village have grown paddy.

Question ID : 264330135919
Status : Answered
Chosen Option : 2

Q.3 Identify the sentence that contains no spelling errors.

- Ans
- 1. An Ethical Hacker identifies software vulnerabilities so that business owners may address them before a baleful hacker uncovers them.
 - 2. An Ethickal Hacker identifies software vulnerabilities so that bussiness owners may address them before a baleful hacker uncovers them.
 - 3. An Ethichal Hacker identifies software vulanerabilities so that business owners may address them before a baleful hacker uncovers them.
 - 4. An Ethical Hacker identifies software vulanerabilities so that business owners may address them before a baleful hacker uncovers them.

Question ID : 26433088542
Status : Answered
Chosen Option : 1

Q.4 Select the correct direct narration of the given sentence.
Prem said that he had been listening to music for an hour.

- Ans
- 1. Prem said, "He has be listened to music for an hour."
 - 2. Prem said, "I have been listening to music for an hour."
 - 3. Prem said, "He has listening to music for an hour."
 - 4. Prem said, "I had listened to music for an hour."

Question ID : 264330132787
Status : Answered
Chosen Option : 2

Q.5 Identify the idiom that best expresses the meaning of the underlined group of words.

He is in a very bad situation after being caught with drugs at school.

- Ans
- 1. Square an account
 - 2. At cross purposes
 - 3. In dire straits
 - 4. Last resort

Question ID : 264330121051
Status : Answered
Chosen Option : 3

Q.6 Choose the correct spelling of the underlined word in the given sentence.

The world is governed by several elemenyts.

- Ans
- 1. aliments
 - 2. elements
 - 3. elyments
 - 4. eliments

Question ID : 26433084612

Status : Answered

Chosen Option : 2

Q.7 Select the most appropriate option to fill in the blank.

Although the jury system is fundamentally _____, no one has ever come up with a better one.

- Ans
- 1. flawed
 - 2. flawless
 - 3. sorted
 - 4. appealing

Question ID : 26433060986

Status : Answered

Chosen Option : 2

Q.8 Select the option that can be used as a one-word substitute for the underlined group of words in the given sentence.

He was severe in his manner, due to his rigidly puritanical outlook.

- Ans
- 1. austere
 - 2. faithful
 - 3. authentic
 - 4. precise

Question ID : 26433073849

Status : Answered

Chosen Option : 4

Q.9 Select the most appropriate ANTONYM of the word 'Unworthy' from the given sentence.

Unethical behaviour like saying mean or nasty things is intolerable to a noble person

- Ans
- 1. Unethical
 - 2. Nasty
 - 3. Intolerable
 - 4. Noble

Question ID : 264330143251

Status : Answered

Chosen Option : 4

Q.10 Select the most appropriate option to fill in the blank.

The streets are empty today as _____ a holiday.

- Ans
- 1. is
 - 2. was
 - 3. its
 - 4. it's

Question ID : 26433060079

Status : Answered

Chosen Option : 4

Q.11 Choose the option which means the same as the underlined segment.

His deep study of the case uncovered more problems .

- Ans
- 1. opened a Pandora's box
 - 2. opened conversation
 - 3. opened a season on
 - 4. opened the fire on

Question ID : 264330120537

Status : Answered

Chosen Option : 1

Q.12 Select the option that can be used as a one-word substitute for the given group of words.

A floating container anchored to the sea bottom, so used for directing ships and warning them of possible danger

- Ans
- 1. Deck
 - 2. Buoy
 - 3. Cabin
 - 4. Channel

Question ID : 26433060301

Status : Answered

Chosen Option : 2

Q.13 Select the most appropriate ANTONYM to replace the italicised word.

There is *a/an abundance* of fertile soil and magnificent grazing land.

- Ans
- 1. dearth
 - 2. plenitude
 - 3. plethora
 - 4. adequacy

Question ID : 26433059647

Status : Answered

Chosen Option : 1

Q.14 Identify the INCORRECTLY spelt word from the options given.

- Ans
- 1. Angle
 - 2. Bagel
 - 3. Bangel
 - 4. Angel

Question ID : 26433088463

Status : Answered

Chosen Option : 2

Q.15 Select the idiom that gives the most appropriate meaning of the underlined phrase in the following sentence.

My neighbour has decided to join the air force.

- Ans
- 1. Made his own way
 - 2. Made a fuss
 - 3. Made a clean sweep
 - 4. Made up his mind

Question ID : 26433086438

Status : Answered

Chosen Option : 4

Comprehension:

In the following passage, some words have been deleted. Read the passage carefully and select the most appropriate option to fill in each blank.

All drivers are affected by road rage, whether they are directly or indirectly (1)_____. Individual coping qualities (2)_____ the behaviour of stressful drivers. Instead of being enraged over circumstances beyond their control, drivers (3)_____ learn to be patient. On the road, we must be (4)_____ to control our own emotions. Road raged drivers are also more likely to (5)_____ more traffic offences.

SubQuestion No : 16

Q.16 Select the most appropriate option to fill in blank number 1.

- Ans
- 1. involved
 - 2. involve
 - 3. involving
 - 4. involves

Question ID : 26433096335

Status : Answered

Chosen Option : 1

Comprehension:

In the following passage, some words have been deleted. Read the passage carefully and select the most appropriate option to fill in each blank.

All drivers are affected by road rage, whether they are directly or indirectly (1)_____. Individual coping qualities (2)_____ the behaviour of stressful drivers. Instead of being enraged over circumstances beyond their control, drivers (3)_____ learn to be patient. On the road, we must be (4)_____ to control our own emotions. Road raged drivers are also more likely to (5)_____ more traffic offences.

SubQuestion No : 17

Q.17 Select the most appropriate option to fill in blank number 2.

- Ans
- 1. increase
 - 2. apply
 - 3. influence
 - 4. multiply

Question ID : 26433096336
Status : Answered
Chosen Option : 3

Comprehension:

In the following passage, some words have been deleted. Read the passage carefully and select the most appropriate option to fill in each blank.

All drivers are affected by road rage, whether they are directly or indirectly (1)_____. Individual coping qualities (2)_____ the behaviour of stressful drivers. Instead of being enraged over circumstances beyond their control, drivers (3)_____ learn to be patient. On the road, we must be (4)_____ to control our own emotions. Road raged drivers are also more likely to (5)_____ more traffic offences.

SubQuestion No : 18

Q.18 Select the most appropriate option to fill in blank number 3.

- Ans
- 1. must
 - 2. ought
 - 3. can
 - 4. to

Question ID : 26433096337
Status : Answered
Chosen Option : 1

Comprehension:

In the following passage, some words have been deleted. Read the passage carefully and select the most appropriate option to fill in each blank.

All drivers are affected by road rage, whether they are directly or indirectly (1)_____. Individual coping qualities (2)_____ the behaviour of stressful drivers. Instead of being enraged over circumstances beyond their control, drivers (3)_____ learn to be patient. On the road, we must be (4)_____ to control our own emotions. Road raged drivers are also more likely to (5)_____ more traffic offences.

SubQuestion No : 19

Q.19 Select the most appropriate option to fill in blank number 4.

- Ans
- 1. consistent
 - 2. oblige
 - 3. able
 - 4. brave

Question ID : 26433096338
Status : Answered
Chosen Option : 3

Comprehension:

In the following passage, some words have been deleted. Read the passage carefully and select the most appropriate option to fill in each blank.

All drivers are affected by road rage, whether they are directly or indirectly (1)_____. Individual coping qualities (2)_____ the behaviour of stressful drivers. Instead of being enraged over circumstances beyond their control, drivers (3)_____ learn to be patient. On the road, we must be (4)_____ to control our own emotions. Road raged drivers are also more likely to (5)_____ more traffic offences.

SubQuestion No : 20

Q.20 Select the most appropriate option to fill in blank number 5.

- Ans
- 1. proceed
 - 2. incur
 - 3. reflect
 - 4. drag

Question ID : 26433096339

Status : Answered

Chosen Option : 2

Comprehension:

Read the given passage and answer the question that follows.

A sparrow is a small bird which is found throughout the world. There are many different species of sparrows. Sparrows are only about four to six inches in length. Many people appreciate their beautiful song. Sparrows prefer to build their nests in low places, usually on the ground, clumps of grass, low trees and low bushes. In cities they build their nests in building nooks or holes. They rarely build their nests in high places. They build their nests out of twigs, grasses and plant fibres. Their nests are usually small and well-built structures. Female sparrows lay four to six eggs at a time. The eggs are white with reddish brown spots. They hatch between eleven to fourteen days. Both the male and female parents care for the young. Insects are fed to the young after hatching. The large feet of the sparrows are used for scratching seeds. Adult sparrows mainly eat seeds. Sparrows can be found almost everywhere, where there are humans. Many people throughout the world enjoy these delightful birds.

The sparrows are some of the few birds that engage in dust bathing. Sparrows first scratch a hole in the ground with their feet, then lie in it and fling dirt or sand over their bodies with flicks of their wings. They also bathe in water, or in dry or melting snow. Water bathing is similar to dust bathing, with the sparrow standing in shallow water and flicking water over its back with its wings, also ducking its head under the water. Both activities are social, with up to a hundred birds participating at once, and is followed by preening and sometimes group singing.

SubQuestion No : 21

Q.21 What is the tone of the passage?

- Ans
- 1. Apologetic
 - 2. Biased
 - 3. Descriptive
 - 4. Speculative

Question ID : 26433072783

Status : Answered

Chosen Option : 4

Comprehension:

Read the given passage and answer the question that follows.

A sparrow is a small bird which is found throughout the world. There are many different species of sparrows. Sparrows are only about four to six inches in length. Many people appreciate their beautiful song. Sparrows prefer to build their nests in low places, usually on the ground, clumps of grass, low trees and low bushes. In cities they build their nests in building nooks or holes. They rarely build their nests in high places. They build their nests out of twigs, grasses and plant fibres. Their nests are usually small and well-built structures. Female sparrows lay four to six eggs at a time. The eggs are white with reddish brown spots. They hatch between eleven to fourteen days. Both the male and female parents care for the young. Insects are fed to the young after hatching. The large feet of the sparrows are used for scratching seeds. Adult sparrows mainly eat seeds. Sparrows can be found almost everywhere, where there are humans. Many people throughout the world enjoy these delightful birds.

The sparrows are some of the few birds that engage in dust bathing. Sparrows first scratch a hole in the ground with their feet, then lie in it and fling dirt or sand over their bodies with flicks of their wings. They also bathe in water, or in dry or melting snow. Water bathing is similar to dust bathing, with the sparrow standing in shallow water and flicking water over its back with its wings, also ducking its head under the water. Both activities are social, with up to a hundred birds participating at once, and is followed by preening and sometimes group singing.

SubQuestion No : 22

Q.22 How can one describe sparrows?

- Ans 1. Sparrows are found everywhere
2. Sparrows are good parents
3. Sparrows are loving
4. Sparrows are good

Question ID : 26433072782

Status : Answered

Chosen Option : 1

Comprehension:

Read the given passage and answer the question that follows.

A sparrow is a small bird which is found throughout the world. There are many different species of sparrows. Sparrows are only about four to six inches in length. Many people appreciate their beautiful song. Sparrows prefer to build their nests in low places, usually on the ground, clumps of grass, low trees and low bushes. In cities they build their nests in building nooks or holes. They rarely build their nests in high places. They build their nests out of twigs, grasses and plant fibres. Their nests are usually small and well-built structures. Female sparrows lay four to six eggs at a time. The eggs are white with reddish brown spots. They hatch between eleven to fourteen days. Both the male and female parents care for the young. Insects are fed to the young after hatching. The large feet of the sparrows are used for scratching seeds. Adult sparrows mainly eat seeds. Sparrows can be found almost everywhere, where there are humans. Many people throughout the world enjoy these delightful birds.

The sparrows are some of the few birds that engage in dust bathing. Sparrows first scratch a hole in the ground with their feet, then lie in it and fling dirt or sand over their bodies with flicks of their wings. They also bathe in water, or in dry or melting snow. Water bathing is similar to dust bathing, with the sparrow standing in shallow water and flicking water over its back with its wings, also ducking its head under the water. Both activities are social, with up to a hundred birds participating at once, and is followed by preening and sometimes group singing.

SubQuestion No : 23

Q.23 What is the structure of the passage?

- Ans 1. Process Writing
2. Cause and Effect
3. Compare and Contrast
4. Problems and Solution

Question ID : 26433072780

Status : Answered

Chosen Option : 1

Comprehension:

Read the given passage and answer the question that follows.

A sparrow is a small bird which is found throughout the world. There are many different species of sparrows. Sparrows are only about four to six inches in length. Many people appreciate their beautiful song. Sparrows prefer to build their nests in low places, usually on the ground, clumps of grass, low trees and low bushes. In cities they build their nests in building nooks or holes. They rarely build their nests in high places. They build their nests out of twigs, grasses and plant fibres. Their nests are usually small and well-built structures. Female sparrows lay four to six eggs at a time. The eggs are white with reddish brown spots. They hatch between eleven to fourteen days. Both the male and female parents care for the young. Insects are fed to the young after hatching. The large feet of the sparrows are used for scratching seeds. Adult sparrows mainly eat seeds. Sparrows can be found almost everywhere, where there are humans. Many people throughout the world enjoy these delightful birds.

The sparrows are some of the few birds that engage in dust bathing. Sparrows first scratch a hole in the ground with their feet, then lie in it and fling dirt or sand over their bodies with flicks of their wings. They also bathe in water, or in dry or melting snow. Water bathing is similar to dust bathing, with the sparrow standing in shallow water and flicking water over its back with its wings, also ducking its head under the water. Both activities are social, with up to a hundred birds participating at once, and is followed by preening and sometimes group singing.

SubQuestion No : 24

Q.24 Select the most appropriate **ANTONYM** of the given word.

Everywhere

- Ans
- 1. Somewhere
 - 2. Nowhere
 - 3. Little
 - 4. Rare

Question ID : 26433072779

Status : Answered

Chosen Option : 4

Comprehension:

Read the given passage and answer the question that follows.

A sparrow is a small bird which is found throughout the world. There are many different species of sparrows. Sparrows are only about four to six inches in length. Many people appreciate their beautiful song. Sparrows prefer to build their nests in low places, usually on the ground, clumps of grass, low trees and low bushes. In cities they build their nests in building nooks or holes. They rarely build their nests in high places. They build their nests out of twigs, grasses and plant fibres. Their nests are usually small and well-built structures. Female sparrows lay four to six eggs at a time. The eggs are white with reddish brown spots. They hatch between eleven to fourteen days. Both the male and female parents care for the young. Insects are fed to the young after hatching. The large feet of the sparrows are used for scratching seeds. Adult sparrows mainly eat seeds. Sparrows can be found almost everywhere, where there are humans. Many people throughout the world enjoy these delightful birds.

The sparrows are some of the few birds that engage in dust bathing. Sparrows first scratch a hole in the ground with their feet, then lie in it and fling dirt or sand over their bodies with flicks of their wings. They also bathe in water, or in dry or melting snow. Water bathing is similar to dust bathing, with the sparrow standing in shallow water and flicking water over its back with its wings, also ducking its head under the water. Both activities are social, with up to a hundred birds participating at once, and is followed by preening and sometimes group singing.

SubQuestion No : 25

Q.25 What is the central theme of the passage?

- Ans
- 1. About the lifestyle of sparrows
 - 2. About the nest-building style of sparrows
 - 3. About the food eaten by sparrows
 - 4. About the bathing style of sparrows

Question ID : 26433072781

Status : Answered

Chosen Option : 2

Phase-XI/2023/Selection Posts and Selection Posts/Ladakh/2023

Roll Number	Selection Post
Candidate Name	Selection Post
Venue Name	Arya Institute of Engineering and Technology
Exam Date	27/06/2023
Exam Time	2:30 PM - 3:30 PM
Subject	Selection Post Higher Secondary Level

Section : General Intelligence

Q.1 उस विकल्प का चयन करें जो दिए गए शब्दों के उस सही क्रम को दर्शाता है जिस क्रम में वे अंग्रेजी शब्दकोश में आते हैं।

1. Patent
2. Paternalism
3. Patchwork
4. Paternity
5. Paternal

Ans 1. 2, 4, 5, 1, 3
 2. 2, 4, 1, 5, 2, 3
 3. 3, 5, 1, 4, 2
 4. 3, 1, 5, 2, 4

Question ID : 26433057886

Status : Answered

Chosen Option : 4

Q.2 गणितीय चिह्नों के उस सही संयोजन का चयन कीजिए, जिसे क्रमिक रूप से * चिह्नों के स्थान पर रखने पर दिया गया समीकरण संतुलित हो जाएगा।

$$15 * 5 * 16 * 15 * 2 * 61$$

Ans 1. +, x, +, +, =
 2. -, x, +, +, =
 3. +, x, -, +, =
 4. +, x, +, -, =

Question ID : 26433097196

Status : Answered

Chosen Option : 4

Q.3 उस विकल्प का चयन करें जो तीसरे शब्द से उसी प्रकार संबंधित है जिस प्रकार दूसरा शब्द पहले शब्द से संबंधित है। (शब्दों को अर्थपूर्ण अंग्रेजी/हिन्दी शब्दों के रूप में माना जाना चाहिए और इन्हें शब्द में अक्षरों की संख्या/व्यंजनों की संख्या/स्वरों की संख्या के आधार पर एक दूसरे से संबद्ध नहीं किया जाना चाहिए।)

समय : सेकंड :: द्रव्यमान : ?

Ans 1. माल
 2. माप
 3. पैमाना
 4. किलोग्राम

Question ID : 264330142463

Status : Answered

Chosen Option : 4

Q.4 'B + D' का अर्थ है 'B, D का ससुर है'।
'B & D' का अर्थ है 'B, D का भाई है'।
'B # D' का अर्थ है 'B, D की पत्नी है'।
'B \$ D' का अर्थ है 'B, D का पुत्र है'।
'B @ D' का अर्थ है 'B, D की माता है'।
यदि O अपने माता-पिता की इकलौती संतान है, तो निम्नलिखित में से कौन-सा विकल्प दिए गए व्यंजक के संदर्भ में सही है?
M # L & N @ O \$ P + R

- Ans 1. R, O की पत्नी है।
 2. N, का केवल एक पुत्र है और एक पुत्री है
 3. L और P सहोदर हैं।
 4. N, R की माता है।

Question ID : 264330142504
Status : Answered
Chosen Option : 1

Q.5 उस विकल्प का चयन करें, जो पाँचवें अक्षर-समूह से उसी प्रकार संबंधित है, जिस प्रकार दूसरा अक्षर-समूह पहले अक्षर-समूह से संबंधित है और चौथा अक्षर-समूह तीसरे अक्षर-समूह से संबंधित है।
CART : UTDG :: DREW :: XGUH :: ENDS : ?

- Ans 1. TFGI
 2. TGRJ
 3. TFQJ
 4. TGQI

Question ID : 26433056190
Status : Answered
Chosen Option : 1

Q.6 उस विकल्प का चयन करें जो पाँचवें अक्षर-समूह से उसी प्रकार संबंधित है जिस प्रकार दूसरा अक्षर-समूह पहले अक्षर-समूह से संबंधित है और चौथा अक्षर-समूह तीसरे अक्षर-समूह से संबंधित है।
ADMIRE: BCOGUB :: THANKS : UGCLNP :: RESULT : ?

- Ans 1. SDTROQ
 2. SDUROQ
 3. SDURPQ
 4. SDUSOQ

Question ID : 26433057261
Status : Answered
Chosen Option : 4

Q.7 उस विकल्प का चयन करें, जो पाँचवें अक्षर-समूह से उसी तरह संबंधित है, जैसे दूसरा अक्षर-समूह पहले अक्षर-समूह से और चौथा अक्षर-समूह तीसरे अक्षर-समूह से संबंधित है।
THEME : VFEOC :: WORLD : YMRNB :: OTHER : ?

- Ans 1. QSHGQ
 2. PSHHP
 3. QRHGP
 4. PRGHP

Question ID : 26433068312
Status : Answered
Chosen Option : 3

Q.8 दर्पण को नीचे दिखाए अनुसार MN पर रखे जाने पर, दिए गए संयोजन के सही दर्पण प्रतिबिंब का चयन कीजिए।

R G 2 a 6 5 p F

Ans

1. J d s g e z g R
2. F q t t e s e R
3. R e s e t t q f
4. F p 5 6 a 2 G R

Question ID : 264330142419

Status : Answered

Chosen Option : 2

Q.9 उस सही विकल्प का चयन कीजिए जो दिए गए शब्दों की व्यवस्था को उसी क्रम में इंगित करता है जिस क्रम में वे अंग्रेजी शब्दकोश में दिखाई देते हैं।

1. Lenient
2. Lessons
3. Liberalization
4. Literal
5. License

Ans

1. 4,1,3,2,5
2. 2,1,3,5,4
3. 1,2,3,5,4
4. 5,2,3,4,1

Question ID : 26433057963

Status : Answered

Chosen Option : 3

Q.10 एक निश्चित कूट भाषा में, 'PLANT' को 'QMAMS' और 'TREES' को 'USEDR' के रूप में लिखा जाता है। इसी कूट भाषा में 'SHRUB' को किस प्रकार से लिखा जाएगा?

Ans

1. TIRAT
2. TIRTV
3. TIRTA
4. TIRTB

Question ID : 26433068637

Status : Answered

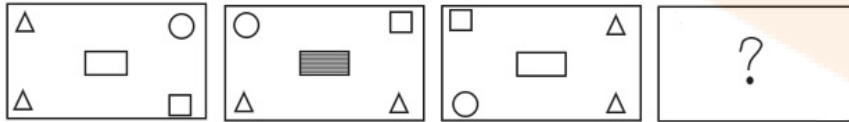
Chosen Option : 3

Q.11 यदि,
 'C% D' का अर्थ है 'C, D का भाई है',
 'C & D' का अर्थ है 'C, D की माता है',
 'C × D' का अर्थ है 'C, D का पति है',
 'C # D' का अर्थ है 'C, D की बहन है',
 'C \$ D' का अर्थ है 'C, D का पुत्र है',
 'C @ D' का अर्थ है 'C, D के पिता है',
 तो निम्न व्यंजक में, P का U से क्या संबंध है?
 P # Q % R & D \$ T @ U

- Ans
- 1. बहन
 - 2. सास
 - 3. मौसी
 - 4. पोती

Question ID : 264330142506
 Status : Answered
 Chosen Option : 3

Q.12 दिए गए विकल्पों में से उस चित्र का चयन कीजिए, जो निम्नलिखित शृंखला में प्रश्नचिह्न (?) को प्रतिस्थापित कर सकता है।



Ans

- 1.
- 2.
- 3.
- 4.

Question ID : 264330142413
 Status : Answered
 Chosen Option : 1

Q.13 एक निश्चित कूट भाषा में 'FICTION' को 'C70' के रूप में कूटबद्ध किया जाता है और 'DUSTILY' को 'A106' के रूप में कूटबद्ध किया जाता है। उसी कूट भाषा में 'ENDGAME' को किस प्रकार कूटबद्ध किया जाएगा?

- Ans
- 1. B32
 - 2. U63
 - 3. B44
 - 4. Y78

Question ID : 264330118646
Status : Not Answered
Chosen Option : --

Q.14 इस प्रश्न में, तीन कथन और उसके बाद दो निष्कर्ष I और II दिए गए हैं। कथनों को सत्य मानते हुए, भले ही वे सामान्यतः ज्ञात तथ्यों से भिन्न प्रतीत होते हों, निर्णय लें कि कौन-सा/से निष्कर्ष तार्किक रूप से कथनों का अनुसरण करता/करते है/हैं।

कथन:

- I. सभी ग्रह, क्षुद्रग्रह हैं।
- II. सभी कक्षा, क्षुद्रग्रह हैं।
- III. कोई भी तारा, क्षुद्रग्रह नहीं है।

निष्कर्ष:

- I. कोई भी ग्रह, तारा नहीं है।
- II. कोई भी तारा, कक्षा नहीं है।

- Ans
- 1. दोनों निष्कर्ष I और II अनुसरण करते हैं
 - 2. केवल निष्कर्ष I अनुसरण करता है
 - 3. केवल निष्कर्ष II अनुसरण करता है
 - 4. न तो निष्कर्ष I और न ही II अनुसरण करता है

Question ID : 264330104060
Status : Answered
Chosen Option : 1

Q.15 एक निश्चित कूट भाषा में, 'COIN' को '615928' लिखा जाता है और 'MINT' को '2692840' लिखा जाता है। उसी भाषा में 'HERO' को क्या लिखा जाएगा?

- Ans
- 1. 16536
 - 2. 1653615
 - 3. 81018
 - 4. 8101830

Question ID : 264330142448
Status : Answered
Chosen Option : 2

Q.16 दी गई श्रेणी में प्रश्नवाचक चिह्न (?) के स्थान पर विकल्पों में से कौन सी संख्या आएगी?

9, 45, 180, ?, 1080, 1080

- Ans
- 1. 540
 - 2. 360
 - 3. 520
 - 4. 480

Question ID : 264330142408
Status : Answered
Chosen Option : 1

Q.17 दी गई श्रेणी में प्रश्नवाचक चिह्न (?) के स्थान पर विकल्पों में से कौन सी संख्या आएगी?

136, 204, 306, ?, 688.5

Ans 1. 459

2. 476

3. 419

4. 446

Question ID : 264330142409

Status : Answered

Chosen Option : 1

Q.18 निम्नलिखित शब्दों को तार्किक और अर्थपूर्ण क्रम में व्यवस्थित कीजिए।

1. पेड़

2. कोपल (Sprout)

3. पौधा

4. बीज

5. नवांकुर (Seedling)

Ans 1. 2, 4, 3, 5, 1

2. 4, 2, 5, 3, 1

3. 4, 5, 2, 3, 1

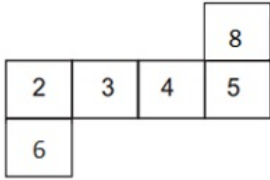
4. 2, 4, 5, 3, 1

Question ID : 26433091417

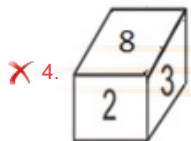
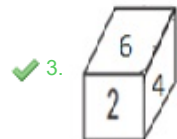
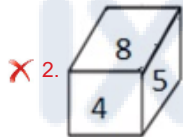
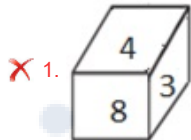
Status : Answered

Chosen Option : 2

Q.19 यदि दी गई शीट को मोड़कर एक घन बनाया जाता है, तो दी गई आकृतियों में से कौन-सी आकृति बनना संभव नहीं है?



Ans



Question ID : 264330142440

Status : Answered

Chosen Option : 3

Q.20 अक्षरों के उस संयोजन का चयन कीजिए जिसे दी गई श्रृंखला के रिक्त स्थानों में बाएं से दाएं क्रमिक रूप से रखने पर अक्षर श्रृंखला पूरी हो जाएगी।
P Q _ _ T _ _ R S T P _ R _ T _ Q _ S T

- Ans
- 1. SRPQQSRP
 - 2. RSPQSQRP
 - 3. RSPQQSPR
 - 4. SRPQQSPR

Question ID : 264330142488
Status : Answered
Chosen Option : 3

Q.21 दिए गए कथनों और निष्कर्षों को ध्यानपूर्वक पढ़िए। यह मानते हुए कि कथनों में दी गई जानकारी सत्य है, भले ही वह सामान्य रूप से ज्ञात तथ्यों से भिन्न प्रतीत होती हो, यह तय कीजिए कि दिए गए निष्कर्षों में से कौन-सा/से निष्कर्ष कथनों का तार्किक रूप से अनुसरण करता है/करते हैं।

कथन:
कुछ रत्न पत्थर हैं।
कुछ रत्न चट्टानें हैं।
सभी चट्टानें हीरे हैं।

निष्कर्ष:
I. कुछ हीरे चट्टानें हैं।
II. कुछ पत्थर चट्टानें हैं।
III. कुछ रत्न हीरे हैं।

- Ans
- 1. केवल निष्कर्ष I और II अनुसरण करते हैं
 - 2. केवल निष्कर्ष I अनुसरण करता है
 - 3. केवल निष्कर्ष II और III अनुसरण करते हैं
 - 4. केवल निष्कर्ष I और III अनुसरण करते हैं

Question ID : 264330142509
Status : Answered
Chosen Option : 4

Q.22 एक निश्चित कूट भाषा में, 'CACTUS' को 'ACTCSU' लिखा जाता है और 'DESERT' को 'EDESTR' लिखा जाता है। उस भाषा में 'SAFARI' कैसे लिखा जाएगा?

- Ans
- 1. AARFIS
 - 2. ASAFIR
 - 3. ARAIFS
 - 4. ASAFRI

Question ID : 264330103791
Status : Answered
Chosen Option : 2

Q.23 अक्षरों के उस संयोजन का चयन कीजिए जिसे दी गई श्रृंखला के रिक्त स्थानों में क्रमिक रूप से रखने पर श्रृंखला पूर्ण हो जाएगी।
ABZ, BCY, CDX, DEW, _ _ _

- Ans
- 1. EGV
 - 2. EFG
 - 3. EFV
 - 4. EGH

Question ID : 26433078819
Status : Answered
Chosen Option : 3

Q.24 'P % Q' का अर्थ है, 'P, Q का भाई है'।
'P + Q' का अर्थ है, 'P, Q की पुत्री है'।
'P = Q' का अर्थ है, 'P, Q का पुत्र है'।
'P # Q' का अर्थ है, 'P, Q की पत्नी है'।
यदि $L \% M + N \# R = S$ है, तो L का S से क्या संबंध है?

- Ans
- 1. पुत्र
 - 2. नाती
 - 3. भाई
 - 4. पोता

Question ID : 264330122205

Status : Answered

Chosen Option : 4

Q.25 एक निश्चित कूट भाषा में, 'INDIA' को 'KPFKC' और 'CHINA' को 'EJKPC' के रूप में लिखा जाता है।
इसी कूट भाषा में 'JAPAN' को किस प्रकार से लिखा जाएगा?

- Ans
- 1. LCRCP
 - 2. LCRCO
 - 3. LCRQP
 - 4. LCREP

Question ID : 26433068638

Status : Answered

Chosen Option : 1

Section : General Awareness

Q.1 स्तंभों को मिलाइए।

फाइलम

जन्तु

i. प्रोटोजोआ

a. गोलकृमि (Roundworm)

ii. निमैटोडा

b. अमीबा (Amoeba)

iii. आर्थ्रोपोडा

c. सितारा मछली (Star fish)

iv. इकाइनोडर्मेटा

d. तिलचट्टा (Cockroach)

- Ans
- 1. i - b, ii - a, iii - d, iv - c
 - 2. i - b, ii - a, iii - c, iv - d
 - 3. i - a, ii - b, iii - c, iv - d
 - 4. i - a, ii - b, iii - d, iv - c

Question ID : 26433054031

Status : Answered

Chosen Option : 1

Q.2 निम्नलिखित में से किस राज्य ने दिसंबर में जयपुर में विजय हजारे ट्रॉफी 2021 जीती?

- Ans
- 1. हरियाणा
 - 2. हिमाचल प्रदेश
 - 3. पंजाब
 - 4. तमिलनाडु

Question ID : 26433090652
Status : Answered
Chosen Option : 4

Q.3 हिंदू कैलेंडर के किस दिन होली का त्योहार मनाया जाता है?

- Ans
- 1. फाल्गुन अमावस्या
 - 2. चैत्र सप्तमी
 - 3. चैत्र पूर्णिमा
 - 4. फाल्गुन पूर्णिमा

Question ID : 264330141649
Status : Not Answered
Chosen Option : --

Q.4 जल में हाइड्रोजन और ऑक्सीजन के द्रव्यमान का अनुपात क्या है?

- Ans
- 1. 1 : 8
 - 2. 2 : 5
 - 3. 2 : 3
 - 4. 1 : 4

Question ID : 26433055756
Status : Answered
Chosen Option : 4

Q.5 भारत के उष्णकटिबंधीय सदाबहार वनों के बारे में निम्नलिखित में से कौन-सी विशेषता गलत है?

- Ans
- 1. इन जंगलों में पेड़ 60 m या उससे अधिक की ऊँचाई तक पहुँचते हैं।
 - 2. ये वन अच्छी तरह से स्तरीकृत हैं।
 - 3. वे गर्म और आर्द्र क्षेत्रों में पाए जाते हैं।
 - 4. इन वनों में वार्षिक वर्षा 150 cm से कम होती है।

Question ID : 264330142266
Status : Not Answered
Chosen Option : --

Q.6 संगीत जगत से जुड़ी किस प्रसिद्ध हस्ती ने 'मूनवॉक' संस्मरण लिखा है?

- Ans
- 1. स्टीव वंडर
 - 2. माइकल जैक्सन
 - 3. कर्ट कोबेन
 - 4. बॉब डिलेन

Question ID : 26433064621
Status : Not Answered
Chosen Option : --

Q.7 भारत में, विधान सभा या विधान परिषद के अधिवेशन के दौरान, यदि गणपूर्ति (quorum) नहीं है, तो सदन या अधिवेशन को स्थगित करना _____ का कर्तव्य होगा।

- Ans
- 1. सभापति/राज्यपाल
 - 2. अध्यक्ष/मुख्यमंत्री
 - 3. अध्यक्ष/सभापति
 - 4. राज्यपाल/मुख्यमंत्री

Question ID : 264330110133
Status : Not Answered
Chosen Option : --

Q.8 भारत सरकार की अन्नपूर्णा योजना का उद्देश्य क्या है ?

- Ans
- 1. सभी को भोजन उपलब्ध कराना
 - 2. वरिष्ठ नागरिकों को खाद्यान्न उपलब्ध कराना
 - 3. बच्चों को खाद्यान्न उपलब्ध कराना
 - 4. महिलाओं को खाद्यान्न उपलब्ध कराना

Question ID : 264330110662
Status : Answered
Chosen Option : 1

Q.9 वर्ष 2011 की जनगणना के अनुसार भारत में औसत पुरुष साक्षरता दर _____ थी।

- Ans
- 1. 82.14%
 - 2. 70.2%
 - 3. 65.21%
 - 4. 95.6%

Question ID : 264330109511
Status : Answered
Chosen Option : 1

Q.10 1978 के 44वें संशोधन अधिनियम द्वारा भारतीय संविधान में मूल सूची के कितने निर्देशक तत्वों में संशोधन किया गया था?

- Ans
- 1. एक
 - 2. दो
 - 3. तीन
 - 4. चार

Question ID : 264330113404
Status : Not Answered
Chosen Option : --

Q.11 कुमुदिनी लाखिया किस भारतीय शास्त्रीय नृत्य शैली की प्रतिपादक है?

- Ans
- 1. ओडिसी
 - 2. सल्लिया
 - 3. कुचिपुड़ी
 - 4. कथक

Question ID : 264330141651
Status : Not Answered
Chosen Option : --

Q.12 करधान कानून (संशोधन) अधिनियम, 2021, _____ के आयकर अधिनियम में संशोधन करता है।

- Ans
- 1. 1995
 - 2. 1988
 - 3. 1961
 - 4. 1974

Question ID : 26433090630
Status : Not Answered
Chosen Option : --

Q.13 निम्नलिखित में से किसने 1920 में कैसर-ए-हिंद का अपना पदक वापस लौटा दिया था?

- Ans
- 1. महात्मा गाँधी
 - 2. रविद्रनाथ टैगोर
 - 3. सरोजिनी नायडू
 - 4. एस सुब्रमण्यम अय्यर

Question ID : 26433071416
Status : Answered
Chosen Option : 1

Q.14 निम्नलिखित में से भारत के प्राकृतिक बंदरगाह का चयन कीजिए।

- Ans
- 1. दीनदयाल बंदरगाह
 - 2. चेन्नई बंदरगाह
 - 3. मुंबई बंदरगाह
 - 4. कोलकाता बंदरगाह

Question ID : 26433082184
Status : Not Answered
Chosen Option : --

Q.15 बहमनी साम्राज्य की स्थापना अलाउद्दीन बहमन शाह ने _____ में की थी।

- Ans
- 1. 1347
 - 2. 1346
 - 3. 1336
 - 4. 1345

Question ID : 26433081943
Status : Not Answered
Chosen Option : --

Q.16 निम्नलिखित में से किस वास्तुकार ने गेटवे ऑफ इंडिया को डिजाइन किया था?

- Ans
- 1. हर्बर्ट बेकर (Herbert Baker)
 - 2. जॉर्ज विटेट (George Wittet)
 - 3. लॉरी बेकर (Lauri Baker)
 - 4. हेनरी इरविन (Henry Irwin)

Question ID : 264330130885
Status : Answered
Chosen Option : 4

Q.17 निम्नलिखित में से किस खिलाड़ी को मेजर ध्यानचंद खेल रत्न पुरस्कार 2022 से सम्मानित किया गया है?

- Ans
- 1. श्री बिमल प्रफुल्ल घोष
 - 2. श्री राज सिंह
 - 3. श्री शरत कमल अचंता
 - 4. श्री दिनेश जवाहर लाड

Question ID : 264330130855
Status : Not Answered
Chosen Option : --

Q.18 दिसंबर 2022 में निम्नलिखित में से कौन भारतीय ओलंपिक एसोसिएशन की पहली महिला अध्यक्ष बन गई है?

- Ans
- 1. साइना नेहवाल
 - 2. मैरी कॉम
 - 3. पी.टी. उषा
 - 4. कुंजारानी देवी

Question ID : 264330132595
Status : Answered
Chosen Option : 3

Q.19 निम्नलिखित में से किस वर्ष में भारतीय टीम ने एकदिवसीय अंतर्राष्ट्रीय (ODI) क्रिकेट विश्व कप जीता?

- Ans
- 1. 2019
 - 2. 2007
 - 3. 2015
 - 4. 2011

Question ID : 264330103808
Status : Answered
Chosen Option : 4

Q.20 छाया में उगाए जाने वाले पौधे _____ कहलाते हैं।

- Ans
- 1. एकबीजपत्री
 - 2. बालुकोद्भिद्
 - 3. छायारागी पादप
 - 4. लवणमृदोद्भिद्

Question ID : 26433066642
Status : Answered
Chosen Option : 3

Q.21 बारदोली छीड़ा का दूसरा नाम क्या है?

- Ans
- 1. लू
 - 2. आम्र वर्षा
 - 3. काल बैसाखी
 - 4. मंजरी वर्षा

Question ID : 264330141932
Status : Not Answered
Chosen Option : --

Q.22 ज्योति प्रसाद अग्रवाला _____ राज्य 'रूपकोंवर' नाम से लोकप्रिय संगीतकार थे।

- Ans
- 1. असम
 - 2. गुजरात
 - 3. राजस्थान
 - 4. मध्य प्रदेश

Question ID : 264330141603
Status : Not Answered
Chosen Option : --

Q.23 राजा और राधा रेड्डी को _____ नृत्य में उनके योगदान के लिए संगीत नाटक अकादमी पुरस्कार से सम्मानित किया गया।

- Ans
- 1. कथक
 - 2. सत्रीया
 - 3. कथकली
 - 4. कुचिपुड़ी

Question ID : 264330110266
Status : Not Answered
Chosen Option : --

Q.24 निम्नलिखित में से कौन-सा ग्रंथ मौर्य साम्राज्य के काल के प्रशासनिक और सैन्य संगठन का सूक्ष्म विवरण देता है?

- Ans
- 1. शुलब सूत्र
 - 2. बृहत् संहिता
 - 3. अर्थशास्त्र
 - 4. नितिसार

Question ID : 264330111367
Status : Not Answered
Chosen Option : --

Q.25 भारतीय संविधान का निम्नलिखित में से कौन सा अनुच्छेद यह प्रावधान करता है कि दिल्ली राष्ट्रीय राजधानी क्षेत्र के लिए एक विधान सभा होगी?

- Ans
- 1. अनुच्छेद 233AA
 - 2. अनुच्छेद 231AA
 - 3. अनुच्छेद 239AA
 - 4. अनुच्छेद 237AA

Question ID : 264330113422
Status : Not Answered
Chosen Option : --

Section : Quantitative Aptitude

Q.1 ₹2 लाख के मूलधन पर 3 वर्ष के लिए 8% वार्षिक की दर से साधारण ब्याज कितना होगा?

- Ans
- 1. ₹40,000
 - 2. ₹36,000
 - 3. ₹48,000
 - 4. ₹32,000

Question ID : 26433074291

Status : Answered

Chosen Option : 3

Q.2 मोहन एक मेज को ₹800 के एमआरपी (MRP) पर 10% की छूट पर खरीदता है। यदि वह इसे ₹900 में बेचता है, तो लाभ प्रतिशत _____ होगा।

- Ans
- 1. 20% लाभ
 - 2. 15% लाभ
 - 3. 25% लाभ
 - 4. 30% लाभ

Question ID : 26433099598

Status : Answered

Chosen Option : 3

Q.3 अभय किसी काम को 22 दिन में कर सकता है। निधि अभय से 28% अधिक कार्यकुशल है। समान काम करने में निधि को _____ दिन लगेंगे।

- Ans
- 1. $16\frac{3}{17}$
 - 2. $17\frac{1}{16}$
 - 3. $16\frac{1}{17}$
 - 4. $17\frac{3}{16}$

Question ID : 26433081478

Status : Answered

Chosen Option : 4

Q.4 एक टेस्ट में 50 छात्रों का औसत स्कोर 44 है। कुल छात्रों में से 40% छात्र लड़कियां हैं और शेष लड़के हैं। लड़कों का औसत स्कोर, लड़कियों के औसत स्कोर की तुलना में 20% कम है। लड़कियों का औसत स्कोर क्या है?

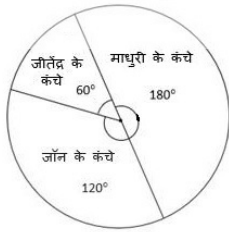
- Ans
- 1. 52
 - 2. 54
 - 3. 50
 - 4. 48

Question ID : 264330104156

Status : Answered

Chosen Option : 3

Q.5 दिए गए पाई-चार्ट का अध्ययन करें और उसके बाद दिए गए प्रश्न का उत्तर दें।



यदि पाई-चार्ट 3 व्यक्तियों के बीच 36 कंचों के वितरण को दर्शाता है, तो माधुरी के पास कितने कंचे हैं?

- Ans
- 1. 8
 - 2. 16
 - 3. 18
 - 4. 12

Question ID : 264330141224
Status : Answered
Chosen Option : 3

Q.6 A, B के अनुक्रमानुपाती है। जब $A = 52$, $B = 91$ है। तो $B = 126$ होने पर A का मान ज्ञात कीजिए।

- Ans
- 1. 70
 - 2. 76
 - 3. 84
 - 4. 72

Question ID : 264330103275
Status : Answered
Chosen Option : 4

Q.7 एक मालगाड़ी, स्थिर चाल से यात्रा करते हुए, एक ही दिशा में (ट्रेन की दिशा में) चल रहे दो व्यक्तियों को क्रमशः 11.6 सेकंड और 11.8 सेकंड में पार करती है। पहला व्यक्ति 5.85 km/h की चाल से चल रहा था, जबकि दूसरा 6.3 km/h की चाल से चल रहा था। ट्रेन की चाल (km/h में) क्या थी?

- Ans
- 1. 32.5
 - 2. 32.6
 - 3. 32.2
 - 4. 32.4

Question ID : 264330103282
Status : Not Answered
Chosen Option : --

Q.8 7 cm त्रिज्या वाले एक अर्धगोले को पिघलाकर चार छोटे समान गोले बनाए जाते हैं। इन गोलों की त्रिज्या ज्ञात करें?

- Ans
- 1. 3 cm
 - 2. 4 cm
 - 3. 3.5 cm
 - 4. 4.5 cm

Question ID : 26433081740
Status : Not Answered
Chosen Option : --

Q.9 मान लें कि A, B, C, ΔXYZ की भुजाओं क्रमशः XY, YZ और XZ के मध्य-बिंदु हैं। यदि ΔXYZ का क्षेत्रफल 8464 cm^2 है, तो ΔABC का क्षेत्रफल (cm^2 में) ज्ञात करें।

- Ans
- 1. 1812
 - 2. 3112
 - 3. 1516
 - 4. 2116

Question ID : 264330126537

Status : Answered

Chosen Option : 4

Q.10 यदि किसी भिन्न के अंश में 12% की वृद्धि की जाती है और उसके हर में 8% की कमी की जाती है, तो इससे एक नया भिन्न $\frac{16}{17}$ प्राप्त होता है। मूल भिन्न क्या है?

- Ans
- 1. $\frac{28}{23}$
 - 2. $\frac{119}{92}$
 - 3. $\frac{23}{28}$
 - 4. $\frac{92}{119}$

Question ID : 26433080300

Status : Not Answered

Chosen Option : --

Q.11 एक बैंक में Rs.84,000 की राशि 15% साधारण ब्याज की दर से 3 वर्ष की अवधि के लिए जमा की जाती है। कितना साधारण ब्याज (Rs. में) प्राप्त होगा?

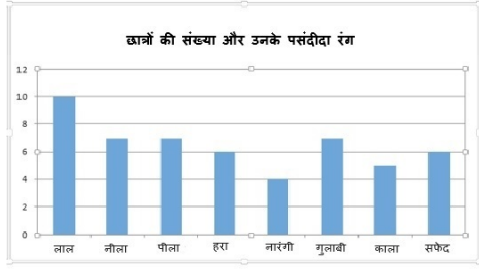
- Ans
- 1. Rs.39,800
 - 2. Rs.38,700
 - 3. Rs.37,800
 - 4. Rs.37,200

Question ID : 26433075070

Status : Answered

Chosen Option : 3

Q.12 दिए गए दंड आरेख में एक कक्षा के कई छात्रों के पसंदीदा रंगों को दिखाया गया है। मान लीजिए कि छात्रों को A और B दो समूहों में विभाजित किया गया है जहाँ समूह A के छात्र लाल, हरा, नारंगी या गुलाबी रंग में से एक को पसंदीदा रंग के रूप में चुनते हैं जबकि समूह B के छात्र अन्य चारों रंगों में से किसी को भी अपने पसंदीदा रंग के रूप में चुनते हैं। दंड आरेख के अनुसार समूह A में समूह B की तुलना में कितने अधिक छात्र थे?



Ans 1. 2

2. 0

3. 1

4. 3

Question ID : 26433076126

Status : Answered

Chosen Option : 1

Q.13 यदि 20% दूध वाले 36 लीटर विलयन को 10% दूध वाले 48 लीटर विलयन में मिलाया जाता है, तो परिणामी विलयन में दूध की प्रतिशत मात्रा क्या होगी?

Ans 1. 13.36%

2. 15.48%

3. 12.38%

4. 14.28%

Question ID : 264330126558

Status : Answered

Chosen Option : 4

Q.14 A, B और C अकेले कार्य करते हुए एक कार्य को क्रमशः 20 दिन, 30 दिन और 60 दिन में पूरा कर सकते हैं। यदि प्रत्येक एकांतर दिन A को B और C प्रत्येक द्वारा सहायता प्रदान की जाती है, तो कार्य कितनी जल्दी पूरा किया जा सकता है?

Ans 1. $\frac{53}{4}$ दिन

2. $\frac{37}{4}$ दिन

3. $\frac{40}{3}$ दिन

4. $\frac{28}{3}$ दिन

Question ID : 26433076111

Status : Answered

Chosen Option : 1

Q.15 यदि $4 \tan A = 3$ है, तो $\cos^2 A - \sin^2 A$ किसके बराबर है?

- Ans
- 1. $\frac{3}{5}$
 - 2. $\frac{1}{5}$
 - 3. $\frac{7}{25}$
 - 4. $\frac{9}{25}$

Question ID : 264330141580

Status : Answered

Chosen Option : 3

Q.16 मोहन 18935 को एक निश्चित संख्या से विभाजित करता है। यदि उसे भागफल और शेषफल क्रमशः 102 और 65 प्राप्त होते हैं, तो भाजक _____ है।

- Ans
- 1. 165
 - 2. 155
 - 3. 185
 - 4. 175

Question ID : 26433090295

Status : Answered

Chosen Option : 3

Q.17 राहुल की उम्र और उसके पुत्र अमन की उम्र का अनुपात 9 : 1 है और उनकी उम्रों का गुणनफल 144 है। चार वर्ष बाद उनकी उम्रों का योग कितना होगा?

- Ans
- 1. 40
 - 2. 48
 - 3. 46
 - 4. 44

Question ID : 264330124002

Status : Answered

Chosen Option : 2

Q.18 $52 \times 52 - 48 \times 48$ को सरल करें।

- Ans
- 1. 424
 - 2. 400
 - 3. 386
 - 4. 326

Question ID : 264330141411

Status : Answered

Chosen Option : 2

Q.19 $\triangle ABC$ में, P और Q क्रमशः भुजा AB और AC के मध्य बिंदु हैं। R, रेखाखंड PQ पर एक ऐसा बिंदु है कि $PR : RQ = 1 : 4$ है। यदि $PR = 5$ cm है, तो $BC = ?$

- Ans
- 1. 48 cm
 - 2. 50 cm
 - 3. 46 cm
 - 4. 44 cm

Question ID : 264330141578
Status : Answered
Chosen Option : 2

Q.20 A एक वस्तु, B को 16% के लाभ पर बेचता है, B इसे C को 15% की हानि पर बेचता है, और C इसे D को 20% के लाभ पर बेचता है। यदि C और A द्वारा अर्जित लाभ के बीच का अंतर ₹248 है, तो B को हुई हानि की गणना करें (₹ में)।

- Ans
- 1. 1160
 - 2. 1025
 - 3. 1250
 - 4. 1075

Question ID : 264330104178
Status : Not Answered
Chosen Option : --

Q.21 निम्नलिखित में से कौन-सी संख्या 4 से विभाज्य नहीं है?

- Ans
- 1. 67547172
 - 2. 80936292
 - 3. 56783294
 - 4. 73568916

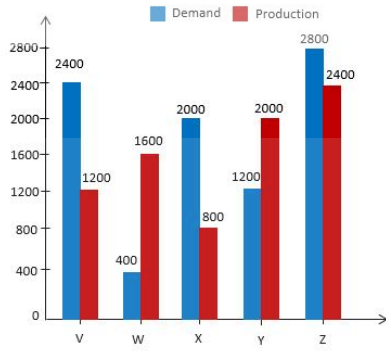
Question ID : 264330122063
Status : Answered
Chosen Option : 3

Q.22 दो स्थानों के बीच की दूरी 1200 km है। इस दूरी को तय करने के लिए, एक व्यक्ति X दूसरे व्यक्ति Y से 5 घंटे कम लेता है, जिसकी औसत गति X की तुलना में 40 km/h कम है। यात्रा को पूरा करने के लिए Y द्वारा लिया गया समय क्या है?

- Ans
- 1. 16 घंटे
 - 2. 14 घंटे
 - 3. 18 घंटे
 - 4. 15 घंटे

Question ID : 26433061315
Status : Answered
Chosen Option : 4

Q.23 निम्नलिखित आलेख पांच कंपनियों V, W, X, Y और Z की मांग (demand) और उत्पादन (production) को दर्शाता है।



यदि कंपनी W के उत्पादन का $k\%$ कंपनी Z के उत्पादन के बराबर है, तो k के बराबर है।

- Ans
- 1. 40
 - 2. 45
 - 3. 155
 - 4. 150

Question ID : 26433075524

Status : Answered

Chosen Option : 4

Q.24 चांदी की एक पूजा की थाली के सेट को ₹10,000 के अंकित मूल्य पर 10% और 5% की क्रमिक छूट के साथ बेचा जाता है। भुगतान नकद किए जाने पर, अतिरिक्त 5% की छूट दी जाती है। नकद भुगतान पर वस्तु का विक्रय मूल्य ज्ञात करें।

- Ans
- 1. ₹8,122.50
 - 2. ₹8,100.50
 - 3. ₹8,200.50
 - 4. ₹8,212.50

Question ID : 264330103407

Status : Answered

Chosen Option : 1

Q.25 यदि एक दुकानदार एक कैलकुलेटर के Rs.500 के अंकित मूल्य पर 7% प्रत्येक की दो क्रमिक छूट देता है, तो कैलकुलेटर का विक्रय मूल्य क्या है?

- Ans
- 1. Rs.440.85
 - 2. Rs.435.00
 - 3. Rs.432.45
 - 4. Rs.430.25

Question ID : 26433073085

Status : Answered

Chosen Option : 3

Section : English Language

Q.1 Select the most appropriate antonym of the given word.

Keen

- Ans
- 1. Subtle
 - 2. Perceptive
 - 3. Accurate
 - 4. Insensitive

Question ID : 26433060978

Status : Answered

Chosen Option : 4

Q.2 Select the most appropriate ANTONYM of the underlined word.

The old man was not only infirm but also blind and was unable to move around by himself.

- Ans
- 1. Diffident
 - 2. Robust
 - 3. Anaemic
 - 4. Hospitable

Question ID : 26433073370

Status : Answered

Chosen Option : 3

Q.3 Select the most appropriate ANTONYM of the given word from the following sentence.

Artificial

My uncle, who is a native of Australia, is a logical thinker and says that natural and unnatural stones both look beautiful in gold jewellery.

- Ans
- 1. Logical
 - 2. Native
 - 3. Unnatural
 - 4. Natural

Question ID : 26433072812

Status : Answered

Chosen Option : 4

Q.4 Select the most appropriate option to fill in the blank.

Every cloud has a _____ lining.

- Ans
- 1. diffused
 - 2. grey
 - 3. silver
 - 4. blue

Question ID : 26433098873

Status : Answered

Chosen Option : 3

Q.5 Select the option that expresses the given sentence in direct speech.
Bibiya asked the doctor if she could get the discharge in the morning.

- Ans**
- 1. Bibiya asked the doctor, "Can I get the discharge in the morning?"
 - 2. Bibiya asked the doctor, "How can I get the discharge in the morning?"
 - 3. Bibiya asked the doctor, "Could I have got the discharge in the morning?"
 - 4. Bibiya asked the doctor, "If I can get the discharge in the morning?"

Question ID : 264330136455
Status : Answered
Chosen Option : 1

Q.6 Select the most appropriate option to fill in the blank.
Plastic pollution is _____ the oceans' ecosystem, but humanity doesn't take serious action against it.

- Ans**
- 1. deciding
 - 2. aiming
 - 3. affecting
 - 4. making

Question ID : 26433097028
Status : Answered
Chosen Option : 3

Q.7 Select the option that expresses the given sentence in passive voice.

He ordered the police to pursue the robber and his gang.

- Ans**
- 1. Pursue the robber and gang were the orders by police.
 - 2. Order the police to pursue the robber gang.
 - 3. The police were ordered to pursue the robber and his gang.
 - 4. The robber and gang were pursued.

Question ID : 26433093197
Status : Answered
Chosen Option : 3

Q.8 Select the option that can be used as a one-word substitute for the given group of words.

Social organisation where males are heads of families

- Ans**
- 1. Matriarchy
 - 2. Polygamy
 - 3. Hierarchy
 - 4. Patriarchy

Question ID : 26433073907
Status : Answered
Chosen Option : 4

Q.9 Select the most appropriate meaning of the given idiom.

I don't buy it

- Ans
- 1. I do not like to buy
 - 2. Purchasing should be controlled
 - 3. I am not convinced
 - 4. Only good decisions can be agreed on

Question ID : 26433089005

Status : Marked For Review

Chosen Option : 3

Q.10 Select the most appropriate synonym of the given word.

Instant

- Ans
- 1. Immediate
 - 2. Gradual
 - 3. Precise
 - 4. Anticipated

Question ID : 26433063114

Status : Answered

Chosen Option : 1

Q.11 Parts of the following sentence have been underlined and given as options. Select the option that contains a spelling error.

How simple for the English businessman to word a cable that would be intelligible to Italian, Turkish and Chinese firms? If statesmen could discuss directly and accurately the problems.

- Ans
- 1. statesmen
 - 2. intelligible
 - 3. businessman
 - 4. firms

Question ID : 26433088430

Status : Answered

Chosen Option : 3

Q.12 Select the option that will improve the underlined part of the given sentence.

It is wrong to make accusations without will have any proof.

- Ans
- 1. without has any proof
 - 2. without having any proof
 - 3. without to be have any proof
 - 4. without being have any proof

Question ID : 264330142374

Status : Answered

Chosen Option : 2

Q.13 The following sentence has been split into four segments. Identify the segment that contains a grammatical error.
We must / take care / of one other / in times of crisis.

- Ans
- 1. in times of crisis
 - 2. take care
 - 3. We must
 - 4. of one other

Question ID : 264330142378
Status : Answered
Chosen Option : 4

Q.14 Parts of the following sentence have been underlined and given as options. Select the option that contains a spelling error.

It remains for us to apply the tools of selection, rejection or compresion in order to understand.

- Ans
- 1. understand
 - 2. selection
 - 3. rejection
 - 4. compresion

Question ID : 26433088427
Status : Answered
Chosen Option : 4

Q.15 Select the option that expresses the given sentence in direct speech.
Liam asked if we could proceed with the award ceremony.

- Ans
- 1. Liam said, "Should we proceed with the award ceremony?"
 - 2. Liam said, "Could we please proceed with the award ceremony?"
 - 3. Liam said, "Can we proceed with the award ceremony?"
 - 4. Liam said, "Will we proceed with the award ceremony?"

Question ID : 264330133423
Status : Answered
Chosen Option : 3

Comprehension:

In the following passage, some words have been deleted. Read the passage carefully and select the most appropriate option to fill in each blank.

Bottled water demonstrates how much humans (1)_____ nature, reflecting the tremendous value they place on it. On the other hand, bottled water indicates (2)_____ for nature's complexities, displaying the irony that may lead to the mutual annihilation of humanity and the (3)_____. The finest example is the (4)_____ of bottled water, which is the commercialisation of natural resources. Holding bottled water, it is clear to see a gorgeous image of a lake and a small (5)_____ of blue and green plastic around its neck.

SubQuestion No : 16

Q.16 Select the most appropriate option to fill in blank number 1.

- Ans
- 1. glorify
 - 2. satisfy
 - 3. beautify
 - 4. commodify

Question ID : 26433099006
Status : Answered
Chosen Option : 2

Prepare 50% Faster

Comprehension:

In the following passage, some words have been deleted. Read the passage carefully and select the most appropriate option to fill in each blank.

Bottled water demonstrates how much humans (1)_____ nature, reflecting the tremendous value they place on it. On the other hand, bottled water indicates (2)_____ for nature's complexities, displaying the irony that may lead to the mutual annihilation of humanity and the (3)_____. The finest example is the (4)_____ of bottled water, which is the commercialisation of natural resources. Holding bottled water, it is clear to see a gorgeous image of a lake and a small (5)_____ of blue and green plastic around its neck.

SubQuestion No : 17

Q.17 Select the most appropriate option to fill in blank number 2.

- Ans
- 1. admiration
 - 2. acceptance
 - 3. affectation
 - 4. contempt

Question ID : 26433099007

Status : Answered

Chosen Option : 4

Comprehension:

In the following passage, some words have been deleted. Read the passage carefully and select the most appropriate option to fill in each blank.

Bottled water demonstrates how much humans (1)_____ nature, reflecting the tremendous value they place on it. On the other hand, bottled water indicates (2)_____ for nature's complexities, displaying the irony that may lead to the mutual annihilation of humanity and the (3)_____. The finest example is the (4)_____ of bottled water, which is the commercialisation of natural resources. Holding bottled water, it is clear to see a gorgeous image of a lake and a small (5)_____ of blue and green plastic around its neck.

SubQuestion No : 18

Q.18 Select the most appropriate option to fill in blank number 3.

- Ans
- 1. trash
 - 2. humans
 - 3. environment
 - 4. collections

Question ID : 26433099008

Status : Answered

Chosen Option : 3

Comprehension:

In the following passage, some words have been deleted. Read the passage carefully and select the most appropriate option to fill in each blank.

Bottled water demonstrates how much humans (1)_____ nature, reflecting the tremendous value they place on it. On the other hand, bottled water indicates (2)_____ for nature's complexities, displaying the irony that may lead to the mutual annihilation of humanity and the (3)_____. The finest example is the (4)_____ of bottled water, which is the commercialisation of natural resources. Holding bottled water, it is clear to see a gorgeous image of a lake and a small (5)_____ of blue and green plastic around its neck.

SubQuestion No : 19

Q.19 Select the most appropriate option to fill in the blank number 4.

- Ans
- 1. recycling
 - 2. recollecting
 - 3. sale
 - 4. corruption

Question ID : 26433099009

Status : Answered

Chosen Option : 1

Comprehension:

In the following passage, some words have been deleted. Read the passage carefully and select the most appropriate option to fill in each blank.

Bottled water demonstrates how much humans (1)_____ nature, reflecting the tremendous value they place on it. On the other hand, bottled water indicates (2)_____ for nature's complexities, displaying the irony that may lead to the mutual annihilation of humanity and the (3)_____. The finest example is the (4)_____ of bottled water, which is the commercialisation of natural resources. Holding bottled water, it is clear to see a gorgeous image of a lake and a small (5)_____ of blue and green plastic around its neck.

SubQuestion No : 20

Q.20 Select the most appropriate option to fill in blank number 5.

- Ans
- 1. beam
 - 2. group
 - 3. piece
 - 4. bunch

Question ID : 26433099010

Status : Answered

Chosen Option : 3

Comprehension:

Read the given passage and answer the questions that follow.

Virtual learning refers to an environment where students study a digital-based curriculum taught by instructors that lecture online via video or audio. This instruction can take place either in a self-paced (asynchronous) environment or in a real-time (synchronous) environment. There are many reasons why people choose virtual learning over instruction in a traditional classroom. For example, the flexibility of virtual learning makes it an appropriate choice for full-time workers who would like to continue their education or cannot attend in-person classes.

The virtual learning environment is also a good choice for people who enjoy self-learning. Some virtual learning options have classes to attend at scheduled times, while others allow you to learn at your own pace. With this self-paced option, you have a lot of autonomy with the intensity and overall cadence of your learning while still enjoying the benefits of guided lessons.

Virtual learning gives students access to coursework from anywhere, at any time, making learning super convenient. Asynchronous classes also give an immense amount of flexibility for lectures and studying. Even with the flexibility of the course, online courses are associated with higher retention rates and graduation rates. A study conducted by Arizona State University found that students taking virtual classes benefit from increased access and cost savings of as much as 50 percent.

SubQuestion No : 21

Q.21 Which of the following is the best description of the tone of the passage?

- Ans
- 1. Dogmatic
 - 2. Biased
 - 3. Technical
 - 4. Cynical

Question ID : 264330121016

Status : Not Answered

Chosen Option : --

Comprehension:

Read the given passage and answer the questions that follow.

Virtual learning refers to an environment where students study a digital-based curriculum taught by instructors that lecture online via video or audio. This instruction can take place either in a self-paced (asynchronous) environment or in a real-time (synchronous) environment. There are many reasons why people choose virtual learning over instruction in a traditional classroom. For example, the flexibility of virtual learning makes it an appropriate choice for full-time workers who would like to continue their education or cannot attend in-person classes.

The virtual learning environment is also a good choice for people who enjoy self-learning. Some virtual learning options have classes to attend at scheduled times, while others allow you to learn at your own pace. With this self-paced option, you have a lot of autonomy with the intensity and overall cadence of your learning while still enjoying the benefits of guided lessons.

Virtual learning gives students access to coursework from anywhere, at any time, making learning super convenient. Asynchronous classes also give an immense amount of flexibility for lectures and studying. Even with the flexibility of the course, online courses are associated with higher retention rates and graduation rates. A study conducted by Arizona State University found that students taking virtual classes benefit from increased access and cost savings of as much as 50 percent.

SubQuestion No : 22

Q.22 What is the most appropriate ANTONYM of the word 'retention' from the passage?

- Ans
- 1. Preventive
 - 2. Relinquishment
 - 3. Perception
 - 4. Retaining

Question ID : 264330121019

Status : Not Answered

Chosen Option : --

Comprehension:

Read the given passage and answer the questions that follow.

Virtual learning refers to an environment where students study a digital-based curriculum taught by instructors that lecture online via video or audio. This instruction can take place either in a self-paced (asynchronous) environment or in a real-time (synchronous) environment. There are many reasons why people choose virtual learning over instruction in a traditional classroom. For example, the flexibility of virtual learning makes it an appropriate choice for full-time workers who would like to continue their education or cannot attend in-person classes.

The virtual learning environment is also a good choice for people who enjoy self-learning. Some virtual learning options have classes to attend at scheduled times, while others allow you to learn at your own pace. With this self-paced option, you have a lot of autonomy with the intensity and overall cadence of your learning while still enjoying the benefits of guided lessons.

Virtual learning gives students access to coursework from anywhere, at any time, making learning super convenient. Asynchronous classes also give an immense amount of flexibility for lectures and studying. Even with the flexibility of the course, online courses are associated with higher retention rates and graduation rates. A study conducted by Arizona State University found that students taking virtual classes benefit from increased access and cost savings of as much as 50 percent.

SubQuestion No : 23

Q.23 What is the most appropriate ANTONYM of the word 'autonomy' from the passage?

- Ans
- 1. Dependence
 - 2. Liberty
 - 3. Availability
 - 4. Preference

Question ID : 264330121017

Status : Answered

Chosen Option : 1

Comprehension:

Read the given passage and answer the questions that follow.

Virtual learning refers to an environment where students study a digital-based curriculum taught by instructors that lecture online via video or audio. This instruction can take place either in a self-paced (asynchronous) environment or in a real-time (synchronous) environment. There are many reasons why people choose virtual learning over instruction in a traditional classroom. For example, the flexibility of virtual learning makes it an appropriate choice for full-time workers who would like to continue their education or cannot attend in-person classes.

The virtual learning environment is also a good choice for people who enjoy self-learning. Some virtual learning options have classes to attend at scheduled times, while others allow you to learn at your own pace. With this self-paced option, you have a lot of autonomy with the intensity and overall cadence of your learning while still enjoying the benefits of guided lessons.

Virtual learning gives students access to coursework from anywhere, at any time, making learning super convenient. Asynchronous classes also give an immense amount of flexibility for lectures and studying. Even with the flexibility of the course, online courses are associated with higher retention rates and graduation rates. A study conducted by Arizona State University found that students taking virtual classes benefit from increased access and cost savings of as much as 50 percent.

SubQuestion No : 24

Q.24 Which of the following options represent the structure of the passage?

- Ans
- 1. Chronological
 - 2. Spatial
 - 3. Compare and Contrast
 - 4. Descriptive

Question ID : 264330121018

Status : Not Answered

Chosen Option : --

Comprehension:

Read the given passage and answer the questions that follow.

Virtual learning refers to an environment where students study a digital-based curriculum taught by instructors that lecture online via video or audio. This instruction can take place either in a self-paced (asynchronous) environment or in a real-time (synchronous) environment. There are many reasons why people choose virtual learning over instruction in a traditional classroom. For example, the flexibility of virtual learning makes it an appropriate choice for full-time workers who would like to continue their education or cannot attend in-person classes.

The virtual learning environment is also a good choice for people who enjoy self-learning. Some virtual learning options have classes to attend at scheduled times, while others allow you to learn at your own pace. With this self-paced option, you have a lot of autonomy with the intensity and overall cadence of your learning while still enjoying the benefits of guided lessons.

Virtual learning gives students access to coursework from anywhere, at any time, making learning super convenient. Asynchronous classes also give an immense amount of flexibility for lectures and studying. Even with the flexibility of the course, online courses are associated with higher retention rates and graduation rates. A study conducted by Arizona State University found that students taking virtual classes benefit from increased access and cost savings of as much as 50 percent.

SubQuestion No : 25

Q.25 Which of the following most accurately states the central idea of the passage?

- Ans
- 1. Self-paced learning
 - 2. Virtual learning and its advantages
 - 3. Flexible learning environment
 - 4. Guided learning environment

Question ID : 264330121015

Status : Answered

Chosen Option : 2

Phase-XI/2023/Selection Posts and Selection Posts/Ladakh/2023

Roll Number	Selection Post
Candidate Name	Selection Post
Venue Name	iON Digital Zone iDZ Tatisilwai
Exam Date	27/06/2023
Exam Time	5:15 PM - 6:15 PM
Subject	Selection Post Graduate Level

Section : General Intelligence

Q.1 उस विकल्प का चयन कीजिए, जिसका तीसरे शब्द से ठीक वही संबंध है, जो संबंध दूसरे शब्द का पहले शब्द से है।
(शब्दों को अर्थपूर्ण हिंदी शब्दों के रूप में माना जाना चाहिए और शब्द में अक्षरों/ व्यंजनों/स्वरों की संख्या के आधार पर वे एक दूसरे से संबंधित नहीं किए जाने चाहिए)
नौसिखिया (Amateur) : आरंभकर्ता (बिगिनर) :: खतरनाक : ?

- Ans
- 1. टिकाऊ
 - 2. जोखिमप्रद
 - 3. सहिष्णु
 - 4. विलक्षण

Question ID : 26433068412
Status : Answered
Chosen Option : 2

Q.2 गणितीय चिह्नों के उस सही संयोजन का चयन कीजिए जिसे * चिह्नों के स्थान पर क्रमिक रूप से रखने पर समीकरण संतुलित हो जाएगा।

$$8 * 2 * 1 * 12 * 18 * 33$$

- Ans
- 1. +, -, +, +, =
 - 2. +, -, x, +, =
 - 3. +, -, -, +, =
 - 4. x, -, +, +, =

Question ID : 26433097206
Status : Answered
Chosen Option : 1

Q.3 उस विकल्प का चयन करें, जो उन अक्षरों को दर्शाता है, जिन्हें निम्न रिक्त स्थानों में बाएँ से दाएँ रखने पर अक्षर-श्रृंखला पूर्ण हो जाएगी।
N _ M _ N _ MANNA _ A _

- Ans
- 1. ANNMMMA
 - 2. AANAMN
 - 3. ANNANM
 - 4. ANAMAA

Question ID : 26433080454
Status : Answered
Chosen Option : 2

Q.4 उस विकल्प का चयन करें जो तीसरे शब्द से उसी प्रकार संबंधित है जैसे दूसरा शब्द पहले शब्द से संबंधित है। (शब्दों को अर्थपूर्ण हिंदी शब्दों के रूप में माना जाना चाहिए और शब्द आपस में अक्षरों की संख्या/व्यंजन/स्वरों की संख्या के आधार पर एक दूसरे से संबंधित नहीं होने चाहिए)

अधित्यक्त करना (Waive) : थोपना (Impose) :: नकली (Spurious) : ?

- Ans
- 1. त्यागना (Abjure)
 - 2. छिटपुट (Sporadic)
 - 3. जाली (Counterfeit)
 - 4. वास्तविक (Original)

Question ID : 264330143383

Status : Answered

Chosen Option : 3

Q.5 एक कूट भाषा में, 'MISSION' को 'N64O' के रूप में लिखा जाता है और 'TEASE' को 'U56F' के रूप में लिखा जाता है। इसी कूट भाषा में 'NASTY' को कैसे लिखा जाएगा?

- Ans
- 1. Z14O
 - 2. O14Z
 - 3. Z41O
 - 4. O41Z

Question ID : 264330120822

Status : Answered

Chosen Option : 4

Q.6 दर्पण को नीचे दिखाए अनुसार MN पर रखे जाने पर, दिए गए संयोजन के सही दर्पण प्रतिबिंब का चयन कीजिए।

7 t F 4 9 Y d

M
|
N

- Ans
- 1. b Y e F 7 j 7
 - 2. b Y e 7 7 j 7
 - 3. 7 F e 7 7 j 7
 - 4. p Y e 4 9 Y d

Question ID : 264330143447

Status : Answered

Chosen Option : 1

Q.7 उस विकल्प का चयन कीजिए जो दिए गए शब्दों के उस सही क्रम को दर्शाता है जैसे कि वे अंग्रेजी शब्दकोश में दिखाई देते हैं?

1. Enthusiasm
2. Enrollment
3. Enterprise
4. Ensure
5. Entangled
6. Entail

Ans 1. 4, 2, 6, 5, 3, 1

2. 2, 4, 6, 5, 3, 1

3. 2, 4, 6, 5, 1, 3

4. 2, 4, 5, 6, 3, 1

Question ID : 264330117382

Status : Answered

Chosen Option : 2

Q.8 उस विकल्प का चयन कीजिए जो दिए गए शब्दों के उस सही क्रम को दर्शाता है जैसे कि वे अंग्रेजी शब्दकोश में दिखाई देते हैं?

1. Emergency
2. Electrician
3. Embassy
4. Elegance
5. Embargo
6. Element

Ans 1. 4, 2, 6, 5, 3, 1

2. 2, 4, 6, 5, 1, 3

3. 2, 4, 5, 6, 3, 1

4. 2, 4, 6, 5, 3, 1

Question ID : 264330117381

Status : Answered

Chosen Option : 4

Q.9 एक निश्चित कूट भाषा में STATION को URCRKMP लिखा जाता है और BRING को DPKLI लिखा जाता है। उसी भाषा में TOYS को किस प्रकार लिखा जाएगा?

Ans 1. BPNU

2. VMAQ

3. UNBP

4. QMAV

Question ID : 264330120697

Status : Answered

Chosen Option : 2

Q.10 उस सही विकल्प का चयन कीजिए, जो निम्नलिखित शब्दों की व्यवस्था को तार्किक और अर्थपूर्ण क्रम में दर्शाता है।

1. उंगली
2. कोहनी
3. कलाई
4. नाखून
5. हथेली

Ans 1. 4, 1, 3, 5, 2

2. 4, 5, 1, 3, 2

3. 4, 1, 5, 3, 2

4. 4, 1, 5, 2, 3

Question ID : 264330129558

Status : Answered

Chosen Option : 3

Q.11 उस विकल्प का चयन करें जो पांचवें पद से उसी प्रकार संबंधित है जिस प्रकार दूसरा पद पहले पद से संबंधित है और चौथा पद तीसरे पद से संबंधित है।

YEN10 : CWN50 :: USD8 : GIX32 :: GDP12 : ?

- Ans
- 1. UWL72
 - 2. UXJ72
 - 3. UXL72
 - 4. TXL72

Question ID : 26433067398

Status : Answered

Chosen Option : 3

Q.12 एक निश्चित कूट भाषा में, 'CAST' को '311920', और 'FEED' को '6554' के रूप में लिखा जाता है। इसी कूट भाषा में 'GLAD' को किस प्रकार से लिखा जाएगा?

- Ans
- 1. 71214
 - 2. 71514
 - 3. 71218
 - 4. 71314

Question ID : 26433069563

Status : Answered

Chosen Option : 1

Q.13 इस प्रश्न में, तीन कथन और उसके बाद दो निष्कर्ष I और II दिए गए हैं। कथनों को सत्य मानते हुए, भले ही वे सामान्यतः ज्ञात तथ्यों से भिन्न प्रतीत होते हों, निर्णय लें कि कौन-सा/से निष्कर्ष तार्किक रूप से कथनों का अनुसरण करता/करते है/हैं।

कथन:

- I. कुछ गेट, रास्ते हैं।
- II. सभी रास्ते, मार्ग हैं।
- III. कोई भी मार्ग, द्वार नहीं है।

निष्कर्ष:

- I. कोई भी द्वार, रास्ता नहीं है।
- II. कुछ गेट, मार्ग हैं।

- Ans
- 1. केवल निष्कर्ष II अनुसरण करता है
 - 2. न तो निष्कर्ष I और न ही II अनुसरण करता है
 - 3. केवल निष्कर्ष I अनुसरण करता है
 - 4. निष्कर्ष I और II दोनों अनुसरण करते हैं

Question ID : 264330104070

Status : Answered

Chosen Option : 4

Q.14 'Q+R' का अर्थ है कि 'Q, R का पिता है'
'Q-R' का अर्थ है कि 'Q, R की पत्नी है'
'Q×R' का अर्थ है कि 'Q, R का भाई है'
'Q÷R' का अर्थ है कि 'Q, R की पुत्री है'
यदि 'S÷Q+M×P-K' है, तो Q का K से क्या रिश्ता है?

- Ans
- 1. दामाद
 - 2. ससुर
 - 3. पुत्र
 - 4. पिता

Question ID : 264330143371

Status : Answered

Chosen Option : 2

Q.15 निम्नलिखित में से कौन-सी संख्या दी गई श्रेणी में प्रश्न चिह्न (?) को प्रतिस्थापित करेगी?
23, 25, 28, 33, ?, 51, 64

- Ans
- 1. 41
 - 2. 38
 - 3. 39
 - 4. 40

Question ID : 26433056429
Status : Answered
Chosen Option : 4

Q.16 एक निश्चित कोड भाषा में, 'MANAGE' को 'LYMYFC' लिखा जाता है और 'CREATE' को 'BQCYSC' लिखा जाता है। उसी भाषा में 'BUILD' को कैसे लिखा जाएगा?

- Ans
- 1. CKGSA
 - 2. ASGKC
 - 3. GAKSC
 - 4. AKSCG

Question ID : 264330143358
Status : Answered
Chosen Option : 2

Q.17 एक निश्चित कूट भाषा में, 'LASER' को '80' के रूप में लिखा जाता है और 'WHITE' को '70' के रूप में लिखा जाता है। उसी भाषा में 'GLOVES' को कैसे लिखा जाएगा?

- Ans
- 1. 92
 - 2. 88
 - 3. 82
 - 4. 78

Question ID : 26433069611
Status : Answered
Chosen Option : 3

Q.18 उस आकृति का चयन करें जो निम्नलिखित आकृति श्रृंखला में प्रश्न चिह्न (?) को प्रतिस्थापित करेगी।



Ans

- 1.
- 2.
- 3.
- 4.

Question ID : 26433057009

Status : Answered

Chosen Option : 2

Q.19 एक निश्चित कूट भाषा में, 'DEFECT' को '2747118' लिखा जाता है, 'DEVICE' को '27201117' लिखा जाता है, उसी कूट भाषा में 'DOMAIN' को कैसे लिखा जाएगा?

- Ans
- 1. 217111912
 - 2. 217113112
 - 3. 217113119
 - 4. 417111912

Question ID : 264330143379

Status : Answered

Chosen Option : 2

Q.20 इस प्रश्न में तीन कथन और उसके बाद दो निष्कर्ष I और II दिए गए हैं। कथनों को सत्य मानते हुए, भले ही वे सर्वज्ञात तथ्यों से भिन्न प्रतीत होते हों, यह निर्णय करें कि कौन सा/से निष्कर्ष कथनों का तार्किक रूप से अनुसरण करता/करते है/हैं।

कथन:

कुछ नाशपाती आम हैं।
सभी आम अंगूर हैं।
सभी नाशपाती फल हैं।

निष्कर्ष:

I. कुछ नाशपाती अंगूर हैं।
II. कुछ आम फल हैं।

- Ans 1. केवल निष्कर्ष I अनुसरण करता है।
 2. निष्कर्ष I और II दोनों अनुसरण करते हैं।
 3. केवल निष्कर्ष II अनुसरण करता है।
 4. न तो निष्कर्ष I और न ही II अनुसरण करता है।

Question ID : 264330143348

Status : Answered

Chosen Option : 2

Q.21 उस विकल्प का चयन कीजिए, जिसका तीसरे अक्षर-समूह से ठीक वही संबंध है, जो संबंध दूसरे अक्षर-समूह का पहले अक्षर-समूह से है।

NOTICE : ONUHDD :: DULCET : ?

- Ans 1. CVKDDU
 2. QSYPRT
 3. ETMBFS
 4. WFOYUH

Question ID : 26433068805

Status : Answered

Chosen Option : 3

Q.22 एक ही पासे की दो अलग-अलग स्थितियों को दर्शाया गया है, जिसके फलकों पर B, C, D, E, F और G अक्षर लिखे हुए हैं।



E वाले फलक के विपरीत फलक पर कौन सा अक्षर है?

- Ans 1. B
 2. D
 3. F
 4. G

Question ID : 264330143438

Status : Answered

Chosen Option : 3

Q.23 दी गई श्रेणी में प्रश्नवाचक चिह्न (?) के स्थान पर विकल्पों में से कौन सी संख्या आएगी?

0.04, 0.12, 0.42, 1.68, 2.08, 10.4, ?

- Ans
- 1. 11.8
 - 2. 12.9
 - 3. 10.9
 - 4. 12.3

Question ID : 264330143335

Status : Not Answered

Chosen Option : --

Q.24 तस्वीर में दिख रहे एक व्यक्ति की ओर इंगित करते हुए प्रीति ने कहा, "वह मेरे पति के ससुर, गोपाल की इकलौती पुत्री का पुत्र है।" तस्वीर में दिख रहा व्यक्ति प्रीति से किस प्रकार संबंधित है?

- Ans
- 1. पिता
 - 2. पुत्र
 - 3. चाचा
 - 4. भाई

Question ID : 26433068449

Status : Answered

Chosen Option : 2

Q.25 उस विकल्प आकृति का चयन करें, जो दी गई आकृति में उसके भाग के रूप में अंतर्निहित है (घुमाव की अनुमति नहीं है)।



Ans

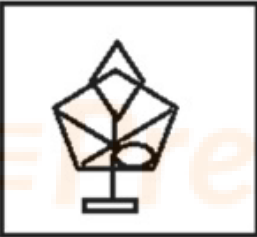
✗ 1.



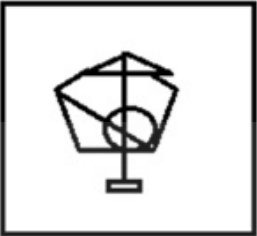
✓ 2.



✗ 3.



✗ 4.



Question ID : 26433078908

Status : Answered

Chosen Option : 2

Section : General Awareness

Q.1 कुटुम्ब न्यायालय (संशोधन) विधेयक, 2022 के संबंध में निम्नलिखित में से कौन से कथन सत्य हैं?

1. कुटुम्ब न्यायालय (संशोधन) विधेयक 18 जुलाई 2022 को लोकसभा में पेश किया गया था।
2. यह विधेयक, कुटुम्ब न्यायालय अधिनियम, 1984 में संशोधन करता है।
3. यह अधिनियम राज्य सरकारों को कुटुम्ब न्यायालय स्थापित करने की अनुमति देता है।
4. यह अधिनियम पंजाब और तमिलनाडु में लागू नहीं है।

Ans ✗ 1. 1, 2 और 4

✗ 2. 1, 3 और 4

✓ 3. 1, 2 और 3

✗ 4. 2, 3 और 4

Question ID : 264330130835

Status : Not Answered

Chosen Option : --

Q.2 हिंदुस्तानी शास्त्रीय गायक भीमसेन जोशी निम्नलिखित में से किस घराने से संबंधित थे?

- Ans
- 1. आगरा घराना
 - 2. रामपुर सहस्रवां घराना
 - 3. ग्वालियर घराना
 - 4. किराना घराना

Question ID : 264330143402

Status : Not Answered

Chosen Option : --

Q.3 मार्च 2021 के अनुसार, निम्नलिखित में से किस राज्य में निर्यात-प्रसंस्करण क्षेत्र नहीं है?

- Ans
- 1. गुजरात
 - 2. तमिलनाडु
 - 3. पश्चिम बंगाल
 - 4. बिहार

Question ID : 26433089220

Status : Answered

Chosen Option : 4

Q.4 1973 में मद्रास संगीत अकादमी द्वारा तंजौर बालासरस्वती को किस नृत्य में योगदान के लिए संगीता कलानिधि की उपाधि से सम्मानित किया गया था?

- Ans
- 1. कथक
 - 2. कथकली
 - 3. भरतनाट्यम
 - 4. मोहिनीअट्टम

Question ID : 264330110267

Status : Answered

Chosen Option : 3

Q.5 2021 में, भारत के सलामी बल्लेबाज रोहित शर्मा _____ के खिलाफ मैच के दौरान T20 अंतरराष्ट्रीय क्रिकेट में 3000 रन पूरे करने वाले तीसरे बल्लेबाज बने।

- Ans
- 1. ऑस्ट्रेलिया
 - 2. पाकिस्तान
 - 3. नामिबिया
 - 4. न्यूजीलैंड

Question ID : 26433072905

Status : Not Answered

Chosen Option : --

Q.6 कोशिका झिल्ली के विषय में सही कथन की पहचान कीजिए।

- Ans
- 1. कोशिका झिल्ली केवल वसा और तंतु से बनी होती है।
 - 2. कोशिका झिल्ली केवल लिपिड से बनी होती है।
 - 3. कोशिका झिल्ली कार्बोहाइड्रेट, लिपिड और प्रोटीन से बनी होती है।
 - 4. कोशिका झिल्ली रफेज से बनी होती है।

Question ID : 26433064757

Status : Answered

Chosen Option : 3

Q.7 जबकि इतिहासकार विजयनगर साम्राज्य शब्द का प्रयोग करते हैं, संमकालीनों ने इसे समराज्यमु के रूप में वर्णित किया है।

- Ans
- 1. केरल
 - 2. आंध्र
 - 3. कर्नाटक
 - 4. तमिल

Question ID : 26433085245
Status : Answered
Chosen Option : 4

Q.8 निम्नलिखित में से किस राज्य ने 1 से 3 नवंबर 2022 तक तीन दिवसीय सिविल एयर नेविगेशन सेवा संगठन (CANSO) सम्मेलन की मेजबानी की थी?

- Ans
- 1. त्रिपुरा
 - 2. महाराष्ट्र
 - 3. मध्य प्रदेश
 - 4. गोवा

Question ID : 264330132602
Status : Not Answered
Chosen Option : --

Q.9 मध्य प्रदेश राज्य में ग्यारहवीं शताब्दी की भोजशाला की संरचना का निर्माण किस राजवंश के संरक्षण में किया गया है?

- Ans
- 1. चंदेल
 - 2. परमार
 - 3. नंद
 - 4. गुर्जर-प्रतिहार

Question ID : 264330132429
Status : Not Answered
Chosen Option : --

Q.10 निम्नलिखित में से कौन-सा धार्मिक त्योहार तेलंगाना में पीरला पांडुगा के नाम से जाना जाता है?

- Ans
- 1. नवरोज़
 - 2. मुहर्रम
 - 3. क्रिसमस
 - 4. ईद-उल-फितर

Question ID : 26433064676
Status : Answered
Chosen Option : 1

Q.11 राष्ट्रपति श्रीमती द्रौपदी मुर्मू ने सितंबर 2022 में किस वर्ष तक भारत से टीबी को खत्म करने के लिए 'प्रधानमंत्री टीबी मुक्त भारत अभियान' का शुभारंभ किया?

- Ans
- 1. 2026 तक
 - 2. 2027 तक
 - 3. 2025 तक
 - 4. 2024 तक

Question ID : 264330130834
Status : Not Answered
Chosen Option : --

Q.12 पैथेरा टाइग्रिस (Panthera Tigris) प्रजाति के लिए विश्व में एकमात्र मैग्रोव आवास कौन-सा है?

- Ans
- 1. मोलाई वन
 - 2. सुंदरवन
 - 3. सारंडा वन
 - 4. अबूझमाड़ वन

Question ID : 26433092206

Status : Answered

Chosen Option : 2

Q.13 निम्नलिखित में से कौन सा विकल्प सतलुज नदी के उद्गम से संबंधित है?

- Ans
- 1. राक्षस ताल
 - 2. मिलाम
 - 3. गौमुख
 - 4. पंचनद

Question ID : 264330109866

Status : Answered

Chosen Option : 1

Q.14 निम्नलिखित में से किस खेल प्रतियोगिता में सैयद मुश्ताक अली ट्रॉफी दी जाती है?

- Ans
- 1. हॉकी
 - 2. फुटबॉल
 - 3. बैडमिंटन
 - 4. क्रिकेट

Question ID : 264330109666

Status : Answered

Chosen Option : 2

Q.15 मद्रास का वेद समाज _____ से प्रेरित था।

- Ans
- 1. देवबंद आंदोलन
 - 2. ब्रह्म समाज
 - 3. वहाबी आंदोलन
 - 4. आर्य समाज

Question ID : 26433085310

Status : Answered

Chosen Option : 2

Q.16 निम्नलिखित में से किसे भारत में आधुनिक नृत्य का जनक माना गया?

- Ans
- 1. पंकज चरण दास
 - 2. राजा रेड्डी
 - 3. कुंचु कुरुप
 - 4. उदय शंकर

Question ID : 26433074078

Status : Answered

Chosen Option : 4

Q.17 निम्नलिखित में से कौन ब्रह्म समाज से संबंधित नहीं है?

- Ans
- 1. राजा राम मोहन राय
 - 2. आत्माराम पांडुरंग
 - 3. केशव चंद्र सेन
 - 4. देबेंद्रनाथ टैगोर

Question ID : 264330130613

Status : Answered

Chosen Option : 4

Q.18 भारतीय संविधान का कौन सा अनुच्छेद लोक सेवा आयोग के सदस्य को हटाने और निलंबन से संबंधित है?

- Ans
- 1. अनुच्छेद 320
 - 2. अनुच्छेद 324
 - 3. अनुच्छेद 315
 - 4. अनुच्छेद 317

Question ID : 264330111534

Status : Not Answered

Chosen Option : --

Q.19 स्तरीकृत रेत और बजरी की एक लंबी, विसर्पी कटक को _____ के रूप में जाना जाता है।

- Ans
- 1. एस्केर
 - 2. वोर्ल
 - 3. लोप
 - 4. आर्क

Question ID : 26433064188

Status : Not Answered

Chosen Option : --

Q.20 वर्ष 2011 की जनगणना के अनुसार किस केंद्र शासित प्रदेश की पुरुष साक्षरता दर सर्वाधिक है?

- Ans
- 1. लक्षद्वीप
 - 2. दिल्ली
 - 3. अण्डमान और निकोबार
 - 4. पुदुचेरी

Question ID : 264330109507

Status : Answered

Chosen Option : 1

Q.21 'फास्टिंग, फ्रीस्टिंग' शीर्षक पुस्तक की लेखिका निम्नलिखित में से कौन हैं?

- Ans
- 1. शशि देशपांडे
 - 2. झुम्पा लाहिड़ी
 - 3. अनीता देसाई
 - 4. अरुंधति रॉय

Question ID : 26433054845

Status : Not Answered

Chosen Option : --

Q.22 स्व-रोजगार सुसाध्य बनाने के लिए, _____ तक का संपार्श्विक मुक्त ऋण प्रदान करने के लिए 2015 में भारत सरकार द्वारा प्रधान मंत्री मुद्रा योजना (PMMY) लागू की गई थी।

- Ans
- 1. ₹20 लाख
 - 2. ₹15 लाख
 - 3. ₹5 लाख
 - 4. ₹10 लाख

Question ID : 264330113301
Status : Not Answered
Chosen Option : --

Q.23 मई 1982 में हुए आम चुनावों में निम्नलिखित में से किस राज्य में पहली बार EVMs का प्रयोग किया गया?

- Ans
- 1. तमिलनाडु
 - 2. महाराष्ट्र
 - 3. आंध्र प्रदेश
 - 4. केरल

Question ID : 264330113423
Status : Answered
Chosen Option : 1

Q.24 गुप्त साम्राज्य के प्रसिद्ध स्रोत प्रयाग प्रशस्ति को _____ के रूप में भी जाना जाता है।

- Ans
- 1. लखनऊ स्तंभ शिलालेख
 - 2. इलाहाबाद स्तंभ शिलालेख
 - 3. अहमदाबाद स्तंभ शिलालेख
 - 4. बिदूर स्तंभ शिलालेख

Question ID : 264330111368
Status : Answered
Chosen Option : 2

Q.25 मेंडेलीव आवर्त सारणी की 150 वीं वर्षगांठ मनाने के लिए यूनेस्को द्वारा किस वर्ष को इंटरनेशनल इयर ऑफ दि पीरियॉडिक टेबल (IYPT) के रूप में नामित किया गया था?

- Ans
- 1. 2020
 - 2. 2019
 - 3. 2017
 - 4. 2018

Question ID : 264330143316
Status : Not Answered
Chosen Option : --

Section : Quantitative Aptitude

Q.1 राम ने दो बैग, प्रत्येक ₹1,260 की दर से बेचे। एक पर उसे 20% का लाभ हुआ और दूसरे पर उसे 20% की हानि हुई। पूरे लेन-देन में उसका लाभ या हानि प्रतिशत ज्ञात करें।

- Ans
- 1. 4% हानि
 - 2. 5% हानि
 - 3. 4% लाभ
 - 4. 5% लाभ

Question ID : 264330130082
Status : Answered
Chosen Option : 1

Q.2 यदि एक घन का आयतन 12167 cm^3 , दिया गया है, तो घन का पृष्ठीय क्षेत्रफल क्या होगा?

- Ans
- 1. 4574 cm^2
 - 2. 3174 cm^2
 - 3. 3475 cm^2
 - 4. 5413 cm^2

Question ID : 26433076090

Status : Answered

Chosen Option : 2

Q.3 यदि $(x^2 + \frac{1}{x^2}) = 18$ और $x > 1$ है, तो $(x^3 - \frac{1}{x^3})$ का मान क्या होगा?

- Ans
- 1. 64
 - 2. 80
 - 3. 52
 - 4. 76

Question ID : 264330101337

Status : Answered

Chosen Option : 4

Q.4 दूध का क्रय मूल्य ₹60 से बढ़ाकर ₹62 कर दिया गया है। दूधवाले ने पहले दूध को 10% लाभ पर बेचा। यदि वह उसी दर पर दूध बेचता है तो अब उसका लाभ % क्या है?

- Ans
- 1. 5.46%
 - 2. 6.45%
 - 3. 6.54%
 - 4. 5.64%

Question ID : 264330102066

Status : Not Answered

Chosen Option : --

Q.5 सोनम ने ₹27,000 में एक मोबाइल फोन खरीदा और उसे 19% की हानि पर बेच दिया। उस पैसे से उसने एक टैबलेट खरीदा और उसे 20% के लाभ पर बेच दिया। उसके कुल लाभ या हानि की गणना करें।

- Ans
- 1. ₹756 की हानि
 - 2. ₹856 की हानि
 - 3. ₹870 का लाभ
 - 4. ₹756 का लाभ

Question ID : 264330126515

Status : Answered

Chosen Option : 1

Q.6 यदि $\sin \theta + \cos \theta = \frac{\sqrt{11}}{3}$ है, तो $\tan \theta + \cot \theta$ निम्न में से किसके बराबर है?

- Ans
- 1. 5
 - 2. 11
 - 3. 9
 - 4. 7

Question ID : 264330126225

Status : Answered

Chosen Option : 3

Q.7 एक कक्षा में 30 विद्यार्थियों का औसत भार 60 kg है। यदि कक्षा के शिक्षक का भार भी शामिल कर लिया जाए, तो औसत में 0.5 kg की वृद्धि हो जाती है। शिक्षक का भार (kg में) ज्ञात कीजिए।

- Ans
- 1. 76.5
 - 2. 74.5
 - 3. 72.5
 - 4. 75.5

Question ID : 264330129389

Status : Answered

Chosen Option : 4

Q.8 प्रस्तुत तालिका का अध्ययन करके निम्नलिखित प्रश्न का उत्तर दीजिए।

राज्य	कोविड-19 के मामले हजार में			
	सितंबर 2021	अक्टूबर 2021	नवंबर 2021	दिसंबर 2021
महाराष्ट्र	50	65	55	50
यूपी	40	48	40	30
बिहार	50	55	48	30
तमिलनाडु	40	45	40	25
केरल	20	25	22	15

इन पांच राज्यों में एक साथ मिलाकर दिसंबर 2021 में कोविड 19 मामलों की कुल संख्या, सितंबर 2021 में कोविड 19 मामलों की कुल संख्या का कितना प्रतिशत है?

- Ans
- 1. 68 प्रतिशत
 - 2. 60 प्रतिशत
 - 3. 70 प्रतिशत
 - 4. 75 प्रतिशत

Question ID : 26433080201

Status : Answered

Chosen Option : 4

Q.9 R और S क्रमशः $\triangle XYZ$ की भुजाओं XY और XZ के मध्य बिंदु हैं। साथ ही, XR = 15 cm, XY = 25 cm, XS = 12 cm और XZ = 20 cm है। RS _____ के बराबर है।

- Ans
- 1. $\frac{3}{4}YZ$
 - 2. $\frac{5}{3}YZ$
 - 3. $\frac{2}{5}YZ$
 - 4. $\frac{3}{5}YZ$

Question ID : 264330130310

Status : Answered

Chosen Option : 4

Q.10 ΔABC में, D और E क्रमशः भुजा AB और AC के मध्य बिंदु हैं। E रेखाखंड DF पर एक ऐसा बिंदु है कि DE: EF = 1 : 2 है। यदि DE = 4 cm है, तो BC इनमें से किसके बराबर है?

- Ans 1. 24 cm
 2. 20 cm
 3. 26 cm
 4. 22 cm

Question ID : 26433083000
 Status : Answered
 Chosen Option : 1

Q.11 निम्न तालिका पिछले 5 वर्ष में क्रिकेटर्स द्वारा बनाए गए शतकों की संख्या दर्शाती है।

क्रिकेटर \ वर्ष	2021	2020	2019	2018	2017
A	1	0	2	1	1
B	1	2	0	0	1
C	0	0	1	1	0
D	0	1	1	0	1
E	1	0	1	0	1

सभी वर्षों में बनाए गए शतकों की कुल संख्या _____ है।

- Ans 1. 16
 2. 17
 3. 14
 4. 15

Question ID : 26433079965
 Status : Answered
 Chosen Option : 2

Q.12 वर्तमान में ऋतिका की आयु विपुल की आयु की 3 गुना है। 7 वर्ष बाद ऋतिका की आयु विपुल की आयु की दोगुनी होगी। ऋतिका की वर्तमान आयु (वर्षों में) ज्ञात करें।

- Ans 1. 42
 2. 21
 3. 35
 4. 53

Question ID : 264330126544
 Status : Answered
 Chosen Option : 2

Q.13 $\frac{32}{\sec^2 \theta} - \frac{20}{1+\tan^2 \theta} + 12 \sin^2 \theta$ का मान ज्ञात कीजिए।

- Ans 1. 12
 2. 32
 3. 24
 4. 20

Question ID : 26433083072
 Status : Answered
 Chosen Option : 1

Q.14 ₹80 प्रति kg की लागत वाले 20 kg चावल को ₹100 प्रति kg की लागत वाले y kg चावल के साथ मिलाया जाता है। यदि इस मिश्रित चावल का मूल्य ₹84 प्रति kg है, तो y का मान क्या है?

- Ans
- 1. 5
 - 2. 6
 - 3. 4
 - 4. 3

Question ID : 264330103239
Status : Answered
Chosen Option : 1

Q.15 11^7+9 को 10 से भाग देने पर शेषफल ज्ञात करें।

- Ans
- 1. 3
 - 2. 0
 - 3. 1
 - 4. 2

Question ID : 264330126498
Status : Answered
Chosen Option : 2

Q.16 एक व्यापारी ने एक मेज पर ₹ 37,062 का मूल्य अंकित किया और उसे 33% की छूट देकर बेच दिया। यदि उसका लाभ 42% था, तो मेज का क्रय मूल्य (₹ में) क्या था?

- Ans
- 1. 16,487
 - 2. 13,487
 - 3. 17,487
 - 4. 15,487

Question ID : 264330103482
Status : Answered
Chosen Option : 3

Q.17 46.5 सप्ताह में, राम ने विज्ञान अनुसंधान के लिए Rs.2,170 जुटाए। वह 30 सप्ताह में कितना धन जुटा लेगा?

- Ans
- 1. Rs.1,700
 - 2. Rs.1,600
 - 3. Rs.1,400
 - 4. Rs.1,500

Question ID : 26433061264
Status : Answered
Chosen Option : 3

Q.18 अनीता और आनंद एक काम क्रमशः 12 दिन और 18 दिन में पूरा कर सकते हैं। उन्होंने उस काम को ₹48,000 में पूरा करने का वादा किया। अरुण की मदद से उन्होंने 6 दिन में काम पूरा किया। अनीता और आनंद के हिस्से का योग (₹ में) ज्ञात करें।

- Ans
- 1. 8000
 - 2. 16000
 - 3. 24000
 - 4. 40000

Question ID : 26433079962
Status : Answered
Chosen Option : 4

Q.19 ₹16,875 की राशि साधारण ब्याज पर उधार दी गई थी, और 1 वर्ष 8 महीने के अंत में, कुल राशि ₹18,000 थी। वार्षिक ब्याज दर ज्ञात कीजिए।

- Ans
- 1. 5%
 - 2. 3.7%
 - 3. 6.66%
 - 4. 4%

Question ID : 26433076190
Status : Answered
Chosen Option : 4

Q.20 यदि $\frac{2x}{x+2} + \frac{1}{2x+4} - \frac{12-x}{2x^2+4x} = a + \frac{b}{x}$, जहां a और b पूर्णांक हैं, तो ab का

मान = _____।

- Ans
- 1. 3
 - 2. 6
 - 3. -6
 - 4. -3

Question ID : 26433061340
Status : Not Answered
Chosen Option : --

Q.21 ₹1 लाख के मूलधन पर 2 वर्ष के लिए 12 प्रतिशत वार्षिक की दर से साधारण ब्याज (₹ में) कितना होगा?

- Ans
- 1. ₹12,000
 - 2. ₹25,000
 - 3. ₹24,000
 - 4. ₹30,000

Question ID : 26433076011
Status : Answered
Chosen Option : 3

Q.22 एक परिवार अपनी कुल आय में से 15% की बचत करता है और शेष राशि तीन प्रकार के व्यय - स्वास्थ्य, शिक्षा और भोजन पर 1 : 2 : 2 के अनुपात में व्यय करता है। आय, शिक्षा पर किए गए व्यय के तीन गुने से 300 रुपये कम है। बचत और स्वास्थ्य पर किए गए व्यय में कितना अंतर है?

- Ans
- 1. Rs.2,250
 - 2. Rs.300
 - 3. Rs.500
 - 4. Rs.350

Question ID : 26433058208
Status : Not Answered
Chosen Option : --

Q.23 एक पिज्जा बनाने के लिए चीज़ और सॉस का अनुपात 1 कप : 1/2 कप है। यदि रमा एक निश्चित संख्या में पिज्जा बनाने के लिए 15 कप सॉस का उपयोग करती है, तो उन पिज्जा के लिए कितने कप चीज़ का उपयोग किया जाएगा?

- Ans
- 1. 40 कप
 - 2. 20 कप
 - 3. 10 कप
 - 4. 30 कप

Question ID : 26433061209
Status : Answered
Chosen Option : 4

Q.24 K का वह न्यूनतम मान ज्ञात करें जिसके लिए 7864K3, 7 से विभाज्य है।

- Ans
- 1. 5
 - 2. 1
 - 3. 4
 - 4. 2

Question ID : 264330130058
Status : Answered
Chosen Option : 3

Q.25 एक परीक्षा में, एक छात्र प्रत्येक सही उत्तर के लिए 4 अंक प्राप्त करता है और प्रत्येक गलत उत्तर के लिए 1 अंक की हानि उठाता है। एक छात्र ने सभी 200 प्रश्नों के उत्तर दिए और 500 अंक प्राप्त किए। उसने कितने प्रश्नों के सही उत्तर दिए थे?

- Ans
- 1. 160
 - 2. 140
 - 3. 180
 - 4. 130

Question ID : 264330123004
Status : Answered
Chosen Option : 2

Section : English Language

Q.1 Select the most appropriate ANTONYM of the given word.

Prudent

- Ans
- 1. Wise
 - 2. Atrocious
 - 3. Crafty
 - 4. Stupid

Question ID : 26433073991
Status : Answered
Chosen Option : 4

Q.2 Select the INCORRECTLY spelt word.

- Ans
- 1. Punctual
 - 2. Publicly
 - 3. Protien
 - 4. Pursuit

Question ID : 26433088414
Status : Answered
Chosen Option : 1

Q.3 Select the most appropriate ANTONYM of the given word.

Hasten

- Ans
- 1. Triumph
 - 2. Dawdle
 - 3. Spooky
 - 4. Present

Question ID : 26433073992
Status : Answered
Chosen Option : 2

Q.4 Select the most appropriate option to fill in the blank.

_____ UK government continually reiterates its commitment to halting the brain drain.

- Ans
- 1. An
 - 2. A
 - 3. The
 - 4. Any

Question ID : 26433066081
Status : Answered
Chosen Option : 2

Q.5 Select the option that expresses the given sentence in reported speech.
The teacher said, "She had started the fight".

- Ans
- 1. The teacher ordered that she had started the fight.
 - 2. The teacher said that she had started the fight.
 - 3. The teacher said that she has started the fight.
 - 4. The teacher complained that she has started the fight.

Question ID : 264330120518
Status : Answered
Chosen Option : 2

Q.6 The following sentence has been split into four segments. Identify the segment that contains a grammatical error.

I caught / a white cat / rustling / beneath my room.

- Ans
- 1. rustling
 - 2. a white cat
 - 3. beneath my room.
 - 4. I caught

Question ID : 26433096145
Status : Answered
Chosen Option : 3

Q.7 Select the most appropriate option that can substitute the underlined segment in the given sentence.
The rebels laid up their arms.

- Ans
- 1. laid by
 - 2. laid on
 - 3. laid down
 - 4. laid out

Question ID : 26433059679
Status : Answered
Chosen Option : 3

Q.8 Select the most appropriate option that can substitute the underlined segment in the given sentence. If there is no need to substitute it, select 'No substitution'.

He was advised for walking alone in the neighbourhood.

- Ans
- 1. advised against
 - 2. advised about
 - 3. advised on
 - 4. No substitution

Question ID : 26433073167
Status : Answered
Chosen Option : 2

Q.9 Select the most appropriate option to substitute the underlined segment in the given sentence.

She has gained a lot of fame but still she is very realistic and sensible.

- Ans
- 1. down to it
 - 2. down to earth
 - 3. down to drown
 - 4. down to bottom

Question ID : 26433089836
Status : Answered
Chosen Option : 2

Q.10 Select the most appropriate synonym for the highlighted word.
The hapless incident was a result of sheer negligence by the authorities.

- Ans
- 1. triumphant
 - 2. ill- fated
 - 3. grateful
 - 4. joyful

Question ID : 264330120722
Status : Answered
Chosen Option : 2

Q.11 Select the most appropriate meaning of the given idiom.

On cloud nine

- Ans
- 1. To be extremely cautious
 - 2. To be extremely sad
 - 3. To be extremely happy
 - 4. To be extremely shaky

Question ID : 26433089390
Status : Answered
Chosen Option : 3

Q.12 Select the option that can be used as a one-word substitute for the underlined group of words in the given sentence.

The war resulted in ruthless killing of many people.

- Ans
- 1. sacrilege
 - 2. carnage
 - 3. fratricide
 - 4. murder

Question ID : 26433073857
Status : Answered
Chosen Option : 1

Q.13 Select the option that expresses the given sentence in reported speech.

"We will have a thorough search before opening the room," the inspector told his subordinates.

- Ans
- 1. The inspector told his subordinates that they would have a thorough search before opening the room.
 - 2. The inspector told his subordinates that they will had a thorough search before opening the room.
 - 3. The inspector told his subordinates that they can have a thorough search before opening the room.
 - 4. The inspector told his subordinates that they would be having a thorough search before opening the room.

Question ID : 26433091960
Status : Answered
Chosen Option : 1

Q.14 Select the option that expresses the given sentence in passive voice.
The storm destroyed the entire village.

- Ans
- 1. The village was being destroyed entirely by the storm.
 - 2. The village was entirely destroyed by the storm.
 - 3. The storm was destroying the entire village.
 - 4. The entire village was destroyed by the storm.

Question ID : 264330133340
Status : Answered
Chosen Option : 4

Q.15 Select the most appropriate option to fill in the blank.

Conditions such as stress, depression and anxiety can all affect mental health and _____ a person's routine.

- Ans
- 1. fragment
 - 2. crush
 - 3. dishevel
 - 4. disrupt

Question ID : 26433060953
Status : Answered
Chosen Option : 4

Comprehension:

In the following passage, some words have been deleted. Read the passage carefully and select the most appropriate option to fill in each blank.

The Publications Division (PD), one of the leading publishing houses in the country and the largest in the public sector, functions (1)_____ the Ministry of Information and Broadcasting. It attempts to promote National Integration by (2)_____ information and creating awareness about the various activities, regions, people and the (3)_____ cultures and beliefs of the Nation. The Division publishes and sells books at affordable prices through its outlets in important cities and also (4)_____ agents. It also participates in exhibitions and books fairs to promote the sale of books and journals. Till date, 7,600 titles (5)_____ published, of which 1,500 are live today. Besides books, the Publication Division has also brought out 21 journals about various issues of national and social significance.

SubQuestion No : 16

Q.16 Select the most appropriate option to fill in blank no. 1.

- Ans
- 1. of
 - 2. on
 - 3. under
 - 4. in

Question ID : 264330132883
Status : Answered
Chosen Option : 3

Comprehension:

In the following passage, some words have been deleted. Read the passage carefully and select the most appropriate option to fill in each blank.

The Publications Division (PD), one of the leading publishing houses in the country and the largest in the public sector, functions (1)_____ the Ministry of Information and Broadcasting. It attempts to promote National Integration by (2)_____ information and creating awareness about the various activities, regions, people and the (3)_____ cultures and beliefs of the Nation. The Division publishes and sells books at affordable prices through its outlets in important cities and also (4)_____ agents. It also participates in exhibitions and books fairs to promote the sale of books and journals. Till date, 7,600 titles (5)_____ published, of which 1,500 are live today. Besides books, the Publication Division has also brought out 21 journals about various issues of national and social significance.

SubQuestion No : 17

Q.17 Select the most appropriate option to fill in blank no. 2.

- Ans
- 1. assembling
 - 2. disseminating
 - 3. concealing
 - 4. pouring

Question ID : 264330132884

Status : Answered

Chosen Option : 1

Comprehension:

In the following passage, some words have been deleted. Read the passage carefully and select the most appropriate option to fill in each blank.

The Publications Division (PD), one of the leading publishing houses in the country and the largest in the public sector, functions (1)_____ the Ministry of Information and Broadcasting. It attempts to promote National Integration by (2)_____ information and creating awareness about the various activities, regions, people and the (3)_____ cultures and beliefs of the Nation. The Division publishes and sells books at affordable prices through its outlets in important cities and also (4)_____ agents. It also participates in exhibitions and books fairs to promote the sale of books and journals. Till date, 7,600 titles (5)_____ published, of which 1,500 are live today. Besides books, the Publication Division has also brought out 21 journals about various issues of national and social significance.

SubQuestion No : 18

Q.18 Select the most appropriate option to fill in blank no. 3.

- Ans
- 1. absolute
 - 2. myriad
 - 3. clear
 - 4. same

Question ID : 264330132885

Status : Answered

Chosen Option : 1

Comprehension:

In the following passage, some words have been deleted. Read the passage carefully and select the most appropriate option to fill in each blank.

The Publications Division (PD), one of the leading publishing houses in the country and the largest in the public sector, functions (1)_____ the Ministry of Information and Broadcasting. It attempts to promote National Integration by (2)_____ information and creating awareness about the various activities, regions, people and the (3)_____ cultures and beliefs of the Nation. The Division publishes and sells books at affordable prices through its outlets in important cities and also (4)_____ agents. It also participates in exhibitions and books fairs to promote the sale of books and journals. Till date, 7,600 titles (5)_____ published, of which 1,500 are live today. Besides books, the Publication Division has also brought out 21 journals about various issues of national and social significance.

SubQuestion No : 19

Q.19 Select the most appropriate option to fill in blank no. 4.

Ans 1. through

2. in

3. as

4. about

Question ID : 264330132886

Status : Answered

Chosen Option : 1

Comprehension:

In the following passage, some words have been deleted. Read the passage carefully and select the most appropriate option to fill in each blank.

The Publications Division (PD), one of the leading publishing houses in the country and the largest in the public sector, functions (1)_____ the Ministry of Information and Broadcasting. It attempts to promote National Integration by (2)_____ information and creating awareness about the various activities, regions, people and the (3)_____ cultures and beliefs of the Nation. The Division publishes and sells books at affordable prices through its outlets in important cities and also (4)_____ agents. It also participates in exhibitions and books fairs to promote the sale of books and journals. Till date, 7,600 titles (5)_____ published, of which 1,500 are live today. Besides books, the Publication Division has also brought out 21 journals about various issues of national and social significance.

SubQuestion No : 20

Q.20 Select the most appropriate option to fill in blank no. 5.

Ans 1. have being

2. have been

3. had being

4. have be

Question ID : 264330132887

Status : Answered

Chosen Option : 2

Comprehension:

Read the given passage and answer the question that follows.

When the dance had finished, Odysseus stood, his voice raised for all to hear. "We are truly honoured by your performance; not everyone can say that they have seen the dancers of Scyros. As tokens of our admiration we have brought gifts for you and your king."

A murmur of excitement. Luxuries did not come often to Scyros; no one here had the money to buy them.

"You are too kind." Lycomedes' face was flushed with genuine pleasure; he had not expected this generosity. The servants brought trunks forth at Odysseus' signal and began unloading them on the long tables. I saw the glitter of silver, the shine of glass and gems. All of us, men and women both, leaned towards them, eager to see.

'Please, take what you like,' Odysseus said. The girls moved swiftly to the tables, and I watched them fingering the bright trinkets: perfumes in delicate glass bottles stoppered with a bit of wax; mirrors with carved ivory for handles; bracelets of twisted gold; ribbons, dyed deep in purples and reds. Among these were a few things I assumed were meant for Lycomedes and his counsellors: leather-bound shields, carved spear hafts, and silvered swords with supple kidskin sheathes. Lycomedes' eyes had caught on one of these, like a fish snagged by a line. Odysseus stood near, presiding benevolently.

Achilles kept to the back, drifting slowly along the table. He paused to dab some perfume on his slender wrists, stroke the smooth handle of a mirror. He lingered a moment over a pair of earrings, blue stones set in silver wire.

A movement at the far end of the hall caught my eye. Diomedes had crossed the chamber and was speaking with one of his servants, who nodded and left through the large double doors. Whatever it was could not be important; Diomedes seemed half-asleep, his eyes heavy-lidded and bored.

I looked back to Achilles. He was holding the earrings up to his ears now, turning them this way and that, pursing his lips, playing at girlishness. It amused him, and the corner of his mouth curved up. His eyes flicked around the hall, catching for a moment on my face. I could not help myself. I smiled.

SubQuestion No : 21

Q.21 Which word in the passage is OPPOSITE in meaning to 'advanced'?

- Ans
- 1. Flushed
 - 2. Snagged
 - 3. Lingered
 - 4. Crossed

Question ID : 264330132869

Status : Answered

Chosen Option : 1

Comprehension:

Read the given passage and answer the question that follows.

When the dance had finished, Odysseus stood, his voice raised for all to hear. "We are truly honoured by your performance; not everyone can say that they have seen the dancers of Scyros. As tokens of our admiration we have brought gifts for you and your king."

A murmur of excitement. Luxuries did not come often to Scyros; no one here had the money to buy them.

"You are too kind." Lycomedes' face was flushed with genuine pleasure; he had not expected this generosity. The servants brought trunks forth at Odysseus' signal and began unloading them on the long tables. I saw the glitter of silver, the shine of glass and gems. All of us, men and women both, leaned towards them, eager to see.

'Please, take what you like,' Odysseus said. The girls moved swiftly to the tables, and I watched them fingering the bright trinkets: perfumes in delicate glass bottles stoppered with a bit of wax; mirrors with carved ivory for handles; bracelets of twisted gold; ribbons, dyed deep in purples and reds. Among these were a few things I assumed were meant for Lycomedes and his counsellors: leather-bound shields, carved spear hafts, and silvered swords with supple kidskin sheathes. Lycomedes' eyes had caught on one of these, like a fish snagged by a line. Odysseus stood near, presiding benevolently.

Achilles kept to the back, drifting slowly along the table. He paused to dab some perfume on his slender wrists, stroke the smooth handle of a mirror. He lingered a moment over a pair of earrings, blue stones set in silver wire.

A movement at the far end of the hall caught my eye. Diomedes had crossed the chamber and was speaking with one of his servants, who nodded and left through the large double doors. Whatever it was could not be important; Diomedes seemed half-asleep, his eyes heavy-lidded and bored.

I looked back to Achilles. He was holding the earrings up to his ears now, turning them this way and that, pursing his lips, playing at girlishness. It amused him, and the corner of his mouth curved up. His eyes flicked around the hall, catching for a moment on my face. I could not help myself. I smiled.

SubQuestion No : 22

Q.22 "He was holding the earrings up to his ears now, turning them this way and that, pursing his lips, playing at girlishness."

What do you infer as the most probable reason for Achilles' behaviour?

- Ans
- 1. Achilles was playing the part of an ideal host.
 - 2. Achilles was in charge of selecting the best accessories for war.
 - 3. Achilles was in a woman's disguise and was playing his part.
 - 4. Achilles was selecting an ideal gift for Lycomedes.

Question ID : 264330132870

Status : Answered

Chosen Option : 3

Comprehension:

Read the given passage and answer the question that follows.

When the dance had finished, Odysseus stood, his voice raised for all to hear. "We are truly honoured by your performance; not everyone can say that they have seen the dancers of Scyros. As tokens of our admiration we have brought gifts for you and your king."

A murmur of excitement. Luxuries did not come often to Scyros; no one here had the money to buy them.

"You are too kind." Lycomedes' face was flushed with genuine pleasure; he had not expected this generosity. The servants brought trunks forth at Odysseus' signal and began unloading them on the long tables. I saw the glitter of silver, the shine of glass and gems. All of us, men and women both, leaned towards them, eager to see.

'Please, take what you like,' Odysseus said. The girls moved swiftly to the tables, and I watched them fingering the bright trinkets: perfumes in delicate glass bottles stoppered with a bit of wax; mirrors with carved ivory for handles; bracelets of twisted gold; ribbons, dyed deep in purples and reds. Among these were a few things I assumed were meant for Lycomedes and his counsellors: leather-bound shields, carved spear hafts, and silvered swords with supple kidskin sheathes. Lycomedes' eyes had caught on one of these, like a fish snagged by a line. Odysseus stood near, presiding benevolently.

Achilles kept to the back, drifting slowly along the table. He paused to dab some perfume on his slender wrists, stroke the smooth handle of a mirror. He lingered a moment over a pair of earrings, blue stones set in silver wire.

A movement at the far end of the hall caught my eye. Diomedes had crossed the chamber and was speaking with one of his servants, who nodded and left through the large double doors. Whatever it was could not be important; Diomedes seemed half-asleep, his eyes heavy-lidded and bored.

I looked back to Achilles. He was holding the earrings up to his ears now, turning them this way and that, pursing his lips, playing at girliness. It amused him, and the corner of his mouth curved up. His eyes flicked around the hall, catching for a moment on my face. I could not help myself. I smiled.

SubQuestion No : 23

Q.23 "Lycomedes' eyes had caught on one of these, like a fish snagged by a line." What can be inferred from this statement?

- Ans**
- 1. Being a warrior, he was attracted to the sword and all the more since he could not afford one like that on his own.
 - 2. He was very cunning and wanted to take the shields and swords in order to fight Odysseus later on.
 - 3. He was attracted to the unique looking sword which looked like a fishing line with a hook.
 - 4. He was a greedy man and wanted to take the best gifts for himself without sharing anything with others.

Question ID : 264330132871

Status : Answered

Chosen Option : 3

Comprehension:

Read the given passage and answer the question that follows.

When the dance had finished, Odysseus stood, his voice raised for all to hear. "We are truly honoured by your performance; not everyone can say that they have seen the dancers of Scyros. As tokens of our admiration we have brought gifts for you and your king."

A murmur of excitement. Luxuries did not come often to Scyros; no one here had the money to buy them.

"You are too kind." Lycomedes' face was flushed with genuine pleasure; he had not expected this generosity. The servants brought trunks forth at Odysseus' signal and began unloading them on the long tables. I saw the glitter of silver, the shine of glass and gems. All of us, men and women both, leaned towards them, eager to see.

'Please, take what you like,' Odysseus said. The girls moved swiftly to the tables, and I watched them fingering the bright trinkets: perfumes in delicate glass bottles stoppered with a bit of wax; mirrors with carved ivory for handles; bracelets of twisted gold; ribbons, dyed deep in purples and reds. Among these were a few things I assumed were meant for Lycomedes and his counsellors: leather-bound shields, carved spear hafts, and silvered swords with supple kidskin sheathes. Lycomedes' eyes had caught on one of these, like a fish snagged by a line. Odysseus stood near, presiding benevolently.

Achilles kept to the back, drifting slowly along the table. He paused to dab some perfume on his slender wrists, stroke the smooth handle of a mirror. He lingered a moment over a pair of earrings, blue stones set in silver wire.

A movement at the far end of the hall caught my eye. Diomedes had crossed the chamber and was speaking with one of his servants, who nodded and left through the large double doors. Whatever it was could not be important; Diomedes seemed half-asleep, his eyes heavy-lidded and bored.

I looked back to Achilles. He was holding the earrings up to his ears now, turning them this way and that, pursing his lips, playing at girlishness. It amused him, and the corner of his mouth curved up. His eyes flicked around the hall, catching for a moment on my face. I could not help myself. I smiled.

SubQuestion No : 24

Q.24 What is the passage based upon?

- Ans
- 1. A palace scene where the king is distributing gifts to the performers who are very poor and cannot afford to buy such gifts on their own.
 - 2. A palace scene where a dance performance is taking place and thereafter, gifts are distributed to the performers and their selecting the trinkets are described.
 - 3. A palace scene where gifts are being distributed after a dance performance and detailed descriptions of the gifts and the way that people are choosing them are presented.
 - 4. A palace scene where the king and his counsellors are deciding to give gifts to the poor people who had just completed their dance performance in front of everyone.

Question ID : 264330132868

Status : Answered

Chosen Option : 4

Prepare 50% Faster

Comprehension:

Read the given passage and answer the question that follows.

When the dance had finished, Odysseus stood, his voice raised for all to hear. "We are truly honoured by your performance; not everyone can say that they have seen the dancers of Scyros. As tokens of our admiration we have brought gifts for you and your king."

A murmur of excitement. Luxuries did not come often to Scyros; no one here had the money to buy them.

"You are too kind." Lycomedes' face was flushed with genuine pleasure; he had not expected this generosity. The servants brought trunks forth at Odysseus' signal and began unloading them on the long tables. I saw the glitter of silver, the shine of glass and gems. All of us, men and women both, leaned towards them, eager to see.

'Please, take what you like,' Odysseus said. The girls moved swiftly to the tables, and I watched them fingering the bright trinkets: perfumes in delicate glass bottles stoppered with a bit of wax; mirrors with carved ivory for handles; bracelets of twisted gold; ribbons, dyed deep in purples and reds. Among these were a few things I assumed were meant for Lycomedes and his counsellors: leather-bound shields, carved spear hafts, and silvered swords with supple kidskin sheathes. Lycomedes' eyes had caught on one of these, like a fish snagged by a line. Odysseus stood near, presiding benevolently.

Achilles kept to the back, drifting slowly along the table. He paused to dab some perfume on his slender wrists, stroke the smooth handle of a mirror. He lingered a moment over a pair of earrings, blue stones set in silver wire.

A movement at the far end of the hall caught my eye. Diomedes had crossed the chamber and was speaking with one of his servants, who nodded and left through the large double doors. Whatever it was could not be important; Diomedes seemed half-asleep, his eyes heavy-lidded and bored.

I looked back to Achilles. He was holding the earrings up to his ears now, turning them this way and that, pursing his lips, playing at girlishness. It amused him, and the corner of his mouth curved up. His eyes flicked around the hall, catching for a moment on my face. I could not help myself. I smiled.

SubQuestion No : 25

Q.25 Why was Odysseus distributing the gifts?

- Ans**
- 1. Because he knew Achilles' fascination for jewellery and wanted to gift him earrings and other ornaments.
 - 2. Because he wanted to take Lycomedes to war and had come to gift him swords and shields.
 - 3. Because he was pleased after witnessing the performance of the dancers of Scyros.
 - 4. Because he was very generous and wanted to help the people of Scyros who could not afford such gifts.

Question ID : 264330132867

Status : Answered

Chosen Option : 4

ixamBee

Prepare 50% Faster

Phase-XI/2023/Selection Posts and Selection Posts/Ladakh/2023

Roll Number	Selection Post
Candidate Name	Selection Post
Venue Name	iON Digital Zone iDZ 2 Sector 62
Exam Date	28/06/2023
Exam Time	9:00 AM - 10:00 AM
Subject	Selection Post Matriculation Level

Section : General Intelligence

Q.1 एक निश्चित कूट भाषा में 'chores are hobbies' को 'tpl esr nil', 'hobbies keep me busy' को 'cha esr lon ane', 'busy with chores' को 'sia ane nil' के रूप में लिखा जाता है। इसी कूट भाषा में शब्द 'with' को किस प्रकार लिखा जाएगा?

- Ans
- 1. sia
 - 2. tpl
 - 3. ane
 - 4. cha

Question ID : 26433056771

Status : Answered

Chosen Option : 1

Q.2 कौन-सा अक्षर-समूह प्रश्न-चिह्न (?) को प्रतिस्थापित करेगा और दी गई श्रृंखला को पूरा करेगा?
UTSR, XWVU, ?, DCBA, GFED

- Ans
- 1. BZYW
 - 2. BZYX
 - 3. AZYX
 - 4. AZWY

Question ID : 264330142915

Status : Answered

Chosen Option : 3

Q.3 उस विकल्प का चयन कीजिए जो दिए गए शब्दों को तार्किक और सार्थक ढंग से सही क्रम व्यवस्था में दर्शाता है।

1. गेहूँ
2. लोई
3. सेंकना
4. पिसना
5. रोटी

- Ans
- 1. 4, 2, 1, 3, 5
 - 2. 1, 4, 2, 3, 5
 - 3. 3, 1, 5, 2, 4
 - 4. 1, 4, 3, 5, 2

Question ID : 264330125998

Status : Answered

Chosen Option : 2

Q.4 उस विकल्प का चयन कीजिए जो तीसरे शब्द से उसी प्रकार संबंधित है जिस प्रकार दूसरा शब्द पहले शब्द से संबंधित है। (शब्दों को अर्थपूर्ण हिंदी शब्दों के रूप में माना जाना चाहिए और शब्द में अक्षरों की संख्या/व्यंजनों/स्वरों की संख्या के आधार पर वे एक-दूसरे से संबंधित नहीं होने चाहिए।)

पलायन : फरार :: विचार : ?

- Ans
- 1. खाली (Empty)
 - 2. धारणा (Notion)
 - 3. कृत्रिम (Artificial)
 - 4. अपव्ययी (Squander)

Question ID : 264330142859

Status : Answered

Chosen Option : 2

Q.5 उस विकल्प का चयन कीजिए जो तीसरे पद से उसी प्रकार संबंधित है जिस प्रकार दूसरा पद पहले पद से संबंधित है और छठा पद पाँचवें पद से संबंधित है।

FEDERAL : LAREDEF :: ECONOMY : ? :: GENERAL : LARENEG

- Ans
- 1. MONEYCO
 - 2. COMONEY
 - 3. YMONOCE
 - 4. OMYNECO

Question ID : 264330142836

Status : Answered

Chosen Option : 3

Q.6 उस विकल्प का चयन करें जो चौथे पद से उसी प्रकार संबंधित है जिस प्रकार पहला पद दूसरे पद से संबंधित है और पाँचवां पद छठे पद से संबंधित है।
22 : 676 :: ? : 361 :: 2 : 36

- Ans
- 1. 15
 - 2. 18
 - 3. 17
 - 4. 13

Question ID : 26433040803

Status : Answered

Chosen Option : 1

Q.7 A - B means 'A is the wife of B';
A + B means 'A is the sister of B' and
A * B means 'A is the father of B'.
If Q - T * Y + M - K, then how is Q related to K?

- Ans
- 1. Grandmother
 - 2. Mother-in-law
 - 3. Mother
 - 4. Sister

Question ID : 26433092469

Status : Answered

Chosen Option : 2

- Q.8 उस विकल्प का चयन कीजिए जो दिए गए शब्दों को तार्किक और सांथक ढंग से सही क्रम व्यवस्था में दर्शाता है।
1. देश
 2. महाद्वीप
 3. शहर
 4. मुहल्ला
 5. राज्य

Ans 1. 1, 2, 3, 5, 4
 2. 2, 1, 5, 3, 4
 3. 3, 2, 1, 5, 4
 4. 1, 2, 5, 3, 4

Question ID : 264330125993
Status : Answered
Chosen Option : 2

- Q.9 'A # B' means 'A is the brother of B'.
'A @ B' means 'A is the daughter of B'.
'A & B' means 'A is the husband of B'.
'A % B' means 'A is the wife of B'.
If S % D # F @ G & H @ J, then how is F related to H?

Ans 1. Son's wife
 2. Daughter's daughter
 3. Mother
 4. Daughter

Question ID : 264330142902
Status : Answered
Chosen Option : 4

- Q.10 Three statements are followed by three conclusions numbered I, II and III. You have to consider these statements to be true, even if they seem to be at variance with commonly known facts. Decide which of the given conclusions logically follow(s) from the given statements.

Statements:
All bottles are plastics.
Some plastics are fibres.
Some fibres are glasses.

Conclusions:
(I) Some fibres are plastics.
(II) All plastics are bottles.
(III) Some glasses are fibres.

Ans 1. Only conclusion II follows
 2. Only conclusion I follows
 3. None of the conclusions follows
 4. Only conclusions I and III follow

Question ID : 264330142973
Status : Answered
Chosen Option : 4

Q.11 जब दर्पण को चित्र के अनुसार 'PQ' पर रखा जाता है तो दिए गए संयोजन का दर्पण में निर्मित सही प्रतिबिंब चयनित कीजिए।

mS5aT7raKr |

- Ans
- 1. m22aT7raKr
 - 2. mS5aT7raKr
 - 3. mS5aT7raKr
 - 4. rKraT7a22m

Question ID : 264330143278

Status : Answered

Chosen Option : 4

Q.12 नीचे दिए गए समीकरण में * चिह्नों को बदलने और समीकरण को संतुलित करने के लिए गणितीय चिह्नों के सही संयोजन का चयन कीजिए।
83*16*4*57*3

- Ans
- 1. -,+,=,+
 - 2. =,+,+,-
 - 3. -,x,=,+
 - 4. -,+, =,-

Question ID : 264330142882

Status : Answered

Chosen Option : 3

Q.13 अक्षरों के उस संयोजन का चयन कीजिए, जिसे दी गई श्रृंखला के रिक्त स्थानों में क्रमानुसार रखने पर, श्रृंखला पूर्ण हो जाएगी।
PB_EP_UF_BU_PBUH

- Ans
- 1. URGH
 - 2. RUPE
 - 3. EPRU
 - 4. UBPG

Question ID : 26433057811

Status : Answered

Chosen Option : 4

Q.14 कौन-सा अक्षर-समूह दी गई श्रृंखला को पूरा करने के लिए प्रश्न-चिह्न (?) को प्रतिस्थापित करेगा?
TUBE, SXEH, ?, QDKN, PGNQ

- Ans
- 1. RAHK
 - 2. RAGD
 - 3. RADG
 - 4. RAKH

Question ID : 26433056232

Status : Answered

Chosen Option : 1

Q.15 उस विकल्प का चयन कीजिए, जो पाँचवें पद से उसी प्रकार संबंधित है, जिस प्रकार दूसरा पद पहले पद से और चौथा पद तीसरे पद से संबंधित है।

FLIGHT : GHIFLT :: PERIOD : IORPED :: GARLIC : ?

- Ans
- 1. LIRGCA
 - 2. RILACG
 - 3. RILAGC
 - 4. LIRGAC

Question ID : 264330142835

Status : Answered

Chosen Option : 4

Q.16 Three statements are given, followed by three conclusions numbered I, II and III.

Assuming the statements to be true, even if they seem to be at variance with commonly known facts, decide which of the conclusions logically follow(s) from the statements.

Statements:

Some diamonds are stones.
Some stones are hard.
All hard are rocks.

Conclusions:

I. Some stones are diamonds.
II. All stones are hard.
III. Some hard are rocks.

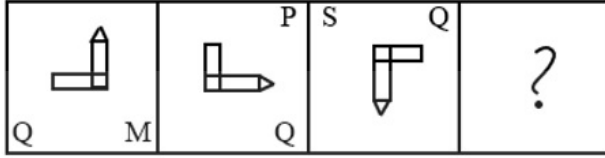
- Ans
- 1. Only conclusions I and III follow
 - 2. Only conclusions II and III follow
 - 3. Only conclusions I and II follow
 - 4. All the conclusions follow

Question ID : 26433092644

Status : Answered

Chosen Option : 1

Q.17 दिए गए विकल्पों में से उस आकृति का चयन कीजिए जो निम्नलिखित श्रृंखला में प्रश्न चिह्न (?) को प्रतिस्थापित कर सकती है।

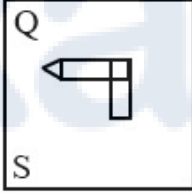


Ans

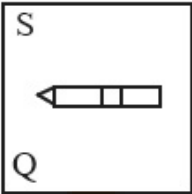
✗ 1.



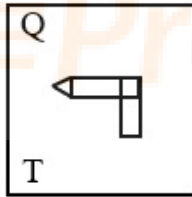
✗ 2.



✗ 3.



✓ 4.



Question ID : 264330143263

Status : Answered

Chosen Option : 4

Q.18 उस विकल्प का चयन कीजिए जो तीसरे शब्द से उसी प्रकार संबंधित है जिस प्रकार दूसरा शब्द पहले शब्द से संबंधित है। (शब्दों को अर्थपूर्ण हिंदी शब्दों के रूप में माना जाना चाहिए और शब्द में अक्षरों की संख्या/व्यंजनो/स्वरों की संख्या के आधार पर वे एक-दूसरे से संबंधित नहीं होने चाहिए।)

शिष्य : कक्षा :: फूल : ?

Ans

✓ 1. गुलदस्ता (Bouquet)

✗ 2. गुलाब (Rose)

✗ 3. बैंड (Band)

✗ 4. समूह (Brood)

Question ID : 264330142861

Status : Answered

Chosen Option : 1

Q.19 निम्नलिखित में से कौन-सी संख्या दी गई श्रेणी में प्रश्न चिह्न (?) को प्रतिस्थापित करेगी?

73, 57, 43, 31, ?, 13

- Ans
- 1. 27
 - 2. 25
 - 3. 21
 - 4. 29

Question ID : 26433056436

Status : Answered

Chosen Option : 3

Q.20 Three Statements are given followed by Three conclusions numbered I, II and III.

Assuming the statements to be true, even if they seem to be at variance with commonly known facts, decide which of the conclusions logically follow(s) from the statements.

Statements:

All keys are windows.
No window is a door.
Some doors are locks.

Conclusions:

I. Some locks are keys.
II. No lock is a window.
III. No door is a key.

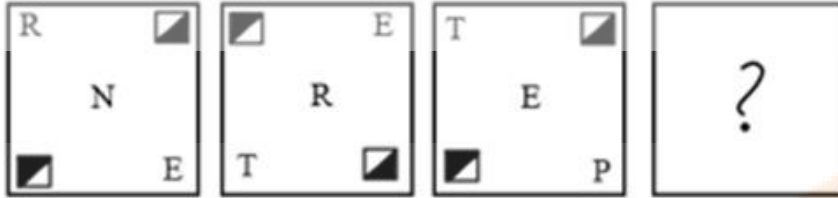
- Ans
- 1. Only conclusion II follows.
 - 2. Both conclusions I and II follow.
 - 3. Only conclusion I follows.
 - 4. Only conclusion III follows.

Question ID : 264330142877

Status : Answered

Chosen Option : 4

Q.21 उस आकृति का चयन कीजिए जो निम्नांकित आकृति श्रृंखला में प्रश्नचिह्न (?) को प्रतिस्थापित करेगी।



Ans

- ✗ 1.
- ✗ 2.
- ✓ 3.
- ✗ 4.

Question ID : 264330143087

Status : Answered

Chosen Option : 3

Q.22 'A # B' means 'A is the daughter B'
 'A @ B' means 'A is the only son of B'.
 'A & B' means 'A is the mother of B'.
 'A % B' means 'A is the father-in-law of B'.
 If P # Q @ R % S & T @ Q, then how is P related to T?

- Ans
- ✗ 1. Father's brother
 - ✓ 2. Sister
 - ✗ 3. Brother
 - ✗ 4. Mother's sister

Question ID : 26433091636

Status : Answered

Chosen Option : 2

Q.23 उस विकल्प का चयन करें जो दिए गए शब्दों के उस सही क्रम को दर्शाता है, जिस क्रम में वे अंग्रेजी शब्दकोश में दिखाई देते हैं।

1. Cope
2. Cosmetic
3. Courage
4. Cough
5. Course
6. Courier

Ans 1. 2, 1, 4, 3, 6, 5
 2. 1, 2, 4, 3, 6, 5
 3. 1, 2, 4, 6, 3, 5
 4. 1, 2, 4, 3, 5, 6

Question ID : 264330142926
Status : Answered
Chosen Option : 2

Q.24 Read the given statements and conclusions carefully. Assuming that the information given in the statements is true, even if it appears to be at variance with commonly known facts, decide which of the given conclusions logically follow(s) from the statements.

Statements:

All pigeons are ants.
Some ants are birds.
All birds are cats.

Conclusions:

- I. Some cats are pigeons.
- II. Some birds are pigeons.
- III. Some cats are ants.

Ans 1. Only conclusion I follows
 2. Only conclusion II follows
 3. Only conclusion III follows
 4. All conclusions follow

Question ID : 26433068546
Status : Answered
Chosen Option : 3

Q.25 उस विकल्प का चयन करें जो चौथे पद से उसी प्रकार संबंधित है जिस प्रकार पहला पद दूसरे पद से संबंधित है और पाँचवां पद छठे पद से संबंधित है।
9 : 126 :: ? : 238 :: 21 : 294

Ans 1. 18
 2. 28
 3. 22
 4. 17

Question ID : 26433040812
Status : Answered
Chosen Option : 4

Section : General Awareness

Prepare 50% Faster

Q.1 सितंबर 2021 में, स्वयं सहायता समूहों (SHGs) से जुड़ी महिलाओं के लिए 'साथ (SAATH)' पहल शुरू की गई थी।

- Ans
- 1. अंडमान व नोकोबार द्वीप समूह
 - 2. जम्मू और कश्मीर
 - 3. केरल
 - 4. तमिलनाडु

Question ID : 26433082809

Status : Not Attempted and Marked For Review

Chosen Option : --

Q.2 जनवरी 2022 में, टी.एस. तिरुमूर्ति निम्नलिखित कारणों से चर्चा में थे:

- Ans
- 1. फीफा प्लेयर ऑफ द ईयर बने
 - 2. उन्होंने संयुक्त राष्ट्र की आतंकवाद-रोधी समिति की अध्यक्षता ग्रहण की
 - 3. वे उत्तरी ध्रुव पर पहुंचने वाले पहले भारतीय बने
 - 4. उन्हें FIIH के अध्यक्ष के रूप में नामित किया गया

Question ID : 26433082814

Status : Not Answered

Chosen Option : --

Q.3 उत्तर भारतीय मंदिर वास्तुकला में कौन-सा तत्व गर्भगृह और स्तंभित मंडपों के ऊपर अधिरचना या मीनार को दर्शाता है?

- Ans
- 1. शिखर
 - 2. कलश
 - 3. अमलाक
 - 4. अंतराल

Question ID : 26433090747

Status : Answered

Chosen Option : 1

Q.4 2021, U-19 एशिया कप क्रिकेट की मेजबानी निम्नलिखित में से किस देश ने की थी?

- Ans
- 1. कतर
 - 2. बांग्लादेश
 - 3. यूएई
 - 4. पाकिस्तान

Question ID : 26433054675

Status : Not Answered

Chosen Option : --

Q.5 कोशिका के उस प्रकार की पहचान करें जो लंबी और शाखित है।

- Ans
- 1. स्तंभाकार उपकला कोशिका
 - 2. लाल रक्त कोशिका
 - 3. तंत्रिका कोशिका
 - 4. श्वेत रक्त कोशिका

Question ID : 264330142696

Status : Answered

Chosen Option : 3

Q.6 निम्नलिखित में से किसने 'फॉरवर्ड ब्लॉक' की स्थापना की थी?

- Ans
- 1. सुरेंद्रनाथ बनर्जी
 - 2. मोतीलाल नेहरू
 - 3. दादाभाई नौरोजी
 - 4. सुभाष चंद्र बोस

Question ID : 26433055015

Status : Answered

Chosen Option : 4

Q.7 मानक जनगणना परिभाषा के अनुसार, निम्नलिखित में से किसे भारत में मुख्य कामगार के रूप में वर्गीकृत किया जा सकता है?

- Ans
- 1. वह व्यक्ति जो कम से कम 160 दिन काम करता है
 - 2. वह व्यक्ति जो कम से कम 200 दिन काम करता है
 - 3. वह व्यक्ति जो कम से कम 183 दिन काम करता है
 - 4. वह व्यक्ति जो कम से कम 100 दिन काम करता है

Question ID : 264330109871

Status : Answered

Chosen Option : 4

Q.8 फरवरी 2022 में पैरा तीरंदाजी विश्व चैंपियनशिप के व्यक्तिगत वर्ग में रजत पदक जीतने वाले/वाली पहले/पहली भारतीय कौन बने/बनी?

- Ans
- 1. ज्योति सुरेखा वेन्नम
 - 2. हरविंदर सिंह
 - 3. राकेश कुमार
 - 4. पूजा जातयान

Question ID : 26433081842

Status : Not Answered

Chosen Option : --

Q.9 प्रमाणित कोयला भंडार (कोयला मंत्रालय, भारत सरकार, 2018 तक की प्राप्त जानकारी के अनुसार) के संदर्भ में निम्नलिखित राज्यों के अवरोही क्रम में सही क्रम _____ है।

- Ans
- 1. झारखंड, ओडिशा, छत्तीसगढ़, पश्चिम बंगाल
 - 2. छत्तीसगढ़, ओडिशा, झारखंड, मध्य प्रदेश
 - 3. ओडिशा, छत्तीसगढ़, मध्य प्रदेश, झारखंड
 - 4. झारखंड, छत्तीसगढ़, ओडिशा, मध्य प्रदेश

Question ID : 26433097094

Status : Not Answered

Chosen Option : --

Q.10 पुष्यमित्र, जो कि अंतिम मौर्य सम्राट बृहद्रथ का सेनापति था, ने राजा को मार डाला और एक नए राजवंश की स्थापना की। निम्नलिखित में से कौन-सा, उसका राजवंश था?

- Ans
- 1. कण्व
 - 2. सातवाहन
 - 3. वेदि
 - 4. शुंग

Question ID : 264330142802

Status : Answered

Chosen Option : 4

Q.11 निम्नलिखित में से कौन-सी आत्मकथा भारतीय महिला कवयित्री कमला दास द्वारा लिखी गई थी, जिन्हें 1984 में साहित्य के नोबेल पुरस्कार के लिए नामांकित किया गया था?

- Ans
- 1. ए लाइफ अपार्ट
 - 2. स्मृतिचित्र: दी मेमॉयर ऑफ़ ए स्पिरिटेड वाइफ
 - 3. माई स्टोरी
 - 4. ए लाइफ लेस आर्डिनरी

Question ID : 264330141403

Status : Not Answered

Chosen Option : --

Q.12 फरवरी 2022 में एंटीगुआ के नॉर्थ साउंड के सर विवियन रिचर्ड्स स्टेडियम में फाइनल में इंग्लैंड को हराकर भारत ने रिकॉर्ड-विस्तार _____ ICC U19 विश्व कप खिताब जीता है।

- Ans
- 1. छठा
 - 2. पाँचवाँ
 - 3. आठवाँ
 - 4. तीसरा

Question ID : 26433054451

Status : Not Answered

Chosen Option : --

Q.13 निम्नलिखित में से कौन सा राष्ट्रीय जलमार्ग तमिलनाडु में स्थित है?

- Ans
- 1. राष्ट्रीय जलमार्ग-98
 - 2. राष्ट्रीय जलमार्ग-93
 - 3. राष्ट्रीय जलमार्ग-97
 - 4. राष्ट्रीय जलमार्ग-99

Question ID : 26433067188

Status : Not Answered

Chosen Option : --

Q.14 त्रिक बिंदु को किस प्रकार परिभाषित किया जा सकता है?

- Ans
- 1. वह तापमान जिस पर ठोस द्रव में परिवर्तित होता है।
 - 2. तापमान और दाब की स्थिति जिसके तहत किसी पदार्थ के गैसीय, द्रव और ठोस चरण साम्यावस्था में मौजूद हो सकते हैं।
 - 3. दाब की स्थिति जिसके तहत किसी पदार्थ के ठोस और द्रव चरण साम्यावस्था में मौजूद हो सकते हैं।
 - 4. तापमान की स्थिति जिसके तहत किसी पदार्थ के गैसीय और द्रव चरण साम्यावस्था में मौजूद हो सकते हैं।

Question ID : 26433054913

Status : Not Answered

Chosen Option : --

Q.15 एक ऐसे शैवाल की पहचान कीजिए, जो युग्मकों के असमयुग्मकी संलयन से गुजरता है।

- Ans
- 1. वॉलवॉक्स
 - 2. यूलोथ्रिक्स
 - 3. यूडोरिना
 - 4. स्पाइरोगाइरा

Question ID : 26433064745

Status : Not Answered

Chosen Option : --

Q.16 पूर्वी गोदावरी क्षेत्र में कोया विद्रोह किस वर्ष हुआ था?

- Ans
- 1. 1887-1888
 - 2. 1882-1883
 - 3. 1874-1875
 - 4. 1879-1880

Question ID : 264330142807

Status : Not Answered

Chosen Option : --

Q.17 महासागरीय परतों के संबंध में असंगत विकल्प की पहचान करें।

- Ans
- 1. महाद्वीपीय शेल्फ
 - 2. महासागरीय ढलान
 - 3. महाद्वीपीय ढलान
 - 4. महासागरीय डीप

Question ID : 264330142699

Status : Marked For Review

Chosen Option : 3

Q.18 फाजिल्का विरासत महोत्सव, जो कि कला, संस्कृति और भोजन का वार्षिक उत्सव है, निम्नलिखित में किस राज्य में मनाया जाता है?

- Ans
- 1. पंजाब
 - 2. उत्तर प्रदेश
 - 3. हरियाणा
 - 4. महाराष्ट्र

Question ID : 264330141232

Status : Answered

Chosen Option : 1

Q.19 राज्य सभा को अनुशांसा के साथ या उसके बिना धन विधेयक को _____ के भीतर लोकसभा को लौटाना होता है।

- Ans
- 1. 21 दिन
 - 2. 10 दिन
 - 3. 30 दिन
 - 4. 14 दिन

Question ID : 264330112758

Status : Answered

Chosen Option : 4

Q.20 पंपा द्वारा रचित ग्रंथ 'विक्रमार्जुन विजय' निम्नलिखित में से किस भाषा में लिखा गया है?

- Ans
- 1. कन्नड़
 - 2. तमिल
 - 3. तेलुगु
 - 4. संस्कृत

Question ID : 26433081937

Status : Not Answered

Chosen Option : --

Q.21 जाकिर हुसैन _____ वादन के लिए मशहूर है।

- Ans
- 1. तबला
 - 2. सितार
 - 3. संतूर
 - 4. शहनाई

Question ID : 264330141391
Status : Not Answered
Chosen Option : --

Q.22 देवदास स्मृति पंथी नृत्य पुरस्कार किस राज्य से संबंधित है?

- Ans
- 1. झारखंड
 - 2. राजस्थान
 - 3. बिहार
 - 4. छत्तीसगढ़

Question ID : 26433074137
Status : Not Answered
Chosen Option : --

Q.23 भारत सरकार ने जून 2020 में 'गरीब कल्याण रोजगार अभियान' (GKRA) कितने दिनों के लिए शुरू किया था?

- Ans
- 1. 150 दिन
 - 2. 200 दिन
 - 3. 100 दिन
 - 4. 125 दिन

Question ID : 264330113299
Status : Answered
Chosen Option : 3

Q.24 भारत के 50^{वें} मुख्य न्यायमूर्ति (Chief Justice) कौन हैं?

- Ans
- 1. शरद अरविंद बोबडे
 - 2. यू.यू. ललित
 - 3. डी.वाई. चंद्रचूड़
 - 4. एन.वी. रमना

Question ID : 264330113426
Status : Answered
Chosen Option : 3

Q.25 लाई हारोबा नृत्य की सबसे प्रारंभिक ऐसी शैली है, जो _____ के सभी शैली के नृत्य रूपों का आधार है।

- Ans
- 1. उत्तर प्रदेश
 - 2. मणिपुर
 - 3. मध्य प्रदेश
 - 4. पंजाब

Question ID : 264330141226
Status : Answered
Chosen Option : 2

Q.1 12, 15 और 18 से विभाज्य चार अंकों की सबसे बड़ी संख्या _____ है।

- Ans
- 1. 9450
 - 2. 9900
 - 3. 9750
 - 4. 9000

Question ID : 264330142680

Status : Answered

Chosen Option : 2

Q.2 एक वाहन 5 सेकंड में 200 मीटर और फिर 5 सेकंड में 250 मीटर की दूरी तय करता है। इसकी औसत चाल (मीटर/सेकंड में) क्या है?

- Ans
- 1. 50
 - 2. 40
 - 3. 55
 - 4. 45

Question ID : 26433075935

Status : Answered

Chosen Option : 4

Q.3 एक कंपनी में, सोमवार, बुधवार और शुक्रवार को ग्राहक कॉल की कुल संख्या 15,500 हैं और मंगलवार और गुरुवार को कॉल की कुल संख्या 12,500 हैं। शनिवार और रविवार को औसत कॉल संख्या 7,000 हैं। तो बताइए कि एक सप्ताह में प्रति दिन कितनी औसत कॉल होती हैं?

- Ans
- 1. 7500
 - 2. 6500
 - 3. 6000
 - 4. 7000

Question ID : 264330126095

Status : Answered

Chosen Option : 3

Q.4 यदि एक दुकानदार ने अपना एक तिहाई माल 20% की हानि पर बेचा, तो शेष माल को कितने प्रतिशत लाभ पर बेचा जाना चाहिए, ताकि पूरे लेन-देन पर 25% का लाभ हो सके?

- Ans
- 1. 5 प्रतिशत
 - 2. 32.5 प्रतिशत
 - 3. 47.5 प्रतिशत
 - 4. 20 प्रतिशत

Question ID : 26433081564

Status : Answered

Chosen Option : 3

Q.5 एक बेईमान दुकानदार क्रय मूल्य पर अनाज बेचने का दावा करता है, लेकिन वह 1 KG वजन के लिए 935 G वजन का उपयोग करता है। उसका लाभ प्रतिशत ज्ञात कीजिए।

- Ans
- 1. 6.95%
 - 2. 5.96%
 - 3. 6.59%
 - 4. 6.5%

Question ID : 26433090323
Status : Answered
Chosen Option : 1

Q.6 एक गली में 20 कुत्ते और बिल्लियाँ हैं। यदि कुत्तों और बिल्लियों के बीच का अनुपात 3 : 2 है, तो बिल्लियों की संख्या _____ है।

- Ans
- 1. 22
 - 2. 10
 - 3. 8
 - 4. 16

Question ID : 264330142681
Status : Answered
Chosen Option : 3

Q.7 63 km/h की गति से चल रही 150 m लंबी रेलगाड़ी द्वारा उसी दिशा में 45 km/h की गति से चल रही 100 m लंबाई की एक अन्य रेलगाड़ी को पार करने में लिया गया समय ज्ञात कीजिए।

- Ans
- 1. 40 सेकंड
 - 2. 60 सेकंड
 - 3. 50 सेकंड
 - 4. 45 सेकंड

Question ID : 264330142540
Status : Answered
Chosen Option : 3

Q.8 अंकित मूल्य पर 30% और 40% की दो क्रमागत छूट देने के बाद, एक वस्तु को ₹420 में बेचा जाता है। वस्तु का अंकित मूल्य ज्ञात कीजिए।

- Ans
- 1. ₹900
 - 2. ₹1,000
 - 3. ₹800
 - 4. ₹1,100

Question ID : 264330132900
Status : Answered
Chosen Option : 2

Q.9 एक परीक्षा में, प्रैक्टिकल और थ्योरी अंकों का अनुपात 3 : 7 है। यदि प्रैक्टिकल में 80% अंक प्राप्त होते हैं और थ्योरी में 60% अंक प्राप्त होते हैं, तो थ्योरी और प्रैक्टिकल में प्राप्त अंकों का अनुपात क्या है?

- Ans 1. 7 : 4
 2. 6 : 7
 3. 3 : 7
 4. 5 : 7

Question ID : 26433085453
Status : Answered
Chosen Option : 1

Q.10 एक व्यक्ति 80 km की यात्रा 10 km/h की चाल से और शेष 70 km की दूरी 7 घंटे में तय करता है। पूरी यात्रा की उसकी औसत चाल क्या है?

- Ans 1. 10.5 km/h
 2. 9 km/h
 3. 10 km/h
 4. 9.5 km/h

Question ID : 264330142261
Status : Answered
Chosen Option : 3

Q.11 दो उम्मीदवारों के बीच हुए एक चुनाव में एक उम्मीदवार को कुल वैध मतों के 60% मत प्राप्त हुए। यदि डाले गए मतों की कुल संख्या 8850 थी और 10% मत अवैध थे, तो दूसरे उम्मीदवार को मिले वैध मतों की संख्या ज्ञात करें।

- Ans 1. 3186
 2. 3618
 3. 3816
 4. 3681

Question ID : 26433081555
Status : Answered
Chosen Option : 1

Q.12 एक पुस्तक को 32% की छूट पर बेचा जाता है और नकद भुगतान पर 25% की अतिरिक्त छूट की अनुमति है। यदि रमेश ने Rs.2,550 नकद देकर पुस्तक खरीदी, तो पुस्तक का अंकित मूल्य ज्ञात कीजिए।

- Ans 1. Rs.4,950
 2. Rs.5,050
 3. Rs.5,000
 4. Rs.5,560

Question ID : 26433064981
Status : Answered
Chosen Option : 3

Q.13 मुकेश बादाम को क्रय मूल्य पर बेचता है, लेकिन गलत वजन का उपयोग करके 23% लाभ प्राप्त करता है। 3.075 KG में वह कितने ग्राम बादाम दे रहा है?

- Ans 1. 2500
 2. 2400
 3. 2700
 4. 2600

Question ID : 26433091990
Status : Answered
Chosen Option : 1

Q.14 एक ठोस गोले का पृष्ठीय क्षेत्रफल 616 cm^2 है। इस गोले को दो गोलार्द्धों (अर्द्धगोलों) में काटा जाता है। किसी एक गोलार्द्ध का संपूर्ण पृष्ठीय क्षेत्रफल ज्ञात करें?

- Ans
- 1. 390 cm^2
 - 2. 440 cm^2
 - 3. 452 cm^2
 - 4. 462 cm^2

Question ID : 264330142762

Status : Answered

Chosen Option : 4

Q.15 कौन-सी वार्षिक किश्त, 12% वार्षिक साधारण ब्याज की दर पर तीन वर्षों में देय Rs.35,455 के ऋण को चुकता करेगी? (किश्तों का भुगतान वर्षों के अंत में किया जाएगा) (निकटतम रुपये में पूर्णांकित करें)

- Ans
- 1. Rs.10,552
 - 2. Rs.14,652
 - 3. Rs.12,548
 - 4. Rs.11,804

Question ID : 26433075411

Status : Not Attempted and Marked For Review

Chosen Option : --

Q.16 दो उम्मीदवारों के बीच हुए चुनाव में, 84 मत अवैध घोषित किए गए। जीतने वाला उम्मीदवार को 62% वैध मत प्राप्त होते हैं और वह 96 मतों से जीत जाता है। डाले गए मतों की संख्या ज्ञात कीजिए।

- Ans
- 1. 424
 - 2. 641
 - 3. 484
 - 4. 543

Question ID : 26433080009

Status : Answered

Chosen Option : 3

Q.17 पिछले साल अंकित की लंबाई 160 cm थी। एक वर्ष में, उसकी लंबाई में 8% की वृद्धि हुई। अब उसकी लंबाई कितनी है?

- Ans
- 1. 173 cm
 - 2. 172.8 cm
 - 3. 173.2 cm
 - 4. 172.2 cm

Question ID : 26433063299

Status : Answered

Chosen Option : 2

Q.18 X, Y और Z एक कार्य को क्रमशः 4 दिन, 5 दिन और 7 दिन में पूरा कर सकते हैं। उन्हें कार्य को पूरा करने के लिए ₹415 मिलते हैं। यदि X, Y और Z मिलकर कार्य को पूरा करते हैं, तो X का हिस्सा कितना है?

- Ans
- 1. ₹200
 - 2. ₹275
 - 3. ₹175
 - 4. ₹225

Question ID : 264330142541

Status : Answered

Chosen Option : 3

Q.19 आनंद और भरत की वार्षिक आय 3 : 5 के अनुपात में है और उनका वार्षिक व्यय 1 : 3 के अनुपात में है। यदि उनमें से प्रत्येक व्यक्ति वर्ष के अंत में ₹10,000 की बचत करता है, तो भरत की वार्षिक आय क्या है?

- Ans
- 1. ₹12,000
 - 2. ₹25,000
 - 3. ₹30,000
 - 4. ₹15,000

Question ID : 264330142258
Status : Answered
Chosen Option : 2

Q.20 48, 39 और y का औसत 40 है। y का मान ज्ञात कीजिए।

- Ans
- 1. 33
 - 2. 32
 - 3. 35
 - 4. 31

Question ID : 264330103236
Status : Answered
Chosen Option : 1

Q.21 A किसी कार्य को 12 दिनों में कर सकता है, जबकि B उसी कार्य को 18 दिनों में कर सकता है। यदि वे दोनों मिलकर कार्य करते हैं, तो कार्य समाप्त होने में कितने दिन लगेंगे?

- Ans
- 1. 7
 - 2. 7.2
 - 3. 6.5
 - 4. 6

Question ID : 26433063961
Status : Answered
Chosen Option : 2

Q.22 एक कार खरीदने के लिए, साहिल ने 10% साधारण ब्याज दर पर कुछ राशि उधार ली। उसने कुछ ऋण राशि का भुगतान कर दिया है लेकिन ₹1,81,500 बकाया है, जिसे उसे 3 वर्षों में चुकाना है। वार्षिक किस्त (₹ में) कितनी होगी?

- Ans
- 1. 65,000
 - 2. 55,000
 - 3. 54,500
 - 4. 47,000

Question ID : 264330103335
Status : Answered
Chosen Option : 2

Q.23 किसी समद्विबाहु समकोण त्रिभुज का परिमाप _____ होगा, जिसका क्षेत्रफल 200 cm^2 है।

- Ans
- 1. 78.2 cm
 - 2. 70.6 cm
 - 3. 58.6 cm
 - 4. 68.3 cm

Question ID : 26433082729
Status : Answered
Chosen Option : 4

Q.24 5 वर्षों में, ₹X की राशि पर साधारण ब्याज, मूलधन का $\frac{2}{5}$ है। ब्याज की वार्षिक दर क्या है?

- Ans 1. 8%
 2. 12%
 3. 5%
 4. 10%

Question ID : 264330142675
Status : Answered
Chosen Option : 1

Q.25 एक दिन में 12 घंटे काम करके 90 व्यक्ति एक कार्य को 16 दिनों में पूरा कर सकते हैं। यदि 70 व्यक्ति प्रति दिन 8 घंटे कार्य करते हैं तो 24 दिनों के बाद कितना कार्य शेष रह जाएगा?

- Ans 1. $\frac{2}{9}$
 2. $\frac{3}{8}$
 3. $\frac{7}{9}$
 4. $\frac{5}{8}$

Question ID : 26433073115
Status : Answered
Chosen Option : 1

Section : English Language

Q.1 Select the idiom that gives the most appropriate meaning of the underlined phrase in the following sentence.

Chanda always annoys everyone by praising herself all the time.

- Ans 1. Catching one's eyes
 2. Blowing her own trumpet
 3. Crying over the spilt milk
 4. Facing the music

Question ID : 26433086440
Status : Answered
Chosen Option : 2

Q.2 Select the option that expresses the given sentence in indirect speech.
He said, "I will see you now".

- Ans 1. He said he would see me then.
 2. He said he will see you now.
 3. He said I will see you now.
 4. He said he will see me now.

Question ID : 264330133305
Status : Answered
Chosen Option : 1

Q.3 Select the most appropriate ANTONYM to replace the italicised word.

"Can I *borrow* your cell?" She asked.

- Ans
- 1. hire
 - 2. lend
 - 3. bite
 - 4. rent

Question ID : 26433059651

Status : Answered

Chosen Option : 2

Q.4 Select the option that can be used as a one-word substitute for the given group of words.

Jokes and funny remarks amongst friends.

- Ans
- 1. Saunter
 - 2. Banter
 - 3. Meet
 - 4. Discussion

Question ID : 26433060094

Status : Answered

Chosen Option : 2

Q.5 Select the most appropriate option to fill in the blank.

Time management is essential for a _____ life and career.

- Ans
- 1. failed
 - 2. mere
 - 3. scrupulous
 - 4. successful

Question ID : 26433060790

Status : Answered

Chosen Option : 4

Q.6 Select the most appropriate option to fill in the blank.
Tropical forests have _____ greenery.

- Ans
- 1. thorny
 - 2. exciting
 - 3. withered
 - 4. lush

Question ID : 26433060378

Status : Answered

Chosen Option : 1

Q.7 Select the most appropriate option to fill in the blank.

All desire wealth and some will _____ it.

- Ans
- 1. acquire
 - 2. collude
 - 3. remove
 - 4. aspire

Question ID : 26433059687

Status : Not Attempted and Marked For Review

Chosen Option : --

Q.8 Choose the option that rectifies the incorrectly spelt underlined word.

The Swiss entrepreneure has pulled the plug on any further investment in the firm.

- Ans
- 1. entreperneur
 - 2. entreprenur
 - 3. antepreneure
 - 4. entrepreneur

Question ID : 26433088847

Status : Answered

Chosen Option : 1

Q.9 Select the most appropriate ANTONYM of the given word.

Despair

- Ans
- 1. Distinct
 - 2. Distant
 - 3. Optimism
 - 4. Sorrow

Question ID : 264330135890

Status : Not Answered

Chosen Option : --

Q.10 Select the most appropriate meaning of the given idiom.

Through the grapevine

- Ans
- 1. Through difficulties
 - 2. Succeeded brilliantly
 - 3. Via gossip
 - 4. Extremely ill

Question ID : 264330134217

Status : Not Answered

Chosen Option : --

Q.11 Choose the option that rectifies the grammatical and spelling errors in the given sentence.

The secret to tightrope walking is to grasp the rope between the twos and distribute one's weight evenly on the soles of one's feet.

- Ans
- 1. evenly on the soul of one's feet
 - 2. to grasp the rope between the toes
 - 3. The secrete of tightrope walk is
 - 4. and distribute ones weight

Question ID : 26433088850

Status : Answered

Chosen Option : 2

Q.12 From among the words given in bold, select the INCORRECTLY spelt word in the following sentence.

Women's vulnarability due to the denial of ownership of productive resources has been focused on in the analysis of how progressive laws shaped gender relations.

- Ans
- 1. focused
 - 2. progressive
 - 3. analysis
 - 4. vulnarability

Question ID : 264330143252

Status : Answered

Chosen Option : 4

Q.13 Select the most appropriate meaning of the given idiom.

Get out of hand

- Ans
- 1. Fall from hand
 - 2. Keep control of hand
 - 3. Go out of control
 - 4. Hands should be crossed

Question ID : 26433060411

Status : Answered

Chosen Option : 3

Q.14 Select the option that expresses the given sentence in active voice.

The sweater is knitted by Suman.

- Ans
- 1. Suman have knitting the sweater.
 - 2. Suman knits the sweater.
 - 3. Suman been knit the sweater.
 - 4. Suman be knitted the sweater.

Question ID : 264330132872

Status : Answered

Chosen Option : 2

Q.15 Select the most appropriate meaning of the given idiom.

Throw caution to the wind

- Ans
- 1. To be overly cautious or hesitant
 - 2. To be too strict or rigid in following rules
 - 3. To take a big risk or be reckless
 - 4. To be indecisive or unsure about a decision

Question ID : 264330133361

Status : Answered

Chosen Option : 4

Comprehension:

In the following passage, some words have been deleted. Read the passage carefully and select the most appropriate option to fill in each blank.

Children are the future of any country and a country that does not take care of this (1)_____ resource suffers later. A successful nation is that which makes its youth strong enough to lift this (2)_____ responsibility on their shoulders. (3)_____, this is not the case in our country. Education, which is a necessity, is still a (4)_____ here. Poor people (5)_____ to send their children to school.

SubQuestion No : 16

Q.16 Select the most appropriate option to fill in blank number 1.

- Ans
- 1. worthless
 - 2. valuable
 - 3. valued
 - 4. extravagant

Question ID : 26433073412

Status : Answered

Chosen Option : 1

Comprehension:

In the following passage, some words have been deleted. Read the passage carefully and select the most appropriate option to fill in each blank.

Children are the future of any country and a country that does not take care of this (1)_____ resource suffers later. A successful nation is that which makes its youth strong enough to lift this (2)_____ responsibility on their shoulders. (3)_____, this is not the case in our country. Education, which is a necessity, is still a (4)_____ here. Poor people (5)_____ to send their children to school.

SubQuestion No : 17

Q.17 Select the most appropriate option to fill in blank number 2.

- Ans
- 1. mighty
 - 2. frail
 - 3. impotent
 - 4. bulky

Question ID : 26433073413

Status : Answered

Chosen Option : 3

Prepare 50% Faster

Comprehension:

In the following passage, some words have been deleted. Read the passage carefully and select the most appropriate option to fill in each blank.

Children are the future of any country and a country that does not take care of this (1)_____ resource suffers later. A successful nation is that which makes its youth strong enough to lift this (2)_____ responsibility on their shoulders. (3)_____, this is not the case in our country. Education, which is a necessity, is still a (4)_____ here. Poor people (5)_____ to send their children to school.

SubQuestion No : 18

Q.18 Select the most appropriate option to fill in blank number 3.

- Ans
- 1. Partially
 - 2. Necessarily
 - 3. Certainly
 - 4. Unfortunately

Question ID : 26433073414

Status : Answered

Chosen Option : 3

Comprehension:

In the following passage, some words have been deleted. Read the passage carefully and select the most appropriate option to fill in each blank.

Children are the future of any country and a country that does not take care of this (1)_____ resource suffers later. A successful nation is that which makes its youth strong enough to lift this (2)_____ responsibility on their shoulders. (3)_____, this is not the case in our country. Education, which is a necessity, is still a (4)_____ here. Poor people (5)_____ to send their children to school.

SubQuestion No : 19

Q.19 Select the most appropriate option to fill in blank number 4.

- Ans
- 1. delight
 - 2. theory
 - 3. study
 - 4. luxury

Question ID : 26433073415

Status : Answered

Chosen Option : 1

Comprehension:

In the following passage, some words have been deleted. Read the passage carefully and select the most appropriate option to fill in each blank.

Children are the future of any country and a country that does not take care of this (1)_____ resource suffers later. A successful nation is that which makes its youth strong enough to lift this (2)_____ responsibility on their shoulders. (3)_____, this is not the case in our country. Education, which is a necessity, is still a (4)_____ here. Poor people (5)_____ to send their children to school.

SubQuestion No : 20

Q.20 Select the most appropriate option to fill in blank number 5.

- Ans
- 1. fluctuate
 - 2. agitate
 - 3. hesitate
 - 4. explicate

Question ID : 26433073416

Status : Answered

Chosen Option : 3

Comprehension:

Read the given passage and answer the questions that follows.

Sparrows are little birds that can be found all throughout the world. Sparrows come in a wide variety of varieties. The length of a sparrow ranges from four to six inches. Their wonderful melody is well-liked and appreciated by a large number of people. On the ground, grass, low trees and bushes are all good sites for sparrows to make their homes. They nest in the cracks and crevices of buildings in urban areas. Nests are rarely constructed at great heights. Nests are constructed from twigs, grasses and other plant fibres. Their nests are usually modest, but well-built.

Four to six eggs are laid by female sparrows at a time. Reddish brown blotches appear on the eggs' white shells. Between eleven and fourteen days, they'll hatch. The young are taken care of by both, male and female parents. After hatching, the young are fed insects. Using their big feet, sparrows scrape seeds. Seeds are the primary food source for adult sparrows. Birds like sparrows can be found nearly anywhere there are people. These lovely birds are beloved by a large number of people all around the world.

SubQuestion No : 21

Q.21 How many eggs are laid by female sparrows at a time?

- Ans
- 1. Two to four
 - 2. Six to eight
 - 3. Eight to ten
 - 4. Four to six

Question ID : 264330102442

Status : Answered

Chosen Option : 4

Comprehension:

Read the given passage and answer the questions that follows.

Sparrows are little birds that can be found all throughout the world. Sparrows come in a wide variety of varieties. The length of a sparrow ranges from four to six inches. Their wonderful melody is well-liked and appreciated by a large number of people. On the ground, grass, low trees and bushes are all good sites for sparrows to make their homes. They nest in the cracks and crevices of buildings in urban areas. Nests are rarely constructed at great heights. Nests are constructed from twigs, grasses and other plant fibres. Their nests are usually modest, but well-built.

Four to six eggs are laid by female sparrows at a time. Reddish brown blotches appear on the eggs' white shells. Between eleven and fourteen days, they'll hatch. The young are taken care of by both, male and female parents. After hatching, the young are fed insects. Using their big feet, sparrows scrape seeds. Seeds are the primary food source for adult sparrows. Birds like sparrows can be found nearly anywhere there are people. These lovely birds are beloved by a large number of people all around the world.

SubQuestion No : 22

Q.22 Identify a suitable title for the passage.

- Ans
- 1. How Sparrows Build Nests
 - 2. What Do The Sparrows Eat?
 - 3. The Lives Of Sparrows
 - 4. Song of Sparrows

Question ID : 264330102440

Status : Answered

Chosen Option : 3

Comprehension:

Read the given passage and answer the questions that follows.

Sparrows are little birds that can be found all throughout the world. Sparrows come in a wide variety of varieties. The length of a sparrow ranges from four to six inches. Their wonderful melody is well-liked and appreciated by a large number of people. On the ground, grass, low trees and bushes are all good sites for sparrows to make their homes. They nest in the cracks and crevices of buildings in urban areas. Nests are rarely constructed at great heights. Nests are constructed from twigs, grasses and other plant fibres. Their nests are usually modest, but well-built.

Four to six eggs are laid by female sparrows at a time. Reddish brown blotches appear on the eggs' white shells. Between eleven and fourteen days, they'll hatch. The young are taken care of by both, male and female parents. After hatching, the young are fed insects. Using their big feet, sparrows scrape seeds. Seeds are the primary food source for adult sparrows. Birds like sparrows can be found nearly anywhere there are people. These lovely birds are beloved by a large number of people all around the world.

SubQuestion No : 23

Q.23 Identify the central theme of the passage.

- Ans
- 1. Different shortcomings of sparrows
 - 2. Availability of sparrows
 - 3. Description of sparrows' nest
 - 4. Description of lifestyle of sparrows

Question ID : 264330102441

Status : Answered

Chosen Option : 4

Comprehension:

Read the given passage and answer the questions that follows.

Sparrows are little birds that can be found all throughout the world. Sparrows come in a wide variety of varieties. The length of a sparrow ranges from four to six inches. Their wonderful melody is well-liked and appreciated by a large number of people. On the ground, grass, low trees and bushes are all good sites for sparrows to make their homes. They nest in the cracks and crevices of buildings in urban areas. Nests are rarely constructed at great heights. Nests are constructed from twigs, grasses and other plant fibres. Their nests are usually modest, but well-built.

Four to six eggs are laid by female sparrows at a time. Reddish brown blotches appear on the eggs' white shells. Between eleven and fourteen days, they'll hatch. The young are taken care of by both, male and female parents. After hatching, the young are fed insects. Using their big feet, sparrows scrape seeds. Seeds are the primary food source for adult sparrows. Birds like sparrows can be found nearly anywhere there are people. These lovely birds are beloved by a large number of people all around the world.

SubQuestion No : 24

Q.24 Identify the tone of the passage.

- Ans
- 1. Descriptive
 - 2. Satiric
 - 3. Analytical
 - 4. Humorous

Question ID : 264330102443

Status : Answered

Chosen Option : 3

Prepare 50% Faster

Comprehension:

Read the given passage and answer the questions that follows.

Sparrows are little birds that can be found all throughout the world. Sparrows come in a wide variety of varieties. The length of a sparrow ranges from four to six inches. Their wonderful melody is well-liked and appreciated by a large number of people. On the ground, grass, low trees and bushes are all good sites for sparrows to make their homes. They nest in the cracks and crevices of buildings in urban areas. Nests are rarely constructed at great heights. Nests are constructed from twigs, grasses and other plant fibres. Their nests are usually modest, but well-built.

Four to six eggs are laid by female sparrows at a time. Reddish brown blotches appear on the eggs' white shells. Between eleven and fourteen days, they'll hatch. The young are taken care of by both, male and female parents. After hatching, the young are fed insects. Using their big feet, sparrows scrape seeds. Seeds are the primary food source for adult sparrows. Birds like sparrows can be found nearly anywhere there are people. These lovely birds are beloved by a large number of people all around the world.

SubQuestion No : 25

Q.25 Select the most appropriate **ANTONYM** of the given word.
Melody

- Ans
- 1. Musicality
 - 2. Disharmony
 - 3. Ballad
 - 4. Symphony

Question ID : 264330102444

Status : Not Answered

Chosen Option : --

Prepare 50% Faster

ixamBee

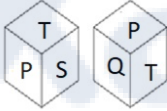
Prepare 50% Faster

Phase-XI/2023/Selection Posts and Selection Posts/Ladakh/2023

Roll Number	Selection Post
Candidate Name	Selection Post
Venue Name	iON Digital Zone iDZ Tatisilwai
Exam Date	28/06/2023
Exam Time	11:45 AM - 12:45 PM
Subject	Selection Post Higher Secondary Level

Section : General Intelligence

Q.1 एक पासे की दो अलग-अलग स्थितियां दर्शाई गई हैं, जिसके 6 फलकों पर P, Q, R, S, T, U में से एक-एक अक्षर अंकित है। उस अक्षर का चयन कीजिए जो 'Q' दर्शाने वाले फलक के विपरीत फलक पर होगा।



- Ans
- 1. R
 - 2. U
 - 3. T
 - 4. S

Question ID : 264330142441

Status : Answered

Chosen Option : 4

Q.2 उस विकल्प का चयन करें जो पांचवें पद से उसी प्रकार संबंधित है जिस प्रकार दूसरा पद पहले पद से संबंधित है और चौथा पद तीसरे पद से संबंधित है।
LOGO : PHPM :: MOCK : LDPN :: DEAR : ?

- Ans
- 1. SBFE
 - 2. SBEF
 - 3. SCFE
 - 4. EFBS

Question ID : 26433067392

Status : Not Answered

Chosen Option : --

Q.3 अक्षरों के उस संयोजन का चयन कीजिए जिसे दी गई श्रृंखला के रिक्त स्थानों में बाएं से दाएं क्रमिक रूप से रखने पर अक्षर श्रृंखला पूरी हो जाएगी।
A _ E _ I A C _ G _ _ _ E G I A C E _ _

- Ans
- 1. CGIEACIG
 - 2. CGEIA CGI
 - 3. CEGIA CIG
 - 4. CGEIA IGC

Question ID : 264330142490

Status : Answered

Chosen Option : 2

Q.4 उस विकल्प का चयन कीजिए जो तीसरे शब्द से उसी प्रकार संबंधित है जिस प्रकार दूसरा शब्द पहले शब्द से संबंधित है।
(शब्दों को अर्थपूर्ण अंग्रेजी/हिन्दी शब्दों के रूप में माना जाना चाहिए और इन्हें शब्द में अक्षरों की संख्या/ व्यंजनों की संख्या/स्वरों की संख्या के आधार पर एक दूसरे से संबद्ध नहीं किया जाना चाहिए।)
पुत्र (Son) : पुत्री (Daughter) :: लोमड़ी (Fox) : ?

- Ans
- 1. डायन (Witch)
 - 2. बछेड़ी (Filly)
 - 3. हिरणी (Doe)
 - 4. विक्सेन (Vixen)

Question ID : 264330142482

Status : Answered

Chosen Option : 4

Q.5 एक निश्चित कूट भाषा में, 'HAPPY' को 'SZKKB' और 'SOUND' को 'HLFMW' के रूप में लिखा जाता है। इसी कूट भाषा में 'SNORE' को किस प्रकार से लिखा जाएगा?

- Ans
- 1. HMLIV
 - 2. MHLIV
 - 3. HMLEV
 - 4. HMLUV

Question ID : 26433068635

Status : Not Answered

Chosen Option : --

Q.6 उस विकल्प का चयन करें जो दिए गए शब्दों के उस सही क्रम को दर्शाता है जिस क्रम में वे अंग्रेजी शब्दकोश में आते हैं।

1. Goodness
2. Gooseberry
3. Goodbye
4. Goodwill
5. Goodies

- Ans
- 1. 1, 2, 3, 4, 5
 - 2. 2, 4, 5, 1, 3
 - 3. 3, 5, 1, 4, 2
 - 4. 4, 1, 5, 2, 3

Question ID : 26433057884

Status : Answered

Chosen Option : 3

Q.7 एक निश्चित कूट भाषा में 'VIOLENT' को '104' के रूप में कूटबद्ध किया जाता है और 'UPDATED' को '78' के रूप में कूटबद्ध किया जाता है। उसी कूट भाषा में 'TOUCHED' को किस प्रकार कूटबद्ध किया जाएगा?

- Ans
- 1. 83
 - 2. 93
 - 3. 26
 - 4. 65

Question ID : 264330118650

Status : Answered

Chosen Option : 1

Q.8 दिए गए कथनों और निष्कर्षों को ध्यानपूर्वक पढ़िए। यह मानते हुए कि कथनों में दी गई जानकारी सत्य है, भले ही वह सामान्य रूप से ज्ञात तथ्यों से भिन्न प्रतीत होती हो, यह तय कीजिए कि दिए गए निष्कर्षों में से कौन-सा/से निष्कर्ष कथनों का तार्किक रूप से अनुसरण करता है/करते हैं।

कथन:

सभी डायनासोर विलुप्त हैं।
कोई भी बाघ विलुप्त नहीं है।
कुछ बाघ सर्वाहारी हैं।

निष्कर्ष:

- I. कुछ सर्वाहारी डायनासोर हैं।
- II. कोई भी बाघ डायनासोर नहीं है।
- III. कुछ बाघ डायनासोर हैं।

- Ans
- 1. केवल निष्कर्ष II और III अनुसरण करते हैं
 - 2. केवल निष्कर्ष I और III अनुसरण करते हैं
 - 3. केवल निष्कर्ष I और II अनुसरण करते हैं
 - 4. केवल निष्कर्ष II अनुसरण करता है

Question ID : 264330142510

Status : Answered

Chosen Option : 2

Q.9 उस विकल्प का चयन कीजिए जो तीसरे पद से उसी प्रकार संबंधित है जिस प्रकार दूसरा पद पहले पद से संबंधित है और छठा पद पाँचवें पद से संबंधित है।
22 : 52 :: 17 : ? :: 42 : 92

- Ans
- 1. 44
 - 2. 42
 - 3. 34
 - 4. 48

Question ID : 264330142400

Status : Answered

Chosen Option : 2

Q.10 'M+O' का अर्थ है कि 'M, O के पिता है'
'M-O' का अर्थ है कि 'M, O की माता है'
'M×O' का अर्थ है कि 'M, O का भाई है'
'M÷O' का अर्थ है कि 'M, O की बहन है'

'W+T+S' का क्या अर्थ है?

- Ans
- 1. W, S की बहन है
 - 2. W, S के पिता के पिता (दादा) है
 - 3. W, S का भाई है
 - 4. W, S के पिता है

Question ID : 264330142501

Status : Answered

Chosen Option : 2

Q.11 एक निश्चित कूट भाषा में, 'SUPER' को '61' और 'COLOR' को '77' के रूप में कूटबद्ध किया जाता है। उसी भाषा में 'CENTER' को किस प्रकार कूटबद्ध किया जाएगा?

- Ans
- 1. 98
 - 2. 103
 - 3. 88
 - 4. 65

Question ID : 264330142483

Status : Answered

Chosen Option : 1

Q.12 उस विकल्प का चयन करें जो तीसरे शब्द से उसी प्रकार संबंधित है जिस प्रकार दूसरा शब्द पहले शब्द से संबंधित है। (शब्दों को अर्थपूर्ण अंग्रेजी/हिन्दी शब्दों के रूप में माना जाना चाहिए और इन्हें शब्द में अक्षरों की संख्या/व्यंजनों की संख्या/स्वरों की संख्या के आधार पर एक दूसरे से संबद्ध नहीं किया जाना चाहिए।)
हंगामा : शांति :: उदासी : ?

- Ans
- 1. आनंद
 - 2. अंधकार
 - 3. छाया
 - 4. अस्पष्टता

Question ID : 264330142462

Status : Answered

Chosen Option : 1

Q.13 अक्षरों के उस संयोजन का चयन कीजिए जिसे दी गई श्रृंखला के रिक्त स्थानों में क्रमिक रूप से रखने पर श्रृंखला पूर्ण हो जाएगी।
BA, DC, _ E, H _ , JI, _ K

- Ans
- 1. GGL
 - 2. FGL
 - 3. GFL
 - 4. LGF

Question ID : 26433078820

Status : Answered

Chosen Option : 2

Q.14 उस सही विकल्प का चयन करें जो निम्नलिखित मानव शरीर अंगों का ऊपर से नीचे की ओर सही क्रम इंगित करता है।

1. कमर
2. गर्दन
3. पैर
4. छाती
5. आंखें

- Ans
- 1. 2, 1, 4, 5, 3
 - 2. 2, 5, 1, 4, 3
 - 3. 5, 2, 4, 1, 3
 - 4. 5, 4, 2, 1, 3

Question ID : 264330129473

Status : Answered

Chosen Option : 2

Q.15 एक निश्चित कूट भाषा में, 'PAWS' को '59' और 'CLAW' को '39' के रूप में लिखा जाता है। इसी कूट भाषा में 'TOES' को किस प्रकार से लिखा जाएगा?

- Ans
- 1. 39
 - 2. 59
 - 3. 29
 - 4. 69

Question ID : 26433068639

Status : Answered

Chosen Option : 3

Q.16 जब दर्पण को MN पर दिखाए गए अनुसार रखा गया है, तो दिए गए संयोजन के सही दर्पण प्रतिबिंब का चयन कीजिए।



- Ans
- 1. E C T s 8 7 5 h
 - 2. h 5 7 8 2 T C E
 - 3. E C T s 7 8 2 h
 - 4. E C T s 8 7 5 h

Question ID : 264330142430

Status : Answered

Chosen Option : 1

Q.17 गणितीय चिह्नों के उस सही संयोजन का चयन कीजिए, जिसे क्रमिक रूप से * चिह्नों के स्थान पर रखने पर दिया गया समीकरण संतुलित हो जाएगा।

$$2 * 16 * 11 * 12 * 4 * 355$$

- Ans
- 1. x, x, +, +, =
 - 2. -, x, +, +, =
 - 3. x, -, +, +, =
 - 4. x, +, +, +, =

Question ID : 26433097197

Status : Answered

Chosen Option : 1

Q.18 'A + B' का अर्थ है, 'A, B का भाई है'
'A - B' का अर्थ है, 'A, B की माता है'
'A × B' का अर्थ है, 'A, B का पति है'
'A ÷ B' का अर्थ है, 'A, B की बहन है'
'A @ B' का अर्थ है, 'A, B का पुत्र है'
यदि P - Q + R @ S + T है, तो P का T से क्या संबंध है?

- Ans
- 1. पुत्र
 - 2. देवर
 - 3. भाभी
 - 4. पति

Question ID : 264330122204

Status : Not Answered

Chosen Option : --

Q.19 एक निश्चित कूट भाषा में 'DISHRAG' को '132' के रूप में कूटबद्ध किया जाता है और 'ENVELOPE' को '188' के रूप में कूटबद्ध किया जाता है। उसी कूट भाषा में 'IMMINENT' को किस प्रकार कूटबद्ध किया जाएगा?

- Ans 1. 194
 2. 139
 3. 107
 4. 167

Question ID : 264330118645
Status : Answered
Chosen Option : 2

Q.20 गणितीय चिह्नों के उस सही संयोजन का चयन कीजिए, जिसे क्रमिक रूप से * चिह्नों के स्थान पर रखने पर दिया गया समीकरण संतुलित हो जाएगा।

$$11 * 4 * 12 * 14 * 7 * 530$$

- Ans 1. ×, ×, +, +, =
 2. +, ×, +, +, =
 3. ×, -, +, +, =
 4. -, ×, +, +, =

Question ID : 26433097195
Status : Answered
Chosen Option : 3

Q.21 उस विकल्प का चयन करें, जो पाँचवें अक्षर-समूह से उसी प्रकार संबंधित है, जिस प्रकार दूसरा अक्षर-समूह पहले अक्षर-समूह से संबंधित है और चौथा अक्षर-समूह तीसरे अक्षर-समूह से संबंधित है।
GROUNDED : UORGDEDN :: SPECIALS : CEPSSLAI :: BOOKENDS : ?

- Ans 1. KOOBSDNE
 2. KOOBDSNE
 3. KOBODSNE
 4. KOBOSDNE

Question ID : 26433056184
Status : Answered
Chosen Option : 3

Q.22 यदि,

'B% D' का अर्थ है 'B, D की बहन है',
'B & D' का अर्थ है 'B, D का पिता है',
'B × D' का अर्थ है 'B, D का पति है',
'B # D' का अर्थ है 'B, D का भाई है',
'B \$ D' का अर्थ है 'B, D की पत्नी है',
'B @ D' का अर्थ है 'B, D की सास है',
तो दिए गए व्यंजक में A का K से क्या संबंध है?
A × B @ C \$ D # E & K

- Ans 1. भाई
 2. दादा
 3. भाई/बहन
 4. चाचा

Question ID : 264330142505
Status : Answered
Chosen Option : 2

Q.23 तीन कथन दिए गए हैं, जिसके बाद तीन निष्कर्ष I, II और III दिए गए हैं। कथनों को सत्य मानते हुए, भले ही वे सामान्य रूप से ज्ञात तथ्यों से भिन्न प्रतीत होते हों, निर्धारित करें कि कौन-सा/से निष्कर्ष कथनों का तार्किक रूप से अनुसरण करता है/करते हैं।

कथन:

कुछ पेज शब्द हैं।

सभी पेज किताबें हैं।

सभी शब्द रजिस्टर हैं।

निष्कर्ष:

I. कुछ किताबें रजिस्टर हैं।

II. कुछ किताबें शब्द हैं।

III. सभी पेज रजिस्टर हैं।

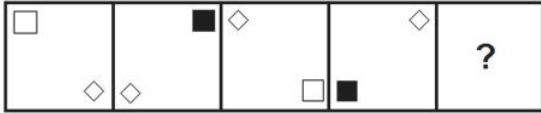
- Ans
- 1. सभी निष्कर्ष अनुसरण करते हैं।
 - 2. केवल निष्कर्ष I और III अनुसरण करते हैं।
 - 3. केवल निष्कर्ष I और II अनुसरण करते हैं।
 - 4. केवल निष्कर्ष II और III अनुसरण करते हैं।

Question ID : 26433095998

Status : Answered


Chosen Option : 1

Q.24 प्रस्तुत विकल्पों में से वह आकृति चुनिए, जो निम्नलिखित श्रृंखला में प्रश्न-चिह्न (?) को प्रतिस्थापित कर सके।

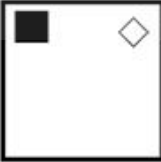


Ans

1.



2.



3.



4.



Question ID : 26433055941

Status : Not Answered

Chosen Option : --

Q.25 उस विकल्प का चयन कीजिए जो उन अक्षरों का निरूपण करते हैं, जिन्हें नीचे दिए गए रिक्त स्थान में क्रमिक रूप से बाएं से दाएं रखे जाने पर अक्षर श्रृंखला पूर्ण हो जाए।
J_K_ON_LKM_N_L_MO_

- Ans
- 1. LMJOJKN
 - 2. LMOJJNK
 - 3. LMJLMJO
 - 4. LMOKNKJ

Question ID : 26433069626
Status : Not Answered
Chosen Option : --

Section : General Awareness

Q.1 दिल्ली और पटना के बीच चलने वाली गर्म, शुष्क विषादग्रस्त हवाओं का नाम बताइए।

- Ans
- 1. काल बैसाखी
 - 2. आम्रवर्षा
 - 3. लू
 - 4. मंजरी वर्षा

Question ID : 264330141931
Status : Answered
Chosen Option : 2

Q.2 निम्नलिखित में से कौन सा पारंपरिक नृत्य मुख्य रूप से नवरात्रि के दौरान किया जाता है?

- Ans
- 1. दुमहल
 - 2. रास लीला
 - 3. गरबा
 - 4. नाटी

Question ID : 264330141615
Status : Answered
Chosen Option : 3

Q.3 निम्नलिखित कथन किस पंचवर्षीय योजना में उद्धृत किया गया था?

"वर्तमान परिस्थितियों में आर्थिक और सामाजिक परिवर्तन की अंतः प्रेरणा का उदय तो निर्धनता और आय, संपत्ति तथा अवसरों की असमानताओं से होता है।"

- Ans
- 1. दूसरी पंचवर्षीय योजना
 - 2. चौथी पंचवर्षीय योजना
 - 3. पहली पंचवर्षीय योजना
 - 4. तीसरी पंचवर्षीय योजना

Question ID : 264330109877
Status : Answered
Chosen Option : 1

Q.4 अंतरराष्ट्रीय क्रिकेट में डकवर्थ-लुईस फॉर्मूला पहली बार कब इस्तेमाल किया गया था?

- Ans
- 1. 1 जनवरी 1996
 - 2. 1 जनवरी 1997
 - 3. 1 जनवरी 1999
 - 4. 1 जनवरी 1998

Question ID : 26433059368
Status : Answered
Chosen Option : 2

Q.5 मौर्यों द्वारा नागार्जुनी गुफाएँ निम्नलिखित में से किस संप्रदाय को दान की गई थीं?

- Ans
- 1. जैन
 - 2. आर्जीविका
 - 3. लोकायत
 - 4. बौद्ध

Question ID : 264330110200
Status : Answered
Chosen Option : 2

Q.6 भारत के निर्वाचन आयोग की स्थापना _____ में हुई थी।

- Ans
- 1. 1950
 - 2. 1953
 - 3. 1952
 - 4. 1951

Question ID : 264330110807
Status : Answered
Chosen Option : 4

Q.7 भजन सोपौरी का नाम किस वाद्य-यंत्र से संबंधित है?

- Ans
- 1. सरोद
 - 2. सितार
 - 3. सुरबहार
 - 4. संतूर

Question ID : 264330141607
Status : Answered
Chosen Option : 2

Q.8 भारत में बेरोजगारी दर की गणना करने की विधि को निम्नलिखित में से कौन-सा सही ढंग से परिभाषित करता है?

- Ans
- 1. जनसंख्या में नियोजित व्यक्तियों का प्रतिशत
 - 2. श्रम बल में व्यक्तियों के बीच बेरोजगार व्यक्तियों का प्रतिशत
 - 3. कुल जनसंख्या में बेरोजगार व्यक्तियों का प्रतिशत
 - 4. श्रम बल में व्यक्तियों का प्रतिशत

Question ID : 264330109518
Status : Answered
Chosen Option : 3

Q.9 1976 के 42वें संशोधन अधिनियम द्वारा भारतीय संविधान में कितने निर्देशक तत्व जोड़े या संशोधित किए गए?

- Ans
- 1. पांच
 - 2. चार
 - 3. दो
 - 4. तीन

Question ID : 264330113403
Status : Answered
Chosen Option : 2

Q.10 प्रसिद्ध नृत्यांगना यामिनी कृष्णमूर्ति ने वर्ष 1990 में _____ में यामिनी स्कूल ऑफ़ डांस खोला।

- Ans
- 1. चेन्नई
 - 2. मुम्बई
 - 3. हैदराबाद
 - 4. दिल्ली

Question ID : 264330110265

Status : Answered

Chosen Option : 1

Q.11 निम्नलिखित में से किस विकल्प के खाद्य पदार्थों का उपयोग प्राकृतिक खाद्य परिरक्षकों के रूप में किया जा सकता है?

- Ans
- 1. अदरक, लहसुन, केला और इमली
 - 2. सिरका, अदरक, सेब और केला
 - 3. लहसुन, सेब, नमक और इमली
 - 4. लहसुन, नींबू, चीनी और सिरका

Question ID : 26433054933

Status : Answered

Chosen Option : 1

Q.12 मार्च 2022 में अपना 435वां टेस्ट विकेट लेकर अनिल कुंबले के बाद टेस्ट में भारत का दूसरा सबसे ज्यादा विकेट लेने वाला गेंदबाज कौन बना?

- Ans
- 1. इशांत शर्मा
 - 2. मोहम्मद शमी
 - 3. युजवेंद्र चहल
 - 4. रविचंद्रन अश्विन

Question ID : 264330122349

Status : Answered

Chosen Option : 3

Q.13 हिंदुस्तान पेट्रोलियम कॉर्पोरेशन लिमिटेड की विशाखापत्तनम-स्थित तेल रिफाइनरी की क्षमता कितनी है?

- Ans
- 1. 8.3 मिलियन मीट्रिक टन प्रति वर्ष
 - 2. 5.5 मिलियन मीट्रिक टन प्रति वर्ष
 - 3. 9.69 मिलियन मीट्रिक टन प्रति वर्ष
 - 4. 6.5 मिलियन मीट्रिक टन प्रति वर्ष

Question ID : 26433089208

Status : Answered

Chosen Option : 2

Q.14 कौन-सा पत्थर लोहे जैसी सभी आधार धातुओं को सोने में बदल सकता है?

- Ans
- 1. पारस पत्थर
 - 2. जेड
 - 3. तांबा पत्थर
 - 4. पन्ना

Question ID : 26433064766

Status : Answered

Chosen Option : 4

Q.15 निम्नलिखित में से किस शासक को दिल्ली में पुराना किला के निर्माण का श्रेय दिया जाता है?

- Ans
- 1. कुतुबुद्दीन और इल्तुतमिश
 - 2. बाबर और अकबर
 - 3. हुमायूँ और शेरशाह
 - 4. शाहजहाँ और जहाँगीर

Question ID : 264330130883

Status : Answered

Chosen Option : 1

Q.16 +2.5 डायोप्टर क्षमता वाले उत्तल लेंस की फोकस दूरी क्या होगी?

- Ans
- 1. 20 cm
 - 2. 5 cm
 - 3. 40 cm
 - 4. 10 cm

Question ID : 264330109883

Status : Answered

Chosen Option : 1

Q.17 निम्नलिखित में से किसने 1930 में दलित वर्ग संघ की स्थापना की थी?

- Ans
- 1. जयप्रकाश नारायण
 - 2. महात्मा गांधी
 - 3. स्वामी सहजानंद सरस्वती
 - 4. डॉ. बी. आर. अम्बेडकर

Question ID : 264330106581

Status : Answered

Chosen Option : 1

Q.18 निम्नलिखित में से कौन-सा उपन्यास सलमान रश्दी ने लिखा है?

- Ans
- 1. ए बेंड इन द रिवर
 - 2. द सैटेनिक वर्सेज
 - 3. इन ए फ्री स्टेट
 - 4. एन एरिया ऑफ डार्कनेस

Question ID : 26433054256

Status : Answered

Chosen Option : 1

Q.19 पूर्व मध्य काल में, _____ पर नियंत्रण पाने के लिए एक प्रसिद्ध त्रिपक्षीय युद्ध लड़ा गया था।

- Ans
- 1. पाटलिपुत्र
 - 2. मान्यखेत
 - 3. कन्नौज
 - 4. मुद्गगिरी

Question ID : 26433085232

Status : Answered

Chosen Option : 4

Q.20 ग्रेगोरियन कैलेंडर के अनुसार वसंत ऋतु किस महीने में आती है?

- Ans
- 1. जुलाई-अगस्त
 - 2. मई-जून
 - 3. मार्च-अप्रैल
 - 4. जनवरी-फरवरी

Question ID : 264330110646

Status : Answered

Chosen Option : 4

Q.21 संविधान (एक सौ सत्ताईसवां संशोधन) विधेयक, 2021, अगस्त 2021 में _____ द्वारा लोकसभा में पेश किया गया था।

- Ans
- 1. ग्रामीण विकास मंत्री
 - 2. अल्पसंख्यक मामलों के मंत्री
 - 3. सामाजिक न्याय एवं अधिकारिता मंत्री
 - 4. जनजातीय मामलों के मंत्री

Question ID : 26433090631

Status : Answered

Chosen Option : 2

Q.22 प्रो कबड्डी लीग सीजन 8 का डिफेंडर ऑफ द सीजन अवार्ड किस कबड्डी खिलाड़ी को मिला?

- Ans
- 1. मोहित गोयत
 - 2. नवीन कुमार
 - 3. मोहम्मदरेज़ा चियानेह शादलोई
 - 4. प्रदीप नरवाल

Question ID : 26433061861

Status : Answered

Chosen Option : 1

Q.23 निम्नलिखित में से कौन-सा भारत में एक संवैधानिक निकाय नहीं है?

- Ans
- 1. राज्य लोक सेवा आयोग
 - 2. भारतीय संघ लोक सेवा आयोग
 - 3. राज्य मानवाधिकार आयोग
 - 4. भारतीय निर्वाचन आयोग

Question ID : 264330120509

Status : Answered

Chosen Option : 1

Q.24 निम्नलिखित में से किसने अपनी पुस्तक 'द पैराडाइज ऑफ फूड' के लिए साहित्य में जेसीबी पुरस्कार 2022 जीता है?

- Ans
- 1. खालिद जावेद
 - 2. ए.एस. पन्निरसेल्वन
 - 3. रामचंद्र गुहा
 - 4. अमिताभ बागची

Question ID : 264330132596

Status : Answered

Chosen Option : 2

Q.25 मुसलमानों द्वारा मनाया जाने वाला कौन-सा त्यौहार बारावफ़ात के नाम से भी जाना जाता है?

- Ans
- 1. ईद-उल-जुहा
 - 2. शब-ए-बारात
 - 3. मुहर्रम
 - 4. मिलाद-उन-नबी

Question ID : 26433054262
Status : Answered
Chosen Option : 2

Section : Quantitative Aptitude

Q.1 संख्या 7@5471 को 9 से पूरी तरह विभाजित करने के लिए '@' का न्यूनतम मान ज्ञात कीजिए।

- Ans
- 1. 4
 - 2. 6
 - 3. 1
 - 4. 3

Question ID : 264330129982
Status : Answered
Chosen Option : 3

Q.2 * का न्यूनतम मान क्या है ताकि संख्या $457643*4$, 18 से विभाज्य हो?

- Ans
- 1. 9
 - 2. 3
 - 3. 4
 - 4. 5

Question ID : 26433092167
Status : Answered
Chosen Option : 1

Q.3 एक डीलर चावल को 15% के लाभ पर बेचता है और वास्तविक वजन से 15% कम वजन का उपयोग करता है। उसका लाभ प्रतिशत ज्ञात कीजिए।

- Ans
- 1. 35.3%
 - 2. 53.3%
 - 3. 37.5%
 - 4. 26%

Question ID : 26433092143
Status : Answered
Chosen Option : 1

Q.4 एक त्रिभुज PQR में, यदि QR = 3 cm, PR = 5 cm और $\sin P = \frac{3}{5}$ है, तो $\angle Q$ निम्न में से किसके बराबर है?

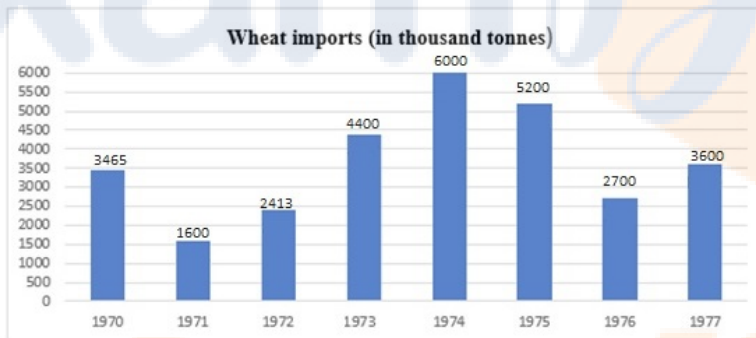
- Ans
- 1. $\frac{\pi}{6}$
 - 2. $\frac{\pi}{3}$
 - 3. $\frac{\pi}{2}$
 - 4. $\frac{\pi}{4}$

Question ID : 26433058419

Status : Not Answered

Chosen Option : --

Q.5 ग्राफ का ध्यानपूर्वक अध्ययन करें।



Wheat imports (in thousand tonnes) = गेहूँ का आयात (हजार टन में)

अपने पूर्ववर्ती वर्ष की तुलना में किस वर्ष आयात में सबसे अधिक वृद्धि दर्ज की गई?

- Ans
- 1. 1972
 - 2. 1974
 - 3. 1975
 - 4. 1973

Question ID : 26433096367

Status : Answered

Chosen Option : 2

Q.6 एक निश्चित दूरी का दो-तिहाई भाग 15 km/h की चाल से, एक-पाँचवाँ भाग 25 km/h की चाल से और शेष भाग 50 km/h की चाल से तय किया जाता है। पूरी यात्रा के लिए औसत चाल (km/h में) ज्ञात करें (दशमलव के बाद दो स्थानों तक पूर्णांकित करें)।

- Ans
- 1. 25.25
 - 2. 20.25
 - 3. 22.65
 - 4. 18.15

Question ID : 264330126505

Status : Answered

Chosen Option : 3

Q.7 यदि $x = 14$, $y = 15$ और $z = 17$ है, तो $x^3 + y^3 + z^3 - 3xyz$ का मान ज्ञात कीजिए।

Ans 1. 322

2. 333

3. 222

4. 312

Question ID : 264330141412

Status : Answered

Chosen Option : 1

Q.8 माया एक कार्य का $\frac{7}{10}$ भाग 15 दिनों में पूरा करती है और फिर शेष कार्य को सुरेश की सहायता से 4 दिनों में पूरा करती है। माया और सुरेश पूरे कार्य को कितने दिनों में पूरा कर सकते हैं?

Ans 1. $\frac{32}{3}$

2. $\frac{40}{3}$

3. $\frac{35}{3}$

4. $\frac{38}{3}$

Question ID : 26433096378

Status : Not Answered

Chosen Option : --

Q.9 एक वस्तु का अंकित मूल्य ₹y प्रति kg दिया गया। क्रमशः 8% और 12.5% की दो क्रमिक छूटों के बाद, खुदरा विक्रेता ने इसे ₹3,059 प्रति kg में खरीदा। y का मान क्या था?

Ans 1. 3750

2. 3800

3. 3900

4. 3840

Question ID : 264330103265

Status : Not Answered

Chosen Option : --

Q.10 एक पुलिसकर्मी, चोर का पीछा करता है, जो उससे 1 km आगे है। चोर और पुलिसकर्मी क्रमशः 8 km/h और 10.5 km/h की चाल से दौड़ते हैं। पुलिसकर्मी द्वारा पकड़े जाने से पहले चोर कितनी दूरी (km में) तय करता है?

Ans 1. 2.5

2. 4.4

3. 3.6

4. 3.2

Question ID : 26433063238

Status : Not Answered

Chosen Option : --

Q.11 यदि $x : y = 2 : 1$ है, तो $(2x + 3y) : (4x + 7y)$ का मान ज्ञात कीजिए।

- Ans
- 1. 3 : 15
 - 2. 3 : 5
 - 3. 7 : 5
 - 4. 7 : 15

Question ID : 264330141380

Status : Not Answered

Chosen Option : --

Q.12 एक दुकानदार अपने माल का अंकित मूल्य, क्रय मूल्य से 50% अधिक रखता है। यदि वह अंकित मूल्य पर 5%, 10% और 20% की क्रमिक छूट देता है, तो उसका लाभ प्रतिशत क्या है?

- Ans
- 1. $1\frac{2}{5}\%$
 - 2. $1\frac{3}{5}\%$
 - 3. $2\frac{1}{5}\%$
 - 4. $2\frac{3}{5}\%$

Question ID : 264330126184

Status : Not Answered

Chosen Option : --

Q.13 q के किस मान के लिए समीकरण-निकाय $38x + qy + 171 = 0$ और $46x + 414y + 207 = 0$ के अनंत हल होंगे?

- Ans
- 1. 345
 - 2. 342
 - 3. 350
 - 4. 380

Question ID : 264330126547

Status : Not Answered

Chosen Option : --

Q.14 10 पुरुष एक कार्य को 12 दिन में, और 10 महिलाएँ उसी कार्य को 6 दिन में पूरा कर सकती हैं। यदि वे एक साथ कार्य करते हों, तो कार्य को पूरा करने में कितने दिन लगेंगे?

- Ans
- 1. 6 दिन
 - 2. 4 दिन
 - 3. 9 दिन
 - 4. 12 दिन

Question ID : 26433091941

Status : Not Answered

Chosen Option : --

Q.15 ₹ 8,000 के लिए 5% वार्षिक ब्याज दर पर $3\frac{1}{2}$ वर्षों का साधारण ब्याज कितना है?

- Ans
- 1. Rs.1,200
 - 2. Rs.1,250
 - 3. Rs.1,350
 - 4. Rs.1,400

Question ID : 26433073088

Status : Not Answered

Chosen Option : --

Q.16 एक व्यापारी नीचे उल्लिखित दो योजनाओं में से किसी एक के तहत वस्तु बेचने की पेशकश करता है:
योजना 1: व्यापारी प्रत्येक इकाई की बिक्री पर 20% और 12.5% की दो क्रमिक छूट प्रदान करने की पेशकश करता है।

योजना 2: व्यापारी खरीदार को 'y इकाइयों के लिए भुगतान करें, z इकाइयों को मुफ्त में प्राप्त करें' के विकल्प की पेशकश करता है।

खरीदार को यह पता चलता है कि अगर उसे (y + z) इकाई खरीदने की जरूरत है, तो इससे कोई फर्क नहीं पड़ता कि वह दोनों में से कौन-सी योजना चुनता है।

निम्नलिखित में से कौन-सा विकल्प (y, z) का सही क्रमित युग्म देता है?

- Ans
- 1. (10, 7)
 - 2. (7, 10)
 - 3. (7, 3)
 - 4. (3, 7)

Question ID : 264330103266

Status : Not Answered

Chosen Option : --

Q.17 यदि $\tan 15\theta = \cot 15\theta$ ($0^\circ < \theta < 10^\circ$) है, तो θ का मान _____ है।

- Ans
- 1. 9°
 - 2. 3°
 - 3. 6°
 - 4. 1°

Question ID : 264330141583

Status : Not Answered

Chosen Option : --

- Q.18 निम्नलिखित तालिका वर्षों में एक कंपनी द्वारा निर्मित कारों की बिक्री दर्शाती है। तालिका में दिए गए डेटा के आधार पर निम्नलिखित प्रश्न का उत्तर दें।
बेची गई विभिन्न प्रकार की कारों की संख्या (हजार में)

वर्ष	प्रकार			
	A	B	C	D
2018	70	80	90	85
2019	50	55	70	75
2020	21	43	78	80
2021	22	40	76	85

सभी चार वर्षों की औसत बिक्री, किस प्रकार की कार के लिए न्यूनतम है?

- Ans 1. C
 2. B
 3. D
 4. A

Question ID : 264330130411
Status : Not Answered
Chosen Option : --

- Q.19 निम्नलिखित संख्याओं का चौथा अनुपात ज्ञात कीजिए।

$$\frac{1}{3} \text{ of } 6, \frac{4}{5} \text{ of } 15, \frac{3}{7} \text{ of } 21.$$

- Ans 1. 54
 2. 56
 3. 50
 4. 52

Question ID : 26433093249
Status : Not Answered
Chosen Option : --

- Q.20 रमन 18 kg चावल ₹35 प्रति kg और 30 kg चावल ₹39 प्रति kg की दर से खरीदता है। कुल चावल का औसत मूल्य (₹ में) प्रति kg ज्ञात कीजिए।

- Ans 1. 37.5
 2. 39
 3. 38.5
 4. 38

Question ID : 264330102321
Status : Not Answered
Chosen Option : --

Q.21 21 cm व्यास वाले एक अर्धगोले का आयतन (cm^3 में) कितना होगा?

($\pi = \frac{22}{7}$ लें)

- Ans
- 1. 1925.5
 - 2. 2255.5
 - 3. 2625.5
 - 4. 2425.5

Question ID : 264330103346

Status : Not Answered

Chosen Option : --

Q.22 $\triangle ABC \approx \triangle LMN$ है और उनके परिमाण क्रमशः 72 cm और 48 cm हैं। यदि $LM = 8$ cm है, तो AB की लंबाई (cm में) ज्ञात करें।

- Ans
- 1. 12
 - 2. 10
 - 3. 8
 - 4. 14

Question ID : 264330126613

Status : Not Answered

Chosen Option : --

Q.23 एक कक्षा में मॉक टेस्ट किया गया। सभी टेस्ट देने वाले छात्रों के अंक निम्नलिखित हैं। उस विषय का औसत अंक क्या है जिसमें सभी छात्रों के औसत अंक सबसे अधिक है?

नाम	अंग्रेजी	हिन्दी	विज्ञान	ललित कला	इतिहास
अर्जुन	115	119	132	140	138
कपिल	118	128	134	135	133
सीमा	130	112	111	118	108

- Ans
- 1. 133.33
 - 2. 129.33
 - 3. 126
 - 4. 131

Question ID : 264330131409

Status : Not Answered

Chosen Option : --

Q.24 एक संग्रहालय में प्रवेश शुल्क में 25% की कमी करने पर, संग्रहालय में आने वाले लोगों की संख्या में 50% की वृद्धि हुई, प्रवेश शुल्क संग्रहण में प्रतिशत वृद्धि या कमी की गणना करें।

- Ans
- 1. 10% वृद्धि
 - 2. 12.5% कमी
 - 3. 12.5% वृद्धि
 - 4. 10% कमी

Question ID : 26433081552

Status : Not Answered

Chosen Option : --

Q.25 धारा की दिशा में जा रही एक नौका की चाल 48 km/h है, जबकि धारा के विपरीत जाने में उसकी चाल 32 km/h है। स्थिर जल में नौका की चाल क्या है?

- Ans
- 1. 80 km/h
 - 2. 40 km/h
 - 3. 30 km/h
 - 4. 20 km/h

Question ID : 264330141222
Status : Not Answered
Chosen Option : --

Section : English Language

Q.1 Select the option that expresses the given sentence in indirect speech.
She asked, "Where do you live?"

- Ans
- 1. She asked me where I had been living.
 - 2. She asked me where I lived.
 - 3. She asked me where I had lived.
 - 4. She told me where I lived.

Question ID : 264330133426
Status : Answered
Chosen Option : 1

Q.2 Select the option that expresses the given sentence in reported speech.
I said, "They never help anybody".

- Ans
- 1. I said them never helped anybody.
 - 2. I said they never help anybody.
 - 3. I said nobody helped them.
 - 4. I said that they never helped anybody.

Question ID : 264330120581
Status : Answered
Chosen Option : 3

Q.3 Select the most appropriate option that can substitute the underlined segment in the given sentence.

The policemen thoroughly examined the room where the theft had happened.

- Ans
- 1. restricted
 - 2. inspected
 - 3. groped
 - 4. scrambled

Question ID : 26433089346
Status : Answered
Chosen Option : 2

Q.4 Select the most appropriate option to fill in the blank.

One is sure _____ what one sees.

- Ans
- 1. around
 - 2. with
 - 3. about
 - 4. without

Question ID : 26433093481

Status : Answered

Chosen Option : 1

Q.5 Select the most appropriate meaning of the given idiom.

Pull yourself together

- Ans
- 1. Work overtime
 - 2. Fight violently
 - 3. Help the needy
 - 4. Calm down

Question ID : 26433089347

Status : Answered

Chosen Option : 1

Q.6 Sentences of a paragraph are given below in jumbled order. Arrange the sentences in the correct order to form a meaningful and coherent paragraph.

- A.I was taking a stroll along the beach, when I came across a heap of plastic waste.
- B.Realising the importance of removing the waste, I joined them
- C.Some children came to clean the beach, seeing the dumped waste.
- D.The adjacent industry had dumped the waste, which was floating, into the water, therefore polluting the sea water.

- Ans
- 1. DCAB
 - 2. BADC
 - 3. ADCB
 - 4. ADBC

Question ID : 26433072377

Status : Answered

Chosen Option : 1

Q.7 Select the most appropriate ANTONYM of the underlined word.

Her collection consists of rare stamps.

- Ans
- 1. Common
 - 2. Disposed
 - 3. Unique
 - 4. Essential

Question ID : 26433073444

Status : Answered

Chosen Option : 1

Q.8 The following sentence has been split into four segments. Identify the segment that contains a grammatical error.
He is as concerned as me / regarding / the renewed / examination schedule.

- Ans
- 1. the renewed
 - 2. examination schedule
 - 3. regarding
 - 4. He is as concerned as me

Question ID : 264330142377
Status : Answered
Chosen Option : 1

Q.9 Select the INCORRECTLY spelt word.

- Ans
- 1. Whether
 - 2. Zodiac
 - 3. Communique
 - 4. Inflammatory

Question ID : 26433088407
Status : Answered
Chosen Option : 1

Q.10 Select the most appropriate option that can substitute the words in the brackets in the given sentence.

Ten years have passed since my father (is dead).

- Ans
- 1. died
 - 2. had died
 - 3. was dead
 - 4. had been dead

Question ID : 26433061028
Status : Answered
Chosen Option : 4

Q.11 Select the most appropriate option that can substitute the underlined segment in the given sentence.

The old man now cherishes only broken memories.

- Ans
- 1. fragmented
 - 2. rectified
 - 3. compact
 - 4. unified

Question ID : 26433089345
Status : Answered
Chosen Option : 2

Q.12 Select the option that expresses the given sentence in active voice.

Ice-cream is liked by her.

- Ans
- 1. She loves ice-cream.
 - 2. She likes ice-cream.
 - 3. She like ice-cream.
 - 4. She like to eat ice-cream.

Question ID : 26433088475

Status : Answered

Chosen Option : 3

Q.13 Select the option that can be used as a one-word substitute for the given group of words.

A building containing interesting, rare, and old objects

- Ans
- 1. Museum
 - 2. Auditorium
 - 3. Stockroom
 - 4. Mansion

Question ID : 26433073905

Status : Answered

Chosen Option : 3

Q.14 Select the INCORRECTLY spelt word.

- Ans
- 1. Unnatural
 - 2. Vengeance
 - 3. Vaccant
 - 4. Unconscious

Question ID : 26433088408

Status : Answered

Chosen Option : 2

Q.15 Select the most appropriate ANTONYM of the given word.
Humble

- Ans
- 1. Compliant
 - 2. Meek
 - 3. Pompous
 - 4. Brilliant

Question ID : 264330135892

Status : Answered

Chosen Option : 2

Prepare 50% Faster

Comprehension:

In the following passage, some words have been deleted. Read the passage carefully and select the most appropriate option to fill in each blank.

A healthy diet is (1) _____ in fibre, whole grains, fresh fruits and vegetables, "good" or unsaturated fats, and omega-3 fatty acids. These dietary components turn down inflammation, which can (2) _____ tissue, joints, artery walls and organs. Going easy on processed foods is another (3) _____ of healthy eating. Sweets, foods made with highly refined grains, and sugar-sweetened beverages can (4) _____ spikes in blood sugar that can lead to early hunger. High blood sugar is (5) _____ the development of diabetes, obesity, heart disease and even dementia.

SubQuestion No : 16

Q.16 Select the most appropriate option to fill in blank number 1.

- Ans
- 1. prosperous
 - 2. easy
 - 3. wealthy
 - 4. rich

Question ID : 26433098983

Status : Answered

Chosen Option : 2

Comprehension:

In the following passage, some words have been deleted. Read the passage carefully and select the most appropriate option to fill in each blank.

A healthy diet is (1) _____ in fibre, whole grains, fresh fruits and vegetables, "good" or unsaturated fats, and omega-3 fatty acids. These dietary components turn down inflammation, which can (2) _____ tissue, joints, artery walls and organs. Going easy on processed foods is another (3) _____ of healthy eating. Sweets, foods made with highly refined grains, and sugar-sweetened beverages can (4) _____ spikes in blood sugar that can lead to early hunger. High blood sugar is (5) _____ the development of diabetes, obesity, heart disease and even dementia.

SubQuestion No : 17

Q.17 Select the most appropriate option to fill in blank number 2.

- Ans
- 1. damage
 - 2. casualty
 - 3. revive
 - 4. resuscitate

Question ID : 26433098984

Status : Answered

Chosen Option : 2

Comprehension:

In the following passage, some words have been deleted. Read the passage carefully and select the most appropriate option to fill in each blank.

A healthy diet is (1) _____ in fibre, whole grains, fresh fruits and vegetables, "good" or unsaturated fats, and omega-3 fatty acids. These dietary components turn down inflammation, which can (2) _____ tissue, joints, artery walls and organs. Going easy on processed foods is another (3) _____ of healthy eating. Sweets, foods made with highly refined grains, and sugar-sweetened beverages can (4) _____ spikes in blood sugar that can lead to early hunger. High blood sugar is (5) _____ the development of diabetes, obesity, heart disease and even dementia.

SubQuestion No : 18

Q.18 Select the most appropriate option to fill in blank number 3.

- Ans
- 1. compartment
 - 2. ground
 - 3. element
 - 4. cause

Question ID : 26433098985

Status : Answered

Chosen Option : 3

Comprehension:

In the following passage, some words have been deleted. Read the passage carefully and select the most appropriate option to fill in each blank.

A healthy diet is (1) _____ in fibre, whole grains, fresh fruits and vegetables, "good" or unsaturated fats, and omega-3 fatty acids. These dietary components turn down inflammation, which can (2) _____ tissue, joints, artery walls and organs. Going easy on processed foods is another (3) _____ of healthy eating. Sweets, foods made with highly refined grains, and sugar-sweetened beverages can (4) _____ spikes in blood sugar that can lead to early hunger. High blood sugar is (5) _____ the development of diabetes, obesity, heart disease and even dementia.

SubQuestion No : 19

Q.19 Select the most appropriate option to fill in blank number 4.

- Ans
- 1. provision
 - 2. cause
 - 3. amend
 - 4. reason

Question ID : 26433098986

Status : Answered

Chosen Option : 4

Comprehension:

In the following passage, some words have been deleted. Read the passage carefully and select the most appropriate option to fill in each blank.

A healthy diet is (1) _____ in fibre, whole grains, fresh fruits and vegetables, "good" or unsaturated fats, and omega-3 fatty acids. These dietary components turn down inflammation, which can (2) _____ tissue, joints, artery walls and organs. Going easy on processed foods is another (3) _____ of healthy eating. Sweets, foods made with highly refined grains, and sugar-sweetened beverages can (4) _____ spikes in blood sugar that can lead to early hunger. High blood sugar is (5) _____ the development of diabetes, obesity, heart disease and even dementia.

SubQuestion No : 20

Q.20 Select the most appropriate option to fill in blank number 5.

- Ans
- 1. made of
 - 2. linked to
 - 3. affiliated to
 - 4. source of

Question ID : 26433098987

Status : Answered

Chosen Option : 4

Prepare 50% Faster

Comprehension:

Read the given passage and answer the questions that follow.

Like we pollute the earth, we pollute the water; we also pollute the subtle environment through our negative feelings and emotions. We have become a victim of our environment. We are not in control of our mind. How to handle our mind? How to be in the present moment? How to be happy and grateful? This we have not learnt. This is the most unfortunate thing. Then what is the solution? This is where we miss a very fundamental principle that governs our environment, our mind, our emotions and our life in general. Our body has the capacity to sustain much longer, the vibration of bliss and peace than it does negative emotions because positivity is in the centre of our existence. Just like in the structure of atom, protons and neutrons are in the centre of the atom and electrons are only the periphery, same is with our lives; the centre core of our existence is bliss, positivity and joy but it is surrounded by a cloud of negative ions. Through the help of the breath we can easily get over our negative emotions in a short period of time.

This life has so much to offer to you. You can see this once you take some time off, rejuvenating the soul. Your soul is hungry for a smile from you.

Everyone wants to be successful in life. But without knowing what is success, you want to be successful. What is the sign of success? Because money gives you freedom so that you can do whatever you want. You may have a big bank balance, but, you have stomach aches, ulcers, you may have to go for the bypass surgery; can't eat this, can't do this, can't do that.

Look at all those who claim to be successful-are they successful? No, they are miserable. Then, what is sign of success? It is confidence, compassion, generosity and a smile that none can snatch away, being really happy and being able to be more free. These are the signs of a successful person.

Take some time off to look a little deep into yourself and calm the mind down. Thus, erasing all the impressions that we are carrying in our minds and experience the presence, the divine that is very core of our existence.

SubQuestion No : 21

Q.21 Select the option that is NOT true, according to the passage.

- Ans
- 1. Human beings are in control of their mind.
 - 2. Life has so much to offer.
 - 3. One should take out time to look deep into oneself.
 - 4. Money gives freedom to do whatever we want to do.

Question ID : 264330121866

Status : Answered

Chosen Option : 4

ixamBee

Prepare 50% Faster

Prepare 50% Faster

Comprehension:

Read the given passage and answer the questions that follow.

Like we pollute the earth, we pollute the water; we also pollute the subtle environment through our negative feelings and emotions. We have become a victim of our environment. We are not in control of our mind. How to handle our mind? How to be in the present moment? How to be happy and grateful? This we have not learnt. This is the most unfortunate thing. Then what is the solution? This is where we miss a very fundamental principle that governs our environment, our mind, our emotions and our life in general. Our body has the capacity to sustain much longer, the vibration of bliss and peace than it does negative emotions because positivity is in the centre of our existence. Just like in the structure of atom, protons and neutrons are in the centre of the atom and electrons are only the periphery, same is with our lives; the centre core of our existence is bliss, positivity and joy but it is surrounded by a cloud of negative ions. Through the help of the breath we can easily get over our negative emotions in a short period of time.

This life has so much to offer to you. You can see this once you take some time off, rejuvenating the soul. Your soul is hungry for a smile from you.

Everyone wants to be successful in life. But without knowing what is success, you want to be successful. What is the sign of success? Because money gives you freedom so that you can do whatever you want. You may have a big bank balance, but, you have stomach aches, ulcers, you may have to go for the bypass surgery; can't eat this, can't do this, can't do that. Look at all those who claim to be successful-are they successful? No, they are miserable.

Then, what is sign of success? It is confidence, compassion, generosity and a smile that none can snatch away, being really happy and being able to be more free. These are the signs of a successful person.

Take some time off to look a little deep into yourself and calm the mind down. Thus, erasing all the impressions that we are carrying in our minds and experience the presence, the divine that is very core of our existence.

SubQuestion No : 22

Q.22 Select the most appropriate option that depicts the central theme of the passage.

- Ans
- 1. Man has polluted life and environment both.
 - 2. Being happy and content are the keys to a successful life.
 - 3. God is the supreme power.
 - 4. Positive and negative emotions are a part of life.

Question ID : 264330121863

Status : Not Answered

Chosen Option : --

ixamBee

Prepare 50% Faster

Comprehension:

Read the given passage and answer the questions that follow.

Like we pollute the earth, we pollute the water; we also pollute the subtle environment through our negative feelings and emotions. We have become a victim of our environment.

We are not in control of our mind. How to handle our mind? How to be in the present moment? How to be happy and grateful? This we have not learnt. This is the most unfortunate thing. Then what is the solution? This is where we miss a very fundamental principle that governs our environment, our mind, our emotions and our life in general.

Our body has the capacity to sustain much longer, the vibration of bliss and peace than it does negative emotions because positivity is in the centre of our existence. Just like in the structure of atom, protons and neutrons are in the centre of the atom and electrons are only the periphery, same is with our lives; the centre core of our existence is bliss, positivity and joy but it is surrounded by a cloud of negative ions. Through the help of the breath we can easily get over our negative emotions in a short period of time.

This life has so much to offer to you. You can see this once you take some time off, rejuvenating the soul. Your soul is hungry for a smile from you.

Everyone wants to be successful in life. But without knowing what is success, you want to be successful. What is the sign of success? Because money gives you freedom so that you can do whatever you want. You may have a big bank balance, but, you have stomach aches, ulcers, you may have to go for the bypass surgery; can't eat this, can't do this, can't do that.

Look at all those who claim to be successful-are they successful? No, they are miserable.

Then, what is sign of success? It is confidence, compassion, generosity and a smile that none can snatch away, being really happy and being able to be more free. These are the signs of a successful person.

Take some time off to look a little deep into yourself and calm the mind down. Thus, erasing all the impressions that we are carrying in our minds and experience the presence, the divine that is very core of our existence.

SubQuestion No : 23

Q.23 Select the most suitable title for the passage.

- Ans 1. Core of Human Existence
 2. How to be Successful?
 3. Environment Pollution
 4. Earth and Environment

Question ID : 264330121862

Status : Answered

Chosen Option : 3

Comprehension:

Read the given passage and answer the questions that follow.

Like we pollute the earth, we pollute the water; we also pollute the subtle environment through our negative feelings and emotions. We have become a victim of our environment. We are not in control of our mind. How to handle our mind? How to be in the present moment? How to be happy and grateful? This we have not learnt. This is the most unfortunate thing. Then what is the solution? This is where we miss a very fundamental principle that governs our environment, our mind, our emotions and our life in general. Our body has the capacity to sustain much longer, the vibration of bliss and peace than it does negative emotions because positivity is in the centre of our existence. Just like in the structure of atom, protons and neutrons are in the centre of the atom and electrons are only the periphery, same is with our lives; the centre core of our existence is bliss, positivity and joy but it is surrounded by a cloud of negative ions. Through the help of the breath we can easily get over our negative emotions in a short period of time.

This life has so much to offer to you. You can see this once you take some time off, rejuvenating the soul. Your soul is hungry for a smile from you.

Everyone wants to be successful in life. But without knowing what is success, you want to be successful. What is the sign of success? Because money gives you freedom so that you can do whatever you want. You may have a big bank balance, but, you have stomach aches, ulcers, you may have to go for the bypass surgery; can't eat this, can't do this, can't do that.

Look at all those who claim to be successful-are they successful? No, they are miserable.

Then, what is sign of success? It is confidence, compassion, generosity and a smile that none can snatch away, being really happy and being able to be more free. These are the signs of a successful person.

Take some time off to look a little deep into yourself and calm the mind down. Thus, erasing all the impressions that we are carrying in our minds and experience the presence, the divine that is very core of our existence.

SubQuestion No : 24

Q.24 Select the most appropriate ANTONYM for 'Periphery'.

- Ans
- 1. Clatter
 - 2. Centre
 - 3. Troops
 - 4. Divine

Question ID : 264330121865

Status : Answered

Chosen Option : 1

Prepare 50% Faster

Comprehension:

Read the given passage and answer the questions that follow.

Like we pollute the earth, we pollute the water; we also pollute the subtle environment through our negative feelings and emotions. We have become a victim of our environment. We are not in control of our mind. How to handle our mind? How to be in the present moment? How to be happy and grateful? This we have not learnt. This is the most unfortunate thing. Then what is the solution? This is where we miss a very fundamental principle that governs our environment, our mind, our emotions and our life in general.

Our body has the capacity to sustain much longer, the vibration of bliss and peace than it does negative emotions because positivity is in the centre of our existence. Just like in the structure of atom, protons and neutrons are in the centre of the atom and electrons are only the periphery, same is with our lives; the centre core of our existence is bliss, positivity and joy but it is surrounded by a cloud of negative ions. Through the help of the breath we can easily get over our negative emotions in a short period of time.

This life has so much to offer to you. You can see this once you take some time off, rejuvenating the soul. Your soul is hungry for a smile from you.

Everyone wants to be successful in life. But without knowing what is success, you want to be successful. What is the sign of success? Because money gives you freedom so that you can do whatever you want. You may have a big bank balance, but, you have stomach aches, ulcers, you may have to go for the bypass surgery; can't eat this, can't do this, can't do that. Look at all those who claim to be successful-are they successful? No, they are miserable.

Then, what is sign of success? It is confidence, compassion, generosity and a smile that none can snatch away, being really happy and being able to be more free. These are the signs of a successful person.

Take some time off to look a little deep into yourself and calm the mind down. Thus, erasing all the impressions that we are carrying in our minds and experience the presence, the divine that is very core of our existence.

SubQuestion No : 25

Q.25 According to the passage, what is the human soul hungry for?

- Ans
- 1. A smile
 - 2. Success
 - 3. More wealth
 - 4. A positive feeling

Question ID : 264330121864

Status : Answered

Chosen Option : 4

ixamBee

Prepare 50% Faster

Phase-XI/2023/Selection Posts and Selection Posts/Ladakh/2023

Roll Number	Selection Post
Candidate Name	Selection Post
Venue Name	Maa Santoshi Computers Pvt. Ltd.
Exam Date	28/06/2023
Exam Time	2:30 PM - 3:30 PM
Subject	Selection Post Graduate Level

Section : General Intelligence

Q.1 उस विकल्प का चयन करें जो उन अक्षरों को निरूपित करता है, जिन्हें नीचे दिए गए रिक्त स्थानों में क्रमिक रूप से बाएं से दाएं रखने पर अक्षर श्रृंखला पूर्ण हो जाएगी।
_ A A _ F _ A N F A _ _ _ A A N

- Ans
- 1. F N A A N F
 - 2. A A F F N A
 - 3. F A A F N A
 - 4. F A N A N F

Question ID : 26433067729
Status : Answered
Chosen Option : 1

Q.2 एक निश्चित कूट भाषा में, 'CLIMATE' को '763' के रूप में लिखा जाता है, 'GLOBAL' को '649' के रूप में लिखा जाता है। उसी भाषा में, 'CREEP' को कैसे लिखा जाएगा?

- Ans
- 1. 47
 - 2. 74
 - 3. 547
 - 4. 475

Question ID : 264330122371
Status : Answered
Chosen Option : 3

Q.3 उस विकल्प का चयन कीजिए, जिसका तीसरे शब्द से ठीक वही संबंध है, जो संबंध दूसरे शब्द का पहले शब्द से है।
(शब्दों को अर्थपूर्ण हिंदी शब्दों के रूप में माना जाना चाहिए और शब्द में अक्षरों/ व्यंजनों/स्वरों की संख्या के आधार पर वे एक दूसरे से संबंधित नहीं किए जाने चाहिए)
निकाल देना : सम्मिलित करना : : प्राथमिक (Elementary) : ?

- Ans
- 1. शुरुआती (Beginners)
 - 2. विकसित (Advanced)
 - 3. बुनियादी (Basic)
 - 4. प्रारंभिक (Preliminary)

Question ID : 26433068409
Status : Answered
Chosen Option : 2

Q.4 अक्षरों के उस संयोजन का चयन कीजिए जिसे दी गई श्रृंखला के रिक्त स्थानों में क्रमिक रूप से रखने पर श्रृंखला पूर्ण हो जाएगी।

AC_E_A_DEF_CD_F

- Ans
- 1. DCFAE
 - 2. DFCAE
 - 3. DCAEF
 - 4. ADFCE

Question ID : 26433078822

Status : Answered

Chosen Option : 2

Q.5 नीचे दी गई आकृति श्रृंखला में प्रश्न-चिह्न (?) के स्थान पर आने वाली आकृति का चयन कीजिए।



Ans

- 1.
- 2.
- 3.
- 4.

Question ID : 26433056949

Status : Answered

Chosen Option : 4

Q.6 गणितीय चिह्नों के उस सही संयोजन का चयन कीजिए जिसे * चिह्नों के स्थान पर रखने पर दिया गया समीकरण संतुष्ट हो जाएगा।

$5 * 14 * 11 * 9 * 10 * 82$

- Ans
- 1. $\times, +, -, \times, =$
 - 2. $\times, +, -, +, =$
 - 3. $\times, \times, -, +, =$
 - 4. $\times, -, -, +, =$

Question ID : 26433097201

Status : Answered

Chosen Option : 2

Q.7 एक निश्चित कूट भाषा में, 'FANG' को '24' लिखा जाता है और 'CRAZY' को '69' लिखा जाता है। उस भाषा में 'PLAY' को कैसे लिखा जाएगा?

- Ans
- 1. 52
 - 2. 45
 - 3. 50
 - 4. 48

Question ID : 264330143369

Status : Answered

Chosen Option : 3

Q.8 उस विकल्प का चयन कीजिए जो दिए गए शब्दों के सही क्रम को निरूपित करता है जैसे कि वे अंग्रेजी शब्दकोश में होते हैं।

1. Emigrant
2. Emissary
3. Embolden
4. Embezzle
5. Eminence
6. Empathize
7. Emphatic

- Ans
- 1. 4,3,2,1,6,7,5
 - 2. 4,2,3,1,5,6,7
 - 3. 4,3,1,5,2,6,7
 - 4. 4,3,2,5,1,7,6

Question ID : 26433097399

Status : Answered

Chosen Option : 3

Q.9 एक निश्चित कूट भाषा में, 'SINGER' को '96' और 'CRACK' को '104' के रूप में कूटबद्ध किया जाता है। उसी भाषा में 'JACKAL' को किस प्रकार कूटबद्ध किया जाएगा?

- Ans
- 1. 130
 - 2. 128
 - 3. 111
 - 4. 122

Question ID : 264330143391

Status : Answered

Chosen Option : 1

Q.10 एक निश्चित कूट भाषा में 'SPECIAL' को 'KBJBFOR' और 'PENSION' को 'MPJRMFO' लिखा जाता है। उस भाषा में 'RELEASE' को कैसे लिखा जाएगा?

- Ans
- 1. QKFBRF
 - 2. FTBFKFQ
 - 3. FRZKFQ
 - 4. FRBFKFQ

Question ID : 264330122202

Status : Answered

Chosen Option : 4

Q.11 एक निश्चित कूट भाषा में, 'COLDER' को '105' के रूप में लिखा जाता है और 'MOUSE' को '62' के रूप में लिखा जाता है। उसी भाषा में 'PLIGHT' को कैसे लिखा जाएगा?

- Ans
- 1. 90
 - 2. 80
 - 3. 102
 - 4. 82

Question ID : 26433069610

Status : Answered

Chosen Option : 1

Q.12 उस सही विकल्प का चयन कीजिए, जो निम्नलिखित शब्दों की व्यवस्था को तार्किक और अर्थपूर्ण क्रम में दर्शाता है।

1. प्राथमिक
2. निम्न माध्यमिक
3. बालवाड़ी
4. विश्वविद्यालय
5. उच्च माध्यमिक

- Ans
- 1. 3, 1, 2, 5, 4
 - 2. 3, 2, 1, 5, 4
 - 3. 3, 1, 2, 4, 5
 - 4. 3, 1, 5, 2, 4

Question ID : 264330129559

Status : Answered

Chosen Option : 1

Q.13 निम्नलिखित में से कौन-सी संख्या दी गई श्रृंखला में प्रश्न चिह्न (?) को प्रतिस्थापित करेगी?
4, 7, 17, 38, 72, 123, 193, 286, 408, ?

- Ans
- 1. 561
 - 2. 512
 - 3. 516
 - 4. 521

Question ID : 264330143334

Status : Answered

Chosen Option : 1

Q.14 उस विकल्प का चयन कीजिए जो तीसरे शब्द से उसी प्रकार संबंधित है जिस प्रकार दूसरा शब्द पहले शब्द से संबंधित है।
(शब्दों को अर्थपूर्ण हिंदी शब्दों के रूप में माना जाना चाहिए और शब्द में अक्षरों/ व्यंजनों/स्वरों की संख्या के आधार पर वे एक दूसरे से संबंधित नहीं किए जाने चाहिए)
डर : भय :: हर्ष : ?

- Ans
- 1. शांति
 - 2. आनंद
 - 3. उदासी
 - 4. शांत

Question ID : 26433067985

Status : Answered

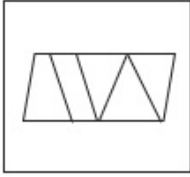
Chosen Option : 2

Q.15 उस विकल्प का चयन कीजिए, जिसमें दी गई आकृति सन्निकित है। (घूर्णन की अनुमति नहीं है)

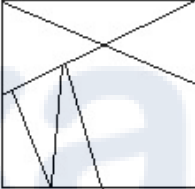


Ans

✗ 1.



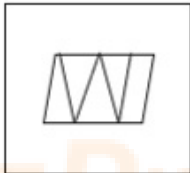
✗ 2.



✗ 3.



✓ 4.



Question ID : 26433080448

Status : Answered

Chosen Option : 4

Q.16 दर्पण को नीचे दिखाए अनुसार MN पर रखे जाने पर, दिए गए संयोजन के सही दर्पण प्रतिबिंब का चयन कीजिए।



Ans

✗ 1.



✓ 2.



✗ 3.



✗ 4.



Question ID : 264330143446

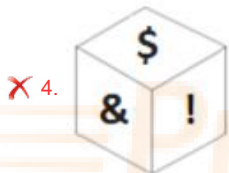
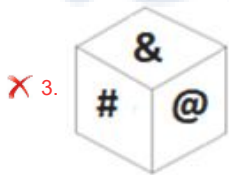
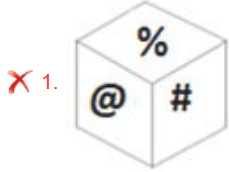
Status : Answered

Chosen Option : 2

Q.17 यदि दी गई शीट को मोड़कर एक घन बनाया जाता है, तो दी गई आकृतियों में से कौन-सी आकृति बनना संभव नहीं है?

#	\$!
	&	
	@	
	%	

Ans



Question ID : 264330143437

Status : Answered

Chosen Option : 2

Q.18 उस विकल्प का चयन कीजिए जो दिए गए शब्दों के उस सही क्रम को दर्शाता है जैसे कि वे अंग्रेजी शब्दकोश में दिखाई देते हैं?

1. Dash
2. Damage
3. Darkness
4. Damp
5. Danger
6. Dancer

Ans ✓ 1. 2, 4, 6, 5, 3, 1

✗ 2. 2, 4, 5, 6, 3, 1

✗ 3. 4, 2, 6, 5, 3, 1

✗ 4. 2, 4, 1, 5, 3, 6

Question ID : 264330117380

Status : Answered

Chosen Option : 1

Q.19 निम्नलिखित में से कौन-सी संख्या दी गई श्रृंखला में प्रश्न चिह्न (?) को प्रतिस्थापित करेगी?
5, 8, 19, 36, 75, ?

Ans 1. 148

2. 146

3. 184

4. 164

Question ID : 264330143333

Status : Answered

Chosen Option : 1

Q.20 इस प्रश्न में तीन कथन दिए गए हैं, जिसके बाद दो निष्कर्ष I और II दिए गए हैं। कथनों को सत्य मानते हुए, भले ही वे सामान्य रूप से ज्ञात तथ्यों से भिन्न प्रतीत होते हों, यह निर्णय लीजिए कि कौन-सा/से निष्कर्ष कथनों का तार्किक रूप से अनुसरण करता है/करते हैं।

कथन:

कुछ फूल फल हैं।

सभी फल सब्जियां हैं।

कुछ सब्जियां स्वास्थ्यकर हैं।

निष्कर्ष:

I. सभी फल स्वास्थ्यकर हैं।

II. कुछ सब्जियां फूल हैं।

Ans 1. केवल निष्कर्ष I अनुसरण करता है।

2. केवल निष्कर्ष II अनुसरण करता है।

3. निष्कर्ष I और II दोनों अनुसरण करते हैं।

4. न तो निष्कर्ष I और न ही II अनुसरण करता है।

Question ID : 264330143342

Status : Answered

Chosen Option : 2

Q.21 इस प्रश्न में, तीन कथन और उसके बाद दो निष्कर्ष I और II दिए गए हैं। कथनों को सत्य मानते हुए, भले ही वे सामान्यतः ज्ञात तथ्यों से भिन्न प्रतीत होते हों, निर्णय लें कि कौन-सा/से निष्कर्ष तार्किक रूप से कथनों का अनुसरण करता/करते है/हैं।

कथन:

I. कोई भी फॉरेस्ट, जंगल नहीं है।

II. सभी पहाड़ियाँ, जंगल हैं।

III. सभी बाग, पहाड़ियाँ हैं।

निष्कर्ष:

I. सभी बाग, जंगल हैं।

II. कोई भी फॉरेस्ट, पहाड़ी नहीं है।

Ans 1. केवल निष्कर्ष I अनुसरण करता है

2. न तो निष्कर्ष I और न ही II अनुसरण करता है

3. निष्कर्ष I और II दोनों अनुसरण करते हैं

4. केवल निष्कर्ष II अनुसरण करता है

Question ID : 264330104067

Status : Answered

Chosen Option : 3

Q.22 उस विकल्प का चयन करें जो पाँचवें अक्षर-समूह से उसी प्रकार संबंधित है जिस प्रकार दूसरा अक्षर-समूह पहले अक्षर-समूह से संबंधित है और चौथा अक्षर-समूह तीसरे अक्षर-समूह से संबंधित है।

CAMERA : MACARE :: BEYOND : YEBDNO :: DEBATE : ?

- Ans
- 1. BEDEAT
 - 2. BDETEA
 - 3. BEDTEA
 - 4. BEDETA

Question ID : 26433068518

Status : Answered

Chosen Option : 4

Q.23 उस विकल्प का चयन करें जो उन अक्षरों को निरूपित करता है, जिन्हें नीचे दिए गए रिक्त स्थानों में क्रमिक रूप से बाएं से दाएं रखने पर अक्षर श्रृंखला पूर्ण हो जाएगी।

F _ L O R F W L _ R _ W _ O R F _ L O _

- Ans
- 1. W O F L W R
 - 2. L F O W R W
 - 3. O W F L R W
 - 4. F W O L R F

Question ID : 26433067733

Status : Answered

Chosen Option : 1

Q.24 'A # B' का अर्थ है कि 'A, B का भाई है'
'A @ B' का अर्थ है कि 'A, B का पिता है'
'A & B' का अर्थ है कि 'A, B की माता है'
'A % B' का अर्थ है कि 'A, B की पत्नी है'
यदि 'P & Q # R % S @ T # U' है, तो P का U से क्या संबंध है?

- Ans
- 1. माता
 - 2. दादी
 - 3. पौत्री
 - 4. नानी

Question ID : 264330143357

Status : Answered

Chosen Option : 4

Q.25 तस्वीर में दिख रहे एक व्यक्ति की ओर इंगित करते हुए सनी नाम के एक लड़के ने कहा "वह मेरी बहन की माता के पति का भाई है"। तस्वीर वाले व्यक्ति के साथ सनी का क्या संबंध है?

- Ans
- 1. दादा
 - 2. भाई
 - 3. भतीजा
 - 4. पुत्र

Question ID : 26433070275

Status : Answered

Chosen Option : 3

Q.1 आंध्र प्रदेश पुनर्गठन अधिनियम किस वर्ष पारित किया गया था?

- Ans
- 1. 2014 में
 - 2. 2015 में
 - 3. 2013 में
 - 4. 2012 में

Question ID : 264330113439

Status : Answered

Chosen Option : 1

Q.2 प्रारंभ में निम्नलिखित में से कौन कर्नाटक के चालुक्यों के अधीनस्थ थे?

- Ans
- 1. सातवाहन
 - 2. राष्ट्रकूट
 - 3. पाल
 - 4. प्रतिहार

Question ID : 26433089865

Status : Answered

Chosen Option : 1

Q.3 'लॉन्ग वॉक टू फ्रीडम' _____ के द्वारा लिखी गई है।

- Ans
- 1. दलाई लामा
 - 2. नेल्सन मंडेला
 - 3. आंग सान सु की
 - 4. महात्मा गांधी

Question ID : 26433064622

Status : Answered

Chosen Option : 2

Q.4 भारतीय और पश्चिमी संस्कृति के मिश्रण का प्रतिनिधित्व करने वाले एक संस्कृत कॉलेज के प्रधानाचार्य _____ थे।

- Ans
- 1. देवेन्द्रनाथ टैगोर
 - 2. केशव चंद्र सेन
 - 3. राजा राम मोहन राय
 - 4. ईश्वर चंद्र विद्यासागर

Question ID : 264330132691

Status : Answered

Chosen Option : 1

Q.5 निम्नलिखित में से कौन सा अनुष्ठानिक नृत्य मध्य प्रदेश की कामड़ जनजाति द्वारा किया जाता है?

- Ans
- 1. घपाल
 - 2. पैका
 - 3. तेराताली
 - 4. मुनारी

Question ID : 26433072630

Status : Not Answered

Chosen Option : --

Q.6 वर्ष 2022 के लिए, खेल के क्षेत्र में पद्म भूषण पुरस्कार _____ को प्रदान किया गया था।

- Ans
- 1. शंकरनारायण मेनन चुंडायिल
 - 2. सुमित अंतिल
 - 3. देवेन्द्र झाझरिया
 - 4. ब्रह्मानंद सांखवलकर

Question ID : 26433086888
Status : Answered
Chosen Option : 3

Q.7 वे पौधे जो सूर्य के तीव्र प्रकाश में उगने के लिए अनुकूलित होते हैं, वो क्या कहलाते हैं?

- Ans
- 1. आद्योद्भिद (Protophytes)
 - 2. नवोद्भिद (Neophytes)
 - 3. मरुद्भिद (Xerophyte)
 - 4. आतपोद्भिद (Heliophytes)

Question ID : 26433066710
Status : Answered
Chosen Option : 4

Q.8 2020 में किस जलाशय को अंतरराष्ट्रीय महत्व की आर्द्रभूमियों की सूची में 'रामसर साइट' घोषित किया गया है?

- Ans
- 1. चिल्का झील
 - 2. सुर सरोवर
 - 3. सरसाई नावर झील
 - 4. पोंग डैम झील

Question ID : 264330143305
Status : Answered
Chosen Option : 1

Q.9 हरियाणा राज्य में रजिया सुल्तान का मकबरा किस निर्माण सामग्री से निर्मित है?

- Ans
- 1. लाल बलुआ पत्थर
 - 2. संगमरमर
 - 3. पकी हुई ईंटें
 - 4. ग्रेनाइट

Question ID : 264330132428
Status : Not Answered
Chosen Option : --

Q.10 पूर्व मीमांसा स्कूल ऑफ फिलॉसफी की स्थापना प्राचीन भारत में _____ द्वारा की गई थी।

- Ans
- 1. कपिल
 - 2. पतंजलि
 - 3. व्यास
 - 4. जैमिनी

Question ID : 264330111366
Status : Answered
Chosen Option : 4

Q.11 भारत में निम्नलिखित में से कौन-सा एक संवैधानिक निकाय नहीं है?

- Ans
- 1. राष्ट्रीय मानवाधिकार आयोग (National human rights commission)
 - 2. वित्त आयोग (Finance commission)
 - 3. राष्ट्रीय अनुसूचित जाति आयोग (National commission for SCs)
 - 4. राज्य लोक सेवा आयोग (State public service commission)

Question ID : 264330111535

Status : Answered

Chosen Option : 2

Q.12 मानव विकास सूचकांक (HDI) रिपोर्ट 2021-22 के अनुसार भारत के सभी पड़ोसी देशों में से कितने देशों को एचडीआई (HDI) की 'अत्यंत उच्च मानव विकास' श्रेणी में रैंकिंग मिली है?

- Ans
- 1. 1
 - 2. 3
 - 3. 0
 - 4. 2

Question ID : 264330109522

Status : Not Answered

Chosen Option : --

Q.13 हाइड्रोजन आबंध की प्रबलता किसके द्वारा निर्धारित की जाती है?

- Ans
- 1. एक अणु के विद्युत ऋणात्मक परमाणु के एकाकी इलेक्ट्रॉन युग्म और दूसरे अणु के ऑक्सीजन परमाणु के बीच अन्योन्यक्रिया
 - 2. एक अणु के विद्युत धनात्मक परमाणु के एकाकी इलेक्ट्रॉन युग्म और दूसरे अणु के हाइड्रोजन परमाणु के बीच अन्योन्यक्रिया
 - 3. एक अणु के विद्युत ऋणात्मक परमाणु के एकाकी इलेक्ट्रॉन युग्म और दूसरे अणु के हाइड्रोजन परमाणु के बीच अन्योन्यक्रिया
 - 4. ध्रुवीय अणु के एकाकी इलेक्ट्रॉन युग्म और दूसरे अणु के हाइड्रोजन परमाणु के बीच अन्योन्यक्रिया

Question ID : 264330143313

Status : Answered

Chosen Option : 3

Q.14 निम्नलिखित में से कौन-सी नदी सिंधु नदी की सहायक नदी नहीं है?

- Ans
- 1. जास्कर
 - 2. हुंजा
 - 3. गिलगित
 - 4. रिंद

Question ID : 264330109865

Status : Answered

Chosen Option : 1

Q.15 मकरविलाक्कु उत्सव निम्नलिखित में से किस भारतीय राज्य में मनाया जाता है?

- Ans
- 1. आंध्र प्रदेश
 - 2. केरल
 - 3. तमिलनाडु
 - 4. कर्नाटक

Question ID : 26433064690

Status : Not Answered

Chosen Option : --

Q.16 शाहिद परवेज खान, बुधादित्य मुखर्जी, अनुष्का शंकर और हर शंकर भट्टाचार्य निम्नलिखित में से किस वाद्य यंत्र के प्रसिद्ध वादक हैं?

- Ans
- 1. सितार
 - 2. सुरबहार
 - 3. मोहन वीणा
 - 4. वीणा

Question ID : 264330143394
Status : Answered
Chosen Option : 1

Q.17 वर्ष 2011 की जनगणना के अनुसार भारत में कुल महिला साक्षरता दर _____ थी।

- Ans
- 1. 65.46%
 - 2. 56.8%
 - 3. 43.5%
 - 4. 85.45%

Question ID : 264330109512
Status : Answered
Chosen Option : 1

Q.18 जनवरी 2023 के अनुसार निम्नलिखित में से कौन भारत के खादी और ग्रामोद्योग आयोग (KVIC) का अध्यक्ष है?

- Ans
- 1. मनोज कुमार
 - 2. मनोज कुमार सिंह
 - 3. डॉ. शिरीश केदारे
 - 4. नागेंद्र रघुवंशी

Question ID : 264330132604
Status : Not Answered
Chosen Option : --

Q.19 यकृत, प्लीहा और अस्थि मज्जा की जालीय अंतः कला कोशिकाओं (reticuloendothelial cells) के भीतर आयरन के अत्यधिक जमाव के कारण कौन-सा रोग होता है?

- Ans
- 1. अपसंवेदन (Paraesthesia)
 - 2. त्वक्शोथ (Dermatitis)
 - 3. हीमोसाइडरोसिस (Hemosiderosis)
 - 4. राइबोफ्लेविनहीनता (Ariboflavinosis)

Question ID : 26433092196
Status : Answered
Chosen Option : 3

Q.20 यूक्रेन पर 2022 के रूसी आक्रमण के बीच भारतीय नागरिकों को निकालने के लिए भारत सरकार द्वारा चलाए गए निकासी अभियान का नाम क्या है?

- Ans
- 1. ऑपरेशन तबस
 - 2. ऑपरेशन एकेरियस
 - 3. ऑपरेशन ईगल
 - 4. ऑपरेशन गंगा

Question ID : 26433055032
Status : Answered
Chosen Option : 4

Q.21 वन अनुसंधान संस्थान, देहरादून की स्थापना इम्पीरियल वन अनुसंधान संस्थान के रूप में की गई थी। किस वर्ष इसे "इम्पीरियल वन अनुसंधान संस्थान" के रूप में स्थापित किया गया था?

- Ans
- 1. 1906
 - 2. 1905
 - 3. 1908
 - 4. 1907

Question ID : 26433089209
Status : Not Answered
Chosen Option : --

Q.22 उच्च न्यायालय और सर्वोच्च न्यायालय के न्यायाधीश (वेतन और सेवा की शर्तें) संशोधन विधेयक, 2021 को कानून और न्याय मंत्री किरेन रिजिजू द्वारा _____ में लोकसभा में पेश किया गया था।

- Ans
- 1. दिसंबर 2021
 - 2. अक्टूबर 2021
 - 3. नवंबर 2021
 - 4. सितंबर 2021

Question ID : 264330122340
Status : Not Answered
Chosen Option : --

Q.23 1953 में महारानी एलिजाबेथ-II के राज्याभिषेक समारोह में प्रस्तुति देने के लिए निम्नलिखित में से किस नृत्यांगना को बुलाया गया था?

- Ans
- 1. कमला लक्ष्मी नारायणन
 - 2. मृणालिनी साराभाई
 - 3. रुक्मिणी देवी अरुंडेल
 - 4. सितारा देवी

Question ID : 264330110268
Status : Answered
Chosen Option : 2

Q.24 निम्नलिखित में से कौन-सा खिलाड़ी बिलियर्ड्स से जुड़ा है?

- Ans
- 1. संकल्प गुप्ता
 - 2. पंकज आडवाणी
 - 3. सौरभ चौधरी
 - 4. मनिका बत्रा

Question ID : 264330109667
Status : Answered
Chosen Option : 2

Q.25 भारत का निम्नलिखित में से कौन सा भाग कूका आंदोलन से प्रभावित हुआ था?

- Ans
- 1. पंजाब
 - 2. बिहार
 - 3. झारखंड
 - 4. बंगाल

Question ID : 26433089143
Status : Answered
Chosen Option : 1

Q.1 किसी व्यक्ति को दो बिचौलियों के माध्यम से जमीन का एक टुकड़ा बेचा गया, जिसमें प्रत्येक बिचौलिए को 25% का लाभ प्राप्त हुआ। यदि व्यक्ति ने ₹6,25,000 में जमीन खरीदी, तो जमीन की मूल कीमत (₹ में) क्या थी?

- Ans
- 1. 4,25,000
 - 2. 3,75,000
 - 3. 3,50,000
 - 4. 4,00,000

Question ID : 264330129412

Status : Answered

Chosen Option : 4

Q.2 एक कार पहले 180 km की दूरी 20 km/h की चाल से तय करती है। यह अगले 210 km की दूरी 35 km/h की चाल से तय करती है। कार की औसत चाल (km/h में) ज्ञात कीजिए।

- Ans
- 1. 55
 - 2. 26
 - 3. 27.5
 - 4. 15

Question ID : 264330102322

Status : Answered

Chosen Option : 2

Q.3 ΔPQR में S और T क्रमशः PQ और PR भुजाओं पर इस प्रकार बिन्दु हैं कि ΔPST , ΔPRQ के समरूप है। यदि $m\angle PQR = 47^\circ$ है तो $m\angle STR$ ज्ञात करें।

- Ans
- 1. 133°
 - 2. 130°
 - 3. 120°
 - 4. 123°

Question ID : 264330131413

Status : Answered

Chosen Option : 1

Q.4 यदि $x > 1$ और $x^2 + \frac{1}{x^2} = 2\sqrt{5}$ है, तो $x^4 - \frac{1}{x^4}$ का मान क्या होगा?

- Ans
- 1. $8\sqrt{6}$
 - 2. $8\sqrt{5}$
 - 3. $4\sqrt{30}$
 - 4. $4\sqrt{5}$

Question ID : 264330101341

Status : Not Answered

Chosen Option : --

Q.5 5% वार्षिक साधारण ब्याज की दर से ₹3,000 के ब्याज की तुलना में ₹2,460 का साधारण ब्याज 162 कम होगा। लिया गया समय वर्ष में ज्ञात कीजिए।

- Ans
- 1. 3
 - 2. 4
 - 3. 5
 - 4. 6

Question ID : 26433080187

Status : Marked For Review

Chosen Option : 4

Q.6 रामू अकेले एक दीवार को 15 दिनों में बना सकता है, जबकि रावण अकेले इसे 10 दिनों में बना सकता है। रामू ने 5 दिन काम किया। फिर अगले 3 दिनों के लिए रावण और रामू ने साथ मिलकर काम किया। शेष दीवार को बनाने में रामू को और कितने दिन लगेंगे?

- Ans
- 1. 10.5
 - 2. 7.5
 - 3. 2.5
 - 4. 5.5

Question ID : 26433081608

Status : Answered

Chosen Option : 3

Q.7 माना M, 16 और 9 के बीच के माध्यानुपाती को व्यक्त करता है और N, 9 और 15 के तृतीय समानुपाती को व्यक्त करता है। $5M + 3N$ का मान ज्ञात कीजिए।

- Ans
- 1. 125
 - 2. 300
 - 3. 135
 - 4. 225

Question ID : 264330143417

Status : Answered

Chosen Option : 3

Q.8 एक सेल में, एक दुकान निम्नलिखित योजना के अनुसार छूट दे रही है: कपड़ों पर 10%, किराना पर 12%, स्टेशनरी पर 15% और फुटवियर पर 20% की छूट। अंजलि ने चाय का एक पैकेट, एक नोटबुक और बाथरूम स्लीपर खरीदे जिनका अंकित मूल्य क्रमशः ₹450, ₹100 और ₹850 है। उसे कितनी राशि (₹ में) चुकानी होगी?

- Ans
- 1. 1116
 - 2. 1471
 - 3. 1261
 - 4. 1161

Question ID : 264330103326

Status : Answered

Chosen Option : 4

Q.9 यदि $2a + b = 10$ और $2ab = 9$ है, तो $2a - b$ का मान क्या है?

- Ans
- 1. 10
 - 2. 4
 - 3. 8
 - 4. 6

Question ID : 26433083019

Status : Answered

Chosen Option : 3

Q.10 साधारण ब्याज पर उधार दी गई एक निश्चित राशि 3 वर्षों में ₹13,000 और 5 वर्षों में ₹15,000 हो जाती है। वार्षिक दर प्रतिशत ज्ञात कीजिए।

- Ans
- 1. 14%
 - 2. 15%
 - 3. 10%
 - 4. 12%

Question ID : 26433081034

Status : Answered

Chosen Option : 3

Q.11 पिछले वर्ष के दौरान, एक इलेक्ट्रॉनिक वस्तु की कीमत में 10% की वृद्धि हुई, और इस वर्ष उसी वस्तु की कीमत में 10% की कमी आई। यदि वर्तमान में इलेक्ट्रॉनिक वस्तु की कीमत ₹66,000 है, तो पिछले वर्ष की शुरुआत में संबंधित इलेक्ट्रॉनिक वस्तु की कीमत क्या थी? (एक दशमलव स्थान तक पूर्णांकित)

- Ans
- 1. ₹72,432.4
 - 2. ₹82,345.4
 - 3. ₹91,262.5
 - 4. ₹66,666.7

Question ID : 26433080007

Status : Answered

Chosen Option : 4

Q.12 यदि सात अंकों की संख्या $965x475$, 9 से विभाज्य है, तो x का मान क्या होगा?

- Ans
- 1. 0
 - 2. 2
 - 3. 6
 - 4. 3

Question ID : 264330126166

Status : Answered

Chosen Option : 1

Q.13 निम्नलिखित रैखिक समीकरण-निकाय का हल क्या होगा?

$$3x - 9y + 4z = 5$$

$$2x + 7y + z = 12$$

$$3x - z = 0$$

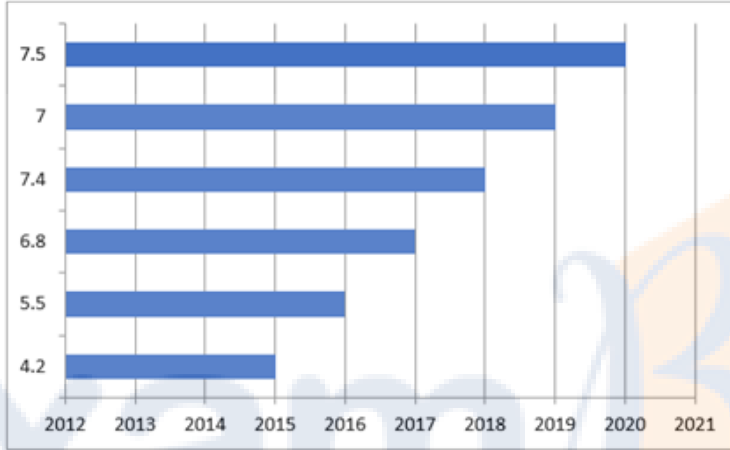
- Ans
- 1. $x = \frac{143}{150}, y = \frac{31}{30}, z = \frac{143}{51}$
 - 2. $x = \frac{143}{150}, y = \frac{31}{37}, z = \frac{143}{50}$
 - 3. $x = \frac{143}{150}, y = \frac{31}{30}, z = \frac{143}{50}$
 - 4. $x = \frac{137}{150}, y = \frac{31}{30}, z = \frac{143}{50}$

Question ID : 264330126543

Status : Not Answered

Chosen Option : --

Q.14 निम्नांकित दंड-आरेख का अध्ययन कीजिए और दिए गए प्रश्न का उत्तर दीजिए।
भारत की एक कंपनी रेडीमेड कपड़ों का निर्यात करती है। दंड-आरेख 2015 से 2020 तक 6 वर्षों में कपड़ों के निर्यात (करोड़ों रुपये में) को दर्शाता है।



वर्ष 2015 से 2020 के दौरान कपड़ों का औसत निर्यात (करोड़ों रुपये में) ज्ञात कीजिए।

- Ans
- 1. 6.4
 - 2. 6.2
 - 3. 5.2
 - 4. 5.4

Question ID : 264330129951
Status : Answered
Chosen Option : 1

Q.15 यदि $2P = 3Q = 4R = 5S$ है, तो $P : Q : R : S$ ज्ञात कीजिए

- Ans
- 1. 30 : 20 : 12 : 15
 - 2. 20 : 30 : 15 : 12
 - 3. 12 : 20 : 30 : 15
 - 4. 30 : 20 : 15 : 12

Question ID : 26433061667
Status : Answered
Chosen Option : 4

Q.16 अरुण 660 मिनट में 225.5 km की दूरी तय करने के लिए कार चला रहा है। उसकी चाल km/h में कितनी है?

- Ans
- 1. 21.5
 - 2. 20.5
 - 3. 20.2
 - 4. 22

Question ID : 264330103337
Status : Answered
Chosen Option : 2

Q.17 अजय को 20 पेन बेचते समय एक दुकानदार को 4 पेन के क्रय मूल्य की हानि हो रही है। यदि दुकानदार ने 20 पेन 10% कम कीमत पर खरीदे होते और 20 पेन अजय को विक्रय मूल्य से 25% अधिक पर बेचे होते, तो उसे कितने प्रतिशत का लाभ होता (दशमलव के 1 स्थान तक पूर्णांकित)?

- Ans 1. 11.1
 2. 8.0
 3. 12.5
 4. 10.0

Question ID : 264330130299
Status : Not Answered
Chosen Option : --

Q.18 यदि ABC की भुजा BC का मध्य-बिंदु M है, और ABM का क्षेत्रफल 19 cm^2 है, तो ABC का क्षेत्रफल क्या है?

- Ans 1. 40 cm^2
 2. 42 cm^2
 3. 36 cm^2
 4. 38 cm^2

Question ID : 26433083001
Status : Answered
Chosen Option : 4

Q.19 10 पार्सलों का औसत भार 28.6 kg है। एक नया पार्सल शामिल करने से औसत भार में 0.6 kg की कमी हो जाती है। नए पार्सल का भार (kg में) कितना है?

- Ans 1. 22
 2. 23
 3. 20
 4. 21

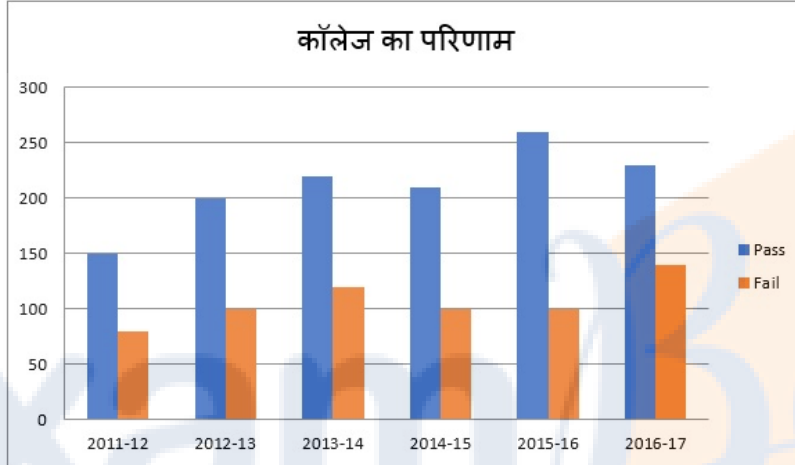
Question ID : 264330129390
Status : Answered
Chosen Option : 1

Q.20 एक कंपनी तीन अलग-अलग उत्पादों - गिलास, प्लेट और कटोरे का निर्माण करती है। प्लेटों की संख्या, गिलासों की संख्या की दोगुनी है। निर्मित गिलासों की संख्या, कटोरों की संख्या की दोगुनी है। यदि कंपनी द्वारा निर्मित कुल इकाइयाँ 2380 हैं, तो प्लेटों की संख्या और कटोरों की संख्या के बीच अंतर कितना है?

- Ans 1. 1360
 2. 1020
 3. 1120
 4. 680

Question ID : 26433058210
Status : Answered
Chosen Option : 2

Q.21 दिया गया दण्ड आरेख एक कॉलेज में विद्यार्थियों के परिणामों (रिज़ल्ट) को दर्शाता है। आरेख का अध्ययन कीजिए और नीचे दिए गए प्रश्न का उत्तर दीजिए।



Pass - उत्तीर्ण Fail - अनुत्तीर्ण

दिए गए आंकड़ों में अनुत्तीर्ण विद्यार्थियों की संख्या कितनी बार समान है?

- Ans
- 1. 1
 - 2. 2
 - 3. 3
 - 4. 4

Question ID : 264330122700

Status : Answered

Chosen Option : 3

Q.22 यदि $\tan \theta + \sec \theta = a$, तो $\sec \theta$ क्या है?

- Ans
- 1. $\frac{1}{2a}$
 - 2. $\frac{a^2 + 1}{2a}$
 - 3. $\frac{a - 1}{2a}$
 - 4. $\frac{a^2 - 1}{2a}$

Question ID : 264330126224

Status : Answered

Chosen Option : 4

Q.23 $\cos 1^\circ \cdot \cos 2^\circ \cdot \cos 3^\circ \cdots \cos 177^\circ \cdot \cos 178^\circ \cdot \cos 179^\circ$ का मान क्या है?

- Ans
- 1. 1
 - 2. $\frac{1}{2}$
 - 3. $\frac{1}{\sqrt{2}}$
 - 4. 0

Question ID : 26433080387

Status : Answered

Chosen Option : 4

Q.24 एक घन की भुजा (मीटर में) क्या होगी, जिसमें अधिकतम 10 मीटर लंबाई की लोहे की छड़ रखी जा सकती है?

- Ans
- 1. 5.57
 - 2. 7.75
 - 3. 7.57
 - 4. 5.77

Question ID : 26433081751

Status : Answered

Chosen Option : 4

Q.25 पति और पत्नी की वर्तमान आयु का अनुपात 5 : 4 है। 6 वर्ष बाद उनकी आयु का अनुपात 6 : 5 हो जाएगा। उनकी शादी के समय उनकी आयु का अनुपात 4 : 3 था। उन्होंने कितने वर्ष पहले शादी की?

- Ans
- 1. 4 वर्ष
 - 2. 6 वर्ष
 - 3. 8 वर्ष
 - 4. 10 वर्ष

Question ID : 264330129977

Status : Answered

Chosen Option : 2

Section : English Language

Q.1 Select the option that expresses the given sentence in direct speech.
The ticket collector asked the passengers where their tickets were.

- Ans
- 1. The ticket collector said to the passengers, "Where your tickets were?"
 - 2. The ticket collector said to the passengers, "Where were your tickets?"
 - 3. The ticket collector said to the passengers, "Where are your tickets?"
 - 4. The ticket collector demanded the passengers, "Show me your tickets"

Question ID : 264330132827

Status : Answered

Chosen Option : 3

Q.2 Select the most appropriate ANTONYM of the underlined word in the given sentence.

The library sessions were conducive for healthy discussions.

- Ans
- 1. Invaluable
 - 2. Unfavourable
 - 3. Integrated
 - 4. Exclusive

Question ID : 26433073872
Status : Answered
Chosen Option : 3

Q.3 Select the sentence that has the most appropriate meaning of the given idiom.

Kill two birds with one stone

- Ans
- 1. He ruined his chances of getting into college as he got distracted while studying for two different entrance tests and not perfecting even a single one.
 - 2. Today's fishing session was a success as both the fishermen were working together.
 - 3. He was so unlucky that he never won a single coin toss in the entire tournament.
 - 4. Maya decided to clean the house but at the end of the day, she realised it was a great workout.

Question ID : 26433089734
Status : Answered
Chosen Option : 4

Q.4 Select the most appropriate meaning of the given idiom.

A cock and bull story

- Ans
- 1. A true story
 - 2. A children's story
 - 3. A story of animals
 - 4. A foolish and concocted story

Question ID : 26433088140
Status : Answered
Chosen Option : 4

Q.5 Select the grammatically correct sentence.

- A.I would like to spend an evening near pool with a cup of coffee.
- B.I would like to spend an evening near pool with cup of coffee.
- C.I would like to spend a evening near a pool with a cup of coffee.
- D.I would like to spend an evening near a pool with a cup of coffee.

- Ans
- 1. C
 - 2. A
 - 3. B
 - 4. D

Question ID : 26433073536
Status : Answered
Chosen Option : 2

Q.6 Select the most appropriate option that can substitute the underlined segment in the given sentence. If there is no need to substitute it, select 'No substitution required'.

Ria sits right besides Shimona in the craft class.

- Ans
- 1. besides to
 - 2. beside
 - 3. be side
 - 4. No substitution required

Question ID : 26433060073

Status : Answered

Chosen Option : 2

Q.7 Select the most appropriate option to fill in the blank.

_____ being an officer, he lives in a very tiny apartment.

- Ans
- 1. Except
 - 2. Instead
 - 3. Unlike
 - 4. Despite

Question ID : 26433060982

Status : Answered

Chosen Option : 4

Q.8 Select the most appropriate option to fill in the blank.

That night the dinner was special, and the _____ himself came out to read out the menu list.

- Ans
- 1. guest
 - 2. chef
 - 3. public
 - 4. servant

Question ID : 26433098880

Status : Answered

Chosen Option : 2

Q.9 Select the most appropriate synonym for the highlighted word.

There were a plethora of options available to the applicant.

- Ans
- 1. destructive
 - 2. excess
 - 3. insufficient
 - 4. recess

Question ID : 264330120719

Status : Answered

Chosen Option : 2

Q.10 The following sentence has been split into four segments. Identify the segment that contains a grammatical error.

Kids learn / a lot by / their / school activities and homework.

- Ans
- 1. their
 - 2. Kids learn
 - 3. a lot by
 - 4. school activities and homework.

Question ID : 26433096146
Status : Answered
Chosen Option : 3

Q.11 Select the option that expresses the given sentence in active voice.
Why was such a letter written by your brother?

- Ans
- 1. Why is your brother writing such a letter?
 - 2. Why did your brother write such a letter?
 - 3. Why has your brother written such a letter?
 - 4. Why your brother wrote such a letter?

Question ID : 264330133302
Status : Answered
Chosen Option : 2

Q.12 Select the most appropriate ANTONYM of the underlined word in the following sentence.

Suraj has always shown a willingness to accept and respect the differences in others' lives with impartiality and avoid prejudice.

- Ans
- 1. Avoid
 - 2. Differences
 - 3. Willingness
 - 4. Impartiality

Question ID : 26433073642
Status : Answered
Chosen Option : 4

Q.13 Select the INCORRECTLY spelt word.

- Ans
- 1. Though
 - 2. Psychic
 - 3. Suddenness
 - 4. Truthfully

Question ID : 26433088413
Status : Answered
Chosen Option : 3

Q.14 Select the correct indirect narration of the given sentence.
He said to me, "My phone is switched off."

- Ans
- 1. He told me that his phone was switched off.
 - 2. He told me that our phone had switch off.
 - 3. He told me that his phone was switch off.
 - 4. He told me that my phone was switched off.

Question ID : 264330132786
Status : Answered
Chosen Option : 1

Q.15 Select the option that can be used as a one-word substitute for the underlined part of the given sentence.

Dogs are known for possession of the quality of being faithful.

- Ans
- 1. fidelity
 - 2. creditability
 - 3. honesty
 - 4. genuineness

Question ID : 26433072479
Status : Answered
Chosen Option : 2

Comprehension:

In the following passage, some words have been deleted. Read the passage carefully and select the most appropriate option to fill in each blank.

The earliest kind of print technology was developed in China. This was a system of hand (1)_____. From AD 594 onwards, (2)_____ in China were printed by (3)_____ paper, against the inked surface (4)_____ woodblocks. As both sides of (5)_____ thin, porous sheet could not be printed, the traditional Chinese 'accordion book' was folded and stitched at the side.

SubQuestion No : 16

Q.16 Select the most appropriate option for blank number 1.

- Ans
- 1. inking
 - 2. reading
 - 3. writing
 - 4. printing

Question ID : 264330132855
Status : Answered
Chosen Option : 4

Comprehension:

In the following passage, some words have been deleted. Read the passage carefully and select the most appropriate option to fill in each blank.

The earliest kind of print technology was developed in China. This was a system of hand (1)_____. From AD 594 onwards, (2)_____ in China were printed by (3)_____ paper, against the inked surface (4)_____ woodblocks. As both sides of (5)_____ thin, porous sheet could not be printed, the traditional Chinese 'accordion book' was folded and stitched at the side.

SubQuestion No : 17

Q.17 Select the most appropriate option for blank number 2.

- Ans
- 1. book
 - 2. books
 - 3. page
 - 4. paper

Question ID : 264330132856

Status : Answered

Chosen Option : 2

Comprehension:

In the following passage, some words have been deleted. Read the passage carefully and select the most appropriate option to fill in each blank.

The earliest kind of print technology was developed in China. This was a system of hand (1)_____. From AD 594 onwards, (2)_____ in China were printed by (3)_____ paper, against the inked surface (4)_____ woodblocks. As both sides of (5)_____ thin, porous sheet could not be printed, the traditional Chinese 'accordion book' was folded and stitched at the side.

SubQuestion No : 18

Q.18 Select the most appropriate option for blank number 3.

- Ans
- 1. rubbing
 - 2. writing
 - 3. rub
 - 4. write

Question ID : 264330132857

Status : Answered

Chosen Option : 1

Comprehension:

In the following passage, some words have been deleted. Read the passage carefully and select the most appropriate option to fill in each blank.

The earliest kind of print technology was developed in China. This was a system of hand (1)_____. From AD 594 onwards, (2)_____ in China were printed by (3)_____ paper, against the inked surface (4)_____ woodblocks. As both sides of (5)_____ thin, porous sheet could not be printed, the traditional Chinese 'accordion book' was folded and stitched at the side.

SubQuestion No : 19

Q.19 Select the most appropriate option for blank number 4.

- Ans
- 1. in
 - 2. of
 - 3. by
 - 4. from

Question ID : 264330132858

Status : Answered

Chosen Option : 1

Comprehension:

In the following passage, some words have been deleted. Read the passage carefully and select the most appropriate option to fill in each blank.

The earliest kind of print technology was developed in China. This was a system of hand (1)_____. From AD 594 onwards, (2)_____ in China were printed by (3)_____ paper, against the inked surface (4)_____ woodblocks. As both sides of (5)_____ thin, porous sheet could not be printed, the traditional Chinese 'accordion book' was folded and stitched at the side.

SubQuestion No : 20

Q.20 Select the most appropriate option for blank number 5.

- Ans
- 1. a
 - 2. by
 - 3. the
 - 4. from

Question ID : 264330132859

Status : Answered

Chosen Option : 3

Comprehension:

Read the given passage and answer the questions that follow.

Satyajit Ray's films are rich in sociological elements which portray themes like faulty social structures, childhood experiences, poverty-stricken India, rural life, complexities in relationships and politics, religion, gender and on. Films like Devi or The Goddess and Mahapurush or The Godman show how religion becomes a breeding ground of superstitions and how the blind faith of people in 'Godmen', without analysing the reality, leave people trapped in the end. In Pather Panchali or Song of the Road, Ray shows how Apu and Durga enjoy their childhood despite their poverty. The innocence and mirth of childhood offers a sharp contrast with the disconsolate faces of other adults in the family who are affected by the present harsh situations. A critique of autocracy is found in his film Hirak Rajar Deshe or In the Country of the Diamond King which is an overall political satire. Although Satyajit Ray's films are deeply rooted in Bengali culture, they have a universal significance, and much of it is perhaps because his film making is heavily inspired by neo-realist principles.

SubQuestion No : 21

Q.21 According to the passage, how has Mahapurush been translated?

- Ans
- 1. Great man
 - 2. The one man
 - 3. Great being
 - 4. Godman

Question ID : 264330134172

Status : Answered

Chosen Option : 4

Comprehension:

Read the given passage and answer the questions that follow.

Satyajit Ray's films are rich in sociological elements which portray themes like faulty social structures, childhood experiences, poverty-stricken India, rural life, complexities in relationships and politics, religion, gender and on. Films like Devi or The Goddess and Mahapurush or The Godman show how religion becomes a breeding ground of superstitions and how the blind faith of people in 'Godmen', without analysing the reality, leave people trapped in the end. In Pather Panchali or Song of the Road, Ray shows how Apu and Durga enjoy their childhood despite their poverty. The innocence and mirth of childhood offers a sharp contrast with the disconsolate faces of other adults in the family who are affected by the present harsh situations. A critique of autocracy is found in his film Hirak Rajar Deshe or In the Country of the Diamond King which is an overall political satire. Although Satyajit Ray's films are deeply rooted in Bengali culture, they have a universal significance, and much of it is perhaps because his film making is heavily inspired by neo-realist principles.

SubQuestion No : 22

Q.22 According to the passage, which of the following was a major inspiration for Satyajit Ray?

- Ans
- 1. Comics
 - 2. Early Bengali cinema
 - 3. The society
 - 4. Neo realism

Question ID : 264330134174

Status : Answered

Chosen Option : 2

Comprehension:

Read the given passage and answer the questions that follow.

Satyajit Ray's films are rich in sociological elements which portray themes like faulty social structures, childhood experiences, poverty-stricken India, rural life, complexities in relationships and politics, religion, gender and on. Films like Devi or The Goddess and Mahapurush or The Godman show how religion becomes a breeding ground of superstitions and how the blind faith of people in 'Godmen', without analysing the reality, leave people trapped in the end. In Pather Panchali or Song of the Road, Ray shows how Apu and Durga enjoy their childhood despite their poverty. The innocence and mirth of childhood offers a sharp contrast with the disconsolate faces of other adults in the family who are affected by the present harsh situations. A critique of autocracy is found in his film Hirak Rajar Deshe or In the Country of the Diamond King which is an overall political satire. Although Satyajit Ray's films are deeply rooted in Bengali culture, they have a universal significance, and much of it is perhaps because his film making is heavily inspired by neo-realist principles.

SubQuestion No : 23

Q.23 Which film by Satyajit Ray deals with the portrayal of childhood?

- Ans
- 1. Devi
 - 2. Hirak Rajar Deshe
 - 3. Pather Panchali
 - 4. Mahapurush

Question ID : 264330134175

Status : Answered

Chosen Option : 3

Comprehension:

Read the given passage and answer the questions that follow.

Satyajit Ray's films are rich in sociological elements which portray themes like faulty social structures, childhood experiences, poverty-stricken India, rural life, complexities in relationships and politics, religion, gender and on. Films like Devi or The Goddess and Mahapurush or The Godman show how religion becomes a breeding ground of superstitions and how the blind faith of people in 'Godmen', without analysing the reality, leave people trapped in the end. In Pather Panchali or Song of the Road, Ray shows how Apu and Durga enjoy their childhood despite their poverty. The innocence and mirth of childhood offers a sharp contrast with the disconsolate faces of other adults in the family who are affected by the present harsh situations. A critique of autocracy is found in his film HIRAK RAJAR DESHE or In the Country of the Diamond King which is an overall political satire. Although Satyajit Ray's films are deeply rooted in Bengali culture, they have a universal significance, and much of it is perhaps because his film making is heavily inspired by neo-realist principles.

SubQuestion No : 24

Q.24 Which of the following is NOT a theme of any of Satyajit Ray's movies, according to the passage?

- Ans
- 1. Rural life
 - 2. Complexities in relationships
 - 3. Faulty social structures
 - 4. Motivational life stories

Question ID : 264330134176

Status : Answered

Chosen Option : 4

Comprehension:

Read the given passage and answer the questions that follow.

Satyajit Ray's films are rich in sociological elements which portray themes like faulty social structures, childhood experiences, poverty-stricken India, rural life, complexities in relationships and politics, religion, gender and on. Films like Devi or The Goddess and Mahapurush or The Godman show how religion becomes a breeding ground of superstitions and how the blind faith of people in 'Godmen', without analysing the reality, leave people trapped in the end. In Pather Panchali or Song of the Road, Ray shows how Apu and Durga enjoy their childhood despite their poverty. The innocence and mirth of childhood offers a sharp contrast with the disconsolate faces of other adults in the family who are affected by the present harsh situations. A critique of autocracy is found in his film HIRAK RAJAR DESHE or In the Country of the Diamond King which is an overall political satire. Although Satyajit Ray's films are deeply rooted in Bengali culture, they have a universal significance, and much of it is perhaps because his film making is heavily inspired by neo-realist principles.

SubQuestion No : 25

Q.25 Which film by Satyajit Ray deals with the theme of autocracy?

- Ans
- 1. Devi
 - 2. Mahapurush
 - 3. HIRAK RAJAR DESHE
 - 4. Pather Panchali

Question ID : 264330134173

Status : Answered

Chosen Option : 3

Phase-XI/2023/Selection Posts and Selection Posts/Ladakh/2023

Roll Number	Selection Post
Candidate Name	Selection Post
Venue Name	iON Digital Zone iDZ Arrah
Exam Date	28/06/2023
Exam Time	5:15 PM - 6:15 PM
Subject	Selection Post Matriculation Level

Section : General Intelligence

Q.1 उस विकल्प का चयन कीजिए जो तीसरे शब्द से उसी प्रकार संबंधित है जिस प्रकार दूसरा शब्द पहले शब्द से संबंधित है। (शब्दों को अर्थपूर्ण हिंदी शब्दों के रूप में माना जाना चाहिए और शब्द में अक्षरों की संख्या/व्यंजनों/स्वरों की संख्या के आधार पर वे एक-दूसरे से संबंधित नहीं होने चाहिए।)

योद्धा : युद्धक्षेत्र :: जुआरी : ?

- Ans
- 1. जुआखाना (Casino)
 - 2. गराज (Garage)
 - 3. खेत (Field)
 - 4. कारखाना (Factory)

Question ID : 264330142867

Status : Answered

Chosen Option : 1

Q.2 उस विकल्प का चयन करें जो चौथे पद से उसी प्रकार संबंधित है जिस प्रकार पहला पद दूसरे पद से संबंधित है और पाँचवां पद छठे पद से संबंधित है।
7 : 58 :: ? : 370 :: 12 : 153

- Ans
- 1. 18
 - 2. 20
 - 3. 19
 - 4. 21

Question ID : 26433040802

Status : Answered

Chosen Option : 3

Q.3 निम्नलिखित में से कौन-सा अक्षर-समूह दी गई शृंखला में प्रश्नचिह्न (?) के स्थान पर आएगा?
BW, DV, ET, GS, HQ, JP, ?

- Ans
- 1. LN
 - 2. JN
 - 3. KN
 - 4. MN

Question ID : 26433057204

Status : Answered

Chosen Option : 3

Q.4 उस विकल्प का चयन कीजिए जो उन अक्षरों का निरूपण करते हैं, जिन्हें नीचे दिए गए रिक्त स्थान में क्रमिक रूप से बाएं से दाएं रखे जाने पर अक्षर श्रृंखला पूर्ण हो जाए।

_BC_C_A_CDC_AB_D_B

- Ans
- 1. ADBBBCA
 - 2. AABBBCCD
 - 3. DBBBBCC
 - 4. ADBBBCC

Question ID : 26433069624

Status : Answered

Chosen Option : 4

Q.5 'A # B' का अर्थ है 'A, B का भाई है'।
'A @ B' का अर्थ है 'A, B की पुत्री है'।
'A & B' का अर्थ है 'A, B का पति है'।
'A % B' का अर्थ है 'A, B की पत्नी है'।
यदि D @ N @ H & Y @ F % V है, तो Y, D से किस प्रकार संबंधित है?

- Ans
- 1. बुआ
 - 2. सास
 - 3. माँ
 - 4. नानी

Question ID : 264330142906

Status : Not Answered

Chosen Option : --

Q.6 जब दर्पण को MN पर दिखाए गए अनुसार रखा गया है, तो दिए गए संयोजन के सही दर्पण प्रतिबिंब का चयन कीजिए।

L Q d 5 8 9 2 K



- Ans
- 1. K 2 8 9 5 d Q L
 - 2. K 2 8 9 5 d Q L
 - 3. K 2 8 9 5 d Q L
 - 4. K 2 8 9 5 d Q L

Question ID : 264330143262

Status : Answered

Chosen Option : 4

Q.7 इस प्रश्न में तीन कथन दिए गए हैं, जिसके बाद दो निष्कर्ष I और II दिए गए हैं। कथनों को सत्य मानते हुए, भले ही वे सर्वज्ञात तथ्यों से भिन्न प्रतीत होते हों, निर्णय कीजिए कि कौन-सा/से निष्कर्ष कथनों का तार्किक रूप से अनुसरण करता है/अनुसरण करते हैं।

कथन:
सभी कैडीज, जेम्स हैं।
सभी जेम्स, केक हैं।
कुछ केक, मिठाई हैं।

निष्कर्ष:
I. सभी कैडीज, केक हैं।
II. कुछ जेम्स, मिठाई हैं।

- Ans
- 1. केवल निष्कर्ष II अनुसरण करता है।
 - 2. केवल निष्कर्ष I अनुसरण करता है।
 - 3. न तो निष्कर्ष I और न ही II अनुसरण करता है।
 - 4. निष्कर्ष I और II दोनों अनुसरण करते हैं।

Question ID : 26433070377

Status : Answered

Chosen Option : 4

Q.8 उस विकल्प का चयन करें जो दिए गए शब्दों के उस सही क्रम को दर्शाता है, जिस क्रम में वे अंग्रेजी शब्दकोश में दिखाई देते हैं।

1. Base
2. Barrier
3. Basin
4. Basic
5. Batter
6. Battle

- Ans
- 1. 2, 1, 4, 3, 6, 5
 - 2. 2, 1, 4, 3, 5, 6
 - 3. 2, 4, 3, 6, 5, 1
 - 4. 2, 1, 3, 4, 6, 5

Question ID : 264330142923

Status : Answered

Chosen Option : 2

Q.9 उस विकल्प का चयन कीजिए जो पाँचवें पद से उसी प्रकार संबंधित है जिस प्रकार दूसरा पद पहले पद से संबंधित है और चौथा पद तीसरे पद से संबंधित है।

HISTORY : HIOTSRY :: FEATURE : FEUTARE :: JOURNAL : ?

- Ans
- 1. JOUNRAL
 - 2. JORNUAL
 - 3. JONRUAL
 - 4. JORUNAL

Question ID : 264330142838

Status : Answered

Chosen Option : 3

Q.10 उस विकल्प का चयन कीजिए जो तीसरे शब्द से उसी प्रकार संबंधित है जिस प्रकार दूसरा शब्द पहले शब्द से संबंधित है। (शब्दों को अर्थपूर्ण हिंदी शब्दों के रूप में माना जाना चाहिए और शब्द में अक्षरों की संख्या/व्यंजनों/स्वरों की संख्या के आधार पर वे एक-दूसरे से संबंधित नहीं होने चाहिए।)

कलम : लिखना :: फावड़ा : ?

- Ans
- 1. बढ़ाना (Amplify)
 - 2. देखना (View)
 - 3. खोदना (Scoop)
 - 4. भरना (Feed)

Question ID : 264330142868

Status : Answered

Chosen Option : 3

Q.11 तीन कथन दिए गए हैं, जिसके बाद तीन निष्कर्ष I, II और III दिए गए हैं। कथनों को सत्य मानते हुए, भले ही वे सामान्य रूप से ज्ञात तथ्यों से भिन्न प्रतीत होते हों, निश्चित करें कि कौन-सा/से निष्कर्ष कथनों का तार्किक रूप से अनुसरण करता है/करते हैं।

कथन:

सभी बोटल, इमारतें हैं।
कुछ इमारतें, छोटी हैं।
कुछ छोटी, लड़कियां हैं।

निष्कर्ष:

I. कुछ इमारतें, बोटल हैं।
II. सभी इमारतें, छोटी हैं।
III. कुछ लड़कियां, छोटी हैं।

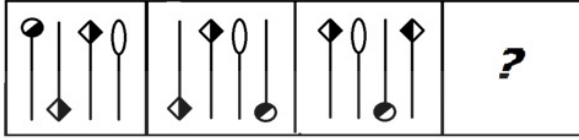
- Ans
- 1. केवल निष्कर्ष I और II अनुसरण करते हैं।
 - 2. सभी निष्कर्ष अनुसरण करते हैं।
 - 3. केवल निष्कर्ष I और III अनुसरण करते हैं।
 - 4. केवल निष्कर्ष II और III अनुसरण करते हैं।

Question ID : 26433092645

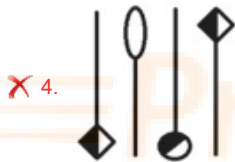
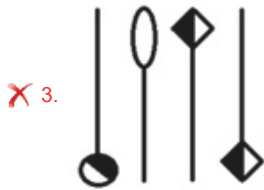
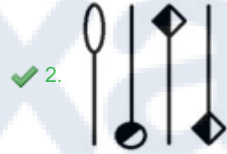
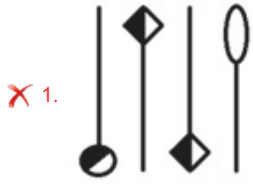
Status : Answered

Chosen Option : 3

Q.12 उत्तर आकृतियों में से उस सही आकृति का चयन कीजिए, जो प्रश्नचिह्न (?) को प्रतिस्थापित करेगी।



Ans



Question ID : 264330143267

Status : Answered

Chosen Option : 2

Q.13 * चिह्नों को प्रतिस्थापित करने और दिए गए समीकरण को संतुलित करने के लिए गणितीय चिह्नों के सही संयोजन का चयन कीजिए।
 $59 * 11 * 11 * 48 * 1 * 12$

Ans ✗ 1. -, +, +, x, =

✗ 2. x, -, +, ÷, =

✗ 3. -, +, +, x, =

✓ 4. +, ÷, -, x, =

Question ID : 264330142885

Status : Answered

Chosen Option : 4

Prepare 50% Faster

Q.14 'A # B' का अर्थ है 'A, B का पिता है'।
'A @ B' का अर्थ है 'A, B का भाई है'।
'A & B' का अर्थ है 'A, B का पति है'।
'A % B' का अर्थ है 'A, B की माता है'।
यदि D # L @ M & N % P @ T है, तो L का P से क्या संबंध है?

- Ans
- 1. भतीजा
 - 2. साला
 - 3. चाची
 - 4. चाचा

Question ID : 26433091635

Status : Not Answered

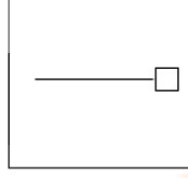
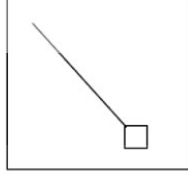
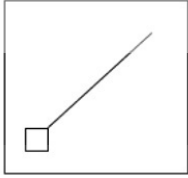
Chosen Option : --

Prepare 50% Faster

ExamBee

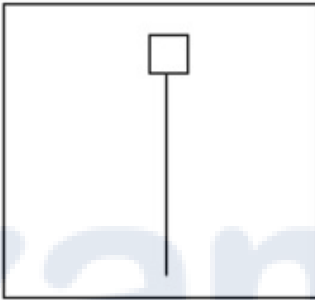
Prepare 50% Faster

Q.15 उस आकृति का चयन करें, जो निम्नलिखित शृंखला में प्रश्न-चिह्न (?) को प्रतिस्थापित करेगी।

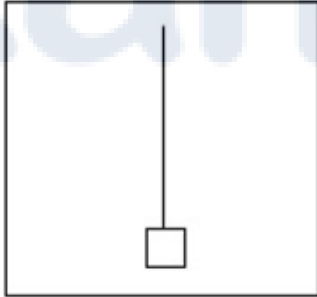


Ans

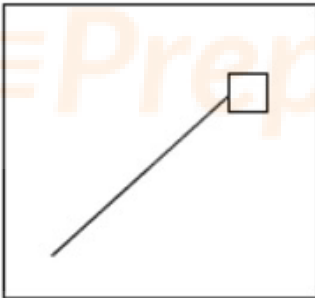
✗ 1.



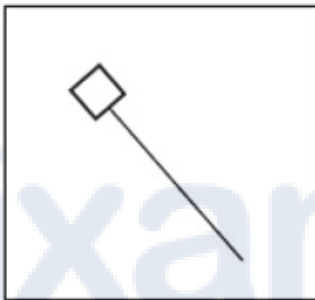
✓ 2.



✗ 3.



✗ 4.



Question ID : 264330143273

Status : Answered

Chosen Option : 2

Q.16 उस विकल्प का चयन करें जो उन अक्षरों का निरूपण करता है, जिन्हें नीचे श्रृंखला में दिए गए रिक्त स्थानों पर बाएं से दाएं क्रमिक रूप से रखने पर श्रृंखला पूर्ण हो जाएगी।

_ T _ O E _ U _ E _ _ O _ _ U O

- Ans
- 1. EUEOTUET
 - 2. EUTOTUEU
 - 3. EUTOTUET
 - 4. EUTUTUET

Question ID : 264330142852

Status : Answered

Chosen Option : 3

Q.17 कौन-सा अक्षर-समूह प्रश्न-चिह्न (?) को प्रतिस्थापित करेगा और दी गई श्रृंखला को पूरा करेगा?
BIRD, DMTG, ?, HUXM, JYZP

- Ans
- 1. FRWJ
 - 2. FQVJ
 - 3. FQWJ
 - 4. FRVJ

Question ID : 264330142910

Status : Answered

Chosen Option : 2

Q.18 * चिह्नों को क्रमानुसार प्रतिस्थापित करने और दिए गए समीकरण को संतुलित करने के लिए गणितीय चिह्नों के सही संयोजन का चयन करें।

$$\sqrt[3]{256 * 9 * 26 * 33 * (18 * 2) * (63 * 9)}$$

- Ans
- 1. +, +, =, -, x, +, +
 - 2. x, +, =, +, x, -, +
 - 3. x, +, -, +, x, =, +
 - 4. +, -, +, +, =, x, +

Question ID : 26433057656

Status : Not Answered

Chosen Option : --

Q.19 यहाँ तीन कथनों के बाद तीन निष्कर्ष I, II और III दिए गए हैं। कथनों को सत्य मानते हुए, भले ही वे सामान्यतः ज्ञात तथ्यों से भिन्न प्रतीत होते हों, यह तय कीजिए कि कौन सा/से निष्कर्ष इन कथनों का तार्किक रूप से अनुसरण करता/करते है/हैं।

कथन:

सभी कुत्ते, बिल्लियाँ हैं।

कोई भी चमगादड़, बिल्ली नहीं है।

कुछ चूहे, चमगादड़ हैं।

निष्कर्ष:

I. कुछ बिल्लियाँ, चूहे हैं।

II. कुछ कुत्ते, चमगादड़ हैं।

III. कोई भी कुत्ता, चमगादड़ नहीं है।

- Ans
- 1. निष्कर्ष I और II दोनों अनुसरण करते हैं।
 - 2. केवल निष्कर्ष III अनुसरण करता है।
 - 3. केवल निष्कर्ष I अनुसरण करता है।
 - 4. निष्कर्ष I और III दोनों अनुसरण करते हैं।

Question ID : 264330142875

Status : Answered

Chosen Option : 2

Q.20 उस विकल्प का चयन कीजिए जो पाँचवें पद से उसी प्रकार संबंधित है जैसे दूसरा पद पहले पद से और चौथा पद तीसरे पद से संबंधित है।

CORRECT : ROCRTCE :: WRONGLY : ORWNYLG :: NEUTRAL : ?

- Ans
- 1. LARTUEN
 - 2. ENUTRLA
 - 3. RALTNEW
 - 4. UENTLAR

Question ID : 264330142845

Status : Answered

Chosen Option : 4

Q.21 उस विकल्प का चयन कीजिए जो दिए गए शब्दों को तार्किक और सार्थक ढंग से सही क्रम व्यवस्था में दर्शाता है।

1. पखवाड़ा
2. वर्ष
3. महीना
4. दशक
5. सप्ताह

- Ans
- 1. 2, 4, 5, 3, 1
 - 2. 4, 2, 3, 1, 5
 - 3. 4, 2, 3, 5, 1
 - 4. 2, 4, 3, 5, 1

Question ID : 264330125996

Status : Answered

Chosen Option : 3

Q.22 उस विकल्प का चयन करें, जो दिए गए शब्दों की सही व्यवस्था को उस क्रम में इंगित करता है, जिस क्रम में वे अंग्रेजी शब्दकोश में दिखाई देते हैं।

1. Reduce
2. Refer
3. Redress
4. Reedy
5. Redeem

- Ans
- 1. 4, 3, 5, 2, 1
 - 2. 5, 1, 4, 3, 2
 - 3. 4, 5, 1, 2, 3
 - 4. 5, 3, 1, 4, 2

Question ID : 264330126647

Status : Answered

Chosen Option : 4

Q.23 एक निश्चित कूट भाषा में 'CARRY' को 'DBSSZ' लिखा जाता है और 'DELAY' को 'EFMBZ' लिखा जाता है। उस भाषा में 'FAITH' को कैसे लिखा जाएगा?

- Ans
- 1. GBJUI
 - 2. KCJVI
 - 3. GCKVJ
 - 4. HBKUJ

Question ID : 26433056559

Status : Answered

Chosen Option : 1

Q.24 उस विकल्प का चयन करें जो चौथे पद से उसी प्रकार संबंधित है जिस प्रकार पहला पद दूसरे पद से संबंधित है और पाँचवां पद छठे पद से संबंधित है।

28 : 841 :: ? : 324 :: 2 : 9

- Ans
- 1. 19
 - 2. 7
 - 3. 22
 - 4. 17

Question ID : 26433040800
Status : Answered
Chosen Option : 4

Q.25 A + B' का अर्थ है 'A, B की बहन है'।
'A - B' का अर्थ है 'A, B की माँ है'।
'A × B' का अर्थ है 'A, B का पति है'।
'A ÷ B' का अर्थ है 'A, B का ससुर है'।
यदि $U ÷ V - W + X × Y$, तो निम्नलिखित में से कौन-सा कथन सही नहीं है?

- Ans
- 1. Y, W की बहन है।
 - 2. W, U की पोती/नतिनी है।
 - 3. V, X की माँ है।
 - 4. W, Y की ननद/भाभी/देवरानी/जेठानी है।

Question ID : 26433095990
Status : Not Answered
Chosen Option : --

Section : General Awareness

Q.1 स्वामी दयानंद के कुछ अनुयायियों ने D.A.V. नामक स्कूलों और कॉलेजों का एक नेटवर्क शुरू किया। D.A.V. में 'A' का पूर्ण रूप क्या है?

- Ans
- 1. Anglo (एंग्लो)
 - 2. Author (ऑथर)
 - 3. Angel (ऐंजेल)
 - 4. Accept (एक्सेप्ट)

Question ID : 26433082080
Status : Answered
Chosen Option : 1

Q.2 भारत के संविधान द्वारा केंद्र और राज्यों दोनों में किस प्रकार की सरकार स्थापित की जाती है?

- Ans
- 1. संघीय
 - 2. राष्ट्रपतीय
 - 3. समाजवादी
 - 4. संसदीय

Question ID : 26433086772
Status : Answered
Chosen Option : 4

Q.3 2 अक्टूबर 2021 को किस भारतीय राज्य ने CLAP मिशन शुरू किया?

- Ans
- 1. उत्तर प्रदेश
 - 2. आंध्र प्रदेश
 - 3. हिमाचल प्रदेश
 - 4. अरुणाचल प्रदेश

Question ID : 26433086870
Status : Not Answered
Chosen Option : --

Q.4 दिसंबर 2021 में, 200 टेस्ट विकेट लेने वाले तीसरे सबसे तेज भारतीय तेज गेंदबाज कौन बने?

- Ans
- 1. मोहम्मद शमी
 - 2. भुवनेश्वर कुमार
 - 3. जसप्रीत बुमराह
 - 4. इशांत शर्मा

Question ID : 264330142689
Status : Answered
Chosen Option : 1

Q.5 'जोंगखा (Dzongkha)' किस देश की राजभाषा है?

- Ans
- 1. भूटान
 - 2. बांग्लादेश
 - 3. म्यांमार
 - 4. मालदीव

Question ID : 264330113310
Status : Answered
Chosen Option : 1

Q.6 एक बहुकोशिकीय तंतुमय हरा शैवाल कौन-सा है, जिसमें बेलनाकार कोशिकाओं की पतली अशाखित श्रृंखलाएं होती हैं और जो धाराओं और तालाबों की सतह के पास तैरते हुए समूहों के रूप में पाया जाता है?

- Ans
- 1. एक्टोकार्पस
 - 2. क्लोरेला
 - 3. स्पाइरोगाइरा
 - 4. लैमिनेरिया

Question ID : 264330142711
Status : Marked For Review
Chosen Option : 4

Q.7 ब्रिटिश भारत के निम्नलिखित में से किस समाज सुधारक को लोकहितवादी के नाम से जाना जाता है?

- Ans
- 1. गोपाल गणेश अग्रकर
 - 2. गोपाल हरि देशमुख
 - 3. दाबोदा पांडुरंग
 - 4. बालशास्त्री जम्भेकर

Question ID : 26433065570
Status : Answered
Chosen Option : 2

Q.8 प्राचीन भारतीय इतिहास के किस काल में मिट्टी के बर्तनों का पता लगाया गया था?

- Ans
- 1. नवपाषाण
 - 2. ताम्रपाषाण
 - 3. पुरापाषाण
 - 4. मध्यपाषाण

Question ID : 264330108991

Status : Answered

Chosen Option : 1

Q.9 हॉकी में, यदि अंपायर एक बाजू उठाकर क्षैतिज रूप से दिशा का संकेत करता है, तो इसका आशय क्या है?

- Ans
- 1. बुल्ली
 - 2. फ्री हिट
 - 3. बनाए गए गोल
 - 4. अवधि

Question ID : 26433054701

Status : Answered

Chosen Option : 2

Q.10 निम्नलिखित में से किसने 'वर्ल्ड कोरियोग्राफी अवार्ड 2020' जीता था?

- Ans
- 1. प्रभु देवा
 - 2. फराह खान
 - 3. गीता कपूर
 - 4. सुरेश मुकुंद

Question ID : 26433097102

Status : Answered

Chosen Option : 4

Q.11 निम्नलिखित में से कौन-सा कथन भारतीय रेगिस्तान की विशिष्ट विशेषताओं के बारे में गलत है?

- Ans
- 1. यह अरावली पहाड़ियों के उत्तर पश्चिम में स्थित है।
 - 2. यहां प्रति वर्ष 250 mm वर्षा होती है।
 - 3. इसमें रेत के टीले हैं।
 - 4. इसे मरुस्थली के नाम से भी जाना जाता है।

Question ID : 264330142781

Status : Answered

Chosen Option : 2

Q.12 30°-40° अक्षांशों के बीच उपोष्णकटिबंधीय अक्षांशों में महाद्वीपों के पश्चिमी तट के साथ किस प्रकार की जलवायु होती है, जो दक्षिण पूर्व और दक्षिण पश्चिमी ऑस्ट्रेलिया में तट के साथ मध्य कैलिफोर्निया, मध्य चिली को कवर करती है?

- Ans
- 1. भूमध्य जलवायु
 - 2. आर्द्र उपोष्णकटिबंधीय जलवायु
 - 3. उपोष्णकटिबंधीय मैदानी जलवायु
 - 4. समुद्री पश्चिमी तट जलवायु

Question ID : 264330142720

Status : Answered

Chosen Option : 2

Q.13 1948 में, अर्नेस्ट मैके ने उल्लेख किया कि हड़प्पा शहर, लोथल में, जल निकासी व्यवस्था के लिए नालियों को _____ ईंटों से बनाया गया था।

- Ans
- 1. पकी
 - 2. मिट्टी की
 - 3. लाल
 - 4. बलुआ पत्थर की

Question ID : 26433072652
Status : Answered
Chosen Option : 1

Q.14 2011 की जनगणना के अनुसार, भारत में कुल जनसंख्या का कितना प्रतिशत ग्रामीण क्षेत्रों में रहता है?

- Ans
- 1. 58.8%
 - 2. 68.8%
 - 3. 66.8%
 - 4. 67.8%

Question ID : 264330142775
Status : Answered
Chosen Option : 2

Q.15 निम्नलिखित में से किसने 2022 में राज्य के बजट में महिलाओं के लिए 'सुषमा स्वराज पुरस्कार' की घोषणा की?

- Ans
- 1. अशोक गहलोत
 - 2. अमरिंदर सिंह
 - 3. योगी आदित्यनाथ
 - 4. मनोहर लाल खट्टर

Question ID : 26433061838
Status : Answered
Chosen Option : 3

Q.16 कृष्णा और तुंगभद्रा के बीच की भूमि, रायचूर दोआब, विजयनगर और _____ के राजाओं के बीच संघर्ष का कारण थी।

- Ans
- 1. मालवा
 - 2. बंगाल
 - 3. बहमनी
 - 4. गोलकुंडा

Question ID : 26433081942
Status : Answered
Chosen Option : 3

Q.17 निम्नलिखित में से किस राज्य में गुरुंग समुदाय द्वारा तमु लोसार त्यौहार नये साल के तौर पर मनाया जाता है?

- Ans
- 1. गोवा
 - 2. सिक्किम
 - 3. असम
 - 4. मध्य प्रदेश

Question ID : 264330141231
Status : Answered
Chosen Option : 1

Q.18 भारत का चुनाव आयोग अपने इतिहास में पहली बार किस वर्ष बहुसंदस्यीय निकाय बना?

- Ans
- 1. 2004
 - 2. 1995
 - 3. 2014
 - 4. 1989

Question ID : 264330114492

Status : Answered

Chosen Option : 2

Q.19 _____ एक भूणीय मध्य रेखा संरचना है जो कॉर्डेटा संघ के सभी सदस्यों में पाई जाती है और जो आसपास के ऊतकों के लिए मध्य रेखा संकेतों के स्रोत के रूप में और विकासशील भ्रूण के एक प्रमुख कंकाल तत्व के रूप में कार्य करती है।

- Ans
- 1. गुदा
 - 2. पुच्छ पख
 - 3. तंत्रिका रज्जु
 - 4. पृष्ठ रज्जु

Question ID : 264330142713

Status : Answered

Chosen Option : 3

Q.20 हाउ आई बिकेम ए हिंदू' _____ की आत्मकथा है।

- Ans
- 1. कमला सुरैया
 - 2. किरण बेदी
 - 3. सीता राम गोयल
 - 4. परमहंस योगानंद

Question ID : 264330141362

Status : Answered

Chosen Option : 2

Q.21 हिदेकी युकावा (Hideki Yukawa) को किस खोज के लिए 1949 में नोबेल पुरस्कार प्रदान किया गया था?

- Ans
- 1. ब्रह्मांडीय विकिरण की कैस्केड प्रक्रिया
 - 2. तापीय आयनीकरण
 - 3. इलेक्ट्रॉनिक आवेश का मापन
 - 4. परमाणु बलों का सिद्धांत

Question ID : 264330142737

Status : Answered

Chosen Option : 3

Q.22 निम्नलिखित में से कौन-सा भारत के लघु औद्योगिक क्षेत्र का उदाहरण नहीं है?

- Ans
- 1. हुगली क्षेत्र
 - 2. दुर्ग-रायपुर क्षेत्र
 - 3. उत्तरी मालाबार क्षेत्र
 - 4. अंबाला-अमृतसर क्षेत्र

Question ID : 264330142798

Status : Answered

Chosen Option : 2

Q.23 निम्नलिखित में से किसे मेजर ध्यानचंद खेल रत्न पुरस्कार 2021 से सम्मानित किया गया?

- Ans
- 1. प्रमोद भगत
 - 2. हरविंदर सिंह
 - 3. शरद कुमार
 - 4. अमित रोहिदास

Question ID : 26433072906
Status : Answered
Chosen Option : 1

Q.24 शहनाई को शादी के मंडप से कॉन्सर्ट हॉल तक ले जाने का श्रेय निम्नलिखित में से किसे जाता है?

- Ans
- 1. राजेंद्र प्रसन्ना
 - 2. उस्ताद बिस्मिल्लाह खाँ
 - 3. अली अहमद हुसैन खाँ
 - 4. अनंत लाल

Question ID : 264330141394
Status : Answered
Chosen Option : 2

Q.25 सुरूपा सेन एक मशहूर _____ नृत्यांगना हैं।

- Ans
- 1. कथकली
 - 2. कथक
 - 3. भरतनाट्यम्
 - 4. ओड़िसी

Question ID : 264330141228
Status : Answered
Chosen Option : 3

Section : Quantitative Aptitude

Q.1 $\frac{625}{2401}$ और $\frac{49}{25}$ का माध्यानुपाती ज्ञात करें।

- Ans
- 1. $\frac{7}{5}$
 - 2. $\frac{25}{49}$
 - 3. $\frac{49}{25}$
 - 4. $\frac{5}{7}$

Question ID : 264330103409
Status : Answered
Chosen Option : 4

Q.2 मेधा बाइक से 27 km/h की गति से 81 km, साइकिल से 6 km/h की गति से 12 km और कार से 45 km/h की गति से 270 km की दूरी तय करती है। पूरी यात्रा के लिए उसकी औसत गति ज्ञात कीजिए।

- Ans
- 1. 35 km/h
 - 2. 36 km/h
 - 3. 33 km/h
 - 4. 34 km/h

Question ID : 264330142246

Status : Answered

Chosen Option : 2

Q.3 प्रथम 38 प्राकृत संख्याओं का औसत ज्ञात कीजिए।

- Ans
- 1. 16.5
 - 2. 20.5
 - 3. 19
 - 4. 19.5

Question ID : 264330102319

Status : Answered

Chosen Option : 3

Q.4 एक दुकानदार ने एक वस्तु को 25% लाभ पर बेचा। इसे ₹225 अधिक में बेचने पर उसे 40% का लाभ प्राप्त होता। वस्तु का क्रय मूल्य क्या था?

- Ans
- 1. ₹1,200
 - 2. ₹1,500
 - 3. ₹1,350
 - 4. ₹1,800

Question ID : 26433087359

Status : Answered

Chosen Option : 2

Q.5 13 आदमी एक कार्य को 7 दिनों में पूरा कर सकते हैं। 3 दिनों के बाद, 4 और पुरुष उनके साथ जुड़ गए। शेष कार्य को अब वे कितने दिनों में पूरा करेंगे?

- Ans
- 1. $3\frac{4}{17}$ दिन
 - 2. $3\frac{2}{17}$ दिन
 - 3. $3\frac{3}{17}$ दिन
 - 4. $3\frac{1}{17}$ दिन

Question ID : 264330142250

Status : Answered

Chosen Option : 4

Q.6 यदि $a : b : c = 4 : 7 : 9$ और $b : c : d = 28 : 36 : 21$ है, तो $a : b : c : d$ क्या होगा?

- Ans
- 1. $4 : 7 : 9 : 11$
 - 2. $12 : 21 : 27 : 17$
 - 3. $8 : 14 : 18 : 21$
 - 4. $16 : 28 : 36 : 21$

Question ID : 264330142256

Status : Not Answered

Chosen Option : --

Q.7 चार संख्याओं का औसत 44 था। पाँचवीं संख्या y को शामिल करने के साथ, नया औसत 42 हो गया। y का मान क्या है?

- Ans
- 1. 36
 - 2. 32
 - 3. 34
 - 4. 40

Question ID : 264330103237

Status : Answered

Chosen Option : 3

Q.8 राजेश अपने सामान पर क्रय मूल्य से 30% अधिक मूल्य अंकित करता है लेकिन नकद भुगतान पर 12% की छूट देता है। यदि वह सामान को ₹3,500 में बेचता है, तो उसका क्रय मूल्य (दशमलव के एक स्थान तक) ज्ञात कीजिए।

- Ans
- 1. ₹3,090.5
 - 2. ₹3,059.4
 - 3. ₹3,095.9
 - 4. ₹3,054.9

Question ID : 26433099035

Status : Answered

Chosen Option : 2

Q.9 X और Y की कुल बचत उनकी कुल आय की 40% है। उनका औसत व्यय ₹21,000 है। X और Y का कुल वेतन कितना है?

- Ans
- 1. ₹70,000
 - 2. ₹60,000
 - 3. ₹65,000
 - 4. ₹55,000

Question ID : 26433081557

Status : Answered

Chosen Option : 1

Q.10 एक व्यक्ति 11 km की दूरी 3 km/h की चाल से, 21 km की दूरी 5 km/h की चाल से और 37 km की दूरी 10 km/h की चाल से तय करता है। पूरी यात्रा की औसत चाल ज्ञात कीजिए।

Ans

✗ 1. $5 \frac{135}{347}$ km/h

✗ 2. $5 \frac{347}{335}$ km/h

✗ 3. $5 \frac{235}{247}$ km/h

✓ 4. $5 \frac{335}{347}$ km/h

Question ID : 26433074221

Status : Not Answered

Chosen Option : --

Q.11 एक आदमी एक साइकिल को 10% नुकसान पर ₹990 में बेचता है। 24% लाभ कमाने के लिए उसे साइकिल कितनी कीमत (₹ में) पर बेचनी चाहिए?

Ans

✓ 1. 1,364

✗ 2. 1,380

✗ 3. 1,664

✗ 4. 1,640

Question ID : 264330142588

Status : Answered

Chosen Option : 1

Q.12 अन्विता की मासिक आय ₹28,500 थी और उसका मासिक खर्च ₹22,500 था। अगले वर्ष उसकी आय में 16% की वृद्धि हुई और उसके व्यय में 10% की वृद्धि हुई। उसकी बचत में प्रतिशत वृद्धि ज्ञात कीजिए।

Ans

✗ 1. 35.5 प्रतिशत

✗ 2. 35.8 प्रतिशत

✓ 3. 38.5 प्रतिशत

✗ 4. 21.05 प्रतिशत

Question ID : 26433074334

Status : Not Answered

Chosen Option : --

Q.13 21 cm त्रिज्या वाले लोहे के एक ठोस गोले को पिघलाकर 84 cm ऊँचाई वाला एक शंकु बनाया जाता है। शंकु की त्रिज्या क्या होगी?

Ans

✗ 1. 28 cm

✗ 2. 24 cm

✗ 3. 32 cm

✓ 4. 21 cm

Question ID : 264330142754

Status : Answered

Chosen Option : 4

Q.14 8 cm व्यास की एक गोलाकार गेद को दो बराबर भागों में काटा जाता है। इस तरह के एक हिस्से के वक्रित क्षेत्रफल को हरे रंग से रंगना है, जबकि दूसरे हिस्से को लाल रंग से रंगना है। दोनों गोलार्धों के आधारों को नीले रंग से रंगना है। नीले रंग से रंगने की लागत ₹2/cm² है, जबकि वक्रित क्षेत्रफल को रंगने की लागत ₹3/cm² है। गोलार्धों को रंगने की लागत (₹ में) क्या होगा?
 $\pi = 3.14$ लीजिए

- Ans
- 1. ₹803.84
 - 2. ₹492.92
 - 3. ₹401.92
 - 4. ₹451.92

Question ID : 26433081652
Status : Not Answered
Chosen Option : --

Q.15 रवि ने एक बैंक से ₹1,380 उधार लिए, जिसे उसने 6% वार्षिक साधारण ब्याज की दर से 6 वर्षों में चुका दिया। यदि भुगतान छह समान किस्तों में किया गया था, तो प्रत्येक किस्त की राशि कितनी थी?

- Ans
- 1. ₹220
 - 2. ₹180
 - 3. ₹190
 - 4. ₹200

Question ID : 26433099599
Status : Not Answered
Chosen Option : --

Q.16 15 पुरुष एक कार्य को 15 दिनों में पूरा कर सकते हैं, जबकि 18 महिलाएं उसी कार्य को 15 दिनों में पूरा करती हैं। 20 पुरुष और 9 महिलाएं मिलकर इस कार्य को कितने दिनों में पूरा करेंगे? (दिनों की संख्या को पूरा करने के लिए पूर्णांकित कीजिए)

- Ans
- 1. 8
 - 2. 15
 - 3. 5
 - 4. 12

Question ID : 26433092029
Status : Answered
Chosen Option : 1

Q.17 संख्या 974581297426 निम्न में से किससे विभाज्य है?

- Ans
- 1. 6
 - 2. 9
 - 3. 11
 - 4. 4

Question ID : 264330126162
Status : Answered
Chosen Option : 3

Q.18 यदि एक विक्रेता 12 पाठ्यपुस्तकों को बेचकर 4 पाठ्यपुस्तकों के विक्रय मूल्य के बराबर लाभ अर्जित करता है, तो उसका लाभ प्रतिशत क्या है?

- Ans
- 1. 30%
 - 2. 25%
 - 3. 50%
 - 4. $16\frac{2}{3}\%$

Question ID : 26433082678
Status : Answered
Chosen Option : 3

Q.19 दिल्ली से चंडीगढ़ जाने में 60 km/h की औसत गति से 4 घंटे का समय लगता है। एक व्यक्ति को 50 km/h की औसत गति से दिल्ली से चंडीगढ़ जाने में कितना समय लगेगा?

- Ans
- 1. 4 घंटे 30 मिनट
 - 2. 4 घंटे 40 मिनट
 - 3. 5 घंटे
 - 4. 4 घंटे 48 मिनट

Question ID : 264330142277
Status : Answered
Chosen Option : 4

Q.20 12 और 36 का तृतीयानुपाती _____ है।

- Ans
- 1. 96
 - 2. 12
 - 3. 36
 - 4. 108

Question ID : 26433073021
Status : Answered
Chosen Option : 1

Q.21 कौन-सा वार्षिक भुगतान (₹ में) ₹1,500 के ऋण को 10 वर्षों में 5% वार्षिक साधारण ब्याज की दर से चुकाएगा? (दो दशमलव स्थानों तक सही)

- Ans
- 1. 111.44
 - 2. 122.44
 - 3. 125.44
 - 4. 123.44

Question ID : 264330102357
Status : Not Answered
Chosen Option : --

Q.22 ₹1,35,000 पर 6 साल के लिए $6\frac{3}{4}\%$ प्रति वर्ष की दर से साधारण ब्याज ज्ञात कीजिए।

- Ans
- 1. ₹54,575
 - 2. ₹54,675
 - 3. ₹54,875
 - 4. ₹54,475

Question ID : 264330142244
Status : Answered
Chosen Option : 2

Q.23 निम्नलिखित में से कौन-सी संख्या 120 द्वारा विभाज्य है?

- Ans
- 1. 170360
 - 2. 140240
 - 3. 156200
 - 4. 170280

Question ID : 264330142591
Status : Answered
Chosen Option : 3

Q.24 15% और 35% की दो क्रमागत छूटों के लिए शुद्ध छूट कितनी है?

- Ans
- 1. 25%
 - 2. 50%
 - 3. 44.57%
 - 4. 44.75%

Question ID : 264330122074
Status : Answered
Chosen Option : 3

Q.25 यदि एक परीक्षा में रोहन द्वारा प्राप्त अंक पवन के अंक से 36% कम है, तो पवन द्वारा प्राप्त अंक रोहन द्वारा प्राप्त अंकों से कितने प्रतिशत अधिक है?

- Ans
- 1. 56.25%
 - 2. 26.47%
 - 3. 63.25%
 - 4. 52.47%

Question ID : 26433063681
Status : Not Answered
Chosen Option : --

Section : English Language

Q.1 Select the most appropriate option to fill in the blank.

A fire _____ out in the basement of the house.

- Ans
- 1. burned
 - 2. breaking
 - 3. burnt
 - 4. broke

Question ID : 26433060084

Status : Answered

Chosen Option : 1

Q.2 Select the most appropriate meaning of the given idiom.

To go down in flames

- Ans
- 1. To mend permanently
 - 2. To take risks whole heartedly
 - 3. To burn completely
 - 4. To fail miserably at something

Question ID : 26433091742

Status : Answered

Chosen Option : 4

Q.3 Select the INCORRECTLY spelt word.

- Ans
- 1. Credulous
 - 2. Corporeale
 - 3. Diminutives
 - 4. Sagacious

Question ID : 26433060196

Status : Not Answered

Chosen Option : --

Q.4 Select the option that can be used as a one-word substitute for the given group of words.

The supervisor in the examination hall.

- Ans
- 1. Teacher
 - 2. Invigilator
 - 3. Monitor
 - 4. Principal

Question ID : 26433060102

Status : Answered

Chosen Option : 2

Q.5 Choose the most appropriate ANTONYM of the underlined word in the given sentence.

The melancholy song brought tears to my eyes.

- Ans
- 1. Ecstasy
 - 2. Seclusion
 - 3. Aesthetic
 - 4. Tremendousness

Question ID : 26433071838
Status : Answered
Chosen Option : 3

Q.6 Select the most appropriate option that can substitute the underlined segment in the given sentence. If there is no need to substitute it, select 'No substitution'.

For a little while Binod was the media's blue-eyed boy.

- Ans
- 1. big-name boy
 - 2. green-eyed boy
 - 3. No substitution
 - 4. blue-shirt boy

Question ID : 26433087931
Status : Answered
Chosen Option : 3

Q.7 Select the option that expresses the given sentence in active voice.
The gardening is done by Anil.

- Ans
- 1. Anil been done the gardening
 - 2. Anil is be done the gardening
 - 3. Anil does the gardening
 - 4. Anil had been done the gardening

Question ID : 264330132873
Status : Answered
Chosen Option : 3

Q.8 Select the most appropriate meaning of the underlined idiom.

Those were only crocodile tears.

- Ans
- 1. A weeping sign
 - 2. Mild regret
 - 3. Pretended sadness
 - 4. Very gloomy

Question ID : 26433088143
Status : Answered
Chosen Option : 1

Q.9 Select the INCORRECTLY spelt word.

- Ans
- 1. Admirable
 - 2. Cautious
 - 3. Impious
 - 4. Renonce

Question ID : 26433087935
Status : Answered
Chosen Option : 4

Q.10 Select the INCORRECTLY spelt word.

- Ans
- 1. Location
 - 2. Leftinant
 - 3. Longevity
 - 4. Ludicrous

Question ID : 26433088537
Status : Answered
Chosen Option : 2

Q.11 Select the most appropriate option to fill in the blank.

The weather report shows the _____ of rainfall.

- Ans
- 1. mobility
 - 2. validity
 - 3. probability
 - 4. tranquillity

Question ID : 26433060086
Status : Answered
Chosen Option : 3

Q.12 Select the correct direct narration of the given sentence.
They said that they would go the next day.

- Ans
- 1. They said, "We will go tomorrow."
 - 2. They said, "We will be go tomorrow."
 - 3. They said, "I will have went tomorrow."
 - 4. They said, "I would go tomorrow."

Question ID : 264330132788
Status : Answered
Chosen Option : 1

Q.13 Select the most appropriate meaning of the given idiom.

Ruffle someone's feathers

- Ans
- 1. Do something very easily
 - 2. Be relaxed and in control
 - 3. Make someone annoyed
 - 4. Make more of an effort

Question ID : 264330132896
Status : Answered
Chosen Option : 3

Q.14 Select the most appropriate option to fill in the blank.

Rome grew from a small town on the Tiber River in central Italy into a _____ empire that ultimately embraced England.

- Ans
- 1. vast
 - 2. lofty
 - 3. voluminous
 - 4. bountiful

Question ID : 26433060958
Status : Answered
Chosen Option : 2

Q.15 Select the most appropriate ANTONYM of the given word.

Humane

- Ans 1. merciless
 2. forgiving
 3. cordial
 4. generous

Question ID : 26433059804

Status : Not Answered

Chosen Option : --

Comprehension:

In the following passage, some words have been deleted. Read the passage carefully and select the most appropriate option to fill in each blank.

Shark Tank has struck a chord with the aspiring, hardworking people who have a (1)_____ and a stake in India's future in a very short period since its (2)_____. What is particularly exciting to observe are the stories from across India (3)_____ centre stage to carve out their individuality via entrepreneurial (4)_____. The Sharks have made incredible (5)_____ with new ventures ranging from gadget start-ups to food firms.

SubQuestion No : 16

Q.16 Select the most appropriate option to fill in blank number 1.

- Ans 1. vision
 2. consistency
 3. perception
 4. priority

Question ID : 26433096168

Status : Not Answered

Chosen Option : --

Comprehension:

In the following passage, some words have been deleted. Read the passage carefully and select the most appropriate option to fill in each blank.

Shark Tank has struck a chord with the aspiring, hardworking people who have a (1)_____ and a stake in India's future in a very short period since its (2)_____. What is particularly exciting to observe are the stories from across India (3)_____ centre stage to carve out their individuality via entrepreneurial (4)_____. The Sharks have made incredible (5)_____ with new ventures ranging from gadget start-ups to food firms.

SubQuestion No : 17

Q.17 Select the most appropriate option to fill in blank number 2.

- Ans 1. formation
 2. birth
 3. debut
 4. departure

Question ID : 26433096169

Status : Not Answered

Chosen Option : --

Prepare 50% Faster

Comprehension:

In the following passage, some words have been deleted. Read the passage carefully and select the most appropriate option to fill in each blank.

Shark Tank has struck a chord with the aspiring, hardworking people who have a (1)_____ and a stake in India's future in a very short period since its (2)_____. What is particularly exciting to observe are the stories from across India (3)_____ centre stage to carve out their individuality via entrepreneurial (4)_____. The Sharks have made incredible (5)_____ with new ventures ranging from gadget start-ups to food firms.

SubQuestion No : 18

Q.18 Select the most appropriate option to fill in blank number 3.

- Ans
- 1. reinventing
 - 2. measuring
 - 3. gratifying
 - 4. taking

Question ID : 26433096170

Status : Not Answered

Chosen Option : --

Comprehension:

In the following passage, some words have been deleted. Read the passage carefully and select the most appropriate option to fill in each blank.

Shark Tank has struck a chord with the aspiring, hardworking people who have a (1)_____ and a stake in India's future in a very short period since its (2)_____. What is particularly exciting to observe are the stories from across India (3)_____ centre stage to carve out their individuality via entrepreneurial (4)_____. The Sharks have made incredible (5)_____ with new ventures ranging from gadget start-ups to food firms.

SubQuestion No : 19

Q.19 Select the most appropriate option to fill in blank number 4.

- Ans
- 1. integrity
 - 2. limitation
 - 3. collaboration
 - 4. enthusiasm

Question ID : 26433096171

Status : Not Answered

Chosen Option : --

Comprehension:

In the following passage, some words have been deleted. Read the passage carefully and select the most appropriate option to fill in each blank.

Shark Tank has struck a chord with the aspiring, hardworking people who have a (1)_____ and a stake in India's future in a very short period since its (2)_____. What is particularly exciting to observe are the stories from across India (3)_____ centre stage to carve out their individuality via entrepreneurial (4)_____. The Sharks have made incredible (5)_____ with new ventures ranging from gadget start-ups to food firms.

SubQuestion No : 20

Q.20 Select the most appropriate option to fill in blank number 5.

- Ans
- 1. accounts
 - 2. association
 - 3. promises
 - 4. agreements

Question ID : 26433096172

Status : Not Answered

Chosen Option : --

Prepare 50% Faster

Comprehension:

Read the given passage and answer the questions that follow.

When it comes to nutrition, 'power foods' are those with a high concentration of nutrients, such fibre and potassium. A growing number of fitness trainers advise their customers to include these items in their regular diets in order to boost muscle growth. Power foods can be incorporated into your diet in a variety of ways. Of course, careful preparation, the use of season-fresh items and identifying your preferred flavour among power meals are the keys to enjoying these dishes.

Even if you're not a gourmet cook, you may find some of the best power food combos in your own pantry. Onions and chickpeas are an excellent pairing. In order for the body to deliver oxygen to all of its numerous parts, it needs iron. The symptoms of an iron deficiency include anaemia, fatigue, mental fog and exhaustion.

Bananas and yoghurt are another popular power food pairing. After a long football game, this is the ideal post-game snack. Exercising reduces blood sugar by reducing the amount of glucose in the bloodstream. Yoghurt is rich in protein and bananas are rich in carbohydrates, both of which aid in refuelling and preventing muscular stiffness after a workout.

Green tea is the best source of catechins, antioxidants that can protect cells from oxidative damage, in the beverage market. Adding a squeeze of lemon to green tea, say Purdue University researchers, increases the body's ability to absorb catechins. So, the next time you have friends around, serve them iced green tea with mint and lemon juice in a pitcher.

SubQuestion No : 21

Q.21 Identify the tone of the passage.

- Ans
- 1. Deductive
 - 2. Informative
 - 3. Assertive
 - 4. Imperative

Question ID : 264330102437

Status : Not Answered

Chosen Option : --

Comprehension:

Read the given passage and answer the questions that follow.

When it comes to nutrition, 'power foods' are those with a high concentration of nutrients, such fibre and potassium. A growing number of fitness trainers advise their customers to include these items in their regular diets in order to boost muscle growth. Power foods can be incorporated into your diet in a variety of ways. Of course, careful preparation, the use of season-fresh items and identifying your preferred flavour among power meals are the keys to enjoying these dishes.

Even if you're not a gourmet cook, you may find some of the best power food combos in your own pantry. Onions and chickpeas are an excellent pairing. In order for the body to deliver oxygen to all of its numerous parts, it needs iron. The symptoms of an iron deficiency include anaemia, fatigue, mental fog and exhaustion.

Bananas and yoghurt are another popular power food pairing. After a long football game, this is the ideal post-game snack. Exercising reduces blood sugar by reducing the amount of glucose in the bloodstream. Yoghurt is rich in protein and bananas are rich in carbohydrates, both of which aid in refuelling and preventing muscular stiffness after a workout.

Green tea is the best source of catechins, antioxidants that can protect cells from oxidative damage, in the beverage market. Adding a squeeze of lemon to green tea, say Purdue University researchers, increases the body's ability to absorb catechins. So, the next time you have friends around, serve them iced green tea with mint and lemon juice in a pitcher.

SubQuestion No : 22

Q.22 Who says that adding a squeeze of lemon to green tea increases the body's ability to absorb catechins?

- Ans
- 1. Kentucky University researchers
 - 2. Purdue University researchers
 - 3. Western Cape University researchers
 - 4. Harvard University researchers

Question ID : 264330102436

Status : Not Answered

Chosen Option : --

Prepare 50% Faster

Comprehension:

Read the given passage and answer the questions that follow.

When it comes to nutrition, 'power foods' are those with a high concentration of nutrients, such fibre and potassium. A growing number of fitness trainers advise their customers to include these items in their regular diets in order to boost muscle growth. Power foods can be incorporated into your diet in a variety of ways. Of course, careful preparation, the use of season-fresh items and identifying your preferred flavour among power meals are the keys to enjoying these dishes.

Even if you're not a gourmet cook, you may find some of the best power food combos in your own pantry. Onions and chickpeas are an excellent pairing. In order for the body to deliver oxygen to all of its numerous parts, it needs iron. The symptoms of an iron deficiency include anaemia, fatigue, mental fog and exhaustion.

Bananas and yoghurt are another popular power food pairing. After a long football game, this is the ideal post-game snack. Exercising reduces blood sugar by reducing the amount of glucose in the bloodstream. Yoghurt is rich in protein and bananas are rich in carbohydrates, both of which aid in refuelling and preventing muscular stiffness after a workout.

Green tea is the best source of catechins, antioxidants that can protect cells from oxidative damage, in the beverage market. Adding a squeeze of lemon to green tea, say Purdue University researchers, increases the body's ability to absorb catechins. So, the next time you have friends around, serve them iced green tea with mint and lemon juice in a pitcher.

SubQuestion No : 23

Q.23 Identify a suitable title for the passage.

- Ans
- 1. Easy to Prepare Snacks
 - 2. Food Choices
 - 3. Foods for Enjoyment
 - 4. Foods for Fitness

Question ID : 264330102434

Status : Not Answered

Chosen Option : --

Comprehension:

Read the given passage and answer the questions that follow.

When it comes to nutrition, 'power foods' are those with a high concentration of nutrients, such fibre and potassium. A growing number of fitness trainers advise their customers to include these items in their regular diets in order to boost muscle growth. Power foods can be incorporated into your diet in a variety of ways. Of course, careful preparation, the use of season-fresh items and identifying your preferred flavour among power meals are the keys to enjoying these dishes.

Even if you're not a gourmet cook, you may find some of the best power food combos in your own pantry. Onions and chickpeas are an excellent pairing. In order for the body to deliver oxygen to all of its numerous parts, it needs iron. The symptoms of an iron deficiency include anaemia, fatigue, mental fog and exhaustion.

Bananas and yoghurt are another popular power food pairing. After a long football game, this is the ideal post-game snack. Exercising reduces blood sugar by reducing the amount of glucose in the bloodstream. Yoghurt is rich in protein and bananas are rich in carbohydrates, both of which aid in refuelling and preventing muscular stiffness after a workout.

Green tea is the best source of catechins, antioxidants that can protect cells from oxidative damage, in the beverage market. Adding a squeeze of lemon to green tea, say Purdue University researchers, increases the body's ability to absorb catechins. So, the next time you have friends around, serve them iced green tea with mint and lemon juice in a pitcher.

SubQuestion No : 24

Q.24 Identify the central theme of the passage.

- Ans
- 1. Usefulness of bananas and yoghurt
 - 2. Food and lifestyle
 - 3. Impact of consuming green tea
 - 4. Maintenance of unhealthy food habits

Question ID : 264330102435

Status : Not Answered

Chosen Option : --

Comprehension:

Read the given passage and answer the questions that follow.

When it comes to nutrition, 'power foods' are those with a high concentration of nutrients, such fibre and potassium. A growing number of fitness trainers advise their customers to include these items in their regular diets in order to boost muscle growth. Power foods can be incorporated into your diet in a variety of ways. Of course, careful preparation, the use of season-fresh items and identifying your preferred flavour among power meals are the keys to enjoying these dishes.

Even if you're not a gourmet cook, you may find some of the best power food combos in your own pantry. Onions and chickpeas are an excellent pairing. In order for the body to deliver oxygen to all of its numerous parts, it needs iron. The symptoms of an iron deficiency include anaemia, fatigue, mental fog and exhaustion.

Bananas and yoghurt are another popular power food pairing. After a long football game, this is the ideal post-game snack. Exercising reduces blood sugar by reducing the amount of glucose in the bloodstream. Yoghurt is rich in protein and bananas are rich in carbohydrates, both of which aid in refuelling and preventing muscular stiffness after a workout.

Green tea is the best source of catechins, antioxidants that can protect cells from oxidative damage, in the beverage market. Adding a squeeze of lemon to green tea, say Purdue University researchers, increases the body's ability to absorb catechins. So, the next time you have friends around, serve them iced green tea with mint and lemon juice in a pitcher.

SubQuestion No : 25

Q.25 Select the most appropriate ANTONYM of the given word.
Absorb

Ans 1. Dissipate

2. Emit

3. Ingest

4. Blot

Question ID : 264330102438

Status : Not Answered

Chosen Option : --

Prepare 50% Faster

Phase-XI/2023/Selection Posts and Selection Posts/Ladakh/2023

Roll Number	Selection Post
Candidate Name	Selection Post
Venue Name	iON Digital Zone iDZ Sector 4
Exam Date	30/06/2023
Exam Time	9:00 AM - 10:00 AM
Subject	Selection Post Graduate Level

Section : General Intelligence

Q.1 एक निश्चित कूट भाषा में, 'SOUTH' को '83' के रूप में लिखा जाता है और 'CONVOY' को '94' के रूप में लिखा जाता है। उसी भाषा में 'SYSTEM' को कैसे लिखा जाएगा?

- Ans
- 1. 101
 - 2. 108
 - 3. 98
 - 4. 93

Question ID : 26433069612

Status : Answered

Chosen Option : 1

Q.2 एक पुरुष की तस्वीर की ओर इंगित करते हुए मुस्कान नाम की एक महिला ने कहा "वह मेरे पिता के दादा का इकलौता पोता है"। तस्वीर वाले व्यक्ति के साथ मुस्कान का क्या संबंध है?

- Ans
- 1. माता
 - 2. पुत्री
 - 3. भाभी
 - 4. बहन

Question ID : 26433070274

Status : Answered

Chosen Option : 2

Q.3 उस विकल्प का चयन करें जो उन अक्षरों को निरूपित करता है, जिन्हें नीचे दिए गए रिक्त स्थानों में क्रमिक रूप से बाएं से दाएं रखने पर अक्षर श्रृंखला पूर्ण हो जाएगी।

C _ L L A _ _ O L _ A R C O _ L _ R

- Ans
- 1. RALOCR
 - 2. ORCLLA
 - 3. COLLAR
 - 4. CLLROL

Question ID : 26433067728

Status : Answered

Chosen Option : 2

Q.4 एक निश्चित कूट भाषा में 'Broken' को '1171410413' लिखा जाता है, 'Bottle' को '1141919114' लिखा जाता है, उसी कूट भाषा में 'Sample' को कैसे लिखा जाएगा?

- Ans
- 1. 1711215114
 - 2. 1801215114
 - 3. 1801214114
 - 4. 1811114103

Question ID : 264330143380

Status : Answered

Chosen Option : 2

Q.5 निम्नलिखित में से कौन-सी संख्या दी गई श्रेणी में प्रश्न चिह्न (?) को प्रतिस्थापित करेगी?
11, 21, 16, 26, ?, 31

- Ans
- 1. 29
 - 2. 27
 - 3. 21
 - 4. 25

Question ID : 26433056430
Status : Answered
Chosen Option : 3

Q.6 नीचे दी गई आकृति शृंखला में प्रश्न-चिह्न (?) के स्थान पर आने वाली आकृति का चयन कीजिए।



Ans

- 1.
- 2.
- 3.
- 4.

Question ID : 26433056948
Status : Answered
Chosen Option : 3

Q.7 उस विकल्प का चयन करें, जो उन अक्षरों को दर्शाता है, जिन्हें निम्न रिक्त स्थानों में बाएँ से दाएँ रखने पर अक्षर-शृंखला पूर्ण हो जाएगी।

x _ y _ y _ x x _ y y y _ x y _ y _

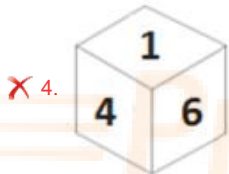
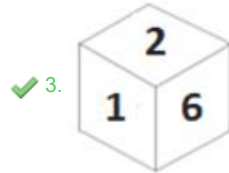
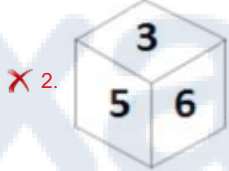
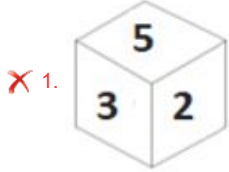
- Ans
- 1. xyxyy
 - 2. xyxyx
 - 3. xyxyy
 - 4. xxxxyy

Question ID : 26433080455
Status : Answered
Chosen Option : 1

Q.8 यदि दी गई शीट को मोड़कर एक घन बनाया जाता है, तो दी गई आकृतियों में से कौन-सी आकृति बनना संभव है?

3	1	6
	5	
	4	
	2	

Ans



Question ID : 264330143436

Status : Answered

Chosen Option : 3

Q.9 उस सही विकल्प का चयन कीजिए, जो निम्नलिखित शब्दों की व्यवस्था को तार्किक और अर्थपूर्ण क्रम में दर्शाता है।

1. घुटना
2. गर्दन
3. जाँघ
4. सिर
5. पैर की अंगुली
6. कमर

Ans ✓ 1. 5, 1, 3, 6, 2, 4

✗ 2. 5, 1, 6, 3, 2, 4

✗ 3. 5, 1, 3, 6, 4, 2

✗ 4. 5, 3, 1, 6, 2, 4

Question ID : 264330129560

Status : Answered

Chosen Option : 3

Q.10 तीन कथन और उसके बाद तीन निष्कर्ष I, II और III दिए गए हैं। कथनों को सत्य मानते हुए, भले ही वे सामान्य रूप से ज्ञात तथ्यों से भिन्न प्रतीत होते हों, तय कीजिए कि कौन-सा/से निष्कर्ष इन कथनों का तार्किक रूप से अनुसरण करता है/करते हैं।

कथन:

कुछ भेंट, उपहार हैं।
कुछ उपहार, बॉक्स हैं।
सभी उपहार, मेज़ें हैं।

निष्कर्ष:

I. कुछ भेंट, मेज़ें हैं।
II. कुछ मेज़ें, बॉक्स हैं।
III. सभी भेंट, बॉक्स हैं।

- Ans
- 1. केवल निष्कर्ष III अनुसरण करता है
 - 2. केवल निष्कर्ष I अनुसरण करता है
 - 3. केवल निष्कर्ष I और II अनुसरण करते हैं
 - 4. केवल निष्कर्ष II और III अनुसरण करते हैं

Question ID : 264330143352

Status : Answered

Chosen Option : 3

Q.11 एक निश्चित कूट भाषा में 'DIFFRENT' को 'EHGESDOS' लिखा जाता है और 'COMBINE' को 'DNNAJMF' लिखा जाता है। उसी भाषा में 'LETTER' को कैसे लिखा जाएगा?

- Ans
- 1. MUDFSQ
 - 2. MDUSFQ
 - 3. NDFSUS
 - 4. NEVTGR

Question ID : 26433070265

Status : Answered

Chosen Option : 2

Q.12 गणितीय चिह्नों के उस सही संयोजन का चयन कीजिए जिसे * चिह्नों के स्थान पर रखने पर दिया गया समीकरण संतुष्ट हो जाएगा।

$$9 * 13 * 4 * 15 * 5 * 64$$

- Ans
- 1. +, x, +, +, =
 - 2. -, x, +, +, =
 - 3. +, x, x, +, =
 - 4. +, x, -, +, =

Question ID : 26433097203

Status : Answered

Chosen Option : 1

Q.13 इस प्रश्न में, तीन कथन और उसके बाद दो निष्कर्ष I और II दिए गए हैं। कथनों को सत्य मानते हुए, भले ही वे सामान्यतः ज्ञात तथ्यों से भिन्न प्रतीत होते हों, निर्णय लें कि कौन-सा/से निष्कर्ष तार्किक रूप से कथनों का अनुसरण करता/करते है/हैं।

कथन:

- I. कुछ पिन, सुइयाँ हैं।
- II. सभी पिन, कीलें हैं।
- III. सभी सुइयाँ, स्कू हैं।

निष्कर्ष:

- I. कोई भी कील, स्कू नहीं है।
- II. कुछ सुइयाँ, कीलें हैं।

- Ans
- 1. न तो निष्कर्ष I और न ही II अनुसरण करता है
 - 2. केवल निष्कर्ष I अनुसरण करता है
 - 3. केवल निष्कर्ष II अनुसरण करता है
 - 4. दोनों निष्कर्ष I और II अनुसरण करते हैं

Question ID : 264330104069

Status : Answered

Chosen Option : 3

Q.14 उस विकल्प का चयन करें जो तीसरे शब्द से उसी प्रकार संबंधित है जैसे दूसरा शब्द पहले शब्द से संबंधित है। (शब्दों को अर्थपूर्ण हिंदी शब्दों के रूप में माना जाना चाहिए और शब्द आपस में अक्षरों की संख्या/व्यंजन/स्वरों की संख्या के आधार पर एक दूसरे से संबंधित नहीं होने चाहिए)
उत्साह (Mettle) : संकोच (Diffidence) :: अनिष्टकर (Noxious) : ?

- Ans
- 1. विनाशकारी
 - 2. हानिरहित
 - 3. घातक
 - 4. लाभदायक

Question ID : 264330143389

Status : Answered

Chosen Option : 4

Q.15 उस विकल्प का चयन कीजिए, जो तीसरे पद से उसी प्रकार संबंधित है, जिस प्रकार दूसरा पद पहले पद से और छठा पद पाँचवें पद से संबंधित है।
7 : 51 :: 12 : ? :: 14 : 198

- Ans
- 1. 146
 - 2. 144
 - 3. 148
 - 4. 141

Question ID : 26433057064

Status : Answered

Chosen Option : 1

Q.16 उस विकल्प का चयन कीजिए, जिसका तीसरे शब्द से ठीक वही संबंध है, जो संबंध दूसरे शब्द का पहले शब्द से है।

(शब्दों को अर्थपूर्ण हिंदी शब्दों के रूप में माना जाना चाहिए और शब्द में अक्षरों/ व्यंजनों/स्वरों की संख्या के आधार पर वे एक दूसरे से संबंधित नहीं किए जाने चाहिए)
बहिर्मुखी : अंतर्मुखी :: धार्मिक : ?

- Ans
- 1. आशावादी
 - 2. नास्तिक
 - 3. निराशावादी
 - 4. आत्ममुग्ध

Question ID : 26433068408

Status : Answered

Chosen Option : 2

Q.17 उस विकल्प आकृति का चयन करें, जो दी गई आकृति में उसके भाग के रूप में अंतर्निहित है (घुमाव की अनुमति नहीं है)।



Ans


✗ 1.



✗ 2.



✗ 3.



✓ 4.



Question ID : 26433078910

Status : Answered

Chosen Option : 4

Q.18 एक कूट भाषा में, 'MUMBAI' को 'N46' के रूप में लिखा जाता है और 'KOLKATA' को 'L60' के रूप में लिखा जाता है। इसी कूट भाषा में 'LUCKNOW' को कैसे लिखा जाएगा?

Ans ✗ 1. Q97

✗ 2. M82

✓ 3. M87

✗ 4. K85

Question ID : 264330120821

Status : Answered

Chosen Option : 3

Q.19 दर्पण को नीचे दिखाए अनुसार MN पर रखे जाने पर, दिए गए संयोजन के सही दर्पण प्रतिबिंब का चयन कीजिए।

M G 7 a 6 4 p Z

M
|
N

Ans

✓ 1. Σ q 4 θ 6 7 9 M

✗ 2. Z p 4 6 a 7 GM

✗ 3. M 9 7 6 θ 4 p Z

✗ 4. M G 7 a 6 4 p Z

Question ID : 264330143449

Status : Answered

Chosen Option : 1

Q.20 उस विकल्प का चयन कीजिए जो तीसरे शब्द से उसी प्रकार संबंधित है जिस प्रकार दूसरा शब्द पहले शब्द से संबंधित है।
(शब्दों को अर्थपूर्ण हिंदी शब्दों के रूप में माना जाना चाहिए और शब्द में अक्षरों/ व्यंजनों/स्वरों की संख्या के आधार पर वे एक दूसरे से संबंधित नहीं किए जाने चाहिए)
कुर्सी : स्टूल :: ज़ीना (लेडर) : ?

Ans

✗ 1. शेल्फ

✗ 2. मेज

✓ 3. सीढ़ी

✗ 4. अलमारी

Question ID : 26433067984

Status : Answered

Chosen Option : 3

Q.21 उस विकल्प का चयन कीजिए जो दिए गए शब्दों के उस सही क्रम को निरूपित करता है जिस क्रम में वे अंग्रेजी शब्दकोश में आते हैं।

- 1- Labial
- 2- Labefaction
- 3- Laboratory
- 4- Label
- 5- Labile

Ans

✗ 1. 2, 4, 5, 1, 3

✗ 2. 4, 2, 1, 5, 3

✓ 3. 2, 4, 1, 5, 3

✗ 4. 4, 2, 5, 1, 3

Question ID : 26433079446

Status : Answered

Chosen Option : 3

Q.22 'Z + Q' का अर्थ है कि 'Z, Q का भाई है',
'Z × Q' का अर्थ है कि 'Z, Q का पिता है',
'Z ÷ Q' का अर्थ है कि 'Z, Q की माता है'।
निम्न में से किस विकल्प का अर्थ है कि 'A, B का पुत्र है'?

- Ans
- 1. B + A × I
 - 2. B + A + I
 - 3. B × I × A
 - 4. B × A + I

Question ID : 264330143370

Status : Answered

Chosen Option : 3

Q.23 उस विकल्प का चयन कीजिए जो दिए गए शब्दों के उस सही क्रम को निरूपित करता है जिस क्रम में वे अंग्रेजी शब्दकोश में आते हैं।

- 1- Refine
- 2- Reflect
- 3- Referendum
- 4- Refill
- 5- Refinery

- Ans
- 1. 4, 2, 1, 3, 5
 - 2. 4, 3, 5, 1, 2
 - 3. 3, 4, 1, 5, 2
 - 4. 4, 1, 2, 5, 3

Question ID : 26433079448

Status : Answered

Chosen Option : 3

Q.24 एक निश्चित कूट भाषा में 'free prison' को 'float-away microphone' के रूप में कूटबद्ध किया जाता है, 'prison and' को 'microphone cucumber' के रूप में कूटबद्ध किया जाता है और 'free and' को 'float-away cucumber' के रूप में कूटबद्ध किया जाता है। 'free' के लिए कूट शब्द क्या होगा?

- Ans
- 1. float-away
 - 2. microphone
 - 3. cucumber
 - 4. float

Question ID : 264330118657

Status : Answered

Chosen Option : 1

Q.25 उस विकल्प का चयन करें जो उन अक्षरों को निरूपित करता है, जिन्हें नीचे दिए गए रिक्त स्थानों में क्रमिक रूप से बाएं से दाएं रखने पर अक्षर श्रृंखला पूर्ण हो जाएगी।

DK_YD_N__KNYD_NY_KN_

- Ans
- 1. KKDNYKD
 - 2. DNYDKDD
 - 3. KDYNKYD
 - 4. NKYDKDY

Question ID : 26433067732

Status : Answered

Chosen Option : 4

Q.1 2022 में, निम्नलिखित में से किस योजना के तहत यह घोषणा की गई थी कि NEP 2020 के सभी घटकों को प्रदर्शित करने के लिए देश भर के 14,500 से अधिक स्कूलों को विकसित किया जाएगा?

- Ans
- 1. पीएम स्कूल्स फॉर राइजिंग इंडिया
 - 2. राष्ट्रीय माध्यमिक शिक्षा अभियान
 - 3. सर्व शिक्षा अभियान
 - 4. बेटी बचाओ बेटी पढ़ाओ

Question ID : 264330130833
Status : Answered
Chosen Option : 1

Q.2 निम्नलिखित में से किस स्थान पर अहमद शाह अल वली बहमनी के मकबरे का निर्माण किया गया है?

- Ans
- 1. अशतूर
 - 2. आगरा
 - 3. फतेहपुर सीकरी
 - 4. अजमेर

Question ID : 264330132435
Status : Answered
Chosen Option : 1

Q.3 भारतीय संविधान के किस भाग में राज्य विधानमंडल के संगठन, संरचना और शक्तियों का वर्णन है?

- Ans
- 1. भाग V
 - 2. भाग VI
 - 3. भाग III
 - 4. भाग IV

Question ID : 264330111546
Status : Answered
Chosen Option : 2

Q.4 वसुंधरा दोरास्वामी को निम्नलिखित में से किसमें उनके योगदान के लिए वर्ष 2019 के लिए संगीत नाटक अकादमी अवार्ड (अकादमी पुरस्कार) से सम्मानित किया गया?

- Ans
- 1. भरतनाट्यम
 - 2. कुचिपुड़ी
 - 3. कथक
 - 4. ओडिसी

Question ID : 264330130893
Status : Answered
Chosen Option : 1

Q.5 निम्नलिखित में से किसने कहा था कि "अंग्रेजी शिक्षा ने हमें गुलाम बना लिया है"?

- Ans
- 1. मुहम्मद अली जिन्ना
 - 2. मुहम्मद इकबाल
 - 3. महात्मा गांधी
 - 4. राजा राममोहन राय

Question ID : 26433085293
Status : Answered
Chosen Option : 4

Q.6 ईस्टर सप्ताह के निम्नलिखित में से किस दिन मनाया जाता है?

- Ans
- 1. रविवार
 - 2. मंगलवार
 - 3. सोमवार
 - 4. बुधवार

Question ID : 26433064682
Status : Answered
Chosen Option : 4

Q.7 'मोक्ष' भारत के निम्नलिखित शास्त्रीय नृत्य रूपों में से किससे संबंधित है?

- Ans
- 1. सलिया
 - 2. भरतनाट्यम
 - 3. ओडिसी
 - 4. कथक

Question ID : 26433086630
Status : Answered
Chosen Option : 2

Q.8 _____ ने 67वें राष्ट्रीय पुरस्कार में फिल्म 'विश्वासम' में अपनी संगीत एल्बम के लिए सर्वश्रेष्ठ संगीत निर्देशक का राष्ट्रीय पुरस्कार जीता।

- Ans
- 1. मणि शर्मा
 - 2. अनिरुद्ध रवि चंदर
 - 3. डी इम्मान
 - 4. एम.एम. कीरावणी

Question ID : 264330143403
Status : Not Answered
Chosen Option : --

Q.9 वर्ष 2011 की जनगणना के अनुसार भारत में किस राज्य/केंद्र शासित प्रदेश की साक्षरता दर का प्रतिशत सबसे अधिक है?

- Ans
- 1. महाराष्ट्र
 - 2. लक्षद्वीप
 - 3. केरल
 - 4. दिल्ली

Question ID : 264330109508
Status : Answered
Chosen Option : 3

Q.10 तिब्बत स्वायत्त क्षेत्र, चीन, मानसरोवर झील के पश्चिम में और कैलाश पर्वत के दक्षिण में स्थित खारे पानी की झील कौन-सी है?

- Ans
- 1. रावोक झील
 - 2. यमद्रोक त्सो झील
 - 3. राक्षसताल झील
 - 4. बासुम त्सो झील

Question ID : 264330143306
Status : Answered
Chosen Option : 3

Q.11 When will you find the magnetic field stronger?

- Ans
- 1. When the poles are together
 - 2. When the lines are together
 - 3. When the field lines are not seen
 - 4. When field lines are crowded

Question ID : 264330143315

Status : Answered

Chosen Option : 1

Q.12 यूजीन ओडम _____ के लिए प्रसिद्ध है।

- Ans
- 1. जंतु शरीर क्रिया विज्ञान में योगदान
 - 2. जंतु हार्मोनल संतुलन में योगदान
 - 3. पारिस्थितिकी में योगदान
 - 4. प्लांट स्ट्रेस रेगुलेशन में योगदान

Question ID : 26433082213

Status : Not Answered

Chosen Option : --

Q.13 हिंदुस्तान रिपब्लिकन एसोसिएशन ने 1928 में किसके नेतृत्व में समाजवादी विचारों को अपनाया?

- Ans
- 1. भगत सिंह
 - 2. राम प्रसाद बिस्मिल
 - 3. राजगुरु
 - 4. चंद्रशेखर आजाद

Question ID : 264330132676

Status : Answered

Chosen Option : 1

Q.14 ब्राह्मणों को भूमि दान करने वाले सर्वप्रथम कौन थे?

- Ans
- 1. कुषाण
 - 2. शक
 - 3. सातवाहन
 - 4. गुप्त

Question ID : 264330110201

Status : Answered

Chosen Option : 3

Q.15 भारत के राष्ट्रपति के निर्वाचक मंडल का हिस्सा निम्नलिखित में से कौन नहीं है?

- Ans
- 1. लोकसभा के निर्वाचित सदस्य
 - 2. राज्यसभा के निर्वाचित सदस्य
 - 3. राज्यों के राज्यपाल
 - 4. राज्यों की विधान सभाओं के निर्वाचित सदस्य

Question ID : 264330109841

Status : Answered

Chosen Option : 3

Q.16 हिन्दू धार्मिक स्थल 'चंद्रनाथ पहाड़ी' निम्नलिखित में से किस देश में स्थित है?

- Ans
- 1. श्रीलंका
 - 2. भूटान
 - 3. नेपाल
 - 4. बांग्लादेश

Question ID : 264330113313

Status : Answered

Chosen Option : 3

Q.17 मस्कट में महिला हॉकी एशिया कप 2022 में भारत का नेतृत्व किसने किया?

- Ans
- 1. सविता पुनिया
 - 2. निक्की प्रधान
 - 3. दीप ग्रेस एक्का
 - 4. रानी रामपाल

Question ID : 26433081882

Status : Answered

Chosen Option : 1

Q.18 'सिक्स मशीन: आई डॉट लाइक क्रिकेट... आई लव इट' _____ के द्वारा लिखी गई पुस्तक है।

- Ans
- 1. आंद्रे रसेल
 - 2. कीरोन पोलार्ड
 - 3. क्रिस गेल
 - 4. एम एस धोनी

Question ID : 26433064624

Status : Answered

Chosen Option : 3

Q.19 निम्नलिखित में से किस वंश के राजा ने मोढेरा का सूर्य मंदिर बनवाया था?

- Ans
- 1. राष्ट्रकूट
 - 2. परमार
 - 3. तोमर
 - 4. सोलंकी

Question ID : 26433089131

Status : Answered

Chosen Option : 2

Q.20 निम्नलिखित में से कौन-सा राज्य उष्णकटिबंधीय कंटीले वनों से संबंधित है?

- Ans
- 1. मध्य प्रदेश
 - 2. अंडमान व निकोबार द्वीप समूह
 - 3. मिजोरम
 - 4. पश्चिम बंगाल

Question ID : 264330109869

Status : Not Answered

Chosen Option : --

Q.21 नवंबर 2022 में भारत से निम्नलिखित में से किसे भार एवं माप के लिए अंतरराष्ट्रीय समिति (CIPM) के सदस्य के रूप में चुना गया था?

- Ans
- 1. अमर्त्य सेन
 - 2. सी.आर. राव
 - 3. ज्यॉं ट्रेज
 - 4. वेणु गोपाल अचंता

Question ID : 264330132605
Status : Answered
Chosen Option : 4

Q.22 निम्नलिखित में से किस खेल में 'लेग बाई' शब्द का प्रयोग किया जाता है?

- Ans
- 1. क्रिकेट
 - 2. हॉकी
 - 3. फुटबॉल
 - 4. वॉलीबॉल

Question ID : 26433071563
Status : Answered
Chosen Option : 1

Q.23 संसद के शीतकालीन सत्र में, जो 29 नवंबर 2021 से 22 दिसंबर 2021 तक आयोजित किया गया था, _____ विधेयक पारित किए गए (एक विनियोग विधेयक को छोड़कर)।

- Ans
- 1. 10
 - 2. 16
 - 3. 6
 - 4. 3

Question ID : 264330122341
Status : Not Answered
Chosen Option : --

Q.24 ईस्ट वेस्ट कॉरिडोर भारत में किन दो शहरों को जोड़ता है?

- Ans
- 1. उदयपुर और औरंगाबाद
 - 2. जोरहाट और दावकी
 - 3. कोलकाता और दिल्ली
 - 4. सिलचर और पोरबंदर

Question ID : 26433089225
Status : Answered
Chosen Option : 2

Q.25 2000 में पद्म विभूषण से सम्मानित हुए उड़ीसा के प्रथम नर्तक का नाम बताएं।

- Ans
- 1. गुरु बिपिन सिंह
 - 2. गुरु केलुचरण महापात्र
 - 3. गुरु मायाधर राउत
 - 4. गुरु श्यामा चरण पति

Question ID : 264330112685
Status : Not Answered
Chosen Option : --

Q.1 एक फुटबॉल टीम ने कुल जितने गेम खेले उनमें 10 में जीत हासिल की। यह कुल गेम का 40% था। कुल मिलाकर कितने गेम खेले गये?

- Ans
- 1. 15
 - 2. 45
 - 3. 35
 - 4. 25

Question ID : 26433061199

Status : Answered

Chosen Option : 4

Q.2 एक संख्या में 25% की वृद्धि की जाती है, और बाद में 15% की कमी की जाती है। शुद्ध वृद्धि या कमी का प्रतिशत ज्ञात कीजिए।

- Ans
- 1. 7.23% की वृद्धि
 - 2. 9.18% की कमी
 - 3. 6.25% की वृद्धि
 - 4. 7.93% की कमी

Question ID : 26433080006

Status : Answered

Chosen Option : 3

Q.3 एक साहूकार ने पाया कि वार्षिक ब्याज दर 18% से घटकर 15% होने पर, उसकी वार्षिक आय Rs.750 कम हो जाती है। उसकी धनराशि कितनी है?

- Ans
- 1. Rs.25,000
 - 2. Rs.25,500
 - 3. Rs.5,000
 - 4. Rs.2,500

Question ID : 26433081035

Status : Answered

Chosen Option : 1

Q.4 Rs.320 पर $1\frac{1}{2}\%$ के वार्षिक ब्याज दर से $2\frac{1}{2}$ वर्षों के बाद साधारण ब्याज कितना होगा?

- Ans
- 1. Rs.14
 - 2. Rs.12
 - 3. Rs.11
 - 4. Rs.15

Question ID : 26433075674

Status : Answered

Chosen Option : 2

Q.5 यदि $x + y = \sqrt{13}$ और $x - y = \sqrt{11}$ है, तो $xy(x^2 + y^2)$ का मान ज्ञात कीजिए।

- Ans
- 1. $\sqrt{6}$
 - 2. 6
 - 3. $\sqrt{10}$
 - 4. 10

Question ID : 26433058452

Status : Not Answered

Chosen Option : --

Q.6 एक थोक व्यापारी द्वारा बेची जा रही प्रत्येक वस्तु का अंकित मूल्य ₹400 था। थोक व्यापारी स्टॉक-क्लीयरेंस बिक्री की पेशकश कर रहा था, जिसके तहत प्रत्येक चार वस्तुओं के लिए भुगतान किये जाने पर एक वस्तु मुफ्त दी जा रही थी। इसके अलावा, ₹15,000 से अधिक की खरीदारी करने वाले किसी भी व्यक्ति को '4 खरीदें, 1 मुफ्त पाएं' योजना मूल्य पर देय राशि पर 5% की छूट की पेशकश की जा रही थी। रामेश्वर ने खरीदारी की जिसके लिए 5% छूट लागू करने से पहले देय राशि ₹ 16,000 थी। इस लेनदेन में रामेश्वर को अंततः दी जाने वाली प्रभावी छूट का प्रतिशत कितना था?

- Ans
- 1. 28.75%
 - 2. 30%
 - 3. 24%
 - 4. 25%

Question ID : 264330103269

Status : Answered

Chosen Option : 1

Q.7 ΔABC में, BC के समानांतर एक रेखा खींची गई है, जो भुजाओं AB और AC को बिंदु S और T पर काटती है, जहाँ AB = 8.3 cm, BC = 16.6 cm और BS = 5.3 cm है। ST की लंबाई (cm में) ज्ञात कीजिए।

- Ans
- 1. 18
 - 2. 12
 - 3. 24
 - 4. 6

Question ID : 264330130422

Status : Answered

Chosen Option : 4

Q.8 तीन संख्याएं 28 की $\frac{1}{4}^{th}$, 18 की $\frac{2}{3}^{rd}$ और 35 की $\frac{2}{5}^{th}$ के रूप में दी गई हैं। इन संख्याओं का चतुर्थ समानुपाती क्या होगा?

- Ans
- 1. 20
 - 2. 24
 - 3. 26
 - 4. 30

Question ID : 264330143416

Status : Answered

Chosen Option : 2

Q.9 एक ट्रेन प्लेटफॉर्म पर खड़े व्यक्ति को पार करने में 7 सेकंड का समय लेती है और दूसरी ट्रेन जिसकी लंबाई पहली ट्रेन से दोगुनी है और विपरीत दिशा में चलती है, व्यक्ति को पार करने में 10 सेकंड का समय लेती है। ट्रेनों द्वारा एक दूसरे को पार करने में कितना समय (सेकंड में, निकटतम पूर्णांक तक) लगा होगा?

- Ans
- 1. 10
 - 2. 12
 - 3. 8
 - 4. 9

Question ID : 264330103562

Status : Answered

Chosen Option : 4

Q.10 एक बेलन का आयतन 1650 m^3 है, जबकि इसके आधार का पृष्ठीय क्षेत्रफल $78 \frac{4}{7} \text{ m}^2$ है। उस बेलन की ऊँचाई ज्ञात कीजिए।

- Ans
- 1. 14 m
 - 2. 21 m
 - 3. 7.5 m
 - 4. 2.1 m

Question ID : 26433063909

Status : Answered

Chosen Option : 2

Q.11 राखी अपनी बेटी शिखा से 20 वर्ष बड़ी है। 6 वर्ष बाद राखी की आयु शिखा की आयु से दोगुनी हो जाएगी। इसलिए, राखी की वर्तमान आयु _____ वर्ष है।

- Ans
- 1. 42
 - 2. 36
 - 3. 37
 - 4. 34

Question ID : 264330126622

Status : Answered

Chosen Option : 4

Q.12 एक दुकानदार ने कुल ₹2,540 में वस्तु A और B खरीदी। उसने A को 15% के लाभ पर बेचा और B को 25% की हानि पर बेचा। A का विक्रय मूल्य B की तुलना में ₹109 अधिक था। पूरे लेनदेन में उसका लाभ या हानि प्रतिशत (एक दशमलव स्थान पर पूर्णांकित) था:

- Ans
- 1. हानि, 8.3%
 - 2. हानि, 9.5%
 - 3. लाभ, 9.5%
 - 4. लाभ, 8.3%

Question ID : 264330109337

Status : Not Answered

Chosen Option : --

Q.13 10 वस्तुओं का क्रय मूल्य 8 वस्तुओं के विक्रय मूल्य के बराबर है। लाभ प्रतिशत ज्ञात कीजिए।

- Ans
- 1. 25%
 - 2. 11.11%
 - 3. 15.2%
 - 4. 13.3%

Question ID : 26433092025

Status : Answered

Chosen Option : 1

Q.14 यदि $x \neq y$ है, तो $(x^4 - y^4)$, $(x + y)$ और $(x - y)$ का चतुर्थानुपाती ज्ञात कीजिए।

- Ans
- 1. $(x^2 - y^2)^{-1}$
 - 2. $(x^2 - y^2)^{-2}$
 - 3. $(x^2 + y^2)^{-2}$
 - 4. $(x^2 + y^2)^{-1}$

Question ID : 26433061675

Status : Answered

Chosen Option : 4

Q.15 S ने अपना फोन ₹15,500 में बेचा, जिसे उसने ₹12,000 में खरीदा था। तो बताइए कि उसका प्रतिशत लाभ क्या था?

- Ans
- 1. 32.67%
 - 2. 22.67%
 - 3. 29.17%
 - 4. 26.67%

Question ID : 264330126108

Status : Answered

Chosen Option : 3

Q.16 यदि $\Delta ABC \sim \Delta DEF$, $\angle A = 47^\circ$, और $\angle E = 63^\circ$ है, तो $\angle C$ का माप क्या है?

- Ans
- 1. 37°
 - 2. 47°
 - 3. 63°
 - 4. 70°

Question ID : 26433082107

Status : Answered

Chosen Option : 4

Q.17 गोरी और गोपाल अकेले एक कार्य को क्रमशः 9 और 21 दिन में कर सकते हैं। यदि वे दोनों गोपाल से शुरू करते हुए एकांतर दिनमें कार्य करते हैं, तो कार्य कितने दिन में पूरा होगा ?

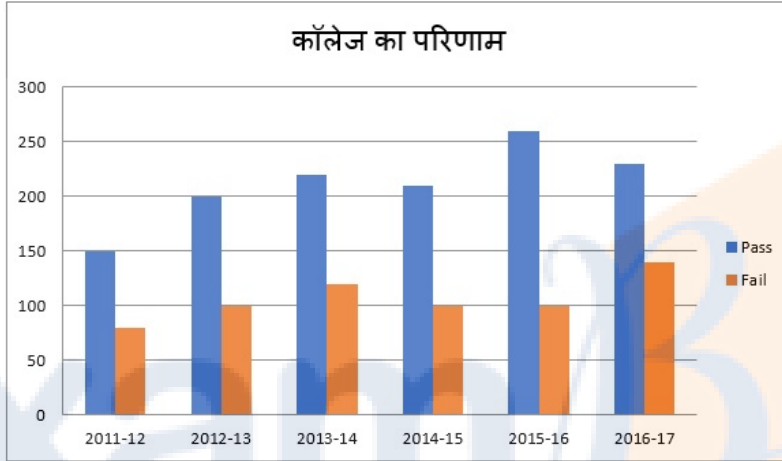
- Ans
- 1. $12\frac{3}{7}$
 - 2. 13
 - 3. $13\frac{3}{7}$
 - 4. 11

Question ID : 26433080055

Status : Answered

Chosen Option : 1

Q.18 दिया गया दण्ड आरेख एक कॉलेज में विद्यार्थियों के परिणामों (रिज़ल्ट) को दर्शाता है। आरेख का अध्ययन कीजिए और नीचे दिए गए प्रश्न का उत्तर दीजिए।



Pass - उत्तीर्ण Fail - अनुत्तीर्ण

दिए गए आंकड़ों के अनुसार पिछले 5 वर्षों में कॉलेज में अनुत्तीर्ण विद्यार्थियों की औसत संख्या ज्ञात कीजिए।

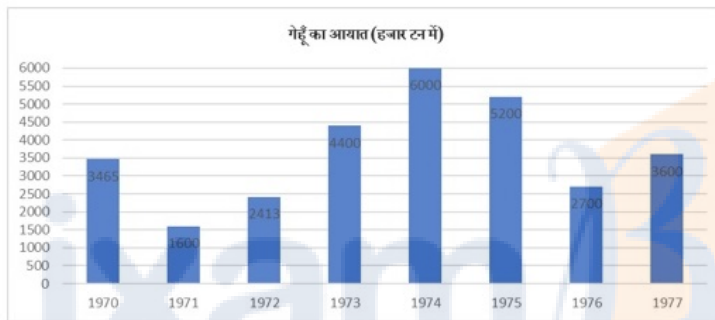
- Ans
- 1. 180
 - 2. 90
 - 3. 80
 - 4. 160

Question ID : 264330122701

Status : Answered

Chosen Option : 2

Q.19 दिए गए ग्राफ का ध्यानपूर्वक अध्ययन कीजिए और नीचे दिए गए प्रश्न के उत्तर दीजिए।



गेहूँ का सर्वाधिक आयात किस वर्ष हुआ?

- Ans
- 1. 1975
 - 2. 1973
 - 3. 1974
 - 4. 1972

Question ID : 264330122571

Status : Answered

Chosen Option : 3

Q.20 यदि $x > 1$ और $x^4 + \frac{1}{x^4} = 79$ है, तो $x - \frac{1}{x}$ का मान क्या होगा?

- Ans
- 1. $2\sqrt{2}$
 - 2. $\sqrt{11}$
 - 3. $\sqrt{10}$
 - 4. $\sqrt{7}$

Question ID : 264330101340

Status : Answered

Chosen Option : 4

Q.21 यदि $1 + \sin^2 \theta = a \cos^2 \theta$ है, तो $\sec^4 \theta - \tan^4 \theta$ ज्ञात करें।

- Ans
- 1. a^2
 - 2. a
 - 3. a^{-1}
 - 4. a^{-2}

Question ID : 26433079984

Status : Answered

Chosen Option : 1

Q.22 समीकरण $\cos^2 \theta + \sin \theta + 1 = 0$ का मान निम्नलिखित में से किसके मध्य स्थित है?

- Ans
- 1. $\left(\frac{5\pi}{4}, \frac{7\pi}{4}\right)$
 - 2. $\left(\frac{\pi}{4}, \frac{3\pi}{4}\right)$
 - 3. $\left(\frac{3\pi}{4}, \frac{5\pi}{4}\right)$
 - 4. $\left(-\frac{\pi}{4}, \frac{\pi}{4}\right)$

Question ID : 26433058937

Status : Answered

Chosen Option : 4

Q.23 R1 और R2 मात्रा के दो अलग-अलग प्रकार के चावल, जिनकी कीमत क्रमशः ₹60 प्रति kg और ₹75 प्रति kg है, को मिलाकर एक मिश्रण बनाया जाता है जिसकी कीमत ₹65 प्रति kg है। R1 और R2 को किस अनुपात में मिलाया गया है?

- Ans
- 1. 2 : 1
 - 2. 4 : 3
 - 3. 3 : 4
 - 4. 3 : 2

Question ID : 264330126559

Status : Answered

Chosen Option : 1

Q.24 निम्नलिखित में से कौन-सी एक अभाज्य संख्या है?

- Ans 1. 193
 2. 177
 3. 161
 4. 171

Question ID : 264330129984

Status : Answered

Chosen Option : 1

Q.25 यदि $ab + bc + ca = 0$ है, तो $\frac{1}{a^2 - bc} + \frac{1}{b^2 - ca} + \frac{1}{c^2 - ab}$ का मान ज्ञात कीजिए।

- Ans 1. 1
 2. $\frac{1}{abc}$
 3. 0
 4. ab

Question ID : 26433061774

Status : Not Answered

Chosen Option : --

Section : English Language

Q.1 Select the option that expresses the given sentence in direct speech.

Mrs. Mane said that she regretted having supplied us with an inferior brand of TV set and was ready to apologise for that.

- Ans 1. Mrs. Mane said, "I regret to supply you with an inferior brand of TV set and I am ready to apologise for that."
 2. Mrs. Mane said, "I regret having supplied you with an inferior brand of TV set and I am ready to apologise for that."
 3. Mrs. Mane said, "I am regretting having supplied you with an inferior brand of TV set and I am ready to apologise for that."
 4. Mrs. Mane said, "I regret supplying you with an inferior brand of TV set and I am ready to apologise for that."

Question ID : 264330117440

Status : Answered

Chosen Option : 2

Q.2 Select the most appropriate synonym for the highlighted word.

The moral values in this nation were at their nadir during the autocrat's rule.

- Ans 1. highest point
 2. lowest point
 3. equatorial
 4. medial point

Question ID : 264330120720

Status : Answered

Chosen Option : 2

Q.3 The following sentence has been split into four segments. Identify the segment that contains a grammatical error.
If you live / in a foreign country, / you should / try and learn language.

- Ans
- 1. If you live
 - 2. try and learn language
 - 3. you should
 - 4. in a foreign country

Question ID : 264330120576
Status : Answered
Chosen Option : 2

Q.4 Select the option that expresses the given sentence in reported speech.
Rohit said, "The board game is mine."

- Ans
- 1. Rohit said that he was the board game.
 - 2. Rohit said that the board game were hers.
 - 3. Rohit said that the board game was his.
 - 4. Rohit said that the board game was me.

Question ID : 264330137235
Status : Answered
Chosen Option : 3

Q.5 Select the most appropriate option to fill in the blank.

Their conviction and determination helped Kimirica overcome _____ odds and become India's largest manufacturer of luxury hotel toiletries and guest room amenities.

- Ans
- 1. undefeated
 - 2. inviolable
 - 3. unstoppable
 - 4. insurmountable

Question ID : 26433060951
Status : Answered
Chosen Option : 1

Q.6 The following sentence has been split into four segments. Identify the segment that contains a grammatical error.

There are more than two million / job-seekers who are already / completed their fitness test / for the post since 2020.

- Ans
- 1. for the post since 2020
 - 2. completed their fitness test
 - 3. There are more than two million
 - 4. job-seekers who are already

Question ID : 26433091954
Status : Answered
Chosen Option : 4

Q.7 Select the most appropriate ANTONYM of the underlined word in the following sentence.

Rather than being deceitful, we need to be truthful and work together to stop the unrestrained growth of corruption in all areas of our society.

- Ans
- 1. Unrestrained
 - 2. Deceitful
 - 3. Growth
 - 4. Stop

Question ID : 26433073643
Status : Answered
Chosen Option : 2

Q.8 Select the most appropriate meaning of the underlined phrase.

Julia has the habit of comparing apples to oranges.

- Ans
- 1. Blaming others for her mistakes
 - 2. Choosing things after careful scrutiny
 - 3. Purchasing different fruits for different purposes
 - 4. Comparing two things that cannot be compared

Question ID : 26433089349
Status : Answered
Chosen Option : 4

Q.9 Select the sentence that has the most appropriate meaning of the given idiom.

Die a dog's death

- Ans
- 1. The old businessman died in peace after meeting his whole family on his deathbed.
 - 2. The doctor who used illegal methods to conduct experiments on humans must die a shameful death.
 - 3. Yesterday, a poor vegetable seller died in an unfortunate accident.
 - 4. Wars compel people to starve to death and they are helpless.

Question ID : 26433089733
Status : Answered
Chosen Option : 2

Q.10 Select the option that can be used as a one-word substitute for the underlined group of words in the given sentence.

The two women chatted in a friendly and peaceable manner, as if they'd known one another for a lifetime.

- Ans
- 1. absurdly
 - 2. assuredly
 - 3. apparently
 - 4. amicably

Question ID : 26433073858
Status : Answered
Chosen Option : 4

Q.11 Select the option that expresses the given sentence in active voice.
By whom was this done?

- Ans
- 1. Who has done this?
 - 2. Who was doing this?
 - 3. Who did this?
 - 4. Who has been doing this?

Question ID : 264330133301
Status : Answered
Chosen Option : 3

Q.12 Select the INCORRECTLY spelt word.

- Ans
- 1. Prophet
 - 2. Systematically
 - 3. Mosquitose
 - 4. Professor

Question ID : 26433088411
Status : Answered
Chosen Option : 3

Q.13 Select the most appropriate option that can substitute the underlined segment in the given sentence.

The volunteers of the organisation refused point blank of do what was requested.

- Ans
- 1. refused in point blank of doing
 - 2. refused point blankedly to do
 - 3. refused point blank doing
 - 4. refused point blank to do

Question ID : 26433091969
Status : Answered
Chosen Option : 2

Q.14 Select the most appropriate option that can substitute the underlined segment in the given sentence. If there is no need to substitute it, select 'No substitution'.

The patient was suggested to cut off on the daily intake of carbs.

- Ans
- 1. cut about
 - 2. No substitution
 - 3. cut for
 - 4. cut down

Question ID : 26433073166
Status : Answered
Chosen Option : 4

Q.15 Select the most appropriate ANTONYM of the underlined word in the following sentence.

It is a fact that Pradip's bigotry results out of his lack of appreciation for another group's activities, and disregard of others' belief systems.

- Ans
- 1. System
 - 2. Bigotry
 - 3. Disregard
 - 4. Lack

Question ID : 26433073644

Status : Answered

Chosen Option : 3

Comprehension:

In the following passage, some words have been deleted. Read the passage carefully and select the most appropriate option to fill in each blank.

Agriculture, with its (1)_____ sectors, is unquestionably the largest livelihood provider in India, more so in the vast rural areas. It also (2)_____ a significant figure to the Gross Domestic Product (GDP). Sustainable agriculture, in (3)_____ food security, rural employment and environmentally sustainable technologies, such as soil conservation, sustainable natural resource management and biodiversity protection, are essential (4)_____ holistic rural development. Indian agriculture and allied activities (5)_____ witnessed a green revolution, a white revolution, a yellow revolution and a blue revolution.

SubQuestion No : 16

Q.16 Select the most appropriate option to fill in blank no. 1.

- Ans
- 1. allied
 - 2. social
 - 3. secured
 - 4. another

Question ID : 264330132889

Status : Answered

Chosen Option : 1

Comprehension:

In the following passage, some words have been deleted. Read the passage carefully and select the most appropriate option to fill in each blank.

Agriculture, with its (1)_____ sectors, is unquestionably the largest livelihood provider in India, more so in the vast rural areas. It also (2)_____ a significant figure to the Gross Domestic Product (GDP). Sustainable agriculture, in (3)_____ food security, rural employment and environmentally sustainable technologies, such as soil conservation, sustainable natural resource management and biodiversity protection, are essential (4)_____ holistic rural development. Indian agriculture and allied activities (5)_____ witnessed a green revolution, a white revolution, a yellow revolution and a blue revolution.

SubQuestion No : 17

Q.17 Select the most appropriate option to fill in blank no. 2.

- Ans
- 1. insist
 - 2. assume
 - 3. contributes
 - 4. insight

Question ID : 264330132890

Status : Answered

Chosen Option : 3

Prepare 50% Faster

Comprehension:

In the following passage, some words have been deleted. Read the passage carefully and select the most appropriate option to fill in each blank.

Agriculture, with its (1)_____ sectors, is unquestionably the largest livelihood provider in India, more so in the vast rural areas. It also (2)_____ a significant figure to the Gross Domestic Product (GDP). Sustainable agriculture, in (3)_____ food security, rural employment and environmentally sustainable technologies, such as soil conservation, sustainable natural resource management and biodiversity protection, are essential (4)_____ holistic rural development. Indian agriculture and allied activities (5)_____ witnessed a green revolution, a white revolution, a yellow revolution and a blue revolution.

SubQuestion No : 18

Q.18 Select the most appropriate option to fill in blank no. 3.

- Ans
- 1. spite of
 - 2. condition of
 - 3. time of
 - 4. terms of

Question ID : 264330132891

Status : Answered

Chosen Option : 4

Comprehension:

In the following passage, some words have been deleted. Read the passage carefully and select the most appropriate option to fill in each blank.

Agriculture, with its (1)_____ sectors, is unquestionably the largest livelihood provider in India, more so in the vast rural areas. It also (2)_____ a significant figure to the Gross Domestic Product (GDP). Sustainable agriculture, in (3)_____ food security, rural employment and environmentally sustainable technologies, such as soil conservation, sustainable natural resource management and biodiversity protection, are essential (4)_____ holistic rural development. Indian agriculture and allied activities (5)_____ witnessed a green revolution, a white revolution, a yellow revolution and a blue revolution.

SubQuestion No : 19

Q.19 Select the most appropriate option to fill in blank no. 4.

- Ans
- 1. for
 - 2. as
 - 3. on
 - 4. in

Question ID : 264330132892

Status : Answered

Chosen Option : 1

Comprehension:

In the following passage, some words have been deleted. Read the passage carefully and select the most appropriate option to fill in each blank.

Agriculture, with its (1)_____ sectors, is unquestionably the largest livelihood provider in India, more so in the vast rural areas. It also (2)_____ a significant figure to the Gross Domestic Product (GDP). Sustainable agriculture, in (3)_____ food security, rural employment and environmentally sustainable technologies, such as soil conservation, sustainable natural resource management and biodiversity protection, are essential (4)_____ holistic rural development. Indian agriculture and allied activities (5)_____ witnessed a green revolution, a white revolution, a yellow revolution and a blue revolution.

SubQuestion No : 20

Q.20 Select the most appropriate option to fill in blank no. 5.

- Ans
- 1. have
 - 2. will
 - 3. being
 - 4. be

Question ID : 264330132893

Status : Answered

Chosen Option : 1

Comprehension:

Read the given passage and answer the questions that follow.

People often become helpless while dealing with anxiety. Anxiety can be caused by several factors, some of which can emerge from hypertension, the inability to share one's thoughts, sudden contextual differences, broken relationships, work stress, and so on. The fear of missing out, also known as FOMO, leading to anxiety issues is mostly prevalent among youngsters nowadays. Meditation, physical exercises, and proper sleep cycles, among other such productive habits, can help cure anxiety. Most importantly, one must respect and love oneself, which in turn will help in boosting self-confidence and positive energy. A person can be one's own therapist if he/she sits back for a while contemplating and meditating. A deep breath, a calm mind, and a healthy body helps to inculcate positivity, which otherwise gets cancelled out due to several blocks of negativity created by limited mindsets.

SubQuestion No : 21

Q.21 Which of the following is NOT a productive habit, according to the passage?

- Ans
- 1. Proper sleep cycles
 - 2. Meditation
 - 3. Physical exercise
 - 4. Brushing teeth

Question ID : 264330134168

Status : Answered

Chosen Option : 4

Comprehension:

Read the given passage and answer the questions that follow.

People often become helpless while dealing with anxiety. Anxiety can be caused by several factors, some of which can emerge from hypertension, the inability to share one's thoughts, sudden contextual differences, broken relationships, work stress, and so on. The fear of missing out, also known as FOMO, leading to anxiety issues is mostly prevalent among youngsters nowadays. Meditation, physical exercises, and proper sleep cycles, among other such productive habits, can help cure anxiety. Most importantly, one must respect and love oneself, which in turn will help in boosting self-confidence and positive energy. A person can be one's own therapist if he/she sits back for a while contemplating and meditating. A deep breath, a calm mind, and a healthy body helps to inculcate positivity, which otherwise gets cancelled out due to several blocks of negativity created by limited mindsets.

SubQuestion No : 22

Q.22 What is the primary inference that can be made by reading this passage?

- Ans
- 1. Anxiety can be defeated by a positive attitude and productive practices.
 - 2. Anxiety is very harmful for our emotional as well as physical health and cannot be dealt with individually.
 - 3. FOMO is the main reason why people experience anxiety.
 - 4. There is no clinical cure to anxiety and one must always live with it.

Question ID : 264330134170

Status : Answered

Chosen Option : 1

Comprehension:

Read the given passage and answer the questions that follow.

People often become helpless while dealing with anxiety. Anxiety can be caused by several factors, some of which can emerge from hypertension, the inability to share one's thoughts, sudden contextual differences, broken relationships, work stress, and so on. The fear of missing out, also known as FOMO, leading to anxiety issues is mostly prevalent among youngsters nowadays. Meditation, physical exercises, and proper sleep cycles, among other such productive habits, can help cure anxiety. Most importantly, one must respect and love oneself, which in turn will help in boosting self-confidence and positive energy. A person can be one's own therapist if he/she sits back for a while contemplating and meditating. A deep breath, a calm mind, and a healthy body helps to inculcate positivity, which otherwise gets cancelled out due to several blocks of negativity created by limited mindsets.

SubQuestion No : 23

Q.23 What is the full form of FOMO?

- Ans
- 1. Fear of Missing Out
 - 2. Fear of Managing Overstress
 - 3. Fear of Moping on
 - 4. Fear of Moving Out

Question ID : 264330134167

Status : Answered

Chosen Option : 1

Comprehension:

Read the given passage and answer the questions that follow.

People often become helpless while dealing with anxiety. Anxiety can be caused by several factors, some of which can emerge from hypertension, the inability to share one's thoughts, sudden contextual differences, broken relationships, work stress, and so on. The fear of missing out, also known as FOMO, leading to anxiety issues is mostly prevalent among youngsters nowadays. Meditation, physical exercises, and proper sleep cycles, among other such productive habits, can help cure anxiety. Most importantly, one must respect and love oneself, which in turn will help in boosting self-confidence and positive energy. A person can be one's own therapist if he/she sits back for a while contemplating and meditating. A deep breath, a calm mind, and a healthy body helps to inculcate positivity, which otherwise gets cancelled out due to several blocks of negativity created by limited mindsets.

SubQuestion No : 24

Q.24 The given passage is mainly based _____.

- Ans
- 1. On Anxiety
 - 2. On FOMO
 - 3. On Negativity
 - 4. On Positivity

Question ID : 264330134166

Status : Answered

Chosen Option : 1

Prepare 50% Faster

Comprehension:

Read the given passage and answer the questions that follow.

People often become helpless while dealing with anxiety. Anxiety can be caused by several factors, some of which can emerge from hypertension, the inability to share one's thoughts, sudden contextual differences, broken relationships, work stress, and so on. The fear of missing out, also known as FOMO, leading to anxiety issues is mostly prevalent among youngsters nowadays. Meditation, physical exercises, and proper sleep cycles, among other such productive habits, can help cure anxiety. Most importantly, one must respect and love oneself, which in turn will help in boosting self-confidence and positive energy. A person can be one's own therapist if he/she sits back for a while contemplating and meditating. A deep breath, a calm mind, and a healthy body helps to inculcate positivity, which otherwise gets cancelled out due to several blocks of negativity created by limited mindsets.

SubQuestion No : 25

Q.25 Which of the following best defines the word 'inculcate' as used in the passage?

- Ans
- 1. Cancel
 - 2. Scream
 - 3. Develop
 - 4. Break

Question ID : 264330134169

Status : Answered

Chosen Option : 3

Prepare 50% Faster

ixamBee

Prepare 50% Faster

Phase-XI/2023/Selection Posts and Selection Posts/Ladakh/2023

Roll Number	Selection Post
Candidate Name	Selection Post
Venue Name	iON Digital Zone iDZ Laxman Nagar
Exam Date	30/06/2023
Exam Time	11:45 AM - 12:45 PM
Subject	Selection Post Higher Secondary Level

Section : General Intelligence

Q.1 'A + B' का अर्थ है 'A, B का पुत्र है'।
'A - B' का अर्थ है 'A, B की माता है'।
'A × B' का अर्थ है 'A, B का पिता है'।
'A ÷ B' का अर्थ है 'A, B की बहन है'।
यदि $J ÷ K × L + M - N$ है, तो निम्नलिखित में से कौन सा कथन सही नहीं है?

- Ans
- 1. J, L की माता है।
 - 2. K, N का पिता है।
 - 3. L, N का भाई है।
 - 4. K, M का पति है।

Question ID : 264330103771

Status : Answered

Chosen Option : 1

Q.2 उस विकल्प का चयन करें, जो तीसरे शब्द से उसी प्रकार संबंधित है, जिस प्रकार दूसरा शब्द, पहले शब्द से संबंधित है। (शब्दों को अर्थपूर्ण हिंदी शब्दों के रूप में माना जाना चाहिए और शब्दों को उनमें अक्षरों की संख्या / व्यंजनों की संख्या / स्वरों की संख्या के आधार पर एक दूसरे से संबंधित नहीं किया जाना चाहिए।)
ऑमलेट : अंडा :: धातु : ?

- Ans
- 1. कुल्हाड़ी
 - 2. अयस्क
 - 3. रबड़क्षीर
 - 4. लकड़ी

Question ID : 26433056587

Status : Answered

Chosen Option : 2

Q.3 दी गई श्रेणी में प्रश्नवाचक चिह्न (?) के स्थान पर विकल्पों में से कौन सी संख्या आएगी?

287, 195, 286, 189, 284, 184, 281, 180, ?

- Ans
- 1. 197
 - 2. 265
 - 3. 277
 - 4. 177

Question ID : 264330142404

Status : Answered

Chosen Option : 3

Q.4 उस विकल्प का चयन करें जो पाँचवें शब्द से उसी प्रकार संबंधित है जिस प्रकार दूसरा शब्द पहले शब्द से संबंधित है और चौथा शब्द तीसरे शब्द से संबंधित है। (शब्दों को अर्थपूर्ण अंग्रेजी/हिन्दी शब्दों के रूप में माना जाना चाहिए और इन्हें शब्द में अक्षरों की संख्या/व्यंजनों की संख्या/स्वरों की संख्या के आधार पर एक दूसरे से संबद्ध नहीं किया जाना चाहिए।)

APPOINT : APPOINTMENT :: ARRANGE : ARRANGEMENT :: ADJUST : ?

- Ans
- 1. ACKNOWLEDGEMENT
 - 2. ANNOUNCEMENT
 - 3. ADVANCEMENT
 - 4. ADJUSTMENT

Question ID : 264330142470

Status : Answered

Chosen Option : 4

Q.5 अक्षरों के उस संयोजन का चयन कीजिए जिसे दी गई श्रृंखला के रिक्त स्थानों में बाएं से दाएं क्रमिक रूप से रखने पर अक्षर श्रृंखला पूरी हो जाएगी।

G _ _ A B G H I _ _ G _ I _ B _ H I _ B

- Ans
- 1. IHABHAGA
 - 2. HIBAHAAG
 - 3. IHABHAAG
 - 4. HIABHAGA

Question ID : 264330142487

Status : Answered

Chosen Option : 4

Q.6 अक्षरों के उस संयोजन का चयन कीजिए जिसे दी गई श्रृंखला के रिक्त स्थानों में क्रमिक रूप से रखने पर श्रृंखला पूर्ण हो जाएगी।

CFL, EIK, GLJ, IOI, _ _ _

- Ans
- 1. KRH
 - 2. KRK
 - 3. JRH
 - 4. KQH

Question ID : 26433078821

Status : Answered

Chosen Option : 1

Q.7 उस सही विकल्प का चयन करें जो निम्नलिखित शब्दों की व्यवस्था को तार्किक और अर्थपूर्ण क्रम में दर्शाता है।

1. महीना
2. दिन
3. दशक
4. वर्ष
5. शताब्दी

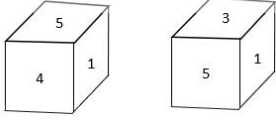
- Ans
- 1. 3, 5, 4, 1, 2
 - 2. 3, 5, 1, 4, 2
 - 3. 5, 3, 4, 1, 2
 - 4. 5, 4, 3, 1, 2

Question ID : 264330129474

Status : Answered

Chosen Option : 3

Q.8 एक ही पासे की दो अलग-अलग स्थितियाँ दिखाई गई हैं, जिसके छह फलक 1 से 6 तक संख्यांकित हैं। '1' दर्शाने वाले फलक के विपरीत फलक पर अपेक्षित संख्याओं का योग कितना होगा?



- Ans
- 1. 6
 - 2. 7
 - 3. 8
 - 4. 5

Question ID : 264330142442
Status : Answered
Chosen Option : 3

Q.9 दी गई श्रेणी में प्रश्नवाचक चिह्न (?) के स्थान पर विकल्पों में से कौन सी संख्या आएगी?

18, 54, 29, 87, 62, 186, ?

- Ans
- 1. 156
 - 2. 154
 - 3. 174
 - 4. 161

Question ID : 264330142401
Status : Answered
Chosen Option : 4

Q.10 'F + C' का अर्थ है कि 'F, C की बहन है',
'F - C' का अर्थ है कि 'F, C का पति है',
'F × C' का अर्थ है कि 'F, C के पिता है',
'F ÷ C' का अर्थ है कि 'F, C की पुत्री है'।

यदि 'R + T ÷ P × Q' है, तो P का R से क्या रिश्ता है?

- Ans
- 1. बहन
 - 2. भाई
 - 3. माता
 - 4. पिता

Question ID : 264330142500
Status : Answered
Chosen Option : 4

Q.11 एक निश्चित कूट भाषा में, 'ALUMNUS' को 'ZOFMMFH' लिखा जाता है और 'EMINENT' को 'VNRNVMG' लिखा जाता है। उसी भाषा में 'HAPPENS' को कैसे लिखा जाएगा?

- Ans
- 1. SZKPVMH
 - 2. SZLQVMH
 - 3. SZKQVMH
 - 4. SZLPVMH

Question ID : 26433097291
Status : Answered
Chosen Option : 1

Q.12 एक कूट भाषा में 'STATE' को '19-20-1-20-5' लिखा जाता है और 'HOME' को '8-15-13-5' लिखा जाता है। इसी भाषा में 'TELEVISION' कैसे लिखा जाएगा?

- Ans
- 1. 19-4-11-4-21-8-18-0-14-13
 - 2. 5-20-5-12-9-22-1-19-14-15
 - 3. 20-5-12-5-22-9-19-9-15-14
 - 4. 21-6-13-6-23-10-20-2-16-15

Question ID : 26433068446

Status : Answered

Chosen Option : 3

Q.13 एक कूट भाषा में 'BOARD' को '40' और 'TIME' को '47' लिखा जाता है। इसी भाषा में 'CUDDLE' कैसे लिखा जाएगा?

- Ans
- 1. 30
 - 2. 35
 - 3. 49
 - 4. 33

Question ID : 26433068447

Status : Answered

Chosen Option : 3

Q.14 उस विकल्प का चयन कीजिए जो पांचवें पद से उसी प्रकार संबंधित है जिस प्रकार दूसरा पद पहले पद से और चौथा पद तीसरे पद से संबंधित है।

SHIRT : RGISU :: KNIFE : JMIGF :: CHAIR : ?

- Ans
- 1. BGAJS
 - 2. CGAJS
 - 3. CGBJS
 - 4. BGBJS

Question ID : 264330142457

Status : Answered

Chosen Option : 1

Q.15 एक निश्चित कूट भाषा में, 'MATURE' को '7 26 14 22 9 6' के रूप में कूटबद्ध किया जाता है और 'OUTPUT' को '7 6 12 7 6 11' के रूप में कूटबद्ध किया जाता है। उसी भाषा में 'REMOVE' को किस रूप में कूटबद्ध किया जाएगा?

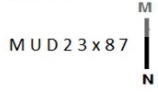
- Ans
- 1. 9 12 22 12 22 5
 - 2. 14 22 9 22 5 12
 - 3. 12 22 9 5 12 22
 - 4. 22 14 9 22 12 5

Question ID : 264330142445

Status : Answered

Chosen Option : 2

Q.16 जब दर्पण को MN पर दिखाए गए अनुसार रखा गया है, तो दिए गए संयोजन के सही दर्पण प्रतिबिंब का चयन कीजिए।



- Ans
- 1. 78xε2DUM
 - 2. 78x3εDUM
 - 3. 78xε2D∩M
 - 4. 78xεεDUM

Question ID : 264330142428

Status : Answered

Chosen Option : 4

Q.17 उस विकल्प का चयन करें जो दिए गए शब्दों के उस सही क्रम का निरूपण करता है जैसे कि वे एक अंग्रेजी शब्दकोश में दिखाई देंगे।

1. Bachelor
2. Backdoor
3. Bacteria
4. Backbone
5. Badgered

- Ans
- 1. 2,1,3,4,5
 - 2. 1,2,3,4,5
 - 3. 1,3,2,4,5
 - 4. 1,4,2,3,5

Question ID : 264330142447

Status : Answered

Chosen Option : 4

Q.18 उस विकल्प का चयन करें, जो पाँचवें अक्षर-समूह से उसी प्रकार संबंधित है, जिस प्रकार दूसरा अक्षर-समूह पहले अक्षर-समूह से संबंधित है और चौथा अक्षर-समूह तीसरे अक्षर-समूह से संबंधित है।
ISLE : GNVL :: JUMP : ROXM :: KATE : ?

- Ans
- 1. GVDM
 - 2. GVEM
 - 3. GVDN
 - 4. GVEN

Question ID : 26433056192

Status : Answered

Chosen Option : 3

Q.19 एक निश्चित कूट भाषा में 'OFFCUTS' को 'LUUXDEF' और 'PARADOX' को 'KZIZUJA' लिखा जाता है। उसी कूट भाषा में 'NAILING' को कैसे लिखा जाएगा?

- Ans
- 1. CSAWQMI
 - 2. VTGDES F
 - 3. MZROPKR
 - 4. BJMUROL

Question ID : 264330118648

Status : Answered

Chosen Option : 3

Q.20 उस सही विकल्प का चयन कीजिए जो दिए गए शब्दों की व्यवस्था को उसी क्रम में इंगित करता है जिस क्रम में वे अंग्रेजी शब्दकोश में दिखाई देते हैं।

1. Glacier
2. Gloomy
3. Glossy
4. Glorious
5. Glitter

Ans 1. 1,3,2,4,5

2. 1,2,4,3,5

3. 1,5,2,4,3

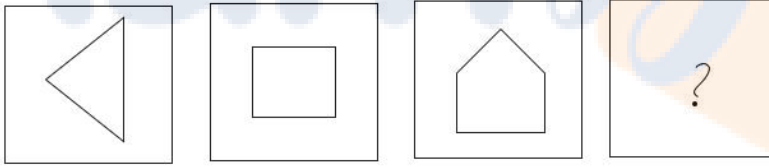
4. 1,5,4,2,3

Question ID : 26433057964

Status : Answered

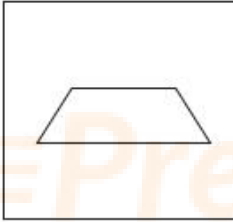
Chosen Option : 4

Q.21 उस आकृति का चयन कीजिए जो निम्नलिखित श्रृंखला में प्रश्नवाचक चिह्न (?) को प्रतिस्थापित करेगी।

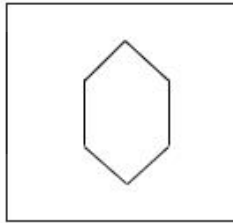


Ans

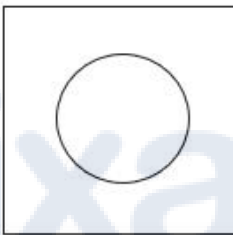
1.



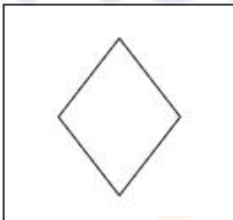
2.



3.



4.



Question ID : 264330142412

Status : Answered

Chosen Option : 2

Q.22 दिए गए कथनों और निष्कर्षों को ध्यानपूर्वक पढ़ें। यह मानते हुए कि कथनों में दी गई जानकारी सत्य है, भले ही वह सामान्य रूप से ज्ञात तथ्यों से भिन्न प्रतीत होती हो, निर्णय लें कि दिए गए निष्कर्षों में से कौन-सा/से निष्कर्ष कथनों का तार्किक रूप से अनुसरण करता/करते है/हैं।

कथन :

- सभी धाराएं, नदियां हैं।
- सभी तालाब, नदियां हैं।
- सभी नदियां, महासागर हैं।

निष्कर्ष :

- I. कुछ महासागर, धाराएं हैं।
- II. सभी तालाब, महासागर हैं।
- III. कुछ महासागर, नदियां नहीं हैं।

- Ans
- 1. निष्कर्ष I, II और III अनुसरण करते हैं
 - 2. केवल निष्कर्ष I और III अनुसरण करते हैं
 - 3. केवल निष्कर्ष II और III अनुसरण करते हैं
 - 4. केवल निष्कर्ष I और II अनुसरण करते हैं

Question ID : 264330142511

Status : Answered

Chosen Option : 4

Q.23 यदि,

- 'A % Z' का अर्थ है 'A, Z का पुत्र है';
 - 'A & Z' का अर्थ है 'A, Z के पिता है';
 - 'A x Z' का अर्थ है 'A, Z की बहन है';
 - 'A # Z' का अर्थ है 'A, Z की माता है';
 - 'A \$ Z' का अर्थ है 'A, Z की पुत्री है';
 - 'A @ Z' का अर्थ है 'A, Z की पुत्रवधू है';
- तो दिए गए व्यंजक में, C का D से क्या संबंध है?
C \$ A # E & B % G @ D

- Ans
- 1. भाई
 - 2. बहन
 - 3. पत्नी
 - 4. पुत्री

Question ID : 264330142507

Status : Answered

Chosen Option : 4

Q.24 इस प्रश्न में, तीन कथन और उसके बाद दो निष्कर्ष I और II दिए गए हैं। कथनों को सत्य मानते हुए, भले ही वे सामान्यतः ज्ञात तथ्यों से भिन्न प्रतीत होते हों, निर्णय लें कि कौन-सा/से निष्कर्ष तार्किक रूप से कथनों का अनुसरण करता/करते है/हैं।

कथन:

- I. सभी कलमें, स्केच हैं।
- II. सभी स्केच, पुस्तकें हैं।
- III. कुछ पुस्तकें, रंग हैं।

निष्कर्ष:

- I. कुछ पुस्तकें, कलमें हैं।
- II. कुछ रंग, स्केच हैं।

- Ans
- 1. न तो निष्कर्ष I और न ही II अनुसरण करता है
 - 2. दोनों निष्कर्ष I और II अनुसरण करते हैं
 - 3. केवल निष्कर्ष II अनुसरण करता है
 - 4. केवल निष्कर्ष I अनुसरण करता है

Question ID : 264330104059

Status : Answered

Chosen Option : 4

Q.25 निम्नलिखित में से कौन-से चिह्नों को परस्पर बदला जाना चाहिए ताकि दिया गया समीकरण सही हो जाए?

$$288 \times 72 + 36 \div 12 - 6 = 20770$$

- Ans
- 1. - और +
 - 2. × और -
 - 3. + और ×
 - 4. + और +

Question ID : 26433057930

Status : Answered

Chosen Option : 1

Section : General Awareness

Q.1 शिव को समर्पित कंदारिया महादेव मंदिर, जिसका निर्माण 999 में चंदेल वंश द्वारा किया गया था, वास्तुकला की निम्नलिखित में से किस शैली का एक उदाहरण है?

- Ans
- 1. द्रविड़ शैली
 - 2. अहोम शैली
 - 3. पगोड़ा शैली
 - 4. नागर शैली

Question ID : 264330141648

Status : Answered

Chosen Option : 1

Q.2 आज़ादी के अमृत महोत्सव के अवसर पर भारत सरकार के निम्नलिखित में से किस विभाग ने जनवरी 2023 में 'नारी समागम और स्पर्धा' - एक महिला खेल प्रतियोगिता का आयोजन किया?

- Ans
- 1. गृह मामलों का विभाग
 - 2. खेल, कला और संस्कृति विभाग
 - 3. कार्मिक और प्रशिक्षण विभाग
 - 4. वित्त विभाग

Question ID : 264330132593

Status : Answered

Chosen Option : 2

Q.3 _____ के नेतृत्व में "सर्वोच्चता" की एक नई नीति शुरू की गई थी। इस नीति में कंपनी ने दावा किया कि उसकी सत्ता सर्वोपरि या सर्वोच्च है, इसलिए उसकी शक्ति भारतीय राज्यों की तुलना में अधिक है।

- Ans
- 1. रॉबर्ट क्लाइव
 - 2. थॉमस मुनरो
 - 3. लार्ड हेस्टिंग्स
 - 4. चार्ल्स कार्नवालिस

Question ID : 26433082067

Status : Answered

Chosen Option : 3

Q.4 निम्नलिखित में से कौन अहमदाबाद शहर में नृत्य, नाटक, संगीत और कठपुतली में छात्रों को प्रशिक्षित करने पर ध्यान केंद्रित करने वाली संस्था 'दर्पण एकेडमी ऑफ परफॉर्मिंग आर्ट्स' की संस्थापक और निदेशक थीं?

- Ans
- 1. अमला शंकर
 - 2. मृणालिनी साराभाई
 - 3. पद्मिनी चेतूर
 - 4. सितारा देवी

Question ID : 264330110263
Status : Answered
Chosen Option : 2

Q.5 निम्नलिखित में से कौन कीटवर्ग से संबंधित नहीं है?

- Ans
- 1. तिलचट्टा
 - 2. मच्छर
 - 3. बिच्छू
 - 4. सिल्वरफ़िश

Question ID : 26433064138
Status : Answered
Chosen Option : 4

Q.6 निम्नलिखित में से कौन, दिसंबर 2021 में US में जूनियर स्कैश ओपन जीतने वाली पहली भारतीय लड़की है?

- Ans
- 1. सुनयना कुरुविला
 - 2. आकांक्षा सालुंखे
 - 3. दीपिका कार्तिक
 - 4. अनाहत सिंह

Question ID : 26433092458
Status : Answered
Chosen Option : 4

Q.7 भारतीय संविधान में कितने मौलिक कर्तव्य हैं?

- Ans
- 1. 12
 - 2. 10
 - 3. 9
 - 4. 11

Question ID : 264330110782
Status : Answered
Chosen Option : 4

Q.8 जुलाई 2021 में केंद्रीय कानून और न्याय मंत्री के रूप में किसे नियुक्त किया गया था?

- Ans
- 1. नरेंद्र सिंह तोमर
 - 2. एम एन पांडेय
 - 3. राजनाथ सिंह
 - 4. किरेन रिजिजु

Question ID : 26433081855
Status : Answered
Chosen Option : 4

Q.9 निम्नलिखित में से कौन सी उत्तरी भारत में रबी की फसल है?

- Ans
- 1. मक्का
 - 2. चावल
 - 3. कपास
 - 4. सरसों

Question ID : 26433092870

Status : Answered

Chosen Option : 4

Q.10 निम्नलिखित में से किस संगीतकार को 1999 में भारत के सर्वोच्च नागरिक सम्मान 'भारत रत्न' से सम्मानित किया गया था?

- Ans
- 1. पंडित रवि शंकर
 - 2. पंडित राम नारायण
 - 3. उस्ताद अमजद अली खान बंगाश
 - 4. उस्ताद ज़ाकिर हुसैन

Question ID : 264330141606

Status : Answered

Chosen Option : 1

Q.11 भारत के राष्ट्रपति की सहायता करने और उन्हें सलाह देने के लिए प्रधान मंत्री के साथ एक _____ होगा/होगी।

- Ans
- 1. राज्य सभा
 - 2. भारत का महान्यायवादी
 - 3. महाधिवक्ता
 - 4. मंत्रिमंडल

Question ID : 264330110596

Status : Answered

Chosen Option : 4

Q.12 निम्नलिखित में से कौन 'तारीख-ए-फ़िरोज़ शाही' पुस्तक के लेखक थे?

- Ans
- 1. बदरुद्दीन मुहम्मद
 - 2. ज़ियाउद्दीन बरनी
 - 3. अबुल फ़ज़ल
 - 4. मिन्हास-उस-सिराज

Question ID : 26433090576

Status : Answered

Chosen Option : 2

Q.13 फुटबॉल मैच में दो गोल-पोस्टों के बीच की दूरी कितनी होती है?

- Ans
- 1. 8.32 m
 - 2. 9.32 m
 - 3. 6.32 m
 - 4. 7.32 m

Question ID : 26433054704

Status : Answered

Chosen Option : 1

Q.14 झोलम नदी निम्नलिखित में से किस उद्गम स्थल से निकलती है?

- Ans
- 1. चेमायुंगडुंग ग्लेशियर
 - 2. मानसरोवर झील
 - 3. वेरीनाग झरना
 - 4. राकस झील

Question ID : 26433089235

Status : Answered

Chosen Option : 3

Q.15 दिए गए विकल्पों में से वामन ग्रह की पहचान करें।

- Ans
- 1. नेपच्यून
 - 2. प्लूटो
 - 3. बुध
 - 4. मंगल

Question ID : 264330141927

Status : Answered

Chosen Option : 2

Q.16 प्याज के ऊतक को छीलने, काटने या कुचलने से कौन-सा एंजाइम निकलता है, जिससे हमारी आँखों में आँसू आ जाते हैं?

- Ans
- 1. जाइलेनेज़ (Xylanases)
 - 2. एलिनेज़ (Allinases)
 - 3. बोर्डिलेज़ (Bordelaises)
 - 4. पेक्टिनेज़ (Pectinases)

Question ID : 26433055146

Status : Answered

Chosen Option : 2

Q.17 यू.एन.एफ.पी.ए. के हालिया अनुमानों के अनुसार 2022 में भारत की 68 प्रतिशत जनसंख्या _____ वर्ष की आयु के बीच है।

- Ans
- 1. 10 और 19
 - 2. 15 और 64
 - 3. 10 और 24
 - 4. 15 और 29

Question ID : 264330111347

Status : Answered

Chosen Option : 2

Q.18 निम्नलिखित में से किस भारतीय संगीतकार की आत्मकथा का शीर्षक 'राग माला' है?

- Ans
- 1. विश्व मोहन भट्ट
 - 2. अमजद अली खान
 - 3. जाकिर हुसैन
 - 4. रवि शंकर

Question ID : 26433054842

Status : Answered

Chosen Option : 1

Q.19 गणेश चतुर्थी हिंदू कैलेंडर के _____ महीने में मनाई जाती है।

- Ans
- 1. वैशाख
 - 2. कार्तिक
 - 3. आषाढ़
 - 4. भाद्रपद

Question ID : 26433064328

Status : Answered

Chosen Option : 3

Q.20 कार्बन डाइऑक्साइड में कार्बन और ऑक्सीजन के द्रव्यमान का अनुपात क्या है?

- Ans
- 1. 3 : 13
 - 2. 3 : 1
 - 3. 3 : 2
 - 4. 3 : 8

Question ID : 26433059454

Status : Answered

Chosen Option : 4

Q.21 निम्नलिखित में से कौन-सा प्राचीन भारत का सबसे पुराना ग्रंथ है?

- Ans
- 1. मनु स्मृति
 - 2. अर्थशास्त्र
 - 3. ऋग्वेद
 - 4. महाभाष्य

Question ID : 264330111364

Status : Answered

Chosen Option : 1

Q.22 भारत में संघ की कार्यपालिका शक्ति _____ को प्राप्त है।

- Ans
- 1. उप राष्ट्रपति
 - 2. राष्ट्रपति
 - 3. प्रधानमंत्री
 - 4. मुख्य न्यायमूर्ति

Question ID : 26433055542

Status : Answered

Chosen Option : 2

Q.23 निम्नलिखित में से किस महिला व्यक्तित्व को ओलंपिक में 'डबल मेडलिस्ट' होने का सम्मान प्राप्त है?

- Ans
- 1. कर्णम मल्लेश्वरी
 - 2. साइना नेहवाल
 - 3. साक्षी मलिक
 - 4. पी. वी. सिंधु

Question ID : 26433092455

Status : Answered

Chosen Option : 4

Q.24 निम्नलिखित में से कौन सा नृत्य युग्म केरल से संबंधित है?

- Ans
- 1. मोहिनीअट्टम और कथक
 - 2. सल्लिया और भरतनाट्यम
 - 3. कथकली और मोहिनीअट्टम
 - 4. कथकली और कुचिपुड़ी

Question ID : 264330141616

Status : Answered

Chosen Option : 3

Q.25 वर्ष 2011 की जनगणना के अनुसार किस केंद्र शासित प्रदेश का लिंगानुपात सबसे अधिक है?

- Ans
- 1. अंडमान और निकोबार द्वीप समूह
 - 2. पुदुचेरी
 - 3. दिल्ली
 - 4. दमन और दीव

Question ID : 264330109505

Status : Answered

Chosen Option : 1

Section : Quantitative Aptitude

Q.1 एक व्यापारी ₹1,800 में एक स्मार्टवॉच खरीदता है और उसका सूची मूल्य इस प्रकार निर्धारित करता है कि 10% की छूट देने के बाद भी वह 22% का लाभ अर्जित करता है। स्मार्टवॉच का सूची मूल्य (₹ में) कितना है?

- Ans
- 1. 2440
 - 2. 2180
 - 3. 2450
 - 4. 2520

Question ID : 264330102351

Status : Answered

Chosen Option : 1

Q.2 दो उम्मीदवारों के बीच हुए एक चुनाव में, 80% मतदाताओं ने अपना वोट डाला, जिसमें से 10% वोट अवैध घोषित कर दिए गए। एक उम्मीदवार को 9,936 वोट मिले जो कुल वैध वोट का 60% था। उस चुनाव में नामांकित मतदाताओं की कुल संख्या ज्ञात कीजिए।

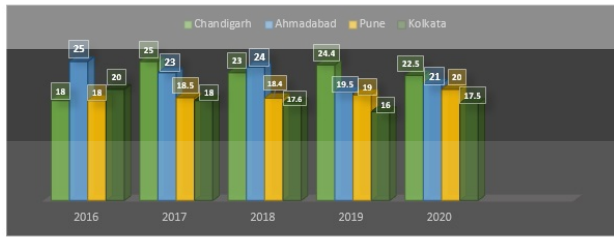
- Ans
- 1. 23000
 - 2. 24000
 - 3. 24320
 - 4. 25500

Question ID : 26433083032

Status : Answered

Chosen Option : 1

Q.3 दिया गया ग्राफ 2016-2020 की अवधि के दौरान चार शहरों में काटे गए वृक्षों की संख्या (सौ में) को दर्शाता है।



Chandigarh = चंडीगढ़, Ahmadabad = अहमदाबाद, Pune = पुणे, Kolkata = कोलकाता

2019 में सभी चार शहरों में काटे गए वृक्षों की औसत संख्या ज्ञात करें (दशमलव भाग की उपेक्षा करें)।

- Ans
- 1. 1792
 - 2. 1972
 - 3. 1800
 - 4. 1952

Question ID : 264330100285

Status : Answered

Chosen Option : 2

Q.4 $\left(\frac{9}{8} + \frac{8}{9}\right)^2 - \left(\frac{9}{8} - \frac{8}{9}\right)^2$ को हल करें।

- Ans
- 1. 1
 - 2. 8
 - 3. 4
 - 4. 2

Question ID : 264330141410

Status : Answered

Chosen Option : 3

Q.5 साधारण ब्याज की एक निश्चित वार्षिक दर पर कितनी राशि 2 वर्षों में Rs. 2,600 और 3 वर्षों में Rs. 2,700 हो जाती है?

- Ans
- 1. Rs. 2,600
 - 2. Rs. 2,300
 - 3. Rs. 2,200
 - 4. Rs. 2,400

Question ID : 26433064916

Status : Answered

Chosen Option : 4

Q.6 एक व्यक्ति की मासिक आय ₹80,000 थी और उसका मासिक खर्च ₹45,000 था। अगले वर्ष उसकी आय 16% बढ़ी और उसका खर्च 8% बढ़ा। उसकी बचत में प्रतिशत वृद्धि को ज्ञात करें (दो दशमलव स्थान तक सही)।

- Ans
- 1. 26.29%
 - 2. 30.25%
 - 3. 25.35%
 - 4. 44.36%

Question ID : 264330141378

Status : Answered

Chosen Option : 1

Q.7 p के किस मान के लिए समीकरण-निकाय $18x + 36y + 45 = 0$ और $px - 54y + 67 = 0$ का कोई हल नहीं होगा?

- Ans
- 1. -36
 - 2. 54
 - 3. 27
 - 4. -27

Question ID : 264330126546

Status : Answered

Chosen Option : 4

Q.8 एक कार 60 km/h की प्रारंभिक चाल से चलना शुरू करती है, इसकी चाल में हर घंटे 10 km/h की वृद्धि होती है। 1210 km की दूरी तय करने में उसे कितने घंटे लगेंगे?

- Ans
- 1. 8
 - 2. 11
 - 3. 12
 - 4. 10

Question ID : 264330103425

Status : Answered

Chosen Option : 2

Q.9 दो संख्याएं एक तीसरी संख्या से क्रमशः 16% और 30% कम हैं। दोनों संख्याओं का अनुपात क्या है?

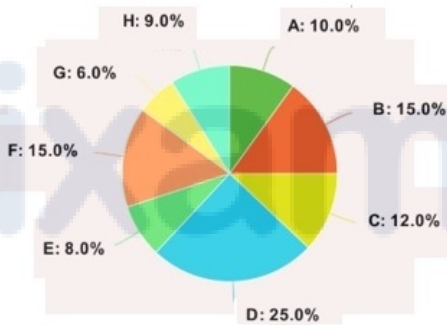
- Ans
- 1. 5 : 7
 - 2. 6 : 5
 - 3. 8 : 5
 - 4. 5 : 8

Question ID : 264330103543

Status : Answered

Chosen Option : 2

Q.10 निम्न पाई चार्ट 1995 में एक कारखाने की विभिन्न श्रेणियों A, B, C, D, E, F, G और H के श्रमिकों की संख्या को दर्शाता है।



पाई चार्ट की श्रेणी D के लिए केंद्रीय कोण (कोणीय मान) क्या है?

- Ans
- 1. 60°
 - 2. 90°
 - 3. 30°
 - 4. 80°

Question ID : 26433066388

Status : Answered

Chosen Option : 2

Q.11 एक त्रिभुज का क्षेत्रफल _____ है, जिसकी भुजाएं 3 cm, 5 cm और 6 cm हैं।

- Ans
- 1. $2\sqrt{14}$ cm²
 - 2. $\sqrt{14}$ cm²
 - 3. $3\sqrt{14}$ cm²
 - 4. $4\sqrt{14}$ cm²

Question ID : 26433081618
Status : Answered
Chosen Option : 1

Q.12 प्रति वर्ष किस दर से Rs.550 पर 3 वर्षों में साधारण ब्याज Rs.33 होगा?

- Ans
- 1. 5%
 - 2. 2%
 - 3. 6%
 - 4. 3%

Question ID : 26433075498
Status : Answered
Chosen Option : 2

Q.13 अपने घर पहुँचने के लिए अनिता ने ऑटोरिक्शा से 35 km/h की चाल से 11 मिनट यात्रा की। उसने टैक्सी से 55 km/h की चाल से 11 मिनट यात्रा की और अंत में उसने बस से 42 km/h की चाल से 11 मिनट यात्रा की और घर पहुँच गई। पूरी यात्रा के लिए उसकी औसत चाल ज्ञात कीजिए।

- Ans
- 1. 44 km/h
 - 2. 64 km/h
 - 3. 34 km/h
 - 4. 54 km/h

Question ID : 26433063889
Status : Answered
Chosen Option : 1

Q.14 दो त्रिभुज PRS और DEF समरूप हैं, जिनके परिमाण क्रमशः 36 cm और 40 cm हैं। यदि DE की लंबाई 10 cm है, तो PR की लंबाई (cm में) क्या है?

- Ans
- 1. 8
 - 2. 15
 - 3. 12
 - 4. 9

Question ID : 264330130043
Status : Answered
Chosen Option : 4

Q.15 दो संख्याएँ 7:6 के अनुपात में हैं। यदि उनके वर्गों के बीच का अंतर 637 है, तो वे संख्याएँ कौन सी हैं?

- Ans
- 1. 14 और 12
 - 2. 43 और 36
 - 3. 49 और 12
 - 4. 49 और 42

Question ID : 264330141372

Status : Answered

Chosen Option : 4

Q.16 मुस्कान ₹400 में दो kg दाल खरीदती है और इसे ₹440 में बेचती है। वह 1 kg की जगह 850 gm वाले वजन का भी उपयोग करती हैं। मुस्कान का वास्तविक लाभ प्रतिशत कितना है?

- Ans
- 1. $25\frac{15}{17}\%$
 - 2. 27%
 - 3. $29\frac{7}{17}\%$
 - 4. 30%

Question ID : 264330123976

Status : Answered

Chosen Option : 3

Q.17 निम्नलिखित में से कौन सी संख्या $(6^{61} + 6^{62} + 6^{63} + 6^{64})$ को पूर्ण रूप से विभाजित करेगी?

- Ans
- 1. 7
 - 2. 13
 - 3. 11
 - 4. 10

Question ID : 26433086268

Status : Answered

Chosen Option : 1

Q.18 निम्नलिखित में से कौन-सा 11 से पूर्णतः विभाज्य है?

- Ans
- 1. 57463822
 - 2. 57463823
 - 3. 57464044
 - 4. 57464054

Question ID : 264330129983

Status : Answered

Chosen Option : 3

Q.19 60 km/h की चाल से चल रही एक कार का चालक आधी दूरी तय करने के बाद चाल को धीमी करके 40 km/h करने का निर्णय लेता है। कार की औसत चाल (km/h में) क्या है?

- Ans
- 1. 42
 - 2. 48
 - 3. 36
 - 4. 30

Question ID : 26433091530

Status : Answered

Chosen Option : 2

Q.20 विक्टोरिया ने ऐसी वस्तुएँ खरीदीं जिनका संयुक्त अंकित मूल्य \$4,00,000 था। उसे नकद में किए गए भुगतान के हिस्से पर 10% की छूट और क्रेडिट कार्ड के माध्यम से किए गए भुगतान के हिस्से पर 2% अधिभार की पेशकश की गई थी। यदि विक्टोरिया ने कुल \$3,78,000 का भुगतान किया, तो उसने क्रेडिट कार्ड के माध्यम से अधिभार सहित कितना भुगतान किया?

- Ans
- 1. \$1,53,000
 - 2. \$1,63,200
 - 3. \$1,58,100
 - 4. \$1,47,900

Question ID : 264330103268

Status : Answered

Chosen Option : 3

Q.21 13 विद्यार्थियों के औसत अंक 67 हैं। यदि पहले सात विद्यार्थियों के औसत अंक 61 हैं और अंतिम सात विद्यार्थियों के औसत अंक 65 हैं, तो सातवें विद्यार्थी के अंक क्या हैं?

- Ans
- 1. 9
 - 2. 6
 - 3. 7
 - 4. 11

Question ID : 264330126172

Status : Answered

Chosen Option : 4

Q.22 मोहन 14817 को एक निश्चित संख्या से विभाजित करता है। यदि उसे भागफल और शेषफल क्रमशः 98 और 117 प्राप्त होते हैं, तो भाजक _____ है।

- Ans
- 1. 150
 - 2. 145
 - 3. 140
 - 4. 155

Question ID : 26433090296

Status : Answered

Chosen Option : 1

Prepare 50% Faster

Q.23 cosec $41^\circ - \sec 49^\circ$ का मान ज्ञात कीजिए।

Ans

1. $\frac{1}{2}$

2. 0

3. $\frac{1}{4}$

4. 1

Question ID : 264330141579

Status : Answered

Chosen Option : 2

Q.24 $9 \text{ cm} \times 12 \text{ cm} \times 20 \text{ cm}$ विमाओं वाले घनाभ का विकर्ण (cm में) है:

Ans

1. 9

2. 25

3. 20

4. 12

Question ID : 26433082930

Status : Answered

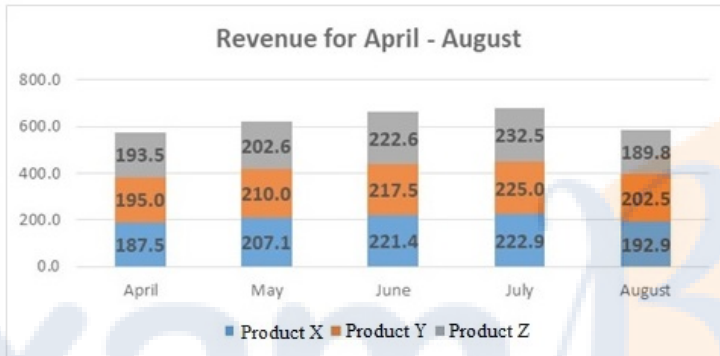
Chosen Option : 2

Prepare 50% Faster

ixamBee 

Prepare 50% Faster

Q.25 निम्नलिखित आरेख पांच महीने के लिए एक कंपनी के राजस्व (मिलियन अमरीकी डॉलर में) को दर्शाता है। उत्पाद Y का औसत राजस्व (मिलियन अमरीकी डॉलर में) क्या है?



Revenue for April-August = अप्रैल-अगस्त के लिए राजस्व

April = अप्रैल

May = मई

June = जून

July = जुलाई

August = अगस्त

Product X = उत्पाद X

Product Y = उत्पाद Y

Product Z = उत्पाद Z

Ans ✓ 1. 210

✗ 2. 212.5

✗ 3. 211.2

✗ 4. 209

Question ID : 26433096362

Status : Answered

Chosen Option : 1

Section : English Language

Q.1 Select the option that expresses the given sentence in active voice.
A diamond necklace was to be bought by my wife.

Ans ✗ 1. My wife was to buy a necklace of diamond.

✗ 2. My wife were to buy a diamond necklace.

✓ 3. My wife was to buy a diamond necklace.

✗ 4. My wife was buying a diamond necklace.

Question ID : 26433084725

Status : Answered

Chosen Option : 3

Q.2 Select the most appropriate ANTONYM of the underlined word.
My cousin's fanatical views made him very unpopular with his friends.

Ans ✗ 1. Apathetic

✗ 2. Impartial

✗ 3. Weary

✓ 4. Moderate

Question ID : 26433073369

Status : Answered

Chosen Option : 1

Q.3 Select the most appropriate synonym of the given word.

Paranoia

- Ans
- 1. Faith
 - 2. Assurance
 - 3. Anxiety
 - 4. Belief

Question ID : 26433060979

Status : Answered

Chosen Option : 3

Q.4 Select the most appropriate option to fill in the blank.

It is only a rope, she _____ herself, though it looked very much like a snake.

- Ans
- 1. remembered
 - 2. reassured
 - 3. replied
 - 4. retained

Question ID : 26433098875

Status : Answered

Chosen Option : 2

Q.5 Select the most appropriate option to fill in the blank.

_____ for an hour made me lose my breath.

- Ans
- 1. Sitting
 - 2. Eating
 - 3. Sleeping
 - 4. Walking

Question ID : 26433098877

Status : Answered

Chosen Option : 4

Q.6 Select the most appropriate ANTONYM of the given word from the following sentence.

Elegant

The table cloth on my brother's study table was classic and splendid, yet my mother found it very awkward and odd.

- Ans
- 1. Splendid
 - 2. Awkward
 - 3. Odd
 - 4. Classic

Question ID : 26433072813

Status : Answered

Chosen Option : 2

Q.7 Select the most appropriate synonym of the underlined word.

We always love to get the updated version of gadgets we use.

- Ans
- 1. Corrected
 - 2. Old
 - 3. Latest
 - 4. Refurbished

Question ID : 26433089383
Status : Answered
Chosen Option : 3

Q.8 Select the most appropriate option to fill in the blank.
Ravi _____ to my house yesterday.

- Ans
- 1. came
 - 2. left
 - 3. go
 - 4. come

Question ID : 26433098872
Status : Answered
Chosen Option : 1

Q.9 Select the INCORRECTLY spelt word.

- Ans
- 1. Persuesive
 - 2. Valorous
 - 3. Violence
 - 4. Tyranny

Question ID : 26433088410
Status : Answered
Chosen Option : 3

Q.10 Select the option that can be used as a one-word substitute for the given group of words.

Something which lasts forever

- Ans
- 1. Memorable
 - 2. Eternal
 - 3. Transitory
 - 4. Pertinent

Question ID : 26433073906
Status : Answered
Chosen Option : 2

Q.11 Select the option that expresses the given sentence in direct speech.
Anant said that he was feeling sleepy.

- Ans
- 1. Anant said, "He was feeling sleepy."
 - 2. Anant said, "I was feeling sleepy."
 - 3. Anant said, "I am feeling sleepy."
 - 4. "I was feeling sleepy," says Anant.

Question ID : 264330134143
Status : Answered
Chosen Option : 3

Q.12 Select the option that expresses the given sentence in direct speech.

Bidding farewell to me, my juniors wished me a bright and successful career ahead.

- Ans
- 1. Bidding farewell to me, my juniors wish me, "Wish you a bright and successful career ahead."
 - 2. Bidding farewell to me, my juniors said to themselves, "Wish you a bright and successful career ahead."
 - 3. Bidding farewell to me, my juniors said to me, "Wish you a bright and successful career ahead."
 - 4. Bidding farewell to me, my juniors inquired, "Wish you a bright and successful career ahead."

Question ID : 26433099083

Status : Answered

Chosen Option : 3

Q.13 Select the most appropriate meaning of the given idiom.
Hand and glove

- Ans
- 1. Enemy
 - 2. Oppressive
 - 3. Intimate
 - 4. Discourage

Question ID : 26433086332

Status : Answered

Chosen Option : 3

Q.14 The following sentence has been split into four segments. Identify the segment that contains a grammatical error.

After that long afternoon, / when I quietly entered her room / to hand over the packet to her, / she asked me to sit reluctant

- Ans
- 1. After that long afternoon,
 - 2. she asked me to sit reluctant
 - 3. to hand over the packet to her,
 - 4. when I quietly entered her room

Question ID : 26433055585

Status : Answered

Chosen Option : 2

Q.15 Identify the sentence that contains no spelling errors.

- Ans
- 1. Drones are employed for a variety of purposes, including transporting commodities, acisting in search and rescue efforts, etc.
 - 2. Drones are employed for a variety of purposes, including transporting comodities, assisting in search and resque efforts, etc.
 - 3. Drones are employed for a variety of purposes, including transporting commodities, assisting in search and resque efforts, etc.
 - 4. Drones are employed for a variety of purposes, including transporting commodities, assisting in search and rescue efforts, etc.

Question ID : 26433088540

Status : Answered

Chosen Option : 4

Prepare 50% Faster

Comprehension:

In the following passage, some words have been deleted. Read the passage carefully and select the most appropriate option to fill in each blank.

Many parents think of overweight children as 'cute' and cuddly. However, obesity must not be (1)_____ as a healthy sign. (2)_____ obese children grow up, they will be more prone (3)_____ health problems like high blood pressure (4)_____ diabetes. Today, overweight children are becoming a common (5)_____ in many countries.

SubQuestion No : 16

Q.16 Select the most appropriate option to fill in blank number 1.

- Ans
- 1. wasted
 - 2. casted
 - 3. seen
 - 4. keen

Question ID : 26433099099
Status : Answered
Chosen Option : 3

Comprehension:

In the following passage, some words have been deleted. Read the passage carefully and select the most appropriate option to fill in each blank.

Many parents think of overweight children as 'cute' and cuddly. However, obesity must not be (1)_____ as a healthy sign. (2)_____ obese children grow up, they will be more prone (3)_____ health problems like high blood pressure (4)_____ diabetes. Today, overweight children are becoming a common (5)_____ in many countries.

SubQuestion No : 17

Q.17 Select the most appropriate option to fill in blank number 2.

- Ans
- 1. Then
 - 2. There
 - 3. Here
 - 4. When

Question ID : 26433099100
Status : Answered
Chosen Option : 4

Comprehension:

In the following passage, some words have been deleted. Read the passage carefully and select the most appropriate option to fill in each blank.

Many parents think of overweight children as 'cute' and cuddly. However, obesity must not be (1)_____ as a healthy sign. (2)_____ obese children grow up, they will be more prone (3)_____ health problems like high blood pressure (4)_____ diabetes. Today, overweight children are becoming a common (5)_____ in many countries.

SubQuestion No : 18

Q.18 Select the most appropriate option to fill in blank number 3.

- Ans
- 1. on
 - 2. for
 - 3. to
 - 4. the

Question ID : 26433099101
Status : Answered
Chosen Option : 3

Comprehension:

In the following passage, some words have been deleted. Read the passage carefully and select the most appropriate option to fill in each blank.

Many parents think of overweight children as 'cute' and cuddly. However, obesity must not be (1)_____ as a healthy sign. (2)_____ obese children grow up, they will be more prone (3)_____ health problems like high blood pressure (4)_____ diabetes. Today, overweight children are becoming a common (5)_____ in many countries.

SubQuestion No : 19

Q.19 Select the most appropriate option to fill in blank number 4.

Ans 1. either

2. or

3. nor

4. if

Question ID : 26433099102

Status : Answered

Chosen Option : 2

Comprehension:

In the following passage, some words have been deleted. Read the passage carefully and select the most appropriate option to fill in each blank.

Many parents think of overweight children as 'cute' and cuddly. However, obesity must not be (1)_____ as a healthy sign. (2)_____ obese children grow up, they will be more prone (3)_____ health problems like high blood pressure (4)_____ diabetes. Today, overweight children are becoming a common (5)_____ in many countries.

SubQuestion No : 20

Q.20 Select the most appropriate option to fill in blank number 5.

Ans 1. solution

2. find

3. thing

4. sight

Question ID : 26433099103

Status : Answered

Chosen Option : 3

Prepare 50% Faster

Comprehension:

Read the given passage and answer the question that follows.

Time is the essence of life. It is the wealth given to us by God. Everyday all of us get 24 hours; nothing less, nothing more. Now, it is up to us how we use it. People who know how to make the best use of every moment easily open the doors of success in their lives and those who misuse time get failures one after the other. There is a saying that, "Spent time and spent words cannot come back." Everybody is tied by the limits of time. Work wins appreciation only when it gets completed in a requisite time frame. Beyond the time allotted, work loses all its utility, however good may have been its quality. Just as falling of rains after the crops have dried up have no use; likewise, when the time is past the deadline, the work loses its importance and value. When iron is hot it can be cast into whichever shape we want. Once it gets cold nothing can be made out of it, however much we may beat the same. In the same way, a person who has learnt to wisely use his time and has understood how to cast himself according to the need of the time has actually learnt the true mantra of life. Shakespeare wrote in one of his plays, "I wasted time, and now doth time waste me." It is true that a person who wastes even a little bit of time loses wonderful opportunities that he could have otherwise availed of by utilising that time. All the great leaders have one thing in common. They wisely utilise every moment of their time. When other people are busy in wasting time in laziness, great men are busy in making plans for the future. There is no person in history who wasted his time and still managed to achieve greatness. Therefore, there is great need to manage time wisely. "Careful Time Management" refers to careful planning of time and sincere execution of this plan. This is the only mantra to attain success in any endeavour. A simple change in outlook and some modification in one's daily routine can result in a big jump forward towards greater achievements.

SubQuestion No : 21

Q.21 Select the most appropriate synonym of the word 'endeavour' given in the second paragraph.

- Ans
- 1. Drop
 - 2. Quit
 - 3. Idle
 - 4. Attempt

Question ID : 264330121507

Status : Answered

Chosen Option : 4

Comprehension:

Read the given passage and answer the question that follows.

Time is the essence of life. It is the wealth given to us by God. Everyday all of us get 24 hours; nothing less, nothing more. Now, it is up to us how we use it. People who know how to make the best use of every moment easily open the doors of success in their lives and those who misuse time get failures one after the other. There is a saying that, "Spent time and spent words cannot come back." Everybody is tied by the limits of time. Work wins appreciation only when it gets completed in a requisite time frame. Beyond the time allotted, work loses all its utility, however good may have been its quality. Just as falling of rains after the crops have dried up have no use; likewise, when the time is past the deadline, the work loses its importance and value. When iron is hot it can be cast into whichever shape we want. Once it gets cold nothing can be made out of it, however much we may beat the same. In the same way, a person who has learnt to wisely use his time and has understood how to cast himself according to the need of the time has actually learnt the true mantra of life. Shakespeare wrote in one of his plays, "I wasted time, and now doth time waste me." It is true that a person who wastes even a little bit of time loses wonderful opportunities that he could have otherwise availed of by utilising that time. All the great leaders have one thing in common. They wisely utilise every moment of their time. When other people are busy in wasting time in laziness, great men are busy in making plans for the future. There is no person in history who wasted his time and still managed to achieve greatness. Therefore, there is great need to manage time wisely. "Careful Time Management" refers to careful planning of time and sincere execution of this plan. This is the only mantra to attain success in any endeavour. A simple change in outlook and some modification in one's daily routine can result in a big jump forward towards greater achievements.

SubQuestion No : 22

Q.22 What should be done in order to achieve success in whatever you do?

- Ans
- 1. Keeping your routine same
 - 2. Keeping your outlook fixed
 - 3. Planning of one's time
 - 4. Doing quality work

Question ID : 264330121504

Status : Answered

Chosen Option : 3

Comprehension:

Read the given passage and answer the question that follows.

Time is the essence of life. It is the wealth given to us by God. Everyday all of us get 24 hours; nothing less, nothing more. Now, it is up to us how we use it. People who know how to make the best use of every moment easily open the doors of success in their lives and those who misuse time get failures one after the other. There is a saying that, "Spent time and spent words cannot come back." Everybody is tied by the limits of time. Work wins appreciation only when it gets completed in a requisite time frame. Beyond the time allotted, work loses all its utility, however good may have been its quality. Just as falling of rains after the crops have dried up have no use; likewise, when the time is past the deadline, the work loses its importance and value. When iron is hot it can be cast into whichever shape we want. Once it gets cold nothing can be made out of it, however much we may beat the same. In the same way, a person who has learnt to wisely use his time and has understood how to cast himself according to the need of the time has actually learnt the true mantra of life. Shakespeare wrote in one of his plays, "I wasted time, and now doth time waste me." It is true that a person who wastes even a little bit of time loses wonderful opportunities that he could have otherwise availed of by utilising that time. All the great leaders have one thing in common. They wisely utilise every moment of their time. When other people are busy in wasting time in laziness, great men are busy in making plans for the future. There is no person in history who wasted his time and still managed to achieve greatness. Therefore, there is great need to manage time wisely. "Careful Time Management" refers to careful planning of time and sincere execution of this plan. This is the only mantra to attain success in any endeavour. A simple change in outlook and some modification in one's daily routine can result in a big jump forward towards greater achievements.

SubQuestion No : 23

Q.23 What do great leaders have in common?

- Ans
- 1. They learn from failures.
 - 2. They follow a fixed daily routine.
 - 3. They plan and use their time wisely.
 - 4. They are not tied by limits of time.

Question ID : 264330121505

Status : Answered

Chosen Option : 3

Comprehension:

Read the given passage and answer the question that follows.

Time is the essence of life. It is the wealth given to us by God. Everyday all of us get 24 hours; nothing less, nothing more. Now, it is up to us how we use it. People who know how to make the best use of every moment easily open the doors of success in their lives and those who misuse time get failures one after the other. There is a saying that, "Spent time and spent words cannot come back." Everybody is tied by the limits of time. Work wins appreciation only when it gets completed in a requisite time frame. Beyond the time allotted, work loses all its utility, however good may have been its quality. Just as falling of rains after the crops have dried up have no use; likewise, when the time is past the deadline, the work loses its importance and value. When iron is hot it can be cast into whichever shape we want. Once it gets cold nothing can be made out of it, however much we may beat the same. In the same way, a person who has learnt to wisely use his time and has understood how to cast himself according to the need of the time has actually learnt the true mantra of life. Shakespeare wrote in one of his plays, "I wasted time, and now doth time waste me." It is true that a person who wastes even a little bit of time loses wonderful opportunities that he could have otherwise availed of by utilising that time. All the great leaders have one thing in common. They wisely utilise every moment of their time. When other people are busy in wasting time in laziness, great men are busy in making plans for the future. There is no person in history who wasted his time and still managed to achieve greatness. Therefore, there is great need to manage time wisely. "Careful Time Management" refers to careful planning of time and sincere execution of this plan. This is the only mantra to attain success in any endeavour. A simple change in outlook and some modification in one's daily routine can result in a big jump forward towards greater achievements.

SubQuestion No : 24

Q.24 Identify the tone of the passage.

- Ans
- 1. Realistic
 - 2. Impractical
 - 3. Sarcastic
 - 4. Aggressive

Question ID : 264330121506

Status : Answered

Chosen Option : 1

Comprehension:

Read the given passage and answer the question that follows.

Time is the essence of life. It is the wealth given to us by God. Everyday all of us get 24 hours; nothing less, nothing more. Now, it is up to us how we use it. People who know how to make the best use of every moment easily open the doors of success in their lives and those who misuse time get failures one after the other. There is a saying that, "Spent time and spent words cannot come back." Everybody is tied by the limits of time. Work wins appreciation only when it gets completed in a requisite time frame. Beyond the time allotted, work loses all its utility, however good may have been its quality. Just as falling of rains after the crops have dried up have no use; likewise, when the time is past the deadline, the work loses its importance and value. When iron is hot it can be cast into whichever shape we want. Once it gets cold nothing can be made out of it, however much we may beat the same. In the same way, a person who has learnt to wisely use his time and has understood how to cast himself according to the need of the time has actually learnt the true mantra of life. Shakespeare wrote in one of his plays, "I wasted time, and now doth time waste me." It is true that a person who wastes even a little bit of time loses wonderful opportunities that he could have otherwise availed of by utilising that time. All the great leaders have one thing in common. They wisely utilise every moment of their time. When other people are busy in wasting time in laziness, great men are busy in making plans for the future. There is no person in history who wasted his time and still managed to achieve greatness. Therefore, there is great need to manage time wisely. "Careful Time Management" refers to careful planning of time and sincere execution of this plan. This is the only mantra to attain success in any endeavour. A simple change in outlook and some modification in one's daily routine can result in a big jump forward towards greater achievements.

SubQuestion No : 25

Q.25 Select the most appropriate **ANTONYM** of the word 'laziness' given in the second paragraph.

- Ans**
- 1. Lethargic
 - 2. Indolent
 - 3. Inactive
 - 4. Industrious

Question ID : 264330121503

Status : Answered

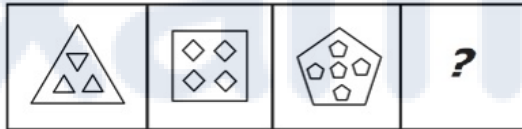
Chosen Option : 4

Phase-XI/2023/Selection Posts and Selection Posts/Ladakh/2023

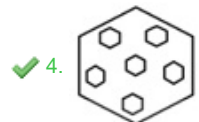
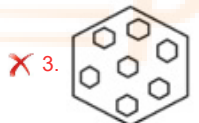
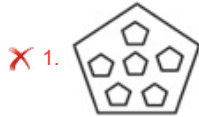
Roll Number	Selection Post
Candidate Name	Selection Post
Venue Name	iON Digital Zone iDZ 2 Mathura Road
Exam Date	30/06/2023
Exam Time	2:30 PM - 3:30 PM
Subject	Selection Post Matriculation Level

Section : General Intelligence

Q.1 दी गई उत्तर आकृतियों में से उस उपयुक्त आकृति का चयन करें जो प्रश्नवाचक चिन्ह (?) के स्थान पर आ सकती है।



Ans



Question ID : 264330143291

Status : Answered

Chosen Option : 2

Q.2 नीचे तीन कथन और उनके बाद तीन निष्कर्ष I, II और III दिए गए हैं। कथनों को सत्य मानते हुए, भले ही वे सामान्य रूप से ज्ञात तथ्यों से भिन्न प्रतीत होते हों, यह निर्णय लीजिए कि कौन सा/से निष्कर्ष कथनों का तार्किक रूप से अनुसरण करता है / करते हैं।

कथन:

सभी रैकेट, लोशन हैं।
सभी लोशन, विकेट हैं।
कुछ मेज, विकेट हैं।

निष्कर्ष:

I. कुछ विकेट, रैकेट हैं।
II. कुछ मेज, लोशन हैं।
III. सभी लोशन, रैकेट हैं।

- Ans
- 1. केवल निष्कर्ष I और II अनुसरण करते हैं
 - 2. केवल निष्कर्ष II अनुसरण करता है
 - 3. केवल निष्कर्ष I और III अनुसरण करते हैं
 - 4. केवल निष्कर्ष I अनुसरण करता है

Question ID : 264330142959

Status : Answered

Chosen Option : 4

Q.3 'A # B' means 'A is the brother of B'.
'A @ B' means 'A is the daughter of B'.
'A & B' means 'A is the husband of B'.
'A % B' means 'A is the wife of B'.
If S % D # F @ G & H @ J, then how is F related to J?

- Ans
- 1. Daughter's daughter
 - 2. Son's wife
 - 3. Daughter
 - 4. Sister's daughter

Question ID : 264330142901

Status : Answered

Chosen Option : 1

Q.4 तीन कथनों के बाद I, II और III से क्रमांकित तीन निष्कर्ष दिए गए हैं। आपको इन कथनों को सत्य मानना है, भले ही वे सामान्य रूप से ज्ञात तथ्यों से भिन्न प्रतीत होते हों। यह तय करें कि कौन सा/से निष्कर्ष तार्किक रूप से दिए गए कथनों का अनुसरण करता है/ करते हैं।

कथन:

सभी पेपर, पल्प हैं।
सभी पल्प, डालियाँ हैं।
सभी डालियाँ, वृक्ष हैं।

निष्कर्ष:

(I) कुछ वृक्ष, पेपर हैं।
(II) सभी पल्प, पेपर हैं।
(III) कोई भी पल्प, पेपर नहीं है।

- Ans
- 1. या तो निष्कर्ष I अनुसरण करता है या निष्कर्ष III अनुसरण करता है
 - 2. केवल निष्कर्ष I अनुसरण करता है
 - 3. कोई भी निष्कर्ष अनुसरण नहीं करता है
 - 4. केवल निष्कर्ष II अनुसरण करता है

Question ID : 264330142974

Status : Not Attempted and
Marked For Review

Chosen Option : --

Q.5 उस विकल्प का चयन कीजिए जो दिए गए शब्दों को तार्किक और सार्थक ढंग से सही क्रम व्यवस्था में दर्शाता है।

1. घर
2. दीवार
3. मिट्टी
4. ईंट
5. कमरा

Ans 1. 3, 4, 1, 2, 5

2. 3, 5, 2, 4, 1

3. 3, 4, 2, 5, 1

4. 3, 2, 4, 5, 1

Question ID : 264330125999

Status : Answered

Chosen Option : 3

Q.6 निम्नलिखित में से कौन-सी संख्या दी गई श्रृंखला में प्रश्नवाचक चिह्न (?) के स्थान पर आएगी?
17, 21, 28, 38, 51, 67, ?

Ans 1. 96

2. 88

3. 98

4. 86

Question ID : 264330142985

Status : Answered

Chosen Option : 4

Q.7 उस विकल्प का चयन कीजिए जो दिए गए शब्दों को तार्किक और सार्थक ढंग से सही क्रम व्यवस्था में दर्शाता है।

1. अध्याय
2. पुस्तकालय
3. पुस्तक
4. पृष्ठ
5. वाक्य

Ans 1. 2, 3, 1, 4, 5

2. 5, 2, 3, 1, 4

3. 3, 1, 2, 4, 5

4. 4, 5, 3, 1, 2

Question ID : 264330125994

Status : Answered

Chosen Option : 1

Q.8 उस विकल्प का चयन करें जो दिए गए शब्दों के उस सही क्रम को दर्शाता है जिस क्रम में वे अंग्रेजी शब्दकोश में आएंगे।

1. OBSCURE
2. OBLIQUE
3. OBLIGE
4. OBLIGATE
5. OBEY
6. OBJECT

Ans 1. 3, 6, 5, 4, 2, 1

2. 6, 5, 4, 3, 2, 1

3. 5, 6, 4, 3, 2, 1

4. 2, 6, 5, 4, 3, 1

Question ID : 264330142856

Status : Answered

Chosen Option : 3

Q.9 Select the correct mirror image of the given combination when the mirror is placed at 'PQ' as shown below.

hVfuiG43uie | ^P_Q

- Ans
- 1. eiuE43ni7Vh
 - 2. eiuE43ni7Vh
 - 3. hVfuiG43uie
 - 4. u!E43ni7Vh

Question ID : 264330143277

Status : Answered

Chosen Option : 2

Q.10 'L & M' का अर्थ है 'L, M का पिता है'।
'L = M' का अर्थ है 'L, M की बहन है'।
'L ^ M' का अर्थ है 'L, M के भाई का बेटा है'।
'L # M' का अर्थ है 'L, M की पत्नी है'।
निम्नलिखित में से किस विकल्प का अर्थ है, 'B, D का ससुर है'?

- Ans
- 1. B = C # A & D
 - 2. D & A = C # B
 - 3. A ^ B & C # D
 - 4. B ^ A = C # D

Question ID : 26433086989

Status : Not Attempted and Marked For Review

Chosen Option : --

Q.11 एक निश्चित कूट भाषा में 'CREDIT' को 'SHCFSD' लिखा जाता है और 'DEMAND' को 'CMZNF'E' लिखा जाता है। उस भाषा में 'FAMILY' को कैसे लिखा जाएगा?

- Ans
- 1. XKHNBG
 - 2. EZLHKX
 - 3. GBNJMZ
 - 4. EBLHMZ

Question ID : 26433056577

Status : Answered

Chosen Option : 1

Q.12 उस विकल्प का चयन कीजिए जो तीसरे शब्द से उसी प्रकार संबंधित है जिस प्रकार दूसरा शब्द पहले शब्द से संबंधित है। (शब्दों को अर्थपूर्ण हिंदी शब्दों के रूप में माना जाना चाहिए और शब्द में अक्षरों की संख्या/व्यंजनों/स्वरों की संख्या के आधार पर वे एक-दूसरे से संबंधित नहीं होने चाहिए।)

सुस्ती (Lethargy) : सतर्कता (Alertness) :: क्रमिक (Gradual) : ?

- Ans
- 1. नष्ट करना (Destroy)
 - 2. विलाप (mourn)
 - 3. उथला (Shallow)
 - 4. आकस्मिक (Abrupt)

Question ID : 264330142860

Status : Answered

Chosen Option : 4

Q.13 उस विकल्प का चयन कीजिए जो तीसरे शब्द से उसी प्रकार संबंधित है जिस प्रकार दूसरा शब्द पहले शब्द से संबंधित है। (शब्दों को अर्थपूर्ण हिंदी शब्दों के रूप में माना जाना चाहिए और शब्द में अक्षरों की संख्या/व्यंजनों/स्वरों की संख्या के आधार पर वे एक-दूसरे से संबंधित नहीं होने चाहिए।)

एंथ्रोपोलॉजी (Anthropology) : मनुष्य :: कॉन्कोलॉजी (Conchology) : ?

- Ans
- 1. शंख/शीप (Shells)
 - 2. मिट्टी (Soil)
 - 3. नाम (Names)
 - 4. खोपड़ी (Skull)

Question ID : 264330142870

Status : Not Attempted and Marked For Review

Chosen Option : --

Q.14 नीचे दिए गए समीकरण में * चिह्नों को बदलने और समीकरण को संतुलित करने के लिए गणितीय चिह्नों के सही संयोजन का चयन कीजिए।
14*7*88*37*47

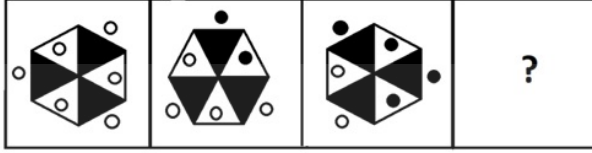
- Ans
- 1. ×, -, +, =
 - 2. +, ×, =, -
 - 3. =, -, ×, +
 - 4. -, +, =, ×

Question ID : 264330142884

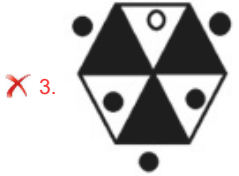
Status : Answered

Chosen Option : 1

Q.15 उत्तर आकृतियों में से उस सही आकृति का चयन कीजिए, जो प्रश्नचिह्न (?) को प्रतिस्थापित करेगी।



Ans



Question ID : 264330143266

Status : Answered

Chosen Option : 4

Q.16 उस विकल्प का चयन कीजिए जो उन अक्षरों को निरूपित करता है जिन्हें नीचे दिए गए रिक्त स्थानों में बाएं से दाएं क्रमिक रूप से रखने पर अक्षर श्रृंखला पूरी हो जाएगी।
B _ _ C V _ N M _ V B _ M E _ B N M _ _

Ans ✗ 1. N M B C N V F V

✗ 2. N M B C N W F V

✗ 3. N M B D N W F V

✓ 4. N M B D N V F V

Question ID : 26433067545

Status : Answered

Chosen Option : 4

Q.17 'A + B' का अर्थ है 'A, B का पिता है'।
'A - B' का अर्थ है 'A, B की बहन है'।
'A × B' का अर्थ है 'A, B की माँ है'।
'A ÷ B' का अर्थ है 'A, B का बेटा है'।
यदि $P - Q + R ÷ S × T$, तो निम्नलिखित में से कौन-सा कथन सही नहीं है?

- Ans
- 1. S, Q की माँ है।
 - 2. Q, S का पति है।
 - 3. P, S की भाभी है।
 - 4. R, P का भतीजा है।

Question ID : 26433095989

Status : Answered

Chosen Option : 2

Q.18 उस विकल्प का चयन कीजिए जो पाँचवें पद से उसी प्रकार संबंधित है जैसे दूसरा पद पहले पद से और चौथा पद तीसरे पद से संबंधित है।
HOPE : QFIP :: CUTE : UFDV :: MARS : ?

- Ans
- 1. SRAM
 - 2. STNB
 - 3. TQLB
 - 4. RSMA

Question ID : 264330142839

Status : Answered

Chosen Option : 2

Q.19 * चिह्नों को प्रतिस्थापित करने और दिए गए समीकरण को संतुलित करने के लिए गणितीय चिह्नों के सही संयोजन का चयन कीजिए।
 $193 * 2 * 2 * 56 * 107 * 142$

- Ans
- 1. ×, +, ×, -, =
 - 2. -, +, +, ×, =
 - 3. ×, +, +, -, =
 - 4. +, +, -, ×, =

Question ID : 264330142887

Status : Not Answered

Chosen Option : --

Q.20 उस विकल्प का चयन करें जो उन अक्षरों का निरूपण करता है, जिन्हें नीचे श्रृंखला में दिए गए रिक्त स्थानों पर बाएं से दाएं क्रमिक रूप से रखने पर श्रृंखला पूर्ण हो जाएगी।

_ M _ _ U _ D _ _ M _ C U _ D C

- Ans
- 1. UUCMCUDM
 - 2. UDCMCUDU
 - 3. UDCMCUDM
 - 4. UDCUCUDM

Question ID : 264330142854

Status : Answered

Chosen Option : 3

Q.21 उस विकल्प का चयन कीजिए जो तीसरे पद से उसी प्रकार संबंधित है जिस प्रकार दूसरा पद पहले पद से संबंधित है और छठा पद पाँचवें पद से संबंधित है।
7: 1000 :: 4: ? :: 9: 1728

- Ans
- 1. 348
 - 2. 343
 - 3. 340
 - 4. 344

Question ID : 264330142991
Status : Not Answered
Chosen Option : --

Q.22 तीन कथन दिए गए हैं, जिसके बाद तीन निष्कर्ष I, II और III दिए गए हैं। कथनों को सत्य मानते हुए, भले ही वे सामान्य रूप से ज्ञात तथ्यों से भिन्न प्रतीत होते हों, निश्चित करें कि कौन-सा/से निष्कर्ष कथनों का तार्किक रूप से अनुसरण करता है/करते हैं।

कथन:
सभी टुक, बस हैं।
कुछ बसें, बाइक हैं।
सभी बाइक, हवाई जहाज हैं।

निष्कर्ष:
I. कुछ हवाई जहाज, बस हैं।
II. कुछ बसें, टुक हैं।
III. सभी हवाई जहाज, टुक हैं।

- Ans
- 1. केवल निष्कर्ष I और II अनुसरण करते हैं।
 - 2. सभी निष्कर्ष अनुसरण करते हैं।
 - 3. केवल निष्कर्ष I और III अनुसरण करते हैं।
 - 4. केवल निष्कर्ष II और III अनुसरण करते हैं।

Question ID : 26433092646
Status : Answered
Chosen Option : 1

Q.23 उस विकल्प का चयन करें जो उन अक्षरों का निरूपण करता है, जिन्हें नीचे श्रृंखला में दिए गए रिक्त स्थानों पर बाएं से दाएं क्रमिक रूप से रखने पर श्रृंखला पूर्ण हो जाएगी।

A _ M X _ Z _ X A Z _ _

- Ans
- 1. Z A X M X
 - 2. X A M M X
 - 3. Z A M M X
 - 4. Z A M M A

Question ID : 264330142850
Status : Answered
Chosen Option : 3

Q.24 उस विकल्प का चयन कीजिए जो पाँचवें पद से उसी प्रकार संबंधित है जैसे दूसरा पद पहले पद से और चौथा पद तीसरे पद से संबंधित है।
FAST : UZHG :: SLOW : HOLD :: WALK : ?

- Ans
- 1. DYSP
 - 2. ULAJ
 - 3. LKWA
 - 4. DZOP

Question ID : 264330142843
Status : Answered
Chosen Option : 4

Q.25 एक निश्चित कूट भाषा में 'FRANK' को '121811422' के रूप में और 'CRIED' को '618958' के रूप में लिखा जाता है। उसी कूट भाषा में 'GREAT' को कैसे लिखा जाएगा?

- Ans
- 1. 141810120
 - 2. 14185240
 - 3. 14185140
 - 4. 14185120

Question ID : 26433056201
Status : Answered
Chosen Option : 3

Section : General Awareness

Q.1 कौन-से खाद्य पदार्थ विटामिन B12 का अच्छा स्रोत होते हैं?

- Ans
- 1. सब्जियां
 - 2. दाल
 - 3. मांस
 - 4. फल

Question ID : 264330142724
Status : Not Answered
Chosen Option : --

Q.2 निम्नलिखित में से कौन-सा एक पुष्प-रहित, बीजाणु पैदा करने वाला पादप है, जो आमतौर पर एक पतले सींग जैसे या सुई जैसे कैप्सूल के रूप में होता है, जिसमें बीजाणु होते हैं जो एक सपाट, हरी पत्ती से विकसित होते हैं?

- Ans
- 1. हॉर्नवॉर्ट
 - 2. सैलंडन
 - 3. रिविसिया
 - 4. कैरा

Question ID : 264330142712
Status : Not Answered
Chosen Option : --

Q.3 पद्म पुरस्कार 2021 से सम्मानित, अंशु जामसेनपा को निम्नलिखित में से किस क्षेत्र में उनकी उत्कृष्ट उपलब्धियों के लिए सम्मानित किया गया है?

- Ans
- 1. तैराकी
 - 2. बास्केटबॉल
 - 3. पर्वतारोहण
 - 4. एथलेटिक्स

Question ID : 264330142684
Status : Not Answered
Chosen Option : --

Q.4 जून 2021 में भारत सरकार ने FAME इंडिया स्कीम II का विस्तार किया, जिसका उद्देश्य तक इलेक्ट्रिक वाहनों के विकास को बढ़ावा देना है।

- Ans
- 1. मार्च 2024
 - 2. मार्च 2026
 - 3. मार्च 2025
 - 4. मार्च 2023

Question ID : 26433074177
Status : Answered
Chosen Option : 3

Q.5 2011 की जनगणना के अनुसार दमन और दीव का लिंगानुपात कितना है?

- Ans
- 1. 775
 - 2. 886
 - 3. 678
 - 4. 618

Question ID : 264330109870
Status : Not Answered
Chosen Option : --

Q.6 निम्नलिखित में से कौन सी नदी सिंधु नदी प्रणाली की सहायक नदी है?

- Ans
- 1. बेतवा
 - 2. सतलुज
 - 3. सोन
 - 4. कोसी

Question ID : 26433082192
Status : Answered
Chosen Option : 2

Q.7 भारत के महान्यायवादी की नियुक्ति कैसे/किसके द्वारा की जाती है?

- Ans
- 1. उच्चतम न्यायालय के न्यायाधीशों द्वारा मतदान करके
 - 2. राष्ट्रपति
 - 3. प्रधान मंत्री
 - 4. यूपीएससी (UPSC)

Question ID : 264330113428
Status : Answered
Chosen Option : 2

Q.8 पश्चिमी घाट की पहाड़ियों में प्रायः औसत तापमान कितना होता है?

- Ans
- 1. 25°C से ऊपर
 - 2. 35°C से ऊपर
 - 3. 25°C से नीचे
 - 4. 15°C से नीचे

Question ID : 264330142725
Status : Answered
Chosen Option : 3

Q.9 'मून वॉक' किस प्रसिद्ध अमेरिकी नर्तक और गायक की आत्मकथात्मक कृति है?

- Ans
- 1. माइकल जैक्सन
 - 2. डोना मैककेनी
 - 3. लिंडसे स्टर्लिंग
 - 4. डेबी रेनॉल्ड्स

Question ID : 264330141397

Status : Answered

Chosen Option : 3

Q.10 सोशल सर्विस लीग की स्थापना बॉम्बे में किसके द्वारा की गई थी?

- Ans
- 1. मानवेंद्र नाथ रॉय
 - 2. गोपाल कृष्ण गोखले
 - 3. नारायण मल्हार जोशी
 - 4. महादेव गोविंद रानाडे

Question ID : 26433089162

Status : Answered

Chosen Option : 4

Q.11 निम्नलिखित में से किसे कथक के लिए उस्ताद बिस्मिल्लाह खान युवा पुरस्कार 2017 से सम्मानित किया गया था?

- Ans
- 1. विधा लाल
 - 2. राजेंद्र गंगानी
 - 3. गीतांजलि लाल
 - 4. जितेंद्र महाराज

Question ID : 26433074826

Status : Answered

Chosen Option : 4

Q.12 निम्नलिखित में से कौन-सा मंदिर रेखा देउला की शैली में या एक घुमावदार अधिरचना वाला बनाया गया है?

- Ans
- 1. मध्य प्रदेश में कंदरिया महादेव मंदिर
 - 2. उड़ीसा में श्री जगन्नाथ मंदिर
 - 3. केरल में श्री पद्मनाभस्वामी मंदिर
 - 4. तमिलनाडु में कैलासनाथर मंदिर

Question ID : 26433090748

Status : Not Answered

Chosen Option : --

Q.13 1887 में इनमें से किसके द्वारा किया गया प्रयोग, काल्पनिक प्रकाशवाही (luminiferous) ईथर के संबंध में पृथ्वी के वेग को खोजने का एक प्रयास था?

- Ans
- 1. पीटर ज़ीमान (Pieter Zeeman)
 - 2. जेम्स क्लर्क मैक्सवेल (James Clerk Maxwell)
 - 3. मिशेलसन और मॉर्ले (Michelson and Morley)
 - 4. हेंड्रिक एंटोन लॉरेंटज़ (Hendrik Antoon Lorentz)

Question ID : 264330142735

Status : Not Answered

Chosen Option : --

Q.14 निम्नलिखित में से कौन सा भारतीय नागरिकों के लिए एक मौलिक कर्तव्य नहीं है?

- Ans
- 1. दार्शनिक स्वभाव और जिज्ञासा की भावना विकसित करना
 - 2. प्राकृतिक पर्यावरण की रक्षा करना और उसे बेहतर बनाना
 - 3. सार्वजनिक संपत्ति की सुरक्षा करना
 - 4. देश की रक्षा करना

Question ID : 264330109836

Status : Answered

Chosen Option : 1

Q.15 निम्नलिखित में से किसने 1784 में कलकत्ता में एशियाटिक सोसाइटी की स्थापना की?

- Ans
- 1. विलियम जोन्स
 - 2. जोनाथन डंकन
 - 3. वारेन हेस्टिंग्स
 - 4. चार्ल्स आयर्रे

Question ID : 26433065569

Status : Answered

Chosen Option : 3

Q.16 अमरसिंहा _____ के दरबार के तेजस्वी व्यक्तियों (दिग्गजों) में से एक था।

- Ans
- 1. चन्द्रगुप्त II
 - 2. चन्द्रगुप्त I
 - 3. कुमारगुप्त
 - 4. समुद्रगुप्त

Question ID : 264330108995

Status : Answered

Chosen Option : 1

Q.17 पॉवर लिफ्टिंग में निम्नलिखित में से किस भारोत्तोलन शैली का उपयोग किया जाता है?

- Ans
- 1. पॉवर लिफ्ट
 - 2. डेड लिफ्ट
 - 3. क्लीन एंड जर्क
 - 4. स्ट्रेट लिफ्ट

Question ID : 264330142824

Status : Answered

Chosen Option : 1

Q.18 पापनासम सिवन निम्नलिखित में से किस संगीत से संबंधित थे?

- Ans
- 1. पंजाबी
 - 2. कर्नाटकी
 - 3. ध्रुपद
 - 4. ख्याल

Question ID : 264330141205

Status : Answered

Chosen Option : 3

Q.19 फरवरी 2022 में एक ऑनलाइन रैपिड शतरंज टूर्नामेंट 'एयरथिग्स मास्टर्स' के आठवें दौर में किस भारतीय ग्रैंडमास्टर ने विश्व के नंबर 1 मैग्नस कार्लसन को हराया?

- Ans
- 1. रौनक सिधवानी
 - 2. गुकेश डी
 - 3. निहाल सरीन
 - 4. आर प्रज्ञानानंद

Question ID : 26433054450
Status : Answered
Chosen Option : 2

Q.20 बहमनी साम्राज्य की स्थापना के समय इसकी राजधानी क्या थी?

- Ans
- 1. अहमदनगर
 - 2. गुलबर्ग
 - 3. कोलार
 - 4. बिदर

Question ID : 26433065576
Status : Answered
Chosen Option : 1

Q.21 'जंगतालम' कौन से भारतीय राज्य का लोक नृत्य है?

- Ans
- 1. पश्चिम बंगाल
 - 2. मिज़ोरम
 - 3. असम
 - 4. नागालैण्ड

Question ID : 264330141324
Status : Answered
Chosen Option : 2

Q.22 उड़ीसा में चावल को किस प्रकार की फसल माना जाता है?

- Ans
- 1. बागवानी
 - 2. निर्वाह
 - 3. व्यावसायिक
 - 4. रोपण

Question ID : 264330142769
Status : Answered
Chosen Option : 4

Q.23 2022 की गणतंत्र दिवस परेड पर निम्नलिखित में से कौन-से राज्य ने सर्वश्रेष्ठ झांकी पुरस्कार जीता?

- Ans
- 1. गुजरात
 - 2. उत्तर प्रदेश
 - 3. कर्नाटक
 - 4. मेघालय

Question ID : 264330141332
Status : Answered
Chosen Option : 2

Q.24 भारत में प्रवास के बारे में निम्नलिखित में से कौन-सा कथन गलत है?

- Ans
- 1. प्रवास में पुल (pull) और पुश (push) कारक होते हैं।
 - 2. प्रवास ग्रामीण से शहरी हो सकता है।
 - 3. प्रवास सामाजिक कारकों पर निर्भर नहीं करता है।
 - 4. यह शहरी से ग्रामीण क्षेत्रों तक हो सकता है।

Question ID : 264330142799

Status : Answered

Chosen Option : 4

Q.25 निम्नलिखित में से किसने मार्च 2022 में पुणे, महाराष्ट्र में छत्रपति शिवाजी महाराज की प्रतिमा का अनावरण किया?

- Ans
- 1. भगत सिंह कोश्यारी
 - 2. नरेंद्र मोदी
 - 3. राम नाथ कोविंद
 - 4. उद्धव ठाकरे

Question ID : 26433090633

Status : Answered

Chosen Option : 1

Section : Quantitative Aptitude

Q.1 शिवम एक कार्य को 6 दिनों में और विवेक 24 दिनों में कर सकता है। उन्होंने एक साथ काम प्रारंभ किया, लेकिन शिवम ने कार्य पूरा होने से 3 दिन पूर्व कार्य को छोड़ दिया। वह कार्य कितने दिनों में पूरा हुआ?

- Ans
- 1. $7\frac{1}{5}$ दिन
 - 2. $7\frac{4}{5}$ दिन
 - 3. $7\frac{2}{5}$ दिन
 - 4. $7\frac{3}{5}$ दिन

Question ID : 26433074943

Status : Answered

Chosen Option : 1

Q.2 अजय अपने ग्राहकों को एक ओवरकोट पर 20% की छूट प्रदान करता है और वह अभी भी 28% का लाभ कमाता है। ₹1,800 में बेचे गए ओवरकोट की वास्तविक क्रय मूल्य गणना करें।

- Ans
- 1. ₹1,125
 - 2. ₹1,120
 - 3. ₹1,122
 - 4. ₹1,124

Question ID : 26433063404

Status : Not Answered

Chosen Option : --

Q.3 एक राशि 9 वर्ष में तिगुनी हो जाती है। साधारण ब्याज की वार्षिक दर ज्ञात कीजिए।

Ans

✗ 1. $38\frac{2}{9}\%$

✓ 2. $22\frac{2}{9}\%$

✗ 3. $27\frac{1}{9}\%$

✗ 4. $33\frac{1}{3}\%$

Question ID : 264330142668

Status : Not Answered

Chosen Option : --

Q.4 1610 m की दौड़ में अमरजीत 91 सेकंड में अंतिम बिंदु पर पहुँचता है और दिनेश 115 सेकंड में अंतिम बिंदु पर पहुँचता है। अमरजीत, दिनेश को कितनी दूरी से हराता है?

Ans

✓ 1. 336 m

✗ 2. 326 m

✗ 3. 330 m

✗ 4. 340 m

Question ID : 26433063423

Status : Not Answered

Chosen Option : --

Q.5 17 व्यक्तियों की औसत आयु 37 वर्ष है। 2 नए व्यक्तियों को शामिल करने पर औसत आयु 1 वर्ष बढ़ जाती है। नए व्यक्तियों की औसत आयु क्या है?

Ans

✗ 1. $36\frac{1}{2}$

✗ 2. $48\frac{1}{2}$

✓ 3. $46\frac{1}{2}$

✗ 4. $38\frac{1}{2}$

Question ID : 26433061062

Status : Answered

Chosen Option : 3

Q.6 अनिल एक कमीज़ ₹1,400 में खरीदता है और उसे 15% की हानि पर बेच देता है। कमीज़ का विक्रय मूल्य क्या है?

Ans

✗ 1. ₹1,250

✓ 2. ₹1,190

✗ 3. ₹1,140

✗ 4. ₹ 1,200

Question ID : 264330142584

Status : Answered

Chosen Option : 2

Q.7 बेलनाकार एक स्तंभ का वक्र-पृष्ठीय क्षेत्रफल 528 m^2 है और इसका आयतन 1848 m^3 है। इसकी त्रिज्या और ऊँचाई में अनुपात ज्ञात कीजिए।

- Ans
- 1. 7 : 3
 - 2. 7 : 12
 - 3. 9 : 10
 - 4. 9 : 5

Question ID : 26433063976

Status : Not Answered

Chosen Option : --

Q.8 यदि ₹1,800 अंकित मूल्य वाली एक घड़ी ₹1,250 में बेची जा रही है, तो घड़ी को बेचने पर दी गई छूट का प्रतिशत क्या है?

- Ans
- 1. $32\frac{5}{9}\%$
 - 2. $31\frac{3}{5}\%$
 - 3. $30\frac{5}{9}\%$
 - 4. $28\frac{2}{9}\%$

Question ID : 264330129416

Status : Answered

Chosen Option : 3

Q.9 कौन-सा वार्षिक भुगतान, 5% वार्षिक साधारण ब्याज की दर से 4 वर्ष बाद ₹38,700 का ऋण चुकाएगा?

- Ans
- 1. ₹9,150
 - 2. ₹9,100
 - 3. ₹9,050
 - 4. ₹9,000

Question ID : 264330104194

Status : Not Answered

Chosen Option : --

Q.10 जय अपनी मासिक आय का 50% किराने और बिलों, 20% कपड़े खरीदने पर, 5% दवाओं पर खर्च करता है और उसके पास ₹12,500 की राशि बचती है। जय की मासिक आय क्या है?

- Ans
- 1. ₹57,500
 - 2. ₹50,000
 - 3. ₹65,000
 - 4. ₹45,000

Question ID : 264330142516

Status : Not Answered

Chosen Option : --

Q.11 एक चुनाव में, मतदाता सूची के 15% मतदाताओं ने अपना मत नहीं डाला और 100 मतदाताओं ने अपना मतपत्र खाली छोड़ दिया। राम और श्याम दो ही प्रत्याशी थे। विजेता राम को सूची के सभी मतदाताओं के 69% का समर्थन प्राप्त हुआ और उसे श्याम से 630 मत अधिक मिले। सूची में मतदाताओं की संख्या ज्ञात कीजिए।

- Ans
- 1. 1200
 - 2. 1000
 - 3. 1100
 - 4. 1300

Question ID : 26433075527
Status : Not Answered
Chosen Option : --

Q.12 40 विद्यार्थियों की एक कक्षा ने गणित की परीक्षा दी। 18 विद्यार्थियों के औसत अंक 75 थे। अन्य विद्यार्थियों के औसत अंक 62 थे। पूरी कक्षा के औसत अंक कितने होंगे?

- Ans
- 1. 72.52
 - 2. 69.85
 - 3. 67.85
 - 4. 68.50

Question ID : 264330102320
Status : Not Answered
Chosen Option : --

Q.13 जब 151314 को 15 से विभाजित किया जाता है, तो कितना शेषफल प्राप्त होता है?

- Ans
- 1. 9
 - 2. 7
 - 3. 11
 - 4. 6

Question ID : 264330126161
Status : Not Answered
Chosen Option : --

Q.14 छह अंकों की सबसे छोटी संख्या कौन सी है जो 12, 16, 24, 28 से विभाज्य है?

- Ans
- 1. 100128
 - 2. 100160
 - 3. 100180
 - 4. 100190

Question ID : 26433082956
Status : Not Answered
Chosen Option : --

Q.15 सुनील को ₹15,750 के उस ऋण को चुकाने के लिए कितना वार्षिक भुगतान (₹ में) करना होगा, जिसे उसने अपने चचेरे भाई से 5% साधारण ब्याज की दर पर 3 वर्ष में अदा करने के वादे के साथ उधार लिया था?

- Ans
- 1. 4,800
 - 2. 2,500
 - 3. 5,000
 - 4. 4,850

Question ID : 264330104258
Status : Not Answered
Chosen Option : --

Q.16 आनंद 4 दिनों में एक दीवार का निर्माण कर सकता है, जबकि राजन उसी काम को 7 दिनों में पूरा कर सकता है। कितने दिनों में आनंद और राजन दीवार का निर्माण करेंगे यदि वे एक साथ काम करते हैं?

Ans

1. $2\frac{6}{13}$
2. $2\frac{5}{11}$
3. $2\frac{6}{11}$
4. $3\frac{6}{11}$

Question ID : 26433074567

Status : Not Answered

Chosen Option : --

Q.17 एक मोटरबोट, जिसकी स्थिर जल में चाल 20 km/h है, धारा के अनुकूल 75 km जाती है और उतनी ही दूर वापस आती है जिसमें उसे कुल 8 घंटे का समय लगता है। धारा की चाल क्या है?

Ans

1. 5 km/h
2. 6 km/h
3. 4.5 km /h
4. 6.5 km/h

Question ID : 264330142264

Status : Not Answered

Chosen Option : --

Q.18 वाशिंग पाउडर की कीमत में 15% की कमी, एक खरीदार को Rs.1,275 के लिए 5 किलो अधिक प्राप्त करने में सक्षम बनाती है। वाशिंग पाउडर का मूल मूल्य प्रति किग्रा ज्ञात करें।

Ans

1. Rs.45
2. Rs.35
3. Rs.40
4. Rs.50

Question ID : 26433075463

Status : Not Answered

Chosen Option : --

Q.19 एक समूह में 35 छात्रों की औसत आयु 12 वर्ष है। जब शिक्षक की आयु शामिल कर ली जाती है, तो औसत एक बढ़ जाता है। शिक्षक की आयु क्या है?

Ans

1. 42 वर्ष
2. 45 वर्ष
3. 39 वर्ष
4. 48 वर्ष

Question ID : 264330142515

Status : Not Answered

Chosen Option : --

Q.20 यदि $180 : y :: y : 245$, और $y > 0$ है, तो y का मान ज्ञात कीजिए।

- Ans
- 1. 190
 - 2. 210
 - 3. 200
 - 4. 220

Question ID : 264330103271
Status : Not Answered
Chosen Option : --

Q.21 संख्या 8, 66 और 112 का चतुर्थ समानुपाती क्या होगा?

- Ans
- 1. 729
 - 2. 924
 - 3. 784
 - 4. 848

Question ID : 26433061899
Status : Not Answered
Chosen Option : --

Q.22 एक पंखे का फुटकर मूल्य Rs.2,530 है। यदि निर्माता को 10% का लाभ होता है, थोक व्यापारी को 15% का लाभ होता है और फुटकर विक्रेता को 25% का लाभ होता है, तो उत्पाद क्रय मूल्य _____ है।

- Ans
- 1. Rs.1,700
 - 2. Rs.1,600
 - 3. Rs.1,500
 - 4. Rs.1,800

Question ID : 26433082371
Status : Not Answered
Chosen Option : --

Q.23 16 पुरुष 24 m लंबी खाई, दिन में 6 घंटे काम करते हुए, 18 दिनों में खोद सकते हैं। उसी के जैसी 42 m लंबी खाई को 9 दिनों में खोदने के लिए कितने और पुरुषों को लगाया जाना चाहिए, जबकि प्रत्येक व्यक्ति अब प्रतिदिन 12 घंटे काम करेगा?

- Ans
- 1. 12
 - 2. 14
 - 3. 10
 - 4. 9

Question ID : 264330142259
Status : Not Answered
Chosen Option : --

Q.24 एक ठोस लंब वृत्तीय शंकु के आधार की त्रिज्या 20 cm है और इसकी ऊँचाई 21 cm है। इसका संपूर्ण पृष्ठीय क्षेत्रफल (cm^2 में) क्या है?

- Ans
- 1. 760π
 - 2. 980π
 - 3. 890π
 - 4. 680π

Question ID : 264330142755
Status : Not Answered
Chosen Option : --

Q.25 महेश एक वाटर कूलर ₹28,500 में खरीदता है और ₹24,800 में बेचता है। उसका हानि प्रतिशत कितना है? (दशमलव के दो स्थानों तक सही)

- Ans
- 1. 12.98%
 - 2. 15.25%
 - 3. 25.75%
 - 4. 14.98%

Question ID : 26433082596
Status : Not Answered
Chosen Option : --

Section : English Language

Q.1 Select the INCORRECTLY spelt word.

- Ans
- 1. Bourgeoisie
 - 2. Burgaler
 - 3. Beggar
 - 4. Burlesque

Question ID : 26433088823
Status : Not Answered
Chosen Option : --

Q.2 Fill in the blank with the most appropriate word that can be used here based on the given context.

Macaulay _____ the western education system in India.

- Ans
- 1. revisiting
 - 2. accepting
 - 3. introduced
 - 4. improvising

Question ID : 26433059830
Status : Answered
Chosen Option : 3

Q.3 Select the most appropriate meaning of the underlined segment in the given sentence.

Reghu's been trying to keep a lid on his emotions, but every now and then his anger erupts.

- Ans
- 1. leave someone at a time when they need you to stay and help them
 - 2. control the level of something in order to stop it increasing
 - 3. make things difficult for someone
 - 4. either take less care of your appearance or relax completely and enjoy yourself

Question ID : 26433059815
Status : Answered
Chosen Option : 2

Q.4 Select the most appropriate synonym of the underlined word in the following sentence.

As far as possible, solid waste should be managed at the household level so that minimum waste is delivered for management at the community level.

- Ans
- 1. deposited
 - 2. withdrew
 - 3. relocated
 - 4. replaced

Question ID : 26433059802
Status : Answered
Chosen Option : 1

Q.5 Substitute one word for the italicised expression.
As a port it was notorious for its smuggling and the *trade was prohibited by law*.

- Ans
- 1. chaste
 - 2. legitimate
 - 3. illicit
 - 4. licit

Question ID : 26433059752
Status : Answered
Chosen Option : 3

Q.6 Identify the idiom that best expresses the meaning of the underlined group of words.

There are a number of things that the country needs to improve but the main part of the problem is corruption.

- Ans
- 1. Grasping at straws
 - 2. Last resort
 - 3. Dodged a bullet
 - 4. Crux of the matter

Question ID : 264330121052
Status : Answered
Chosen Option : 4

Q.7 Select the most appropriate ANTONYM of the word 'Decipher' from the given sentence.

Many sculptures of our history are like the unravelled path as we cannot garble and there is a lot of work that is yet to be interpreted or translated.

- Ans
- 1. Interpreted
 - 2. Garble
 - 3. Unravelled
 - 4. Translated

Question ID : 26433071887
Status : Not Attempted and Marked For Review
Chosen Option : --

Q.8 Select the option that can be used as a one-word substitute for the given group of words.

A place where coins are made

- Ans
- 1. Furnace
 - 2. Mint
 - 3. Factory
 - 4. Mine

Question ID : 26433060347
Status : Answered
Chosen Option : 2

Q.9 Select the option that expresses the given sentence in active voice.
The shop owners were requested to close the shops by the agitators.

- Ans
- 1. The agitators have requested the shop owners to close the shops.
 - 2. The agitators are requesting the shop owners to close the shops.
 - 3. The agitators requested the shop owners to close the shops.
 - 4. The agitators request the shop owners to close the shops.

Question ID : 264330132821
Status : Answered
Chosen Option : 3

Q.10 Select the most appropriate meaning of the underlined idiom.

We must draw the line somewhere as living expenses are increasing daily.

- Ans
- 1. Draw a straight line
 - 2. Fix the broken line
 - 3. Line up expenses
 - 4. Fix the limit

Question ID : 26433098329
Status : Answered
Chosen Option : 4

Q.11 Choose the option that rectifies the incorrectly spelt underlined word.

John chanced upon a former collegeue of his at the airport.

- Ans
- 1. coleague
 - 2. collegue
 - 3. coleageu
 - 4. colleague

Question ID : 26433088846
Status : Answered
Chosen Option : 4

Q.12 Select the correct indirect narration of the given sentence.
Aravind said, "Let us wait for the cab."

- Ans
- 1. Aravind proposed that they should has wait for the cab.
 - 2. Aravind proposes that let we waited for the cab.
 - 3. Aravind propose that they should been wait for the cab.
 - 4. Aravind proposed that they should wait for the cab.

Question ID : 264330132877
Status : Answered
Chosen Option : 4

Q.13 Select the most appropriate option to fill in the blank.

When you apply the medicine, the wound _____.

- Ans
- 1. heals
 - 2. feels
 - 3. kills
 - 4. deals

Question ID : 26433060081
Status : Answered
Chosen Option : 1

Q.14 Select the INCORRECTLY spelt word.

- Ans
- 1. Bureacracy
 - 2. Bequeath
 - 3. Beguile
 - 4. Beverage

Question ID : 26433073879
Status : Answered
Chosen Option : 3

Q.15 Select the idiom that gives the most appropriate meaning of the underlined phrase in the following sentence.

Our secretary is always in the mood for an argument. He must learn to keep quiet.

- Ans
- 1. To go through
 - 2. To turn up
 - 3. To hold his tongue
 - 4. To take off

Question ID : 26433086437
Status : Answered
Chosen Option : 3

Comprehension:

In the following passage, some words have been deleted. Read the passage carefully and select the most appropriate option to fill in each blank.

Palaeontologists are like detectives who (1) _____ the evidence that (2) _____ animals left behind. Those clues to what dinosaurs were like are found in fossils—the ancient (3) _____ of an organism, such as teeth, bone or shell—or (4) _____ of animal activity, such as (5) _____ and trackways.

SubQuestion No : 16

Q.16 Select the most appropriate option to fill in blank number 1.

- Ans
- 1. dominate
 - 2. control
 - 3. conduct
 - 4. examine

Question ID : 26433078994

Status : Answered

Chosen Option : 4

Comprehension:

In the following passage, some words have been deleted. Read the passage carefully and select the most appropriate option to fill in each blank.

Palaeontologists are like detectives who (1) _____ the evidence that (2) _____ animals left behind. Those clues to what dinosaurs were like are found in fossils—the ancient (3) _____ of an organism, such as teeth, bone or shell—or (4) _____ of animal activity, such as (5) _____ and trackways.

SubQuestion No : 17

Q.17 Select the most appropriate option to fill in blank number 2.

- Ans
- 1. inactive
 - 2. extinct
 - 3. vanished
 - 4. surviving

Question ID : 26433078995

Status : Answered

Chosen Option : 3

Comprehension:

In the following passage, some words have been deleted. Read the passage carefully and select the most appropriate option to fill in each blank.

Palaeontologists are like detectives who (1) _____ the evidence that (2) _____ animals left behind. Those clues to what dinosaurs were like are found in fossils—the ancient (3) _____ of an organism, such as teeth, bone or shell—or (4) _____ of animal activity, such as (5) _____ and trackways.

SubQuestion No : 18

Q.18 Select the most appropriate option to fill in blank number 3.

- Ans
- 1. remains
 - 2. leftovers
 - 3. fragments
 - 4. memories

Question ID : 26433078996

Status : Answered

Chosen Option : 3

Comprehension:

In the following passage, some words have been deleted. Read the passage carefully and select the most appropriate option to fill in each blank.

Palaeontologists are like detectives who (1) _____ the evidence that (2) _____ animals left behind. Those clues to what dinosaurs were like are found in fossils—the ancient (3) _____ of an organism, such as teeth, bone or shell—or (4) _____ of animal activity, such as (5) _____ and trackways.

SubQuestion No : 19

Q.19 Select the most appropriate option to fill in blank number 4.

- Ans
- 1. submission
 - 2. proposal
 - 3. compliance
 - 4. evidence

Question ID : 26433078997

Status : Answered

Chosen Option : 4

Comprehension:

In the following passage, some words have been deleted. Read the passage carefully and select the most appropriate option to fill in each blank.

Palaeontologists are like detectives who (1) _____ the evidence that (2) _____ animals left behind. Those clues to what dinosaurs were like are found in fossils—the ancient (3) _____ of an organism, such as teeth, bone or shell—or (4) _____ of animal activity, such as (5) _____ and trackways.

SubQuestion No : 20

Q.20 Select the most appropriate option to fill in blank number 5.

- Ans
- 1. pathways
 - 2. routes
 - 3. canals
 - 4. footprints

Question ID : 26433078998

Status : Answered

Chosen Option : 4

Comprehension:

Read the given passage and answer the question that follows.

Wetlands, the most economically valuable and among the most biodiverse ecosystems in the world, are disappearing three times faster than forests which will lead to severe consequences. Approximately 35 per cent of the world's wetlands were lost between 1970 - 2015 with annual rates of loss accelerating from 2000, according to the first-ever Global Wetland Outlook of the Ramsar Convention, a global treaty ratified by 170 countries to protect wetlands and promote their wise use. Wetlands, which include lakes, rivers, marshes and peatlands as well as coastal and marine areas such as estuaries, lagoons, mangroves and coral reefs, are currently estimated to cover more than 12.1 million km², an area greater than Canada.

Wetlands contribute to climate regulation and support ecosystems and biodiversity. Plants in swamps absorb pollutants, mangroves store carbon, lakes and underground aquifers are a crucial source of water, and coral reefs protect coastlines from wave action and serve as shelter for marine organisms. Wetlands are home to indigenous peoples and a natural source of livelihoods for their communities. They provide drinking water, energy, fisheries, agriculture, transport, recreation, cultural values and tourism. While human-made wetlands - largely rice paddy and reservoirs - have almost doubled between 1970 and 2015, natural wetlands have been progressively declining. Losses have been driven by megatrends such as climate change, population increase, urbanisation, and changing consumption patterns that have all fuelled changes to land and water use and to agriculture. Increasing pollution and land overuse significantly affect wetlands' water quality. This impacts the livelihoods of communities living near wetlands. Untreated wastewater, industrial waste, agricultural runoff and erosion can severely compromise the water by escalating the levels of nitrogen, phosphorous, salinity and faecal coliform bacteria. The main international efforts to promote the conservation and prudent use of wetlands are through the secretariat of the Convention on Wetlands, an intergovernmental treaty adopted in Ramsar, Iran in 1971. 170 countries - or almost 90 per cent of UN member states - from all regions have become Contracting Parties of the treaty.

SubQuestion No : 21

Q.21 Select an appropriate title from the given options.

- Ans
- 1. Natural and human-made wetlands - A review
 - 2. An overview of effects of water contamination
 - 3. Brief into the stretch of Canadian Wetlands
 - 4. Disappearing wetlands - A study

Question ID : 26433072747

Status : Answered

Chosen Option : 4

Comprehension:

Read the given passage and answer the question that follows.

Wetlands, the most economically valuable and among the most biodiverse ecosystems in the world, are disappearing three times faster than forests which will lead to severe consequences. Approximately 35 per cent of the world's wetlands were lost between 1970 - 2015 with annual rates of loss accelerating from 2000, according to the first-ever Global Wetland Outlook of the Ramsar Convention, a global treaty ratified by 170 countries to protect wetlands and promote their wise use. Wetlands, which include lakes, rivers, marshes and peatlands as well as coastal and marine areas such as estuaries, lagoons, mangroves and coral reefs, are currently estimated to cover more than 12.1 million km², an area greater than Canada.

Wetlands contribute to climate regulation and support ecosystems and biodiversity. Plants in swamps absorb pollutants, mangroves store carbon, lakes and underground aquifers are a crucial source of water, and coral reefs protect coastlines from wave action and serve as shelter for marine organisms. Wetlands are home to indigenous peoples and a natural source of livelihoods for their communities. They provide drinking water, energy, fisheries, agriculture, transport, recreation, cultural values and tourism. While human-made wetlands - largely rice paddy and reservoirs - have almost doubled between 1970 and 2015, natural wetlands have been progressively declining. Losses have been driven by megatrends such as climate change, population increase, urbanisation, and changing consumption patterns that have all fuelled changes to land and water use and to agriculture. Increasing pollution and land overuse significantly affect wetlands' water quality. This impacts the livelihoods of communities living near wetlands. Untreated wastewater, industrial waste, agricultural runoff and erosion can severely compromise the water by escalating the levels of nitrogen, phosphorous, salinity and faecal coliform bacteria. The main international efforts to promote the conservation and prudent use of wetlands are through the secretariat of the Convention on Wetlands, an intergovernmental treaty adopted in Ramsar, Iran in 1971. 170 countries - or almost 90 per cent of UN member states - from all regions have become Contracting Parties of the treaty.

SubQuestion No : 22

Q.22 Select the most appropriate ANTONYM of the given word.

Fuel

- Ans
- 1. Encourage
 - 2. Deter
 - 3. Associate
 - 4. Project

Question ID : 26433072745

Status : Answered

Chosen Option : 2

Comprehension:

Read the given passage and answer the question that follows.

Wetlands, the most economically valuable and among the most biodiverse ecosystems in the world, are disappearing three times faster than forests which will lead to severe consequences. Approximately 35 per cent of the world's wetlands were lost between 1970 - 2015 with annual rates of loss accelerating from 2000, according to the first-ever Global Wetland Outlook of the Ramsar Convention, a global treaty ratified by 170 countries to protect wetlands and promote their wise use. Wetlands, which include lakes, rivers, marshes and peatlands as well as coastal and marine areas such as estuaries, lagoons, mangroves and coral reefs, are currently estimated to cover more than 12.1 million km², an area greater than Canada.

Wetlands contribute to climate regulation and support ecosystems and biodiversity. Plants in swamps absorb pollutants, mangroves store carbon, lakes and underground aquifers are a crucial source of water, and coral reefs protect coastlines from wave action and serve as shelter for marine organisms. Wetlands are home to indigenous peoples and a natural source of livelihoods for their communities. They provide drinking water, energy, fisheries, agriculture, transport, recreation, cultural values and tourism. While human-made wetlands - largely rice paddy and reservoirs - have almost doubled between 1970 and 2015, natural wetlands have been progressively declining. Losses have been driven by megatrends such as climate change, population increase, urbanisation, and changing consumption patterns that have all fuelled changes to land and water use and to agriculture. Increasing pollution and land overuse significantly affect wetlands' water quality. This impacts the livelihoods of communities living near wetlands. Untreated wastewater, industrial waste, agricultural runoff and erosion can severely compromise the water by escalating the levels of nitrogen, phosphorous, salinity and faecal coliform bacteria. The main international efforts to promote the conservation and prudent use of wetlands are through the secretariat of the Convention on Wetlands, an intergovernmental treaty adopted in Ramsar, Iran in 1971. 170 countries - or almost 90 per cent of UN member states - from all regions have become Contracting Parties of the treaty.

SubQuestion No : 23

Q.23 Ramsar Convention was signed in the year _____.

Ans 1. 1971

2. 2015

3. 1969

4. 2000

Question ID : 26433072743

Status : Answered

Chosen Option : 1

Comprehension:

Read the given passage and answer the question that follows.

Wetlands, the most economically valuable and among the most biodiverse ecosystems in the world, are disappearing three times faster than forests which will lead to severe consequences. Approximately 35 per cent of the world's wetlands were lost between 1970 - 2015 with annual rates of loss accelerating from 2000, according to the first-ever Global Wetland Outlook of the Ramsar Convention, a global treaty ratified by 170 countries to protect wetlands and promote their wise use. Wetlands, which include lakes, rivers, marshes and peatlands as well as coastal and marine areas such as estuaries, lagoons, mangroves and coral reefs, are currently estimated to cover more than 12.1 million km², an area greater than Canada.

Wetlands contribute to climate regulation and support ecosystems and biodiversity. Plants in swamps absorb pollutants, mangroves store carbon, lakes and underground aquifers are a crucial source of water, and coral reefs protect coastlines from wave action and serve as shelter for marine organisms. Wetlands are home to indigenous peoples and a natural source of livelihoods for their communities. They provide drinking water, energy, fisheries, agriculture, transport, recreation, cultural values and tourism. While human-made wetlands - largely rice paddy and reservoirs - have almost doubled between 1970 and 2015, natural wetlands have been progressively declining. Losses have been driven by megatrends such as climate change, population increase, urbanisation, and changing consumption patterns that have all fuelled changes to land and water use and to agriculture. Increasing pollution and land overuse significantly affect wetlands' water quality. This impacts the livelihoods of communities living near wetlands. Untreated wastewater, industrial waste, agricultural runoff and erosion can severely compromise the water by escalating the levels of nitrogen, phosphorous, salinity and faecal coliform bacteria. The main international efforts to promote the conservation and prudent use of wetlands are through the secretariat of the Convention on Wetlands, an intergovernmental treaty adopted in Ramsar, Iran in 1971. 170 countries - or almost 90 per cent of UN member states - from all regions have become Contracting Parties of the treaty.

SubQuestion No : 24

Q.24 _____ exerts influence on the sustenance of people dwelling adjacent to the wetland.

Ans 1. Depletion of water quality

2. Agricultural patterns

3. Recreational activities

4. Rapid coastland erosion

Question ID : 26433072744

Status : Answered

Chosen Option : 3

Comprehension:

Read the given passage and answer the question that follows.

Wetlands, the most economically valuable and among the most biodiverse ecosystems in the world, are disappearing three times faster than forests which will lead to severe consequences. Approximately 35 per cent of the world's wetlands were lost between 1970 - 2015 with annual rates of loss accelerating from 2000, according to the first-ever Global Wetland Outlook of the Ramsar Convention, a global treaty ratified by 170 countries to protect wetlands and promote their wise use. Wetlands, which include lakes, rivers, marshes and peatlands as well as coastal and marine areas such as estuaries, lagoons, mangroves and coral reefs, are currently estimated to cover more than 12.1 million km², an area greater than Canada.

Wetlands contribute to climate regulation and support ecosystems and biodiversity. Plants in swamps absorb pollutants, mangroves store carbon, lakes and underground aquifers are a crucial source of water, and coral reefs protect coastlines from wave action and serve as shelter for marine organisms. Wetlands are home to indigenous peoples and a natural source of livelihoods for their communities. They provide drinking water, energy, fisheries, agriculture, transport, recreation, cultural values and tourism. While human-made wetlands - largely rice paddy and reservoirs - have almost doubled between 1970 and 2015, natural wetlands have been progressively declining. Losses have been driven by megatrends such as climate change, population increase, urbanisation, and changing consumption patterns that have all fuelled changes to land and water use and to agriculture. Increasing pollution and land overuse significantly affect wetlands' water quality. This impacts the livelihoods of communities living near wetlands. Untreated wastewater, industrial waste, agricultural runoff and erosion can severely compromise the water by escalating the levels of nitrogen, phosphorous, salinity and faecal coliform bacteria. The main international efforts to promote the conservation and prudent use of wetlands are through the secretariat of the Convention on Wetlands, an intergovernmental treaty adopted in Ramsar, Iran in 1971. 170 countries - or almost 90 per cent of UN member states - from all regions have become Contracting Parties of the treaty.

SubQuestion No : 25

Q.25 Select an appropriate tone of the passage.

- Ans 1. Objective and concerned
 2. Pleading and indifferent
 3. Critical and cynical
 4. Sarcastic and offensive

Question ID : 26433072746

Status : Answered

Chosen Option : 1

ixamBee

Prepare 50% Faster

Phase-XI/2023/Selection Posts and Selection Posts/Ladakh/2023

Roll Number	Selection Post
Candidate Name	Selection Post
Venue Name	iON Digital Zone iDZ Azad Puram
Exam Date	30/06/2023
Exam Time	5:15 PM - 6:15 PM
Subject	Selection Post Matriculation Level

Section : General Intelligence

Q.1 तीन कथनों के बाद I, II और III से क्रमांकित तीन निष्कर्ष दिए गए हैं। आपको इन कथनों को सत्य मानना है, भले ही वे सामान्य रूप से ज्ञात तथ्यों से भिन्न प्रतीत होते हों। यह तय करें कि कौन सा/से निष्कर्ष तार्किक रूप से दिए गए कथनों का अनुसरण करता है/ करते हैं।

कथन:

कुछ घोड़े, गधे हैं।
कुछ बकरियाँ, भेड़ें हैं।
सभी भेड़ें, मछलियाँ हैं।

निष्कर्ष:

(I) कुछ बकरियाँ, गधे हैं।
(II) कुछ मछलियाँ, बकरियाँ हैं।
(III) कुछ घोड़े, भेड़ें हैं।

- Ans
- 1. या तो निष्कर्ष I अनुसरण करता है या निष्कर्ष III अनुसरण करता है
 - 2. कोई भी निष्कर्ष अनुसरण नहीं करता है
 - 3. केवल निष्कर्ष II अनुसरण करता है
 - 4. केवल निष्कर्ष I अनुसरण करता है

Question ID : 264330142975

Status : Answered

Chosen Option : 3

Q.2 उस विकल्प का चयन कीजिए, जो उन अक्षरों को निरूपित करता है, जिन्हें निम्न अक्षर श्रृंखला के रिक्त स्थानों में बाएं से दाएं क्रमिक रूप से रखे जाने पर श्रृंखला पूर्ण हो जाएगी।
hf__rpi__xt_pihf_tr__

- Ans
- 1. xthfxrpi
 - 2. xthfrxpi
 - 3. xthrxpfi
 - 4. xthfrpxi

Question ID : 26433056246

Status : Answered

Chosen Option : 2

Q.3 एक निश्चित कूट भाषा में 'GOLDEN' को 'OFEMPH' लिखा जाता है और 'INCOME' को 'FNPDOJ' लिखा जाता है। उस भाषा में 'METHOD' को कैसे लिखा जाएगा?

- Ans
- 1. DOHTEM
 - 2. DPUIEN
 - 3. EQUUFN
 - 4. EPIUFN

Question ID : 26433056568

Status : Answered

Chosen Option : 4

Q.4 उस आकृति का चयन कीजिए जो निम्नलिखित आकृति श्रृंखला में आगे आएगी।



Ans

- 1.
- 2.
- 3.
- 4.

Question ID : 264330143290

Status : Answered

Chosen Option : 1

Q.5 A # B का अर्थ है 'A, B का पति है'।
A & B का अर्थ है 'A, B की पुत्री है'।
A @ B का अर्थ है 'A, B की दादी है'।
A % B का अर्थ है 'A, B का पुत्र है'।
यदि E @ F % G # H & I @ J है, तो G का J से क्या संबंध है, यदि। की केवल एक संतान है?

- Ans
- 1. पुत्र
 - 2. पिता
 - 3. दादा
 - 4. चाचा/ताऊ/मामा/मौसा

Question ID : 26433091668

Status : Answered

Chosen Option : 2

Q.6 कौन-सा अक्षर-समूह प्रश्न-चिह्न (?) को प्रतिस्थापित करेगा और दी गई श्रृंखला को पूरा करेगा?
HERO, GISM, ?, EQUI, DUVG

- Ans
- 1. FMUK
 - 2. FNUL
 - 3. FMUL
 - 4. FMTK

Question ID : 264330142913

Status : Answered

Chosen Option : 4

Q.7 उस विकल्प का चयन कीजिए जो तीसरे शब्द से उसी प्रकार संबंधित है जिस प्रकार दूसरा शब्द पहले शब्द से संबंधित है। (शब्दों को अर्थपूर्ण हिंदी शब्दों के रूप में माना जाना चाहिए और शब्द में अक्षरों की संख्या/व्यंजनों/स्वरों की संख्या के आधार पर वे एक-दूसरे से संबंधित नहीं होने चाहिए।)

दीमक : कॉलोनी :: संगीतकार : ?

- Ans
- 1. सेना (Army)
 - 2. बैंड (Band)
 - 3. समूह (Brood)
 - 4. भीड़ (Crowd)

Question ID : 264330142862

Status : Answered

Chosen Option : 2

Q.8 उस विकल्प का चयन करें जो चौथे पद से उसी प्रकार संबंधित है जिस प्रकार पहला पद दूसरे पद से संबंधित है और पाँचवां पद छठे पद से संबंधित है।
8 : 512 :: ? : 1728 :: 18 : 5832

- Ans
- 1. 9
 - 2. 12
 - 3. 14
 - 4. 8

Question ID : 26433040810

Status : Answered

Chosen Option : 2

Q.9 तीन कथन दिए गए हैं, जिसके बाद तीन निष्कर्ष I, II और III दिए गए हैं। कथनों को सत्य मानते हुए, भले ही वे सामान्य रूप से ज्ञात तथ्यों से भिन्न प्रतीत होते हों, निर्धारित करें कि कौन-सा/से निष्कर्ष कथनों का तार्किक रूप से अनुसरण करता है/करते हैं।

कथन:

कुछ कुर्सियां, मेज हैं।
सभी कुर्सियां, सीढ़ियां हैं।
सभी मेज, छत हैं।

निष्कर्ष:

I. कुछ छत, सीढ़ियां हैं।
II. कुछ छत, कुर्सियां हैं।
III. सभी मेज, सीढ़ियां हैं।

- Ans
- 1. केवल निष्कर्ष I और III अनुसरण करते हैं।
 - 2. केवल निष्कर्ष I और II अनुसरण करते हैं।
 - 3. सभी निष्कर्ष अनुसरण करते हैं।
 - 4. केवल निष्कर्ष II और III अनुसरण करते हैं।

Question ID : 26433095996

Status : Answered

Chosen Option : 2

Q.10 जब दर्पण को चित्र के अनुसार 'PQ' पर रखा जाता है तो दिए गए संयोजन का दर्पण में निर्मित सही प्रतिबिंब चयनित कीजिए।

6jDgf5ghjIP68

- Ans
- 1. e!D<2μ!be8
 - 2. 89d!|p#f&d!9
 - 3. 6jDgf5ghjIP68
 - 4. 8!|p#f&d!9

Question ID : 264330143276

Status : Answered

Chosen Option : 4

Q.11 उस विकल्प का चयन करें जो चौथे पद से उसी प्रकार संबंधित है जिस प्रकार पहला पद दूसरे पद से संबंधित है और पाँचवां पद छठे पद से संबंधित है।
64 : 320 :: ? : 70 :: 22 : 110

- Ans
- 1. 8
 - 2. 14
 - 3. 12
 - 4. 17

Question ID : 26433040807

Status : Answered

Chosen Option : 2

Q.12 निम्नलिखित में से कौन-सी संख्या दी गई श्रृंखला में प्रश्नवाचक चिह्न (?) के स्थान पर आएगी?
3, 12, 30, 57, 93, 138, 192, ?

- Ans
- 1. 252
 - 2. 255
 - 3. 222
 - 4. 225

Question ID : 264330142984

Status : Answered

Chosen Option : 2

Q.13 उस विकल्प का चयन करें जो दिए गए शब्दों के उस सही क्रम को दर्शाता है, जिस क्रम में वे अंग्रेजी शब्दकोश में दिखाई देते हैं।

1. Earn
2. Efficient
3. Educator
4. Effort
5. Elite
6. Eloquence

- Ans
- 1. 1, 3, 4, 5, 6, 2
 - 2. 1, 3, 4, 2, 5, 6
 - 3. 1, 3, 2, 4, 5, 6
 - 4. 1, 3, 2, 4, 6, 5

Question ID : 264330142925

Status : Answered

Chosen Option : 3

Q.14 'P # Q' का अर्थ है 'P, Q की पत्नी है'।
'P % Q' का अर्थ है 'P, Q का पिता है'।
'P & Q' का अर्थ है 'P, Q का पुत्र है'।
'P @ Q' का अर्थ है 'P, Q की माता है'।
यदि A % B # C % D & B @ E है, तो A का E से क्या संबंध है?

- Ans
- 1. नाना
 - 2. भाई
 - 3. दादा
 - 4. पत्नी

Question ID : 26433091634
Status : Answered
Chosen Option : 1

Q.15 उस विकल्प का चयन कीजिए, जो पाँचवें पद से उसी प्रकार संबंधित है, जिस प्रकार दूसरा पद पहले पद से और चौथा पद तीसरे पद से संबंधित है।
LARGEST : ESTGLAR :: QUALITY : ITYLQUA :: QUICKLY : ?

- Ans
- 1. KYLCUQI
 - 2. KQICUYL
 - 3. UCLKYQI
 - 4. KLYCQUI

Question ID : 264330142832
Status : Answered
Chosen Option : 4

Q.16 कौन-सा अक्षर-समूह प्रश्न-चिह्न (?) को प्रतिस्थापित करेगा और दी गई श्रृंखला को पूरा करेगा?
STAR, PUBO, ?, JWDI, GXEF

- Ans
- 1. NVCM
 - 2. MVCK
 - 3. NVCL
 - 4. MVCL

Question ID : 264330142911
Status : Answered
Chosen Option : 4

Q.17 उस विकल्प का चयन कीजिए जो दिए गए शब्दों को तार्किक और सार्थक ढंग से सही क्रम व्यवस्था में दर्शाता है।

1. बाल कतरना
2. ऊन
3. बुनाई
4. स्वेटर
5. भेड़

- Ans
- 1. 5, 1, 3, 2, 4
 - 2. 3, 2, 1, 4, 5
 - 3. 4, 1, 3, 2, 5
 - 4. 5, 1, 2, 3, 4

Question ID : 264330126001
Status : Answered
Chosen Option : 4

Q.18 दिए गए विकल्पों में से उस आकृति का चयन कीजिए जो निम्नलिखित श्रृंखला में प्रश्न चिह्न (?) को प्रतिस्थापित कर सकती है।

P	●	S	
△	P	●	
M	△	P	
●	S	*	?

Ans

✓ 1.

*
S
●
T

✗ 2.

*
S
●
P

✗ 3.

*
P
●
T

✗ 4.

T
S
●
P

Question ID : 264330143264

Status : Answered

Chosen Option : 2

Q.19 एक निश्चित कूट भाषा में 'DEVOUT' को 'FIXSWX' के रूप में और 'BLAMED' को 'DPCQGH' के रूप में लिखा जाता है। उसी कूट भाषा में 'SWEET' को कैसे लिखा जाएगा?

Ans

✗ 1. UAIGV

✗ 2. UYGGV

✓ 3. UAGIV

✗ 4. UZIIV

Question ID : 26433056205

Status : Answered

Chosen Option : 3

Q.20 यहाँ तीन कथनों के बाद तीन निष्कर्ष I, II और III दिए गए हैं। कथनों को सत्य मानते हुए, भले ही वे सामान्यतः ज्ञात तथ्यों से भिन्न प्रतीत होते हों, यह तय कीजिए कि कौन सा/से निष्कर्ष इन कथनों का तार्किक रूप से अनुसरण करता/करते है/हैं।

कथन:

सभी पलंग, तकिए हैं।
कोई भी तकिया, कुर्सी नहीं है।
कुछ मेज़ें, कुर्सियाँ हैं।

निष्कर्ष:

I. कुछ मेज़ें, तकिए हैं।
II. कुछ पलंग, मेज़ें हैं।
III. कोई भी पलंग, कुर्सी नहीं है।

- Ans
- 1. केवल निष्कर्ष II अनुसरण करता है।
 - 2. निष्कर्ष I और II दोनों अनुसरण करते हैं।
 - 3. निष्कर्ष I और III दोनों अनुसरण करते हैं।
 - 4. केवल निष्कर्ष III अनुसरण करता है।

Question ID : 264330142876

Status : Answered

Chosen Option : 4

Q.21 गणितीय चिह्नों के उस संयोजन का चयन कीजिए जिसके चिह्नों को दिए गए समीकरण में * के स्थान पर क्रमिक रूप से रखने से समीकरण संतुलित हो जाएगा।
 $41 * 5 * 3 * 10 * 2 = 31$

- Ans
- 1. + × ÷ -
 - 2. ÷ - + ×
 - 3. × - + ÷
 - 4. - × + ÷

Question ID : 26433057475

Status : Answered

Chosen Option : 4

Q.22 तीन कथन दिए गए हैं, जिसके बाद तीन निष्कर्ष I, II और III दिए गए हैं। कथनों को सत्य मानते हुए, भले ही वे सामान्य रूप से ज्ञात तथ्यों से भिन्न प्रतीत होते हों, निश्चित करें कि कौन-सा/से निष्कर्ष कथनों का तार्किक रूप से अनुसरण करता है/करते हैं।

कथन:

कुछ दुकान, घर हैं।
कुछ घर, गैरेज हैं।
कुछ गैरेज, कैमरे हैं।

निष्कर्ष:

I. कुछ कैमरे, दुकान हैं।
II. सभी कैमरे, घर हैं।
III. कुछ कैमरे, गैरेज हैं।

- Ans
- 1. केवल निष्कर्ष III अनुसरण करता है।
 - 2. केवल निष्कर्ष I अनुसरण करता है।
 - 3. सभी निष्कर्ष अनुसरण करते हैं।
 - 4. केवल निष्कर्ष II अनुसरण करता है।

Question ID : 26433092647

Status : Answered

Chosen Option : 1

Q.23 'A # B' का अर्थ है 'A, B का भाई है'।
'A @ B' का अर्थ है 'A, B की पुत्री है'।
'A & B' का अर्थ है 'A, B का पति है'।
'A % B' का अर्थ है 'A, B की पत्नी है'।
यदि V & S @ F % H # T @ Q है, तो F, Q से किस प्रकार संबंधित है?

- Ans
- 1. माँ
 - 2. पुत्रवधू
 - 3. पुत्री
 - 4. सास

Question ID : 264330142905

Status : Answered

Chosen Option : 2

Q.24 उस विकल्प का चयन कीजिए जो पाँचवें पद से उसी प्रकार संबंधित है जैसे दूसरा पद पहले पद से और चौथा पद तीसरे पद से संबंधित है।

SCENE : DMDBR :: STORY : XQNSR :: WRITE : ?

- Ans
- 1. DUHSV
 - 2. DSHQV
 - 3. DSJSV
 - 4. ETIRW

Question ID : 264330142842

Status : Answered

Chosen Option : 2

Q.25 उस विकल्प का चयन कीजिए जो तीसरे शब्द से उसी प्रकार संबंधित है जिस प्रकार दूसरा शब्द पहले शब्द से संबंधित है। (शब्दों को अर्थपूर्ण हिंदी शब्दों के रूप में माना जाना चाहिए और शब्द में अक्षरों की संख्या/व्यंजनों/स्वरों की संख्या के आधार पर वे एक-दूसरे से संबंधित नहीं होने चाहिए।)

मूर्तिकार : छेनी :: लकड़हारा : ?

- Ans
- 1. कुल्हाड़ी (Axe)
 - 2. स्कैल्पेल (Scalpel)
 - 3. निहाई (Anvil)
 - 4. हल (Plough)

Question ID : 264330142865

Status : Answered

Chosen Option : 1

Section : General Awareness

Q.1 हिंद महासागर के उत्तर-पश्चिमी भाग में स्थित कौन-सा सागर उत्तर-पश्चिम में ओमान की खाड़ी और दक्षिण-पश्चिम में अदन की खाड़ी से जुड़ता है और कुल 1,491,000 वर्ग मील के क्षेत्रफल में फैला है?

- Ans
- 1. कैरिबियन सागर
 - 2. अरब सागर
 - 3. भूमध्य सागर
 - 4. कोरल सागर

Question ID : 264330142709

Status : Answered

Chosen Option : 2

Q.2 1979 में ग्रामीण भारत के लिए गरीबी रेखा के बेंचमार्क के रूप में निर्धारित न्यूनतम उपभोग व्यय (₹ प्रति व्यक्ति प्रति माह) क्या था?

- Ans
- 1. 56.7
 - 2. 49.09
 - 3. 62.1
 - 4. 43.5

Question ID : 26433092888
Status : Not Answered
Chosen Option : --

Q.3 केंद्र की ओर लगने वाले बल का दूसरा नाम क्या है?

- Ans
- 1. अपकेंद्री
 - 2. अभिकेंद्री
 - 3. गुरुत्वीय
 - 4. वान डर वाल्स

Question ID : 26433064737
Status : Answered
Chosen Option : 2

Q.4 निम्नलिखित संगीतकारों में से किसे मिकी हार्ट, सिकिरू अदेपोजू और जियोवानी हिडालो के साथ उनके सहयोगी एलबम 'ग्लोबल ड्रम प्रोजेक्ट' में योगदान के लिए संगीत एलबम श्रेणी में ग्रैमी पुरस्कार से सम्मानित किया गया था?

- Ans
- 1. ए आर रहमान
 - 2. रिकी केज
 - 3. ज़ाकिर हुसैन
 - 4. विक्कू विनायकराम

Question ID : 264330141388
Status : Answered
Chosen Option : 2

Q.5 निम्नलिखित में से किसने आईसीसी वीमेन्स क्रिकेटर ऑफ द ईयर 2021 का पुरस्कार जीता है?

- Ans
- 1. लिज़ेले ली (Lizelle Lee)
 - 2. टैम्मी ब्युमोंट (Tammy Beaumont)
 - 3. स्मृति मंधाना (Smriti Mandhana)
 - 4. हर्मनप्रीत कौर (Harmanpreet Kaur)

Question ID : 264330142686
Status : Answered
Chosen Option : 3

Q.6 भारत के संविधान के अनुच्छेद 51A के किस खंड में हमारी मिश्रित संस्कृति की समृद्ध विरासत को महत्व देने और संरक्षित करने की आवश्यकता का उल्लेख है?

- Ans
- 1. खंड a
 - 2. खंड f
 - 3. खंड d
 - 4. खंड c

Question ID : 26433086791
Status : Answered
Chosen Option : 3

Q.7 भारतीय राष्ट्रीय कांग्रेस के निम्नलिखित में से किस अधिवेशन में दादाभाई नौरोजी अध्यक्ष थे?

- Ans
- 1. कलकत्ता अधिवेशन, 1886
 - 2. इलाहाबाद अधिवेशन, 1892
 - 3. मद्रास अधिवेशन, 1887
 - 4. बॉम्बे अधिवेशन, 1889

Question ID : 26433065559

Status : Answered

Chosen Option : 1

Q.8 लिंकन सूचकांक क्या मापता है?

- Ans
- 1. जनसंख्या जन्म दर
 - 2. जनसंख्या घनत्व
 - 3. जनसंख्या का आकार
 - 4. जनसंख्या मृत्यु दर

Question ID : 26433064444

Status : Not Answered

Chosen Option : --

Q.9 लाखों झिल्ली-बद्ध राइबोसोमों से युक्त कौन-सा कोशिकांग कुछ प्रोटीनों के उत्पादन, वलयन, गुणवत्ता नियंत्रण और प्रेषण की प्रक्रिया में शामिल होता है?

- Ans
- 1. परॉक्सीसोम
 - 2. रूक्ष अन्तःप्रद्रव्यी जालिका
 - 3. माइटोकॉन्ड्रिया
 - 4. गोल्जीकाय

Question ID : 264330142715

Status : Answered

Chosen Option : 4

Q.10 गोलमेज सम्मेलन के दूसरा सत्र का आयोजन _____ में किया गया था?

- Ans
- 1. 1930
 - 2. 1929
 - 3. 1932
 - 4. 1931

Question ID : 264330106572

Status : Answered

Chosen Option : 4

Q.11 नवंबर 2021 में देश में प्री-लिटिगेशन मैकेनिज्म को मजबूत करने के लिए कौन सा मोबाइल ऐप लॉन्च किया गया?

- Ans
- 1. सिटीजन ई-लीगल मोबाइल ऐप (Citizen's e-legal Mobile App)
 - 2. सिटीजन ई-सलाह मोबाइल ऐप (Citizen's e-salah! Mobile App)
 - 3. सिटीजन टेली-लॉ मोबाइल ऐप (Citizen's Tele-Law Mobile App)
 - 4. सिटीजन ई-लॉ मोबाइल ऐप (Citizen's e-Law Mobile App)

Question ID : 26433081805

Status : Not Answered

Chosen Option : --

Q.12 जनवरी 2022 में, किस भारतीय बैडमिंटन खिलाड़ी ने दिल्ली में पुरुष एकल फाइनल में मौजूदा विश्व चैंपियन सिंगापुर के लोह कीन यू पर बिना कोई सेट गंवाए जीत दर्ज करने के साथ योनेक्स-सनराइज इंडिया ओपन जीता?

- Ans
- 1. श्रीकांत किदाम्बि
 - 2. प्रणय कुमार
 - 3. बी. साई प्रणीत
 - 4. लक्ष्य सेन

Question ID : 26433054456
Status : Answered
Chosen Option : 3

Q.13 निम्नलिखित में से कौन सा शब्द "स्तूप" की संरचना से संबंधित नहीं है?

- Ans
- 1. वेदिका
 - 2. विमान
 - 3. छत्र
 - 4. हर्मिका

Question ID : 264330132974
Status : Answered
Chosen Option : 2

Q.14 भारत का सबसे पुराना तेल उत्पादक राज्य कौन-सा है?

- Ans
- 1. महाराष्ट्र
 - 2. तेलंगाना
 - 3. असम
 - 4. गुजरात

Question ID : 264330110647
Status : Answered
Chosen Option : 3

Q.15 भारतीय संविधान का निम्नलिखित में से कौन सा अनुच्छेद राज्य सभा की अधिकतम संख्या 250 निर्धारित करता है?

- Ans
- 1. अनुच्छेद 81
 - 2. अनुच्छेद 80
 - 3. अनुच्छेद 83
 - 4. अनुच्छेद 85

Question ID : 264330113432
Status : Answered
Chosen Option : 2

Q.16 2020 के आंकड़ों के अनुसार भारत में कितने शहरी डाकघर हैं?

- Ans
- 1. 15703
 - 2. 15907
 - 3. 15793
 - 4. 17503

Question ID : 264330142772
Status : Answered
Chosen Option : 1

Q.17 'अमुक्तमाल्यदा', एक तेलुगु कृति, की रचना निम्नलिखित में से किस शासक द्वारा की गई है?

- Ans
- 1. कृष्णदेवराय
 - 2. अच्युत देव राय
 - 3. सदाशिव राय
 - 4. वीर नरसिंह राय

Question ID : 26433055611

Status : Answered

Chosen Option : 1

Q.18 निम्नलिखित में से किस खिलाड़ी ने आत्मकथा 'अनडिस्प्यूटेड ट्रुथ' (Undisputed Truth) लिखी है?

- Ans
- 1. केविन पीटर्सन (Kevin Pietersen)
 - 2. मैथ्यू हेडेन (Matthew Hayden)
 - 3. मुहम्मद अली (Muhammad Ali)
 - 4. माइक टायसन (Mike Tyson)

Question ID : 264330141413

Status : Answered

Chosen Option : 2

Q.19 पहला आईसीसी T20 क्रिकेट विश्व कप वर्ष _____ में आयोजित किया गया था।

- Ans
- 1. 2003
 - 2. 2006
 - 3. 2007
 - 4. 2009

Question ID : 26433054678

Status : Answered

Chosen Option : 3

Q.20 शास्त्रीय ओडिसी नृत्य में निम्नलिखित में से सबसे पहले कौन-सा स्टेप किया जाना चाहिए?

- Ans
- 1. अभिनय
 - 2. बटु
 - 3. पल्लवी
 - 4. मंगलाचरण

Question ID : 264330141321

Status : Answered

Chosen Option : 4

Q.21 निम्नलिखित में से किसे 2008 में सर्वश्रेष्ठ कोरियोग्राफर श्रेणी में फिल्मफेयर पुरस्कार दिया गया था?

- Ans
- 1. सरोज खान
 - 2. फराह खान
 - 3. गीता कपूर
 - 4. रेमो डिस्ज़ा

Question ID : 26433074133

Status : Answered

Chosen Option : 2

Q.22 भारत की 2011 की जनगणना के अनुसार निम्नलिखित में से किस राज्य की साक्षरता दर सबसे अधिक है?

- Ans
- 1. तमिलनाडु
 - 2. केरल
 - 3. महाराष्ट्र
 - 4. पश्चिम बंगाल

Question ID : 26433089252
Status : Answered
Chosen Option : 2

Q.23 गणतंत्र दिवस की परेड के लिए राजपथ कौन-से साल में स्थायी स्थल बन गया?

- Ans
- 1. 1955
 - 2. 1957
 - 3. 1954
 - 4. 1956

Question ID : 264330141330
Status : Not Answered
Chosen Option : --

Q.24 निम्नलिखित में से कौन जनवरी 2022 में के. सिवन के बाद इसरो (ISRO) के अध्यक्ष बने?

- Ans
- 1. शैलेश नायक
 - 2. ए.एस. किरण कुमार
 - 3. वी.के. सारस्वत
 - 4. एस. सोमनाथ

Question ID : 26433082813
Status : Answered
Chosen Option : 4

Q.25 निम्नलिखित में से किस गुप्त राजा ने विक्रमादित्य की उपाधि धारण की थी?

- Ans
- 1. चन्द्रगुप्त II
 - 2. समुद्रगुप्त
 - 3. स्कन्दगुप्त
 - 4. चन्द्रगुप्त I

Question ID : 264330108994
Status : Answered
Chosen Option : 1

Section : Quantitative Aptitude

Q.1 किताबों का एक सेट पैक करने के लिए, सुरभि ने एक कार्टन बनाया जो 48 इंच लंबा, 27 इंच चौड़ा और 30 इंच ऊँचा था। इस कार्टन को चारों ओर से बंद करने पर इसका संपूर्ण पृष्ठीय क्षेत्रफल (वर्ग फुट में) क्या होगा? [1 फुट = 12 इंच का उपयोग कीजिए]

- Ans
- 1. 49.75
 - 2. 48.75
 - 3. 48.25
 - 4. 49.25

Question ID : 26433075300
Status : Answered
Chosen Option : 4

Prepare 50% Faster

Q.2 यदि P का 30% = Q का 0.25 = S का $\frac{1}{5}$ है, तो P:Q:R का मान _____ है।

- Ans
- 1. 10 : 12 : 15
 - 2. 3 : 4 : 5
 - 3. 12 : 14 : 17
 - 4. 5 : 9 : 12

Question ID : 26433063939
Status : Answered
Chosen Option : 1

Q.3 रेखा के पास एक ही तरह के दो लैपटॉप हैं। उनमें से एक को ₹32,000 में बेचने पर उसे 20% की हानि हुई। 20% का लाभ प्राप्त करने के लिए उसे दूसरे लैपटॉप को किस मूल्य पर (₹ में) बेचना चाहिए?

- Ans
- 1. 38,400
 - 2. 44,000
 - 3. 41,600
 - 4. 48,000

Question ID : 264330142671
Status : Answered
Chosen Option : 4

Q.4 एक पुरुष, एक महिला और एक लड़के द्वारा क्रमशः 20, 30 और 60 दिनों में एक निश्चित मात्रा में काम किया जा सकता है। 2 पुरुषों और 8 महिलाओं के साथ काम को 2 दिनों में पूरा करने के लिए कितने लड़के होने चाहिए?

- Ans
- 1. 8 लड़के
 - 2. 10 लड़के
 - 3. 12 लड़के
 - 4. 5 लड़के

Question ID : 26433073114
Status : Answered
Chosen Option : 1

Q.5 A, B की तुलना में $\frac{4}{3}$ गुना तेज दौड़ता है। एक दौड़ में, यदि A, B को 80 m की बढ़त देता है, तो प्रारंभिक बिंदु से वह दूरी ज्ञात कीजिए जहाँ वे दोनों मिलेंगे।

- Ans
- 1. 300 m
 - 2. 360 m
 - 3. 320 m
 - 4. 340 m

Question ID : 264330142265
Status : Not Answered
Chosen Option : --

Q.6 S और M किसी काम को 9 दिनों में कर सकते हैं, जबकि M अकेला उसे 12 दिनों में पूरा कर सकता है। S अकेला उस काम को कितने दिनों में पूरा कर सकता है?

- Ans
- 1. 27 दिन
 - 2. 36 दिन
 - 3. 46 दिन
 - 4. 35 दिन

Question ID : 26433063495
Status : Answered
Chosen Option : 2

Q.7 10% की दो क्रमिक छूट देने के बाद, विक्रेता 10% लाभ अर्जित करता है। क्रय मूल्य, अंकित मूल्य का कितना प्रतिशत (दशमलव के दो स्थानों तक पूर्णांकित) है?

- Ans
- 1. 70.64%
 - 2. 76.64%
 - 3. 73.64%
 - 4. 79.64%

Question ID : 264330130174

Status : Answered

Chosen Option : 3

Q.8 एक किराने की दुकान में समर्थ ने एक ग्राहक को 1 kg के स्थान पर 950 g शक्कर ₹54 में बेची। 1 kg शक्कर का क्रय मूल्य ₹ 36 है। उसने शक्कर को बेचने पर कितना लाभ (₹ में) कमाया?

- Ans
- 1. 16.2
 - 2. 19.8
 - 3. 20.2
 - 4. 18.7

Question ID : 26433091620

Status : Answered

Chosen Option : 2

Q.9 एक व्यक्ति 35 km की दूरी 45 km/h की चाल से तय करता है, और उसके बाद वह 95 km की दूरी 105 km/h की चाल से तय करता है। पूरी यात्रा के दौरान औसत चाल क्या है?

- Ans
- 1. $67 \frac{21}{53}$ km/h
 - 2. $31 \frac{31}{53}$ km/h
 - 3. $77 \frac{14}{53}$ km/h
 - 4. $71 \frac{41}{53}$ km/h

Question ID : 26433082794

Status : Answered

Chosen Option : 3

Q.10 यदि 55, 60 और 45 विद्यार्थियों के तीन बैचों के औसत अंक क्रमशः 50, 55 और 60 हैं, तो सभी विद्यार्थियों के औसत अंक क्या हैं?

- Ans
- 1. 51.23
 - 2. 57.42
 - 3. 54.68
 - 4. 55.98

Question ID : 264330142581

Status : Answered

Chosen Option : 3

Q.11 ₹24,000 पर 18% वार्षिक ब्याज दर से 7 महीने की अवधि का साधारण ब्याज ज्ञात करें।

- Ans
- 1. ₹2,535
 - 2. ₹2,520
 - 3. ₹2,525
 - 4. ₹2,530

Question ID : 264330142590
Status : Answered
Chosen Option : 2

Q.12

समबाहु त्रिभुज का परिमाण $3 \times (\sqrt[4]{\frac{16}{3}})$ इकाई है। त्रिभुज का क्षेत्रफल ज्ञात कीजिए।

- Ans
- 1. 2 unit²
 - 2. 1 unit²
 - 3. 3 unit²
 - 4. 4 unit²

Question ID : 26433071345
Status : Answered
Chosen Option : 2

Q.13 15 सेबों का क्रय मूल्य 12 सेबों के विक्रय मूल्य के समान है। प्रतिशत लाभ ज्ञात करें।

- Ans
- 1. 20
 - 2. 25
 - 3. 15
 - 4. 30

Question ID : 26433081484
Status : Answered
Chosen Option : 1

Q.14 परिवार का एक सदस्य अपनी मासिक आय का 25% भोजन पर खर्च करता है, शेष का 35% गृह ऋण और अन्य बैंक ऋणों पर तथा शेष का आधा बच्चों की शिक्षा पर खर्च करता है। यदि सदस्य प्रत्येक वर्ष \$46,215 की बचत करता है, तो उसकी मासिक आय क्या है?

- Ans
- 1. \$15,800
 - 2. \$190,248
 - 3. \$15,520
 - 4. \$19,200

Question ID : 26433075435
Status : Answered
Chosen Option : 2

Q.15 छह अंकों की संख्या $7x1yyx$ शून्येतर अंकों x और y के लिए 33 की गुणज है। निम्नलिखित में से कौन-सा विकल्प $(x + y)$ का संभावित मान हो सकता है?

- Ans
- 1. 2
 - 2. 3
 - 3. 4
 - 4. 5

Question ID : 26433083028
Status : Answered
Chosen Option : 1

Q.16 एक पुस्तक विक्रेता ने एक पुस्तक Rs.40 में खरीदी और इसे Rs.45 में बेच दिया। उसका लाभ प्रतिशत ज्ञात कीजिए।

- Ans
- 1. 20%
 - 2. 12.5%
 - 3. 17.5%
 - 4. 15%

Question ID : 26433063860
Status : Answered
Chosen Option : 2

Q.17 A ₹45,000 से एक व्यवसाय शुरू करता है और बाद में B ₹30,000 के साथ जुड़ जाता है। यदि वर्ष के अंत में लाभ को 2:1 के अनुपात में विभाजित किया जाता है, तो B कब शामिल हुआ?

- Ans
- 1. 9 महीने के बाद
 - 2. 6 महीने के बाद
 - 3. 3 महीने के बाद
 - 4. 12 महीने के बाद

Question ID : 264330142670
Status : Answered
Chosen Option : 2

Q.18 एक 800 m दौड़ में दो प्रतियोगियों अलका और मीरा की चाल का अनुपात 4 : 7 है। यदि अलका 520 m की बढ़त से शुरुआत करती है, तो अलका _____ से जीत जाएगी।

- Ans
- 1. 310 m
 - 2. 280 m
 - 3. 490 m
 - 4. 210 m

Question ID : 26433081477
Status : Answered
Chosen Option : 1

Q.19 एक गाँव में लड़कों की संख्या और लड़कियों की संख्या का अनुपात 5 : 3 है। यदि 40% लड़के और 60% लड़कियाँ एक परीक्षा में शामिल हुईं, तो परीक्षा में शामिल होने वाले लड़कों एवं लड़कियों की संख्या और उसी परीक्षा शामिल न होने वालों की संख्या का अनुपात क्या होगा?

- Ans
- 1. 17 : 27
 - 2. 17 : 21
 - 3. 19 : 21
 - 4. 19 : 23

Question ID : 26433074984
Status : Answered
Chosen Option : 3

Q.20 $\frac{p-q}{p+q}$ और $\frac{(pq)^2}{p^2-q^2}$ के बीच मध्यानुपाती ज्ञात कीजिए।

- Ans
- 1. $\frac{pq}{p-q}$
 - 2. $\frac{p-q}{pq}$
 - 3. $\frac{p+q}{pq}$
 - 4. $\frac{pq}{p+q}$

Question ID : 264330142257

Status : Answered

Chosen Option : 4

Q.21 ₹9,000 पर 8% की दर से अर्जित किया जाने वाला साधारण ब्याज ₹2,160 के बराबर है। समय की गणना कीजिए।

- Ans
- 1. 3 वर्ष
 - 2. 4 वर्ष
 - 3. 5 वर्ष
 - 4. 2 वर्ष

Question ID : 264330142534

Status : Answered

Chosen Option : 1

Q.22 राम सुबह में 70 पृष्ठ/घंटा की दर से 200 पृष्ठ पढ़ता है। शाम को थक जाने के बाद, वह 30 पृष्ठ/घंटा की दर से 200 पृष्ठ पढ़ता है। उसके पढ़ने की औसत दर, पृष्ठ/घंटा क्या थी?

- Ans
- 1. 42 पृष्ठ/घंटा
 - 2. 62 पृष्ठ/घंटा
 - 3. 50 पृष्ठ/घंटा
 - 4. 30 पृष्ठ/घंटा

Question ID : 26433061243

Status : Answered

Chosen Option : 3

Q.23 कौन-सा वार्षिक भुगतान साधारण ब्याज पर 14% की दर से चार वार्षिक समान किश्तों में ₹1,936 का ऋण चुकाएगा?

- Ans
- 1. ₹500
 - 2. ₹425
 - 3. ₹400
 - 4. ₹475

Question ID : 264330104195

Status : Not Answered

Chosen Option : --

Q.24 पुस्तक पर 23% की छूट देने के बावजूद, राज को 10% का लाभ होता है। यदि राज Rs.63 का लाभ अर्जित करता है, तो पुस्तक का अंकित मूल्य ज्ञात कीजिए।

- Ans
- 1. Rs.900
 - 2. Rs.988
 - 3. Rs.852
 - 4. Rs.880

Question ID : 26433065279
Status : Not Answered
Chosen Option : --

Q.25 निम्नलिखित में से कौन-सी संख्या 12 से भाज्य है?

- Ans
- 1. 4298123
 - 2. 3215678
 - 3. 4512984
 - 4. 5409844

Question ID : 264330142547
Status : Not Answered
Chosen Option : --

Section : English Language

Q.1 Identify the sentence that contains no spelling errors.

- Ans
- 1. Games instil in people the values of timeliness, honesty and consistency in their routines.
 - 2. Games instil in people the values of timeliness, honesty and consistency in their routeenes.
 - 3. Games insteal in people the values of timliness, honesty and consistency in their routines.
 - 4. Games insteal in people the values of timeliness, honesty and consistency in their routines.

Question ID : 26433088541
Status : Answered
Chosen Option : 1

Q.2 Select the most appropriate synonym of the underlined word in the following sentence.

UNESCO is committed to protecting individual privacy and securing the personal information made available to us when you visit unesco.org, as well as UNESCO pages on other sites.

- Ans
- 1. devoted
 - 2. inconstant
 - 3. disloyal
 - 4. unfaithful

Question ID : 26433059799
Status : Answered
Chosen Option : 1

Q.3 Select the most appropriate option to fill in the blank.
The Thar desert is _____ in the state of Rajasthan.

- Ans
- 1. bounded
 - 2. seen
 - 3. placed
 - 4. situated

Question ID : 26433060379
Status : Answered
Chosen Option : 4

Q.4 Select the option that expresses the given sentence in active voice.
The first prize will be won by Williams in the singing competition.

- Ans
- 1. Williams had won the first prize in the singing competition.
 - 2. Williams wins the first prize in the singing competition.
 - 3. Williams will be winning the first prize in the singing competition.
 - 4. Williams will win the first prize in the singing competition.

Question ID : 264330135921
Status : Answered
Chosen Option : 4

Q.5 Select the most appropriate option that can substitute the underlined segment in the given sentence.

Athira would like to get him a special birthday present, but nothing springs to mind.

- Ans
- 1. from the beginning of time
 - 2. dawns on
 - 3. almost always
 - 4. forget about something

Question ID : 264330133177
Status : Answered
Chosen Option : 2

Q.6 Identify the idiom/phrase that can best substitute the underlined segment.

They discussed everything in the meeting and finalised the next step.

- Ans
- 1. through thick and thin
 - 2. the home stretch
 - 3. the whole nine yards
 - 4. the eleventh hour

Question ID : 26433088459
Status : Answered
Chosen Option : 3

Q.7 Select the most appropriate option to fill in the blank.
I hope you _____ what I taught you today.

- Ans
- 1. divided
 - 2. understood
 - 3. cleared
 - 4. summoned

Question ID : 26433059691
Status : Answered
Chosen Option : 2

Q.8 Select the most appropriate option that can substitute the underlined words in the given sentence.
Students were asked to write the historical events in the order of their occurrence.

- Ans
- 1. chronological order
 - 2. historic order
 - 3. aesthetic order
 - 4. diachronic order

Question ID : 26433059721
Status : Answered
Chosen Option : 1

Q.9 Select the most appropriate meaning of the given idiom.

A piece of information received by word of mouth has no authenticity.

- Ans
- 1. in spoken form
 - 2. in written form
 - 3. through rumours
 - 4. through an official order

Question ID : 26433099088
Status : Answered
Chosen Option : 3

Q.10 Select the option that expresses the given sentence in indirect speech.
Arya said, "I am very busy now."

- Ans
- 1. Arya said that she is being very busy now.
 - 2. Arya said that she was being very busy then.
 - 3. Arya said that she is be very busy now.
 - 4. Arya said that she was very busy then.

Question ID : 264330135983
Status : Answered
Chosen Option : 4

Q.11 Select the INCORRECTLY spelt word.

- Ans
- 1. Inaffectual
 - 2. Authentic
 - 3. Authority
 - 4. Illegitimate

Question ID : 26433087937
Status : Answered
Chosen Option : 4

Q.12 Select the most appropriate option to fill in the blank.

The propoganda was made to invade _____ neighbouring countries.

- Ans
- 1. smaller
 - 2. stranger
 - 3. strongest
 - 4. largest

Question ID : 26433060789
Status : Answered
Chosen Option : 1

Q.13 Select the idiom that gives the most appropriate meaning of the underlined phrase in the following sentence.

I finally understood how to operate the new smart television.

- Ans
- 1. Don't know
 - 2. Figured out
 - 3. Hit the sack
 - 4. Cast aside

Question ID : 26433086441

Status : Answered

Chosen Option : 2

Q.14 Select the most appropriate synonym of the given word.

Awful

- Ans
- 1. Inoffensive
 - 2. Delightful
 - 3. Terrible
 - 4. Acceptable

Question ID : 26433071874

Status : Answered

Chosen Option : 3

Q.15 The following sentence has been split into four segments. Identify the segment that contains an INCORRECTLY spelt word.

Since the health hazards have reduced, / the ministry has relaxed the earlier regulations / and has suggested only a short period / of quarantine for the affected people.

- Ans
- 1. the ministry has relaxed the earlier regulations
 - 2. Since the health hazards have reduced
 - 3. of quarantine for the affected people
 - 4. and has suggested only a short period

Question ID : 264330143249

Status : Answered

Chosen Option : 2

Comprehension:

In the following passage, some words have been deleted. Read the passage carefully and select the most appropriate option to fill in each blank.

The white tiger is an offspring of Bengal tiger, which has the necessary gene for white colouring. It has beautiful black stripes on (1) _____ white coat. (2) _____ species of animal has blue eyes and a pink nose.

A pure white tiger is totally white without any stripes, which is due to the presence of double recessive allele in the genetic code. It happens only in the Bengal tiger subspecies, and only one in 10,000 births can have it naturally. White tigers are rarely seen in the wild, and only twelve of them have been spotted in India (3) _____ the last one-hundred years. Tigers have a lifespan of 10-15 years. They are (4) _____ animals, and are fond of hunting at night. Their diet consists of any animals that they can catch, and can eat up to 40 pounds of meat at one time. After such a big meal, they usually remain away for several days from food. They are slow runners, (5) _____ good swimmers. They are poor climbers and cannot climb a tree easily. They live in an area ranging from 10 to 30 square miles depending upon the availability of prey, water and shelter. Habitat loss, poaching and expansion of the human population have together contributed to their becoming endangered. They are widely hunted for their body-parts, which are used in traditional Chinese medicines.

SubQuestion No : 16

Q.16 Select the most appropriate option to fill in blank number 1.

- Ans
- 1. the
 - 2. of
 - 3. an
 - 4. a

Question ID : 26433094225

Status : Answered

Chosen Option : 1

Comprehension:

In the following passage, some words have been deleted. Read the passage carefully and select the most appropriate option to fill in each blank.

The white tiger is an offspring of Bengal tiger, which has the necessary gene for white colouring. It has beautiful black stripes on (1) _____ white coat. (2) _____ species of animal has blue eyes and a pink nose.

A pure white tiger is totally white without any stripes, which is due to the presence of double recessive allele in the genetic code. It happens only in the Bengal tiger subspecies, and only one in 10,000 births can have it naturally. White tigers are rarely seen in the wild, and only twelve of them have been spotted in India (3) _____ the last one-hundred years. Tigers have a lifespan of 10-15 years. They are (4) _____ animals, and are fond of hunting at night. Their diet consists of any animals that they can catch, and can eat up to 40 pounds of meat at one time. After such a big meal, they usually remain away for several days from food. They are slow runners, (5) _____ good swimmers. They are poor climbers and cannot climb a tree easily. They live in an area ranging from 10 to 30 square miles depending upon the availability of prey, water and shelter. Habitat loss, poaching and expansion of the human population have together contributed to their becoming endangered. They are widely hunted for their body-parts, which are used in traditional Chinese medicines.

SubQuestion No : 17

Q.17 Select the most appropriate option to fill in blank number 2.

- Ans
- 1. Them
 - 2. Those
 - 3. This
 - 4. These

Question ID : 26433094226

Status : Answered

Chosen Option : 4

Comprehension:

In the following passage, some words have been deleted. Read the passage carefully and select the most appropriate option to fill in each blank.

The white tiger is an offspring of Bengal tiger, which has the necessary gene for white colouring. It has beautiful black stripes on (1) _____ white coat. (2) _____ species of animal has blue eyes and a pink nose.

A pure white tiger is totally white without any stripes, which is due to the presence of double recessive allele in the genetic code. It happens only in the Bengal tiger subspecies, and only one in 10,000 births can have it naturally. White tigers are rarely seen in the wild, and only twelve of them have been spotted in India (3) _____ the last one-hundred years. Tigers have a lifespan of 10-15 years. They are (4) _____ animals, and are fond of hunting at night. Their diet consists of any animals that they can catch, and can eat up to 40 pounds of meat at one time. After such a big meal, they usually remain away for several days from food. They are slow runners, (5) _____ good swimmers. They are poor climbers and cannot climb a tree easily. They live in an area ranging from 10 to 30 square miles depending upon the availability of prey, water and shelter. Habitat loss, poaching and expansion of the human population have together contributed to their becoming endangered. They are widely hunted for their body-parts, which are used in traditional Chinese medicines.

SubQuestion No : 18

Q.18 Select the most appropriate option to fill in blank number 3.

- Ans
- 1. following
 - 2. behind
 - 3. in
 - 4. next to

Question ID : 26433094227

Status : Answered

Chosen Option : 1

Comprehension:

In the following passage, some words have been deleted. Read the passage carefully and select the most appropriate option to fill in each blank.

The white tiger is an offspring of Bengal tiger, which has the necessary gene for white colouring. It has beautiful black stripes on (1) _____ white coat. (2) _____ species of animal has blue eyes and a pink nose.

A pure white tiger is totally white without any stripes, which is due to the presence of double recessive allele in the genetic code. It happens only in the Bengal tiger subspecies, and only one in 10,000 births can have it naturally. White tigers are rarely seen in the wild, and only twelve of them have been spotted in India (3) _____ the last one-hundred years. Tigers have a lifespan of 10-15 years. They are (4) _____ animals, and are fond of hunting at night. Their diet consists of any animals that they can catch, and can eat up to 40 pounds of meat at one time. After such a big meal, they usually remain away for several days from food. They are slow runners, (5) _____ good swimmers. They are poor climbers and cannot climb a tree easily. They live in an area ranging from 10 to 30 square miles depending upon the availability of prey, water and shelter. Habitat loss, poaching and expansion of the human population have together contributed to their becoming endangered. They are widely hunted for their body-parts, which are used in traditional Chinese medicines.

SubQuestion No : 19

Q.19 Select the most appropriate option to fill in blank number 4.

- Ans
- 1. solitary
 - 2. unaccompanied
 - 3. separate
 - 4. loner

Question ID : 26433094228

Status : Answered

Chosen Option : 1

Comprehension:

In the following passage, some words have been deleted. Read the passage carefully and select the most appropriate option to fill in each blank.

The white tiger is an offspring of Bengal tiger, which has the necessary gene for white colouring. It has beautiful black stripes on (1) _____ white coat. (2) _____ species of animal has blue eyes and a pink nose.

A pure white tiger is totally white without any stripes, which is due to the presence of double recessive allele in the genetic code. It happens only in the Bengal tiger subspecies, and only one in 10,000 births can have it naturally. White tigers are rarely seen in the wild, and only twelve of them have been spotted in India (3) _____ the last one-hundred years. Tigers have a lifespan of 10-15 years. They are (4) _____ animals, and are fond of hunting at night. Their diet consists of any animals that they can catch, and can eat up to 40 pounds of meat at one time. After such a big meal, they usually remain away for several days from food. They are slow runners, (5) _____ good swimmers. They are poor climbers and cannot climb a tree easily. They live in an area ranging from 10 to 30 square miles depending upon the availability of prey, water and shelter. Habitat loss, poaching and expansion of the human population have together contributed to their becoming endangered. They are widely hunted for their body-parts, which are used in traditional Chinese medicines.

SubQuestion No : 20

Q.20 Select the most appropriate option to fill in blank number 5.

- Ans
- 1. nor
 - 2. but
 - 3. either
 - 4. or

Question ID : 26433094229

Status : Answered

Chosen Option : 2

Comprehension:

Read the given passage and answer the questions that follow.

Fine motor skills development allows children to execute vital tasks such as feeding themselves, writing, zipping their garments, and more. Small muscles that govern the hand, fingers, and thumbs are used in fine motor activity. Fine motor abilities assist youngsters in doing crucial tasks such as self-feeding, handling objects, and writing. The capacity to do self-care and everyday chores utilising fine motor skills promotes the development of a child's self-esteem and confidence.

Fine motor skills develop systematically in children. Most new-borns have a reflexive grip at birth and begin to reach for items about three months of age. They will also begin to practise their voluntary grip and two-handed palmar grasps. At 5 months, they should be able to demonstrate a one-handed palmar grip, and at 6 months, they should be able to create a controlled reach. Most new-borns begin to reach and grab for items to put in their mouth between the ages of 6 and 12 months, and they begin to gain the capacity to regulate the release of objects they are gripping. They will also develop a pincer grasp and use it to pick objects up (thumb and one finger). They will also be able to move an object from one hand to the other and drop and pick up their toys.

Most youngsters are interested in stacking building blocks between the ages of 12 and 24 months. They will also practise putting rings on a stick, putting pegs on a pegboard, and turning pages a few at a time. They can also begin to draw, paint with their entire arm movement, moving their hands and producing strokes, and feed themselves with little to no help.

Toddlers at the age of two can begin to string big beads, turn single pages, cut with scissors, and handle crayons with their thumb and fingers (instead of their fist). They will also be able to use only one hand for most tasks and begin to paint with their wrists, forming dots, lines, and circular strokes. Your youngster will also be able to eat consistently and without help.

Most youngsters will be able to cut along the dotted lines on paper by the age of four. They will be able to draw a cross or square shape and write their name and the numbers 1 to 5. They will be able to copy letters and will have mastered their handedness. They will also be able to dress themselves for the first time.

SubQuestion No : 21

Q.21 Select the most appropriate ANTONYM of the given word.
Systematically

- Ans
- 1. Evenly
 - 2. Oddly
 - 3. Haphazardly
 - 4. Selectively

Question ID : 26433099665

Status : Answered

Chosen Option : 2

Comprehension:

Read the given passage and answer the questions that follow.

Fine motor skills development allows children to execute vital tasks such as feeding themselves, writing, zipping their garments, and more. Small muscles that govern the hand, fingers, and thumbs are used in fine motor activity. Fine motor abilities assist youngsters in doing crucial tasks such as self-feeding, handling objects, and writing. The capacity to do self-care and everyday chores utilising fine motor skills promotes the development of a child's self-esteem and confidence.

Fine motor skills develop systematically in children. Most new-borns have a reflexive grip at birth and begin to reach for items about three months of age. They will also begin to practise their voluntary grip and two-handed palmar grasps. At 5 months, they should be able to demonstrate a one-handed palmar grip, and at 6 months, they should be able to create a controlled reach. Most new-borns begin to reach and grab for items to put in their mouth between the ages of 6 and 12 months, and they begin to gain the capacity to regulate the release of objects they are gripping. They will also develop a pincer grasp and use it to pick objects up (thumb and one finger). They will also be able to move an object from one hand to the other and drop and pick up their toys.

Most youngsters are interested in stacking building blocks between the ages of 12 and 24 months. They will also practise putting rings on a stick, putting pegs on a pegboard, and turning pages a few at a time. They can also begin to draw, paint with their entire arm movement, moving their hands and producing strokes, and feed themselves with little to no help.

Toddlers at the age of two can begin to string big beads, turn single pages, cut with scissors, and handle crayons with their thumb and fingers (instead of their fist). They will also be able to use only one hand for most tasks and begin to paint with their wrists, forming dots, lines, and circular strokes. Your youngster will also be able to eat consistently and without help. Most youngsters will be able to cut along the dotted lines on paper by the age of four. They will be able to draw a cross or square shape and write their name and the numbers 1 to 5. They will be able to copy letters and will have mastered their handedness. They will also be able to dress themselves for the first time.

SubQuestion No : 22

Q.22 Select the most appropriate title for the passage.

- Ans
- 1. Importance of Fine Motor Skills
 - 2. Systematic Development of Children
 - 3. Development of New-borns
 - 4. Development of Fine Motor Skills in Children

Question ID : 26433099661

Status : Answered

Chosen Option : 4

Comprehension:

Read the given passage and answer the questions that follow.

Fine motor skills development allows children to execute vital tasks such as feeding themselves, writing, zipping their garments, and more. Small muscles that govern the hand, fingers, and thumbs are used in fine motor activity. Fine motor abilities assist youngsters in doing crucial tasks such as self-feeding, handling objects, and writing. The capacity to do self-care and everyday chores utilising fine motor skills promotes the development of a child's self-esteem and confidence.

Fine motor skills develop systematically in children. Most new-borns have a reflexive grip at birth and begin to reach for items about three months of age. They will also begin to practise their voluntary grip and two-handed palmar grasps. At 5 months, they should be able to demonstrate a one-handed palmar grip, and at 6 months, they should be able to create a controlled reach. Most new-borns begin to reach and grab for items to put in their mouth between the ages of 6 and 12 months, and they begin to gain the capacity to regulate the release of objects they are gripping. They will also develop a pincer grasp and use it to pick objects up (thumb and one finger). They will also be able to move an object from one hand to the other and drop and pick up their toys.

Most youngsters are interested in stacking building blocks between the ages of 12 and 24 months. They will also practise putting rings on a stick, putting pegs on a pegboard, and turning pages a few at a time. They can also begin to draw, paint with their entire arm movement, moving their hands and producing strokes, and feed themselves with little to no help.

Toddlers at the age of two can begin to string big beads, turn single pages, cut with scissors, and handle crayons with their thumb and fingers (instead of their fist). They will also be able to use only one hand for most tasks and begin to paint with their wrists, forming dots, lines, and circular strokes. Your youngster will also be able to eat consistently and without help. Most youngsters will be able to cut along the dotted lines on paper by the age of four. They will be able to draw a cross or square shape and write their name and the numbers 1 to 5. They will be able to copy letters and will have mastered their handedness. They will also be able to dress themselves for the first time.

SubQuestion No : 23

Q.23 When do children learn to regulate the release of the objects that they are gripping?

- Ans
- 1. 12-24 months
 - 2. 6-12 months
 - 3. 2-4 years
 - 4. 3-6 months

Question ID : 26433099663

Status : Answered

Chosen Option : 2

Comprehension:

Read the given passage and answer the questions that follow.

Fine motor skills development allows children to execute vital tasks such as feeding themselves, writing, zipping their garments, and more. Small muscles that govern the hand, fingers, and thumbs are used in fine motor activity. Fine motor abilities assist youngsters in doing crucial tasks such as self-feeding, handling objects, and writing. The capacity to do self-care and everyday chores utilising fine motor skills promotes the development of a child's self-esteem and confidence.

Fine motor skills develop systematically in children. Most new-borns have a reflexive grip at birth and begin to reach for items about three months of age. They will also begin to practise their voluntary grip and two-handed palmar grasps. At 5 months, they should be able to demonstrate a one-handed palmar grip, and at 6 months, they should be able to create a controlled reach. Most new-borns begin to reach and grab for items to put in their mouth between the ages of 6 and 12 months, and they begin to gain the capacity to regulate the release of objects they are gripping. They will also develop a pincer grasp and use it to pick objects up (thumb and one finger). They will also be able to move an object from one hand to the other and drop and pick up their toys.

Most youngsters are interested in stacking building blocks between the ages of 12 and 24 months. They will also practise putting rings on a stick, putting pegs on a pegboard, and turning pages a few at a time. They can also begin to draw, paint with their entire arm movement, moving their hands and producing strokes, and feed themselves with little to no help.

Toddlers at the age of two can begin to string big beads, turn single pages, cut with scissors, and handle crayons with their thumb and fingers (instead of their fist). They will also be able to use only one hand for most tasks and begin to paint with their wrists, forming dots, lines, and circular strokes. Your youngster will also be able to eat consistently and without help. Most youngsters will be able to cut along the dotted lines on paper by the age of four. They will be able to draw a cross or square shape and write their name and the numbers 1 to 5. They will be able to copy letters and will have mastered their handedness. They will also be able to dress themselves for the first time.

SubQuestion No : 24

Q.24 When do children get interested in playing with building blocks?

Ans 1. 12-24 months

2. 0-6 months

3. 2-4 years

4. 6-12 months

Question ID : 26433099662

Status : Answered

Chosen Option : 1

Comprehension:

Read the given passage and answer the questions that follow.

Fine motor skills development allows children to execute vital tasks such as feeding themselves, writing, zipping their garments, and more. Small muscles that govern the hand, fingers, and thumbs are used in fine motor activity. Fine motor abilities assist youngsters in doing crucial tasks such as self-feeding, handling objects, and writing. The capacity to do self-care and everyday chores utilising fine motor skills promotes the development of a child's self-esteem and confidence.

Fine motor skills develop systematically in children. Most new-borns have a reflexive grip at birth and begin to reach for items about three months of age. They will also begin to practise their voluntary grip and two-handed palmar grasps. At 5 months, they should be able to demonstrate a one-handed palmar grip, and at 6 months, they should be able to create a controlled reach. Most new-borns begin to reach and grab for items to put in their mouth between the ages of 6 and 12 months, and they begin to gain the capacity to regulate the release of objects they are gripping. They will also develop a pincer grasp and use it to pick objects up (thumb and one finger). They will also be able to move an object from one hand to the other and drop and pick up their toys.

Most youngsters are interested in stacking building blocks between the ages of 12 and 24 months. They will also practise putting rings on a stick, putting pegs on a pegboard, and turning pages a few at a time. They can also begin to draw, paint with their entire arm movement, moving their hands and producing strokes, and feed themselves with little to no help.

Toddlers at the age of two can begin to string big beads, turn single pages, cut with scissors, and handle crayons with their thumb and fingers (instead of their fist). They will also be able to use only one hand for most tasks and begin to paint with their wrists, forming dots, lines, and circular strokes. Your youngster will also be able to eat consistently and without help. Most youngsters will be able to cut along the dotted lines on paper by the age of four. They will be able to draw a cross or square shape and write their name and the numbers 1 to 5. They will be able to copy letters and will have mastered their handedness. They will also be able to dress themselves for the first time.

SubQuestion No : 25

Q.25 In light of the above passage, which of the following toys may help in the development of fine motor skills?

Ans ✓ 1. All of the given options

✗ 2. Stacks and building blocks

✗ 3. String beads

✗ 4. Crayons

Question ID : 26433099664

Status : Answered

Chosen Option : 1