

# पिछले वर्षों के प्रश्न पत्र

ixamBee  
Prepare 50% Faster

## टियर - I

# IB ACIO Gr-II

## 19 फ़रवरी 2021 | पाली - 2



**SSC CHSL**



**AFCAT**



**SSC CGL**



**IB MTS**



**RRB NTPC**



**SSC CPO**



**IB SA**



+91-9205524028

ixamBee

Prepare 50% Faster



ixamBee.com

# ACIO Grade II Executive 19th Feb 2021

Participant ID	
Participant Name	
Test Center Name	
Test Date	19/02/2021
Test Time :	12:00 PM - 1:00 PM
Subject	ACIO Grade II (Executive)

## Section : General awareness Current Affairs

Q.1 भारतीय तटरक्षक बल के लिए ऑफशोर पैट्रोल वेसल (OPV) कब लॉन्च किया गया था, और उसका भारतीय तटरक्षक जहाज 'सार्थक' के रूप में नामकरण किया गया था?

- Ans
- 1. 13 अगस्त 2020
  - 2. 06 जून 2020
  - 3. 06 अप्रैल 2020
  - 4. 09 मार्च 2020

Question ID : 6009293662

Status : Not Answered

Chosen Option : --

Q.2 स्पेसएक्स के फाल्कन 9 रॉकेट ने स्काईसैट 19, 20 और 21 को कब लॉन्च किया था?

- Ans
- 1. 13 मार्च 2020
  - 2. 13 अप्रैल 2020
  - 3. 18 अप्रैल 2020
  - 4. 18 अगस्त 2020

Question ID : 6009293660

Status : Not Answered

Chosen Option : --

Q.3 In January 2020, at the age of 33, who became the world's youngest democratically elected leader of a country?

- Ans
- 1. Sebastian Kurz, Austria
  - 2. Emmanuel Macron, France
  - 3. Jacinda Ardern, New Zealand
  - 4. Alexandria Ocasio-Cortez, USA

Question ID : 6009293659

Status : Answered

Chosen Option : 1



+91-9205524028

ixamBee

Prepare 50% Faster



ixamBee.com

Q.4 निम्नलिखित क्रिकेट खिलाड़ियों को आई.पी.एल. (IPL) 2020 के दौरान उनके द्वारा बनाए सर्वाधिक रनों के अनुसार अवरोही क्रम में व्यवस्थित कीजिए।

- A. के.एल.राहुल
- B. शिखर धवन
- C. श्रेयस अय्यर
- D. डेविड वार्नर

- Ans
- 1. D, B, A, C
  - 2. A, B, D, C
  - 3. C, B, A, D
  - 4. D, B, C, A

Question ID : 6009293672

Status : Not Attempted and Marked For Review

Chosen Option : --

Q.5 2020 के पद्म विभूषण पुरस्कारों के बारे में निम्नलिखित कथनों पर विचार कीजिए।

- (1) श्री जॉर्ज फर्नांडीस को सार्वजनिक मामलों के क्षेत्र में यह पुरस्कार मरणोपरांत प्रदान किया गया।
- (2) श्री. छन्नूलाल मिश्रा को कला के क्षेत्र में यह पुरस्कार प्रदान किया गया है।

उपर्युक्त कथनों में से कौन सा / कौन से कथन सत्य है / हैं।

- Ans
- 1. न तो 1 और न ही 2
  - 2. 1 और 2 दोनों
  - 3. केवल 1
  - 4. केवल 2

Question ID : 6009293665

Status : Answered

Chosen Option : 1

Q.6 जून 2020 में, नेशनल एयरोनॉटिक्स एंड स्पेस एडमिनिस्ट्रेशन (नासा) के 'मानव अंतरिक्ष यान कार्यक्रम' के प्रमुख के रूप में नियुक्त होने वाली पहली महिला कौन हैं?

- Ans
- 1. सैली राइड
  - 2. नैन्सी रोमन
  - 3. कैथी लेडर्स
  - 4. कैथरीन जॉनसन

Question ID : 6009293658

Status : Answered

Chosen Option : 4



+91-9205524028

ixamBee

Prepare 50% Faster



ixamBee.com

Q.7 इनमें से किस पुस्तक को फिक्शन श्रेणी में वर्ष 2020 का पुलित्जर पुरस्कार प्रदान किया गया है?

- Ans
- 1. एन पैचेट (हार्पर) द्वारा लिखित 'द डच हाउस'
  - 2. कोल्सन व्हाइटहेड (डबलडे) द्वारा लिखित 'द निकल बॉयज'
  - 3. बेन लर्नर (फर्रर, स्ट्रैस और गिरौक्स) द्वारा लिखित 'द टॉपेका स्कूल'
  - 4. माइकल आर जैक्सन द्वारा लिखित 'अ स्ट्रैंज लूप'

Question ID : 6009293655

Status : Not Answered

Chosen Option : --

Q.8 सूची -1 और सूची -2 का मिलान कीजिए और सूची के नीचे दिए गए कोड (code) का उपयोग करके सही उत्तर चुनिए।

सूची -1 (लेखक का नाम)	सूची -2 (पुस्तक का नाम)
A. चार्ल्स डिक्केस	1. ए क्रिसमस कैरोल
B. सलमान रुश्दी	2. मिडनाइट चिल्ड्रन
C. शशि थरूर	3. द कंपनी ऑफ वुमेन
D. खुशवंत सिंह	4. द ग्रेट इंडियन नॉवेल

- Ans
- 1. A-1, B-3, C-2, D-4
  - 2. A-1, B-2, C-4, D-3
  - 3. A-2, B-1, C-3, D-4
  - 4. A-4, B-2, C-3, D-1

Question ID : 6009293669

Status : Answered

Chosen Option : 2

Q.9 Match List-1 and List-2 and select the correct answer by using the code given below the list.

List-1 (Company)	List-2 (Founder)
A. SpaceX	1. Elon Musk
B. Virgin Galactic	2. Travis Kalanick
C. Twitter Inc.	3. Jack Dorsey
D. Uber	4. Richard Branson

- Ans
- 1. A-1, B-4, C-3, D-2
  - 2. A-2, B-1, C-3, D-4
  - 3. A-1, B-2, C-4, D-3
  - 4. A-4, B-2, C-3, D-1

Question ID : 6009293671

Status : Answered

Chosen Option : 1



+91-9205524028

ixamBee

Prepare 50% Faster



ixamBee.com

Q.10 महात्मा गांधी की \_\_\_\_\_ जयंती मनाने के लिए, ग्रामोदय चेंबर ऑफ कॉमर्स एंड टेक्नोलॉजी (GCOT) ने 'ग्रामोदय बंधु मित्र पुरस्कार' की स्थापना की थी।

- Ans
- 1. 148वीं
  - 2. 150वीं
  - 3. 149वीं
  - 4. 151वीं

Question ID : 6009293661  
Status : Answered  
Chosen Option : 2

Q.11 दिसंबर 2019 में संसद द्वारा पारित 126वें संविधान संशोधन विधेयक के द्वारा अनुसूचित जाति एवं जनजाति समुदाय के लिए विधानमंडलों में आरक्षण कोटा को आगे कितने वर्षों के लिए बढ़ाया गया है?

- Ans
- 1. 15 वर्ष
  - 2. 20 वर्ष
  - 3. 5 वर्ष
  - 4. 10 वर्ष

Question ID : 6009293664  
Status : Answered  
Chosen Option : 4

Q.12 भारत के चीफ ऑफ डिफेंस स्टाफ की हाल में हुई नियुक्ति के बारे में निम्नलिखित में से कौन सा / से कथन सत्य है / हैं?

- (1) लगभग दो दशक पहले फरवरी 2000 में कारगिल रिव्यू कमेटी (KRC) ने चीफ ऑफ डिफेंस स्टाफ के गठन का सुझाव दिया था।
- (2) सेवानिवृत्ति की आयु के संदर्भ में चीफ ऑफ डिफेंस स्टाफ का पद नियंत्रक और महालेखा परीक्षक (CAG), मुख्य चुनाव आयुक्त (CEC) और केंद्रीय सतर्कता आयुक्त (CVC) आदि के समान नहीं है।

- Ans
- 1. केवल 1
  - 2. केवल 2
  - 3. न तो 1 और न ही 2
  - 4. 1 और 2 दोनों

Question ID : 6009293667  
Status : Answered  
Chosen Option : 1

Q.13 गेंद फेंककर एक अधिकारी को चोट पहुंचाने के चलते किस टेनिस खिलाड़ी को यूएस ओपन 2020 से अयोग्य घोषित कर दिया गया?

- Ans
- 1. रोजर फेडरर
  - 2. टिम हेनमैन
  - 3. निक किर्गियोस
  - 4. नोवाक जोकोविच

Question ID : 6009293656  
Status : Answered  
Chosen Option : 3



+91-9205524028

ixamBee

Prepare 50% Faster



ixamBee.com

Q.14 प्रधानमंत्री वय वंदना योजना (PMVVY) के बारे में निम्नलिखित में से कौन सा / से कथन सत्य है / हैं?

- (1) यह वरिष्ठ नागरिकों के लिए एक पेंशन योजना है।  
(2) यह योजना जीवन बीमा निगम (LIC) द्वारा प्रबंधित और संचालित की जाती है।

- Ans  1. केवल 2  
 2. न तो 1 और न ही 2  
 3. 1 और 2 दोनों  
 4. केवल 1

Question ID : 6009293668  
Status : Answered  
Chosen Option : 3

Q.15 उस विशेष व्यवस्था के लिए प्रयुक्त शब्द क्या है जिसके तहत नागरिकों को 'ऑन-अराइवल क्वारंटीन' हुए बिना निर्दिष्ट राष्ट्रों के बीच हवाई यात्रा करने की अनुमति है?

- Ans  1. एयर इंडिया एक्सप्रेस (Air India Express)  
 2. ट्रैवल बबल्स (Travel Bubbles)  
 3. वन्दे भारत (Vande Bharat)  
 4. गेट-होम-इट-इज (GetHomeltis)

Question ID : 6009293657  
Status : Not Attempted and Marked For Review  
Chosen Option : --

Q.16 संयुक्त राज्य अमेरिका के 46 वें राष्ट्रपति जो बिडेन के बारे में निम्नलिखित में से कौन सा / कौन से कथन सत्य है / हैं?

- (1) वे 24 वर्षों की उम्र में सबसे युवा सभासदों (senators) में से एक थे।  
(2) वे 78 वर्षों की उम्र में संयुक्त राज्य अमेरिका के सर्वाधिक उम्र के राष्ट्रपति हैं।

- Ans  1. 1 और 2 दोनों  
 2. केवल 2  
 3. न तो 1 और न ही 2  
 4. केवल 1

Question ID : 6009293666  
Status : Answered  
Chosen Option : 4



+91-9205524028

ixamBee™

Prepare 50% Faster



ixamBee.com

Q.17 भारत ने हाल ही में, 17 दिसंबर 2020 को जियोस्टेशनरी ट्रांसफर ऑर्बिट में CMS-01 संचार उपग्रह का प्रक्षेपण किया। इस उपग्रह के संबंध में निम्नलिखित में से कौन सा/से कथन सही है/हैं?

1. उपग्रह को प्रक्षेपण यान PSLV-C50 द्वारा प्रक्षेपित किया गया था।
2. उपग्रह फ्रीक्वेन्सी स्पेक्ट्रम के विस्तारित C-बैंड में टेलीकॉम सेवाएँ प्रदान करेगा।
3. यह भारत का 40वाँ संचार उपग्रह है जो 2013 में प्रक्षेपित किए गए GSAT-12 के कार्यों को प्रतिस्थापित करेगा।

नीचे दिए गए कूट का प्रयोग करके सही उत्तर का चयन कीजिए।

- (a) केवल 1
- (b) केवल 2
- (c) केवल 3
- (d) 1 और 2 दोनों

- Ans
- 1. b
  - 2. c
  - 3. a
  - 4. d

Question ID : 6009293674

Status : Answered

Chosen Option : 2

Q.18 Nobel Prize is announced at an international level which is administered by the Nobel Foundation in Stockholm, Sweden. Recently Nobel Prize winners for the year 2020 were announced. The recipients of Nobel Prize 2020 are

1. Reinhard Genzel and Andrea Ghez for the discovery of a supermassive compact object at the centre of our galaxy.
2. Gérard Mourou and Donna Strickland for their method of generating high-intensity, ultra-short optical pulses.

Select the correct answer using the code given below.

- Ans
- 1. Both 1 and 2
  - 2. Neither 1 and 2
  - 3. 2 only
  - 4. 1 only

Question ID : 6009293673

Status : Not Answered

Chosen Option : --

Q.19 2011 बैच के भारतीय राजस्व सेवा अधिकारी 'साहिल सेठ' को जुलाई 2020 में \_\_\_\_\_ की संचालन समिति का मानद सलाहकार नियुक्त किया गया है।

- Ans
- 1. ब्रिक्स (BRICS) चैंबर ऑफ कॉमर्स एंड इंडस्ट्री
  - 2. जी-20 चैंबर ऑफ कॉमर्स एंड इंडस्ट्री
  - 3. सार्क (SAARC) चैंबर ऑफ कॉमर्स एंड इंडस्ट्री
  - 4. भारतीय वाणिज्य और उद्योग महासंघ

Question ID : 6009293663

Status : Not Answered

Chosen Option : --



+91-9205524028

ixamBee

Prepare 50% Faster



ixamBee.com

Q.20 सितंबर 2020 में, संसद ने देश में कृषि के क्षेत्र में परिवर्तन लाने और किसानों की आय बढ़ाने के उद्देश्य से तीन में से कौन सा एक विधेयक पारित किया गया था?

- (A) किसान उपज व्यापार और वाणिज्य (संवर्धन और सुविधा) विधेयक, 2020  
(B) मूल्य आश्वासन और कृषि सेवा पर किसान (सशक्तीकरण और संरक्षण) समझौता, 2020  
(C) आवश्यक वस्तुएँ (संशोधन) विधेयक 2020  
(D) किसान आय और एम.एस.पी. (न्यूनतम समर्थन मूल्य) संशोधन विधेयक, 2020

- Ans  1. B, C और D  
 2. A, B और C  
 3. A, D और C  
 4. A, C और D

Question ID : 6009293670

Status : Answered

Chosen Option : 2

Section : General studies

Q.1 सूची - I और सूची - II का मिलान कीजिए और सूचियों के नीचे दिए गए कोड का उपयोग करके सही उत्तर का चयन कीजिए:

सूची - I (खेल)	सूची - II (खिलाड़ी)
A. क्रिकेट	1. किंदंबी श्रीकांत
B. बैटमिंटन	2. बीरेंद्र लाकड़ा
C. फिल्ड हॉकी	3. सुमित नागल
D. टेनिस	4. आजिंक्य रहाणे

- Ans  1. A-1, B-4, C-3, D-2  
 2. A-3, B-2, C-1, D-4  
 3. A-4, B-1, C-2, D-3  
 4. A-2, B-1, C-4, D-3

Question ID : 6009293688

Status : Answered

Chosen Option : 3

Q.2 भारत के राष्ट्रपति के संदर्भ में निम्नलिखित कथनों पर विचार करें।

1. भारत के संविधान के अनुच्छेद 53 में उल्लेख है कि संघ की कार्यकारी शक्ति राष्ट्रपति में निहित होगी।
2. राष्ट्रपति अपने पद पर आसीन होने के बाद पाँच वर्ष के लिए पद ग्रहण करेंगे।
3. भारत के संविधान के अनुच्छेद 60 में राष्ट्रपति पर महाभियोग की प्रक्रिया के बारे में उल्लेख है।

दिए गए उपरोक्त कथनों में से कौन सा/से कथन सही है/हैं?

- Ans  1. केवल 1  
 2. केवल 1 और 2  
 3. 1, 2 और 3  
 4. केवल 2 और 3

Question ID : 6009293694

Status : Answered

Chosen Option : 2



+91-9205524028

ixamBee

Prepare 50% Faster



ixamBee.com



Q.3 कैलासनाथर मंदिर किस वंश ने और किस राज्य में बनाया है?

- Ans
- 1. चोल, आन्ध्र प्रदेश
  - 2. चोल, तमिल नाडू
  - 3. पल्लव, तमिल नाडू
  - 4. पल्लव, आंध्र प्रदेश

Question ID : 6009293678

Status : Answered

Chosen Option : 1

Q.4 छड़ी (रॉड) की आकार के बैक्टीरिया को क्या कहा जाता है?

- Ans
- 1. बैसिलार
  - 2. स्पिरिलम
  - 3. कॉकस
  - 4. वाइब्रियो

Question ID : 6009293682

Status : Not Answered

Chosen Option : --

Q.5 होयसल कला के संबंध में निम्नलिखित कथनों पर विचार करें।

1. होयसल शैली (1050 -1300 ईस्वी) कर्नाटक के दक्षिणी क्षेत्र में विकसित हुई।
2. होयसल कला की शुरुआत ऐहोल, बादामी और पट्टकल में आरंभिक चालुक्य मंदिरों में मानी जा सकती है।
3. इस कला को नियोजित करने वाला एक महत्वपूर्ण स्मारक बेलूर में स्थित केशव मंदिर है।
4. वास्तुशिल्प योजना के अलावा, होयसल शैली ने कुछ अधिक विशिष्ट विशेषताओं को प्राप्त किया। उदाहरण के लिए, अधिक सुविधाजनक रेतिले पत्थर के कारण क्लोरोटिक शीस्ट को त्याग दिया गया।

दिए गए उपरोक्त कथनों में से कौन सा/से कथन सही है/हैं?

- Ans
- 1. केवल 1 और 2
  - 2. केवल 3 और 4
  - 3. केवल 2 और 3
  - 4. 1, 2 और 3

Question ID : 6009293691

Status : Not Answered

Chosen Option : --



+91-9205524028

ixamBee

Prepare 50% Faster



ixamBee.com

Q.6 GST (वस्तु एवं सेवा कर) के संदर्भ में, स्वैच्छिक अनुपालन को बढ़ाने के लिए GSTN द्वारा व्यवहारिक मापदंडों के उपयोग के संदर्भ में निम्नलिखित कथनों पर विचार करें।

1. GST नियम एक निश्चित सीमा से ऊपर के मूल्य के माल के परिवहन के लिए ई-वे बिल के इलेक्ट्रॉनिक निर्माण की व्यवस्था प्रदान करते हैं।
2. GSTIN का रिटर्न फाइलिंग स्टेटस GST पोर्टल पर सार्वजनिक डोमेन में दिखाई देता है।

उपरोक्त कथनों में से कौन सा/से कथन सही है/हैं?

- Ans
- 1. केवल 2
  - 2. न तो 1 और न ही 2
  - 3. 1 और 2 दोनों
  - 4. केवल 1

Question ID : 6009293686  
Status : Answered  
Chosen Option : 3

Q.7 खुदेड़' लोकगीत भारत के किस राज्य से संबंधित हैं?

- Ans
- 1. छत्तीसगढ़
  - 2. झारखंड
  - 3. उत्तराखंड
  - 4. ओडिशा

Question ID : 6009293680  
Status : Not Answered  
Chosen Option : --

Q.8 निम्नलिखित में से कौन-सा राज्य, किसानों द्वारा उगाई जाने वाली फसल को विनियमित करने वाला पहला राज्य है?

- Ans
- 1. तेलंगाना
  - 2. मध्य प्रदेश
  - 3. हरियाणा
  - 4. हिमाचल प्रदेश

Question ID : 6009293675  
Status : Answered  
Chosen Option : 1

Q.9 रिचर्ड डॉकिन्स पुरस्कार जीतने वाले पहले भारतीय कौन बन गए हैं?

- Ans
- 1. गुलज़ार
  - 2. प्रसून जोशी
  - 3. जावेद अख्तर
  - 4. नसीरुद्दीन शाह

Question ID : 6009293679  
Status : Not Answered  
Chosen Option : --



+91-9205524028

ixamBee™

Prepare 50% Faster



ixamBee.com

Q.10 सूची - I और सूची - II का मिलान कीजिए और सूचियों के नीचे दिए गए कोड का उपयोग करके सही उत्तर का चयन कीजिए:

सूची - I (लेखक)	सूची - II (पुस्तकें)
A. कौटिल्य	1. अष्टाध्यायी
B. पाणिनि	2. अर्थशास्त्र
C. कामंदक	3. कुमारसंभव
D. कालिदास	4. नीतिसार

- Ans
- ✓ 1. A-2, B-1, C-4, D-3
  - ✗ 2. A-4, B-3, C-2, D-1
  - ✗ 3. A-3, B-2, C-1, D-4
  - ✗ 4. A-1, B-4, C-3, D-2

Question ID : 6009293690  
Status : Answered  
Chosen Option : 1

Q.11 विश्व बैंक की स्थापना कब की गई थी?

- Ans
- ✗ 1. 1946
  - ✓ 2. 1944
  - ✗ 3. 1948
  - ✗ 4. 1942

Question ID : 6009293677  
Status : Answered  
Chosen Option : 1

Q.12 भारतीय राष्ट्रीय आंदोलन के संदर्भ में निम्न कथनों पर विचार करें।

1. रमेश चंद्र दत्त, एक सेवानिवृत्त आइसीएस अधिकारी, ने बीसवीं शताब्दी के आरंभ में 'द इकनॉमिक हिस्ट्री ऑफ इंडिया' का प्रकाशन किया था। इस पुस्तक में उन्होंने 1757 से औपनिवेशिक शासन के संपूर्ण आर्थिक रिकॉर्ड की विस्तार से जांच की।
2. राष्ट्रवादी आलोचना का केंद्र बिंदु धन-निष्कासन सिद्धांत था।

दिए गए निम्न कोड का उपयोग करके सही उत्तर का चयन करें।

- Ans
- ✗ 1. केवल 2
  - ✗ 2. केवल 1
  - ✗ 3. न तो 1 और न ही 2
  - ✓ 4. 1 और 2 दोनों

Question ID : 6009293685  
Status : Not Answered  
Chosen Option : --



+91-9205524028

ixamBee™

Prepare 50% Faster



ixamBee.com

Q.13 भगोरिया के संदर्भ में निम्न में से कौन सा/से कथन सही है/हैं?

1. भगोरिया आदिवासी लोगों के प्रमुख त्योहारों में से एक है।
2. भगोरिया हाट बाजार है।
3. भगोरिया पर्व मई के महीने में मनाया जाता है।
4. भगोरिया पर्व मध्य प्रदेश में भील और भिलाला जनजाति द्वारा मनाया जाता है।

दिए गए निम्न कोड का उपयोग करके सही उत्तर का चयन करें।

- Ans
- 1. केवल 2
  - 2. 1, 2 और 4
  - 3. 1, 2 और 3
  - 4. केवल 1

Question ID : 6009293693

Status : Not Answered

Chosen Option : --

Q.14 भीमा नदी निम्नलिखित में से किस नदी की उपनदी है?

- Ans
- 1. कृष्णा
  - 2. नर्मदा
  - 3. दामोदर
  - 4. चंबल

Question ID : 6009293683

Status : Answered

Chosen Option : 1

Q.15 वर्ष \_\_\_\_\_ में टीपू सुल्तान और ब्रिटिश ईस्ट इंडिया कंपनी के बीच मैंगलुरु की संधि पर हस्ताक्षर किए गए थे।

- Ans
- 1. 1782
  - 2. 1792
  - 3. 1779
  - 4. 1784

Question ID : 6009293676

Status : Answered

Chosen Option : 2



+91-9205524028

ixamBee™

Prepare 50% Faster



ixamBee.com

Q.16 Consider the following statements regarding the characteristics of a good source of energy.

1. It would not do a large amount of work per unit volume or mass.
2. It is easily accessible.
3. It is easy to store or transport.
4. It is not economical.

Which of the statements given above are correct?

- Ans
- 1. 1 and 2 only
  - 2. 2 and 3 only
  - 3. 1, 2, 3 and 4
  - 4. 3 and 4 only

Question ID : 6009293692  
Status : Answered  
Chosen Option : 2

Q.17 विनेश फौगाट निम्नलिखित में से किस खेल से संबंधित है?

- Ans
- 1. टेनिस
  - 2. बैडमिंटन
  - 3. तैराकी
  - 4. कुश्ती

Question ID : 6009293681  
Status : Answered  
Chosen Option : 4

Q.18 भारत की जलवायु को निम्न में से कौन सा/से कारक निर्धारित करता है / करते हैं?

1. अक्षांश
2. महासागरीय जलधारायें
3. समुद्र से दूरी

दिए गए निम्न कोड का उपयोग करके सही उत्तर का चयन करें।

- Ans
- 1. 1 और 3
  - 2. केवल 2
  - 3. केवल 1
  - 4. 1, 2 और 3

Question ID : 6009293689  
Status : Answered  
Chosen Option : 4



+91-9205524028

ixamBee

Prepare 50% Faster



ixamBee.com

Q.19 भारतीय संविधान की निम्नलिखित अनुसूचियों में से किसमें राज्यों की परिषद में सीटों के आवंटन के प्रावधान समाविष्ट हैं?

- Ans
- 1. प्रथम
  - 2. तीसरी
  - 3. पांचवीं
  - 4. चौथी

Question ID : 6009293684  
Status : Answered  
Chosen Option : 4

Q.20 पदार्थ के संदर्भ में निम्न कथनों पर विचार करें।

1. पदार्थ छोटे कणों से बना होता है।
2. पदार्थ में कणों के मध्य आकर्षण बल गैसों में सर्वाधिक होता है।
3. वाष्पीकरण शीतलन का कारण नहीं होता है।
4. हमारे परिवेश में पदार्थ तीन अवस्थाओं: ठोस, तरल और गैस में पाए जाते हैं।

उपरोक्त कथनों में से कौन सा/से कथन सही है/हैं?

- Ans
- 1. 1 और 4
  - 2. 2 और 4
  - 3. 3 और 4
  - 4. केवल 1

Question ID : 6009293687  
Status : Answered  
Chosen Option : 1

Section : Numerical aptitude

Q.1 रीना एक कार्य को 6 दिनों में पूरा कर सकती है जबकि सीमा उसी कार्य को 9 दिनों में कर सकती है। यदि वे दोनों एक साथ काम करती हैं, तो कार्य को समाप्त करने के लिए कितने दिनों की आवश्यकता होगी?

- Ans
- 1. 3.6 दिन
  - 2. 7.3 दिन
  - 3. 10 दिन
  - 4. 4 दिन

Question ID : 6009293700  
Status : Answered  
Chosen Option : 1



+91-9205524028

ixamBee™

Prepare 50% Faster



ixamBee.com

Q.2 निम्नलिखित में से किस विकल्प का मान न्यूनतम है?

- Ans
- 1.  $\sqrt{9} - \sqrt{7}$
  - 2.  $\sqrt{6} - \sqrt{4}$
  - 3.  $\sqrt{18} - 4$
  - 4.  $\sqrt{28} - 5$

Question ID : 6009293714

Status : Answered

Chosen Option : 1

Q.3 एक वृत्त की परिधि, एक वर्ग के परिमाप के बराबर है। वृत्त के क्षेत्रफल का, वर्ग के क्षेत्रफल से क्या अनुपात है?  
( $\pi$  का मान  $22/7$  है)

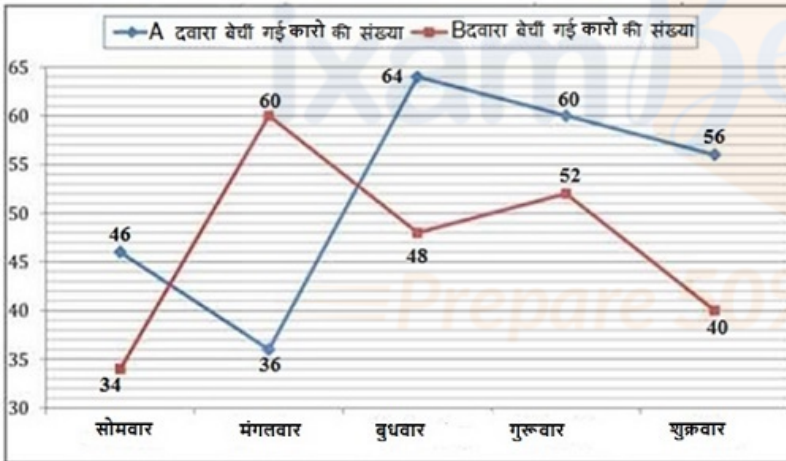
- Ans
- 1. 31 : 22
  - 2. 18 : 11
  - 3. 14 : 11
  - 4. 27 : 22

Question ID : 6009293710

Status : Answered

Chosen Option : 3

Q.4 नीचे दिया गया रेखा ग्राफ विक्रेता A और विक्रेता B द्वारा पांच दिनों में बेची गई कारों की संख्या को दर्शाता है।



रविवार को A और B द्वारा एक साथ बेची गई कारों की कुल संख्या ज्ञात कीजिए, यदि रविवार को A और B द्वारा एक साथ बेची गई कारों की संख्या शुक्रवार को A और B द्वारा एक साथ बेची गई कारों की तुलना में  $16\frac{2}{3}$  प्रतिशत अधिक है ?

- Ans
- 1. 116
  - 2. 120
  - 3. 112
  - 4. 114

Question ID : 6009293702

Status : Answered

Chosen Option : 3



+91-9205524028

ixamBee

Prepare 50% Faster



ixamBee.com

Q.5 निम्न का मान ज्ञात करें।

$$7\frac{1}{2} \div \left\{ 4\frac{1}{4} - \frac{1}{2} \times \left( 2\frac{1}{2} - 1\frac{1}{4} - \frac{3}{4} \right) \right\}$$

- Ans
- 1. 5.75
  - 2. 4.5
  - 3. 7.25
  - 4. 1.875

Question ID : 6009293695  
Status : Answered  
Chosen Option : 4

Q.6 निम्नलिखित में से कौन सा सही है?

- Ans
- 1.  $\sqrt[6]{8} > \sqrt[4]{3} > \sqrt[3]{2} > \sqrt[12]{12}$
  - 2.  $\sqrt[4]{3} > \sqrt[6]{8} > \sqrt[12]{12} > \sqrt[3]{2}$
  - 3.  $\sqrt[4]{3} > \sqrt[6]{8} > \sqrt[3]{2} > \sqrt[12]{12}$
  - 4.  $\sqrt[3]{2} > \sqrt[4]{3} > \sqrt[6]{8} > \sqrt[12]{12}$

Question ID : 6009293706  
Status : Answered  
Chosen Option : 1

Q.7 एक निश्चित धनराशि, वार्षिक रूप से चक्रवृद्धि होने वाली 10 प्रतिशत वार्षिक ब्याज दर पर 3 वर्ष में रु. 1331 हो जाती है। निवेश की गई राशि ज्ञात करें।

- Ans
- 1. 1100 रुपए
  - 2. 1000 रुपए
  - 3. 1050 रुपए
  - 4. 1132 रुपए

Question ID : 6009293697  
Status : Answered  
Chosen Option : 2

Q.8 शगुन और शीतल के पास क्रमशः 40 किलोग्राम और 50 किलोग्राम सेब हैं। ऋचा ने शगुन से 30 प्रतिशत और शीतल से 46 प्रतिशत सेब ले लिए। शगुन और शीतल के पास कुल सेबों का लगभग कितना प्रतिशत बचा है?

- Ans
- 1. 67 प्रतिशत
  - 2. 53 प्रतिशत
  - 3. 49 प्रतिशत
  - 4. 61 प्रतिशत

Question ID : 6009293704



+91-9205524028

ixamBee

Prepare 50% Faster



ixamBee.com



Q.9 बबीता और सुनीता की आयु का वर्तमान अनुपात 7 : 9 हैं। 5 वर्ष पहले, यह अनुपात 1 : 2 था। बबिता की वर्तमान आयु ज्ञात करें।

- Ans
- 1. 9 वर्ष
  - 2. 14 वर्ष
  - 3. 7 वर्ष
  - 4. 21 वर्ष

Question ID : 6009293696  
Status : Answered  
Chosen Option : 2

Q.10 निम्नलिखित प्रश्न में प्रश्न चिह्न (?) के स्थान पर क्या आना चाहिए ?

$$27\frac{1}{2} + 15\frac{3}{4} - 12\frac{2}{5} + 18\frac{4}{5} = ?$$

- Ans
- 1.  $49\frac{13}{20}$
  - 2.  $49\frac{33}{20}$
  - 3. 49
  - 4.  $48\frac{13}{20}$

Question ID : 6009293713  
Status : Answered  
Chosen Option : 1

Q.11 स्थिर जल में एक नाव की चाल 10 km/hr है। यदि धारा की चाल 2 km/hr है, तो नाव धारा के प्रतिकूल 2.5 घंटे में कितनी दूरी तय कर सकती है?

- Ans
- 1. 32 km
  - 2. 28 km
  - 3. 30 km
  - 4. 24 km

Question ID : 6009293707  
Status : Answered  
Chosen Option : 3

Q.12 उस शंकु का वक्र पृष्ठीय क्षेत्रफल ज्ञात करें जिसकी ऊँचाई 3 m और त्रिज्या 4 m है। (लगभग मान ज्ञात करें) (π का मान 22/7 है)

- Ans
- 1.  $79\text{ m}^2$
  - 2.  $33\text{ m}^2$
  - 3.  $45\text{ m}^2$
  - 4.  $63\text{ m}^2$

Question ID : 6009293699  
Status : Answered  
Chosen Option : 3



+91-9205524028

ixamBee™

Prepare 50% Faster



ixamBee.com

Q.13 दी गई तालिका दिए गए वर्षों में विभिन्न संगठनों द्वारा नियुक्त कर्मचारियों की संख्या को दर्शाती है।

वर्ष	संगठन					
	P	Q	R	S	T	U
2007	92	102	84	100	95	98
2008	104	107	94	99	96	105
2009	96	119	93	102	98	103
2010	101	100	86	88	97	107
2011	85	117	84	103	102	99
2012	88	97	89	100	103	102

वर्ष 2008 में, संगठन R द्वारा नियुक्त कर्मचारियों की संख्या में पिछले वर्ष की तुलना में कितने प्रतिशत (निकटतम पूर्णांक के लगभग) की वृद्धि हुई है?

- Ans
- 1. 10
  - 2. 12
  - 3. 16
  - 4. 14

Question ID : 6009293703

Status : Answered

Chosen Option : 2

Q.14 A और B मिलकर किसी कार्य को 16 दिनों में पूरा कर सकते हैं। उन्होंने एकसाथ कार्य शुरू किया और 4 दिनों के बाद A कार्य छोड़ देता है, B को शेष कार्य को पूरा करने में 24 दिन लगते हैं। B द्वारा अकेले कार्य करने पर, उसे कार्य पूरा करने में कितने दिनों का समय लगेगा?

- Ans
- 1. 34 दिन
  - 2. 30 दिन
  - 3. 24 दिन
  - 4. 32 दिन

Question ID : 6009293711

Status : Not Answered

Chosen Option : --



+91-9205524028

ixamBee

Prepare 50% Faster



ixamBee.com

Q.15 एक टंकी आम तौर पर 4 घंटे में भर जाती है। परंतु जब टंकी के निचले भाग पर रिसाव होता है तो इसे भरने में 5 घंटे लगते हैं।

यदि टंकी भरी हुई है, तो यह रिसाव द्वारा कितने घंटों में खाली हो सकती है?

- Ans
- 1. 12
  - 2. 15
  - 3. 10
  - 4. 20

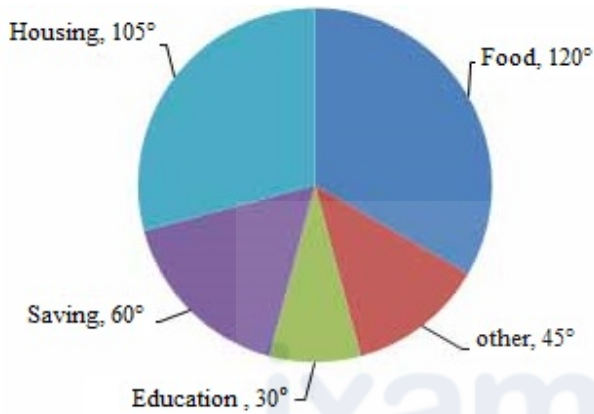
Question ID : 6009293698

Status : Answered

Chosen Option : 4

Q.16 The pie chart given here shows expenditures incurred by a family on various items and their savings, which amount to Rs. 8,000 in a month.

Study the chart and answer the question based on the pie chart.



How much more amount is spent on food than on housing?

- Ans
- 1. Rs. 1,000
  - 2. Rs. 2,000
  - 3. Rs. 2,500
  - 4. Rs. 3,000

Question ID : 6009293705

Status : Not Answered

Chosen Option : --

Q.17 राम का वेतन, श्याम के वेतन से 20 प्रतिशत अधिक है। श्याम का वेतन, राम के वेतन से कितने प्रतिशत कम है?

- Ans
- 1. 16.66
  - 2. 20.10
  - 3. 19.25
  - 4. 18.75

Question ID : 6009293712

Status : Answered

Chosen Option : 1



+91-9205524028

ixamBee

Prepare 50% Faster



ixamBee.com

Q.18 एक व्यापारी ने अपनी वस्तुओं का 5/6 भाग 30 प्रतिशत लाभ पर बेचा और शेष को क्रय मूल्य पर बेचा। उसका समग्र लाभ प्रतिशत क्या है ?

- Ans
- 1. 22.5 प्रतिशत
  - 2. 25 प्रतिशत
  - 3. 27.27 प्रतिशत
  - 4. 30 प्रतिशत

Question ID : 6009293701  
Status : Answered  
Chosen Option : 2

Q.19 पहली 9 अभाज्य संख्याओं का औसत क्या है?

- Ans
- 1. 10.1
  - 2. 11.11
  - 3. 10.77
  - 4. 11.33

Question ID : 6009293708  
Status : Not Answered  
Chosen Option : --

Q.20 A, B तथा C एक साझेदारी शुरू करते हैं। वे क्रमशः 45000 रुपये, 36000 रुपये, 54000 रुपये निवेश करते हैं। वे क्रमशः 4 वर्ष, 3 वर्ष तथा 2 वर्ष तक साझेदारी में रहते हैं। यदि लाभ में B का हिस्सा 1800 रुपये है, तो कुल लाभ कितना है?

- Ans
- 1. 6600 रुपये
  - 2. 6000 रुपये
  - 3. 7000 रुपये
  - 4. 7200 रुपये

Question ID : 6009293709  
Status : Answered  
Chosen Option : 1

Section : Reasoning Logical aptitude

Q.1 किसी निश्चित कूट भाषा में, "ADMONISH" को "DAOMINHS" के रूप में लिखा जाता है, तो उसी कूट भाषा में, "REPEATED" को किस प्रकार लिखा जाएगा?

- Ans
- 1. ERPETADE
  - 2. EREPTADE
  - 3. EDATEPRE
  - 4. REEPTADE

Question ID : 6009293716  
Status : Answered  
Chosen Option : 2



+91-9205524028

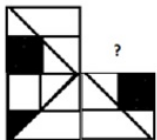
ixamBee

Prepare 50% Faster

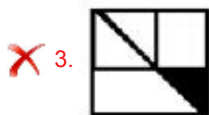
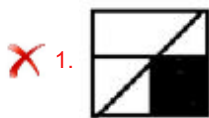


ixamBee.com

Q.2 वह विकल्प चुनें जो दी गई आकृति में प्रश्नवाचक चिह्न (?) को प्रतिस्थापित कर के प्रतिरूप (पैटर्न) को पूरा कर सकता है (आकृति को घुमाना नहीं है)।



Ans



Question ID : 6009293727

Status : Answered

Chosen Option : 4

Q.3 Three statements are followed by four conclusions numbered I, II, III and IV. You have to consider these statements to be true, even if they seem at variance from commonly known facts. Decide which of the given conclusions logically follow(s) from the given statements.

Statements:

1. All peacocks are ducks.
2. No duck is a kite.
3. All fowls are kites.

Conclusions:

- I. Some fowls are peacocks.
- II. No kite is a peacock.
- III. No peacock is a fowl.
- IV. Some kites are peacocks.

Ans ✗ 1. Only conclusions I, II and IV follow

✗ 2. Only conclusions I and II follow

✓ 3. Only conclusions II and III follow

✗ 4. Only conclusions I and IV follow

Question ID : 6009293731

Status : Answered

Chosen Option : 3



+91-9205524028

ixamBee

Prepare 50% Faster



ixamBee.com

Q.4 यदि BARK को 2-1-18-11 के रूप में कूटबद्ध किया गया है, तो WEAP को किस रूप में कूटबद्ध किया जाएगा?

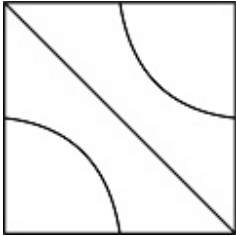
- Ans
- ✓ 1. 23-5-1-16
  - ✗ 2. 22-4-1-15
  - ✗ 3. 21-7-1-18
  - ✗ 4. 24-6-2-17

Question ID : 6009293722

Status : Answered

Chosen Option : 1

Q.5 दी गई उत्तर आकृतियों में से, उस आकृति का चयन करें जिसमें प्रश्न आकृति छिपी/सन्निहित है।



Ans

- ✓ 1.
- ✗ 2.
- ✗ 3.
- ✗ 4.

Question ID : 6009293724

Status : Answered

Chosen Option : 1



+91-9205524028

ixamBee™

Prepare 50% Faster



ixamBee.com

Q.6 निम्नलिखित प्रश्न में दिए गए विकल्पों में से प्रश्न चिन्ह (?) के स्थान पर आने वाली संख्या को चुनिए।

16	4	60
9	5	42
16	?	240

- Ans
- 1. 52
  - 2. 18
  - 3. 5
  - 4. 64

Question ID : 6009293726

Status : Answered

Chosen Option : 4

Q.7 निम्नलिखित संख्या श्रृंखला में लुप्त संख्या ज्ञात करें:

22.5, \_\_\_\_\_, 26.5, 30, 34.5

- Ans
- 1. 23.5
  - 2. 24.5
  - 3. 24
  - 4. 27

Question ID : 6009293719

Status : Answered

Chosen Option : 3

Q.8 In the following question below are given some statements followed by some conclusions based on those statements. Taking the given statements to be true even if they seem to be at variance from commonly known facts. Read all the conclusions and then decide which of the given conclusion logically follows the given statements.

Statements:

- I. All K are R.
- II. Some R are F.

Conclusions:

- I. Some F are K.
- II. Some R are not K.

- Ans
- 1. Neither conclusion follows
  - 2. Only conclusion II follows
  - 3. Both conclusion I and II follows
  - 4. Only conclusion I follows

Question ID : 6009293718

Status : Answered

Chosen Option : 1



+91-9205524028

ixamBee™

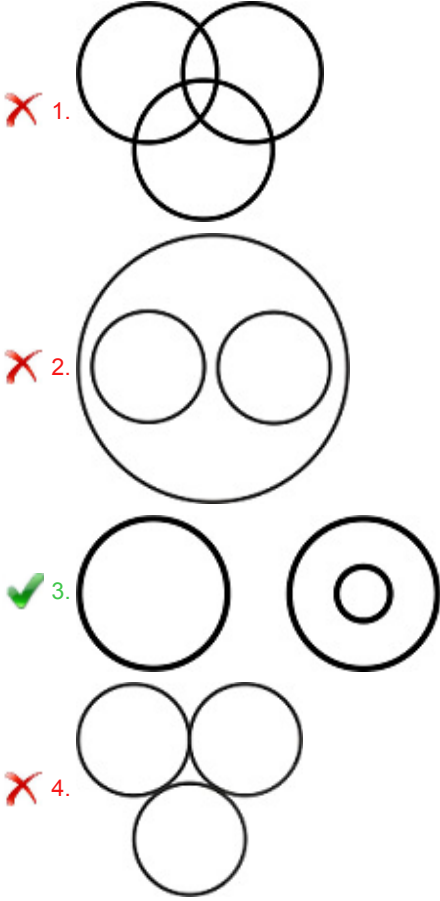
Prepare 50% Faster



ixamBee.com

Q.9 निम्नलिखित में से कौन सा वेन आरेख पक्षियों, पशुओं और कौओं के बीच के संबंध का सर्वश्रेष्ठ निरूपण करता है?

Ans



Question ID : 6009293717

Status : Answered

Chosen Option : 3

Q.10 8 टायरों L, M, N, O, P, Q, R तथा S की मोटाई की तुलना की गयी है। कोई भी दो टायरों की मोटाई समान नहीं है। N की मोटाई L से अधिक है लेकिन 6 टायरों से कम है। O की मोटाई M से अधिक है लेकिन Q से कम है। P की मोटाई केवल दो टायरों से कम है। Q की मोटाई P से अधिक नहीं है। निम्नलिखित में से कौन सा कथन सही नहीं है?

- Ans
- ✗ 1. यदि P की मोटाई 108 सेमी है, तो R तथा S की मोटाई का योग 219 सेमी हो सकता है
- ✗ 2. O की मोटाई P से कम है
- ✓ 3. R की मोटाई S से कम है
- ✗ 4.  $L < N < M < O < Q < P < S < R$  उनकी मोटाई का सही अनुक्रम हो सकता है

Question ID : 6009293732

Status : Answered

Chosen Option : 3



+91-9205524028

ixamBee™

Prepare 50% Faster



ixamBee.com



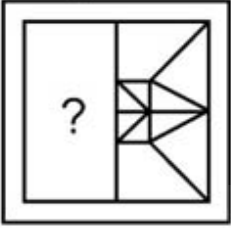
Q.11 छह व्यक्ति A, B, C, D, E और F एक गोल मेज के परितः बैठे हैं जो कि मेज के केंद्र की ओर अभिमुख हैं लेकिन जरूरी नहीं है कि इसी क्रम में हों।  
B, E के सामने बैठा है और A, F के सामने बैठा है। A और C में से कोई भी B के समीप नहीं बैठा है। यदि A, D के निकट दाईं ओर बैठा है, तो A से शुरू होकर दक्षिणावर्त दिशा में ये छह व्यक्ति किस क्रम में बैठे हैं?

- Ans
- ✓ 1. ADBFCE
  - ✗ 2. ADFCBE
  - ✗ 3. ADFBCE
  - ✗ 4. ADBCFE

Question ID : 6009293729  
Status : Answered  
Chosen Option : 1

Q.12 कौन-सी उत्तर आकृति प्रश्न आकृति के पैटर्न को पूरा करेगी?

प्रश्न आकृति:



Ans

- ✗ 1.
- ✗ 2.
- ✗ 3.
- ✓ 4.

Question ID : 6009293725  
Status : Answered  
Chosen Option : 4



+91-9205524028

ixamBee™

Prepare 50% Faster



ixamBee.com

Q.13 उस विकल्प का चयन करें जो तीसरे पद से उसी प्रकार से संबंधित है जिस प्रकार से दूसरा पद पहले पद से संबंधित है।

ACT : BFY :: BAD : ?

- Ans
- 1. ICD
  - 2. DCI
  - 3. CID
  - 4. CDI

Question ID : 6009293721  
Status : Answered  
Chosen Option : 4

Q.14 नीचे दिए गए समीकरण को गणितीय रूप से सही बनाने के लिए किन दो चिन्हों को परस्पर बदलना चाहिए?  
 $9 \div 3 + 6 - 6 \times 2 = 30$

- Ans
- 1.  $\div$  और  $-$
  - 2.  $\times$  और  $\div$
  - 3.  $\times$  और  $+$
  - 4.  $+$  और  $\div$

Question ID : 6009293730  
Status : Answered  
Chosen Option : 2

Q.15 फोटो में एक महिला की ओर संकेत करते हुए एक व्यक्ति ने कहा, "वह मेरी दादी के एकमात्र पुत्र की पुत्री है।"  
उस महिला का उस व्यक्ति से क्या संबंध है?

- Ans
- 1. साली
  - 2. पुत्री
  - 3. बहन
  - 4. माँ

Question ID : 6009293715  
Status : Answered  
Chosen Option : 3



+91-9205524028

ixamBee

Prepare 50% Faster



ixamBee.com



Q.17 Two statements are given followed by four conclusions I, II, III and IV. You have to consider these statements to be true, even if they seem at variance from commonly known facts. Decide which of the given conclusions logically follow(s) from the given statements.

Statements:

- A. Some spoons are forks.
- B. Some forks are mats.

Conclusions:

- I. No spoon is a mat.
- II. Some mats are forks.
- III. Some mats are spoons.
- IV. No fork is a spoon.

Ans  1. Only either conclusion I and IV follows.

2. Only conclusions I and III follow

3. Only conclusion II and either conclusion I or III follow.

4. Only conclusions II and IV follow

Question ID : 6009293733

Status : Answered

Chosen Option : 3

Q.18 Venu, Sonia, Kamal, Ria and Aish are sitting on a bench. Sonia is sitting to the right of Kamal, who is not sitting at extreme end of the bench. Ria is sitting in between Sonia and Venu. Aish is sitting at extreme left. Who is to the right of Ria?

Ans  1. Aish

2. Venu

3. Sonia

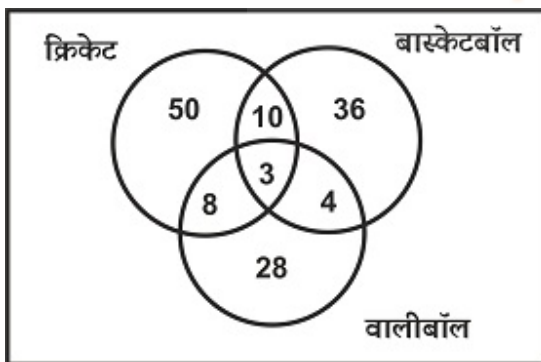
4. Kamal

Question ID : 6009293728

Status : Answered

Chosen Option : 2

Q.19 दिया गया वेन आरेख उन छात्रों की संख्या को दर्शाता है जो क्रिकेट, बास्केटबॉल और वालीबॉल खेल सकते हैं। कितने छात्र क्रिकेट और बास्केटबॉल दोनों खेल सकते हैं परंतु वालीबॉल नहीं खेल सकते?



Ans  1. 12

2. 10

3. 11

4. 8

Question ID : 6009293723

Status : Answered

Chosen Option : 2



+91-9205524028

ixamBee

Prepare 50% Faster



ixamBee.com

Q.20 निम्नलिखित श्रृंखला को पूरा करें।

7D, 15H, 23L, \_\_\_\_\_

- Ans
- 1. 31Q
  - 2. 29P
  - 3. 31P
  - 4. 33Q

Question ID : 6009293720  
Status : Answered  
Chosen Option : 3

Section : English

Q.1 Select the most appropriate option to substitute the underlined segment in the given sentence. If there is no need to substitute it, select 'No improvement'.

Books costing money and requiring the user to read them for the idea to spread.

- Ans
- 1. No improvement
  - 2. cost money and requiring
  - 3. costing money and require
  - 4. cost money and require

Question ID : 6009293742  
Status : Not Answered  
Chosen Option : --

Q.2 Choose the word that means the same as the given word.

Fatigue

- Ans
- 1. Fresh
  - 2. Tiredness
  - 3. Stable
  - 4. Clumsy

Question ID : 6009293746  
Status : Answered  
Chosen Option : 2

Q.3 Out of all the alternatives given, select the word which closely fits the given idiom/phrase.

Barking up the wrong tree

- Ans
- 1. To blame someone unfairly for a problem.
  - 2. To ignore someone.
  - 3. To be mistaken, to be looking for solutions in the wrong place.
  - 4. Being treated the same unpleasant way you have treated others.

Question ID : 6009293748  
Status : Answered  
Chosen Option : 3



+91-9205524028

ixamBee  
Prepare 50% Faster



ixamBee.com

Q.4 Which of the following is correctly spelt?

- Ans
- 1. Reciprocity
  - 2. Reciprosity
  - 3. Reciprosity
  - 4. Riceprocity

Question ID : 6009293751  
Status : Answered  
Chosen Option : 1

Q.5 Select the word which means the same as the group of words given.

An official pardon for people who have been convicted of political offences.

- Ans
- 1. Exoneration
  - 2. Liberation
  - 3. Immunity
  - 4. Amnesty

Question ID : 6009293754  
Status : Answered  
Chosen Option : 4

Q.6 A sentence has been given with a blank to be filled with an appropriate word. Choose the correct alternative.

Your brother is \_\_\_\_\_ intelligent than your father.

- Ans
- 1. most
  - 2. many
  - 3. much
  - 4. more

Question ID : 6009293747  
Status : Answered  
Chosen Option : 4

Q.7 In the following question, some parts of the sentence may have errors. Select the option that has the error. If the sentence has no error then select 'No Error'.

In the ancient world, theories of the origin of Earth and the objects see in the sky were certainly much less constrained.

- Ans
- 1. of Earth and the objects see in the sky
  - 2. In the ancient world, theories of the origin
  - 3. were certainly much less constrained.
  - 4. No Error

Question ID : 6009293736  
Status : Answered  
Chosen Option : 3



+91-9205524028

ixamBee  
Prepare 50% Faster



ixamBee.com

Q.8 Identify the segment in the sentence which contains a grammatical error.

It is often said that the way to the man heart is through his stomach.

- Ans
- 1. the man heart
  - 2. It is often said
  - 3. that the way to
  - 4. is through his stomach.

Question ID : 6009293738  
Status : Answered  
Chosen Option : 2

Q.9 Identify the segment of the sentence which contains a grammatical error.

Shall her flight get cancelled, your mother says she will send you a message.

- Ans
- 1. Shall her flight
  - 2. she will send you a message.
  - 3. your mother says
  - 4. get cancelled,

Question ID : 6009293739  
Status : Answered  
Chosen Option : 3

Q.10 In the following question, some parts of the sentence may have errors. Select the option that has the error. If the sentence has no error then select 'No Error'.

Fewer than one percent of the earth's water is unsalted and available for human consumption.

- Ans
- 1. for human consumption.
  - 2. No Error
  - 3. earth's water is unsalted and available
  - 4. Fewer than one percent of the

Question ID : 6009293737  
Status : Answered  
Chosen Option : 3

Q.11 Select the most appropriate option to fill in the blank.

The problem, at least for those holidaying in Gibraltar, is that neither of these hotels \_\_\_\_\_ a beach.

- Ans
- 1. having
  - 2. have
  - 3. has
  - 4. had

Question ID : 6009293745  
Status : Answered  
Chosen Option : 2



+91-9205524028

ixamBee  
Prepare 50% Faster



ixamBee.com

Q.12 Given below are four parts of a sentence which are jumbled. Pick the option that gives their correct order to make a grammatically correct, meaningful sentence.

- A. students were expected
- B. studied in earlier classes
- C. having reached higher classes
- D. to know the formulas and principles

- Ans
- 1. CDAB
  - 2. CADB
  - 3. ACDB
  - 4. ADBC

Question ID : 6009293743  
Status : Answered  
Chosen Option : 4

Q.13 Select the most appropriate option to substitute the underlined segment in the given sentence. If there is no need to substitute it, select 'No improvement'.

He was one of most respected generals because of his care for the men and his record as a fighter.

- Ans
- 1. the most respect generals
  - 2. most respected general
  - 3. No improvement
  - 4. the most respected generals

Question ID : 6009293740  
Status : Answered  
Chosen Option : 1

Q.14 Select the word which means the same as the group of words given.

The ability to make good judgements and take quick decisions.

- Ans
- 1. Ineptness
  - 2. Intuition
  - 3. Perception
  - 4. Acumen

Question ID : 6009293749  
Status : Answered  
Chosen Option : 4

Q.15 Identify the segment of the sentence which contains a grammatical error.

Startled, he looked around to locate the source of the sharp sound, but would not be finding any.

- Ans
- 1. but would not be finding any.
  - 2. Startled, he looked around
  - 3. to locate the source
  - 4. of the sharp sound,

Question ID : 6009293735  
Status : Answered  
Chosen Option : 1



+91-9205524028

ixamBee  
Prepare 50% Faster



ixamBee.com



Q.16 Arrange the jumbled sentences to make a meaningful paragraph.

- A. Half the world's population is now under lockdown orders.
- B. As more information about the virus has become available, public advisories have also shape shifted accordingly.
- C. It is to help fight the Covid-19 contagion that has picked up fearful pace through the month of March.
- D. One such evolution has taken place on the question of masks.

- Ans
- 1. ACDB
  - 2. ABCD
  - 3. ADBC
  - 4. ACBD

Question ID : 6009293744  
Status : Answered  
Chosen Option : 4

Q.17 Out of all the alternatives given, select the option which closely fits the given idiom/phrase.

**Bite off more than you can chew**

- Ans
- 1. To take on a project that you cannot finish.
  - 2. Taking credit for someone else achievements.
  - 3. Being treated the same unpleasant way you have treated others.
  - 4. Something considered too insignificant to create an impact.

Question ID : 6009293750  
Status : Answered  
Chosen Option : 1

Q.18 Select the incorrectly spelt word.

- Ans
- 1. Preseint
  - 2. Diminutive
  - 3. Tectonic
  - 4. Spectacular

Question ID : 6009293753  
Status : Answered  
Chosen Option : 2

Q.19 Select the most appropriate option to substitute the underlined segment in the given sentence. If there is no need to substitute it, select 'No improvement'.

Undercover officers were sent to gather information, and they gave evidence in court from behind screens to protect their identities.

- Ans
- 1. to protecting their identities.
  - 2. No improvement
  - 3. for protecting his identities.
  - 4. in protecting their identity.

Question ID : 6009293741  
Status : Answered  
Chosen Option : 2



+91-9205524028

ixamBee  
Prepare 50% Faster



ixamBee.com

Q.20 Select the word which means the same as the group of words given.

A husband's (or wife's) provision for a spouse after separation or divorce; maintenance.

- Ans
- 1. Patrimony
  - 2. Remittance
  - 3. Provision
  - 4. Alimony

Question ID : 6009293752

Status : Answered

Chosen Option : 4



≡ Prepare 50% Faster



+91-9205524028



≡ Prepare 50% Faster



ixamBee.com

# पिछले वर्षों के प्रश्न पत्र

## टियर - I

# IB ACIO Gr-II

# All the Best



+91-9205524028

