

पिछले वर्षों के प्रश्न पत्र



टियर - I

**IB ACIO Gr-II**

18 फ़रवरी 2021 | पाली - 3

## ACIO Grade II Executive 18th Feb 2021

Participant ID	
Participant Name	
Test Center Name	
Test Date	18/02/2021
Test Time :	3:00 PM - 4:00 PM
Subject	ACIO Grade II (Executive)

### Section : General awareness Current Affairs

Q.1 "मार्टर कासिम सुलेमानी" के नाम पर रखी गई मिसाइल के बारे में गलत कथन चुनें।

- Ans
- 1. यह मिसाइल ईरान और रूस द्वारा संयुक्त रूप से तैयार की गई है
  - 2. यह मिसाइल ईरान की है
  - 3. यह सतह से सतह पर मार करने वाली मिसाइल है
  - 4. इस मिसाइल की रेंज 1400 किलोमीटर है

Question ID : 59445929206

Status : Answered

Chosen Option : 2

Q.2 पंजाब में एशिया के पहले 'कंटीन्यूअस गैल्वेनाइज्ड रेबार प्रोडक्शन फैसिलिटी (continuous Galvanized Rebar Production Facility)' का उद्घाटन किसने किया है?

- Ans
- 1. नरेंद्र सिंह तोमर
  - 2. नितिन गडकरी
  - 3. महेंद्र नाथ पांडेय
  - 4. धर्मेंद्र प्रधान

Question ID : 59445929204

Status : Answered

Chosen Option : 2



Q.3 फ्लाइट लेफ्टिनेंट भावना कंठ के संबंध में निम्नलिखित में से कौन सा / से कथन सत्य है / हैं?

1. भावना कंठ गणतंत्र दिवस की परेड में हिस्सा लेने वाली प्रथम महिला फाइटर पायलट हैं।
2. वह मिग-21 बाइसन लड़ाकू विमान उड़ाती है।
3. वह भारतीय वायुसेना में फाइटर पायलट के रूप में कमीशन प्राप्त करने वाली पहली तीन महिलाओं में से एक बन गई हैं।

नीचे दिए गए कोड (code) का उपयोग करके सही उत्तर चुनिए।

- Ans
- 1. उपर्युक्त में से कोई नहीं
  - 2. 1, 2 और 3 सभी
  - 3. केवल 2 और 3
  - 4. केवल 1 और 2

Question ID : 59445929212

Status : Answered

Chosen Option : 4

Q.4 लीलावती पुरस्कारों के संदर्भ में निम्नलिखित में से कौन सा / से कथन सत्य है / हैं।

1. लीलावती पुरस्कारों का शुभारंभ राष्ट्रीय अध्यापक शिक्षा परिषद (NCTE) ने किया था।
2. यह पुरस्कार महिला स्वास्थ्य, साक्षरता, कानूनी जागरूकता, आत्म-रक्षा, और स्वच्छता जैसे उप-विषयों में दिया जाएगा।

नीचे दिए गए कोड (code) का उपयोग करके सही उत्तर चुनिए।

- Ans
- 1. न तो 1 और न ही 2
  - 2. 1 और 2 दोनों
  - 3. केवल 1
  - 4. केवल 2

Question ID : 59445929211

Status : Not Answered

Chosen Option : --



Q.5 भारत सरकार (GoI) ने एक पी.एम. वाणी (P.M. WANI) योजना को मंजूरी दी है। इस योजना का उद्देश्य:

1. देश में वायरलेस इंटरनेट कनेक्टिविटी (connectivity) को बढ़ाना है।
2. कई तत्वों जैसे कि - पब्लिक डेटा ऑफिस (PDO), पब्लिक डेटा ऑफिस समूहकों (Aggregators) और ऐप प्रदाताओं आदि को शामिल करते हुए पूरी रूपरेखा तैयार करना है।

नीचे दिए गए कोड (code) का उपयोग करके सही उत्तर चुनिए।

- Ans
- 1. 1 और 2 दोनों
  - 2. केवल 2
  - 3. केवल 1
  - 4. न तो 1 और न ही 2

Question ID : 59445929215  
Status : Answered  
Chosen Option : 1

Q.6 शोभा डे द्वारा लिखित पुस्तक 'लॉकडाउन लाइजन्स' के प्रकाशक कौन हैं?

- Ans
- 1. हार्पर कॉलिन्स
  - 2. जैको पब्लिशिंग हाउस
  - 3. अरिहंत बुक्स
  - 4. साइमन एंड शूस्टर

Question ID : 59445929207  
Status : Not Answered  
Chosen Option : --



Q.7 अगस्त 2020 में, केंद्रीय मंत्री नितिन गडकरी ने राष्ट्रीय राजमार्गों पर वृक्षारोपण की निगरानी के लिए \_\_\_\_\_ नामक एक मोबाइल ऐप लॉन्च किया है।

- Ans
- 1. हमारा रास्ता
  - 2. पथ संग
  - 3. हरा पथ
  - 4. हरित पथ

Question ID : 59445929203  
Status : Answered  
Chosen Option : 4

Q.8 जुलाई 2020 में गुडनी जोहानसन, किस देश के राष्ट्रपति के रूप में पुनः निर्वाचित हुए हैं?

- Ans
- 1. फिनलैंड
  - 2. आइसलैंड
  - 3. पोलैंड
  - 4. आयरलैंड

Question ID : 59445929208  
Status : Not Answered  
Chosen Option : --

Q.9 जून 2020 में हरियाणा में रु \_\_\_\_\_ करोड़ की आर्थिक गलियारा परियोजनाओं का उद्घाटन किया गया है।

- Ans
- 1. 20,000
  - 2. 25,000
  - 3. 30,000
  - 4. 15,000

Question ID : 59445929209  
Status : Not Answered  
Chosen Option : --



Q.10 15 जनवरी 2021 को, भारत सरकार ने प्रधानमंत्री कौशल विकास योजना के तीसरे चरण का शुभारंभ किया। इस चरण के संबंध में निम्नलिखित में से कौन सा/से बिंदु ग़लत है/हैं?

1. यह योजना भारत में सभी राज्यों के 600 ज़िलों में शुरू की गई है।
2. इस योजना के अंतर्गत योजना अवधि 2020-2021 में 1 करोड़ भारतीय युवाओं को प्रशिक्षित करने का लक्ष्य रखा गया है जिस पर रु. 120 मिलियन का खर्च आएगा।
3. तीसरे चरण का नेतृत्व कौशल विकास एवं उद्यमिता मंत्रालय (MSDE) द्वारा किया गया।
4. लगभग 729 प्रधानमंत्री कौशल केंद्रों ने गैर-पी.एम.के.के.(PMKK) प्रशिक्षण केंद्रों और 200 से अधिक आई.टी.आई. को पैनलबद्ध किया है जो इस चरण के अंतर्गत प्रशिक्षण प्रदान करेंगे।

नीचे दिए गए कूट का प्रयोग करके सही उत्तर का चयन कीजिए।

- (A) केवल 1  
(B) केवल 2  
(C) 3 और 4  
(D) केवल 4

Ans  1. D  
 2. B  
 3. C  
 4. A



Question ID : 59445929219

Status : Answered

Chosen Option : 4



Q.11 कैलिफोर्निया स्थित उपग्रह प्रक्षेपण कंपनी वर्जिन ऑर्बिट ने हाल ही में 17 जनवरी 2021 को, अपना लांचर वन रॉकेट, कक्षा (ऑर्बिट) में प्रक्षेपित किया। इस रॉकेट के संबंध में निम्नलिखित में से कौन सा/से कथन सही हैं?

1. यह उपग्रहों को सूर्य समतुल्यकालिक कक्षा में स्थापित करता है।
2. यह पहला सम्पूर्ण तरल ईंधन वायु प्रक्षेपित कक्षीय रॉकेट है।
3. यह 500-600 kg तक के पे-लोड को 310-मील (500 km) की ऊंचाई वाली ध्रुवीय कक्षा तक ले जाने में सक्षम है।

नीचे दिए गए कोड का उपयोग करते हुए, सही उत्तर चुनें।

- (A) केवल 1  
(B) केवल 2  
(C) 1 और 2 दोनों  
(D) 2 और 3 दोनों

Ans  1. C  
 2. A  
 3. B  
 4. D

ixamBee

Question ID : 59445929214

Status : Not Answered

Chosen Option : --

Prepare 50% Faster



Q.12 जून 2020 में, भारत को यू.एन.एस.सी. (UNSC) के अस्थायी सदस्य के रूप में दो वर्षों का कार्यकाल का अवसर मिला है। नीचे दिए गए कथनों पर विचार कीजिए।

1. भारत ने सुरक्षा परिषद की पाँच अस्थायी सीटों के लिए हुए चुनाव में कुल 192 वोटों में से 184 वोट प्राप्त किए।
2. भारत को अस्थायी यू.एन.एस.सी. (UNSC) सदस्य के रूप में 5 वें कार्यकाल के लिए चुना।

नीचे दिए गए कोड (code) का उपयोग करके सही उत्तर चुनिए।

- Ans
- 1. न तो 1 और न ही 2
  - 2. केवल 2
  - 3. 1 और 2 दोनों
  - 4. केवल 1

ixamBee

Question ID : 59445929217  
Status : Answered  
Chosen Option : 3

Q.13 डच लेखक मैरीके लुकास ने अपनी पुस्तक \_\_\_\_\_ के लिए अंतर्राष्ट्रीय बुकर पुरस्कार 2020 जीता है।

- Ans
- 1. द कंफर्ट ऑफ इवनिंग
  - 2. द विंड ऑफ इवनिंग
  - 3. द डिस्कंफर्ट ऑफ इवनिंग
  - 4. द ब्यूटीफुल इवनिंग

Question ID : 59445929201  
Status : Not Answered  
Chosen Option : --





Q.14 सहकार प्रज्ञा कार्यक्रम पहल के संबंध में दिए गए कथनों पर विचार कीजिए।

1. यह राष्ट्रीय सहकारी विकास निगम (NCDC) द्वारा आरंभ किया गया एक कार्यक्रम है।
2. यह अग्र-सक्रिय प्रशासन और समयबद्ध कार्यान्वयन के लिए एक आई.सी.टी. (ICT) आधारित बहु-रूपात्मक (multimodal) प्लेटफॉर्म है, जिसमें केंद्र और राज्य सरकारें सम्मिलित हैं।

नीचे दिए गए कोड (code) का उपयोग करके सही उत्तर चुनिए।

- Ans
- 1. 1 और 2 दोनों
  - 2. न तो 1 और न ही 2
  - 3. केवल 2
  - 4. केवल 1

Question ID : 59445929220  
Status : Not Answered  
Chosen Option : --

Q.15 अम्फान चक्रवात के संदर्भ में दिए गए कथनों पर विचार कीजिए।

1. अम्फान ने भारत-बांग्लादेश सीमा के आसपास के मैंग्रोव क्षेत्र सुंदरवन को प्रभावित किया था।
2. पश्चिम बंगाल के तीन जिले - दक्षिण और उत्तर 24 परगना और पूर्व मिदनापुर - बहुत बुरी तरह से प्रभावित हुए थे।

नीचे दिए गए कोड (code) का उपयोग करके सही उत्तर चुनिए।

- Ans
- 1. 1 और 2 दोनों
  - 2. केवल 2
  - 3. न तो 1 और न ही 2
  - 4. केवल 1

Question ID : 59445929213  
Status : Not Answered  
Chosen Option : --



Q.16 सूची I का सूची II के साथ मिलान कीजिए और सूची के नीचे दिए गए कोड (code) का उपयोग करके सही उत्तर चुनिए।

सूची - 1 (लेखक)		सूची - 2 (पुस्तक)	
A	जेरिको ब्राउन	1	द ट्रेडिशन
B	कॉल्सन व्हाइटहेड	2	हाऊ मच ऑफ दीज हिल्स इज गोल्ड
C	डब्लू कालेब मैकडेनियल	3	द निकेल बाँयज़
D	सी पाम जान्ग	4	'स्वीट टेस्ट ऑफ लिबर्टी': अ हू स्टोरी ऑफ स्लेवरी एंड रेस्टिट्यूशन इन अमेरिका'

कोड (code):

- A) A B C D  
1 3 4 2
- B) A B C D  
2 3 1 4
- C) A B C D  
3 2 1 4
- D) A B C D  
4 3 2 1

- Ans ~~X~~ 1. B  
~~X~~ 2. D  
~~X~~ 3. C  
✓ 4. A

Question ID : 59445929216



Chosen Option : --

Q.17 ग्रंडफॉस एक्यूयोर (Grundfos AQPure) क्या है?

1. एक इनबिल्ट पैकेज्ड ब्लैक (सीवेज) और ग्रे वाटर (किचन एंड बाथ वाटर) ट्रीटमेंट सिस्टम जिसमें एडवांस्ड एनारोबिक-एरोबिक कॉन्फिगरेशन है।
2. अल्ट्रा-फिल्ट्रेशन टेक्नोलॉजी पर आधारित सौर उर्जा आधारित एक जल शोधन संयंत्र (वाटर ट्रीटमेंट प्लांट) है।

नीचे दिए गए कोड (code) का उपयोग करके सही उत्तर चुनिए।

- Ans
- 1. केवल 1
  - 2. केवल 2
  - 3. 1 और 2 दोनों
  - 4. न तो 1 और न ही 2

Question ID : 59445929218

Status : Not Answered

Chosen Option : --

Q.18 जुलाई 2020 में, भारत के 15वें महान्यायवादी (अटॉर्नी जनरल) के रूप में किसे फिर से नियुक्त किया गया है?

- Ans
- 1. के.के. वेणुगोपाल
  - 2. रुपिंदर सिंह सूरी
  - 3. तुषार मेहता
  - 4. जयंत के. सूद

Question ID : 59445929202

Status : Answered

Chosen Option : 1



Q.19 पूर्वी लद्दाख के दक्षिणी श्योक घाटी में दरबुक और श्योक गांवों से गुजरने वाली नई सड़क इनमें से किस हवाई पट्टी को जोड़ती है?

- Ans
- 1. कुशोक बकुला रिम्पोछे हवाई अड्डा
  - 2. दौलत बेग ओल्डी हवाई पट्टी
  - 3. थॉयस एयरबेस
  - 4. न्योमा एडवांस्ड लैंडिंग ग्राउंड

Question ID : 59445929210  
Status : Not Answered  
Chosen Option : --

Q.20 \_\_\_\_\_ की स्टेट ऑफ़ वर्ल्ड पापुलेशन 2020 रिपोर्ट के अनुसार, विश्व भर की लापता महिलाओं में से 45.8 मिलियन अकेले भारत से हैं।

- Ans
- 1. UNFPA
  - 2. UNICEF
  - 3. UNESCO
  - 4. UNDP

Question ID : 59445929205  
Status : Answered  
Chosen Option : 1

Section : General studies



Q.1 किस शहर को 'मिनी हड़प्पा' के नाम से जाना जाता है?

- Ans
- 1. लोथल
  - 2. देसलपुर
  - 3. सोहगौरा
  - 4. कोटदीजी

Question ID : **59445929221**  
Status : **Answered**  
Chosen Option : 1

Q.2 गगनयान मिशन के लिए अंतरिक्ष यात्रियों का प्रशिक्षण कहाँ आयोजित किया जाएगा?

- Ans
- 1. संयुक्त राज्य अमेरिका
  - 2. चीन
  - 3. जर्मनी
  - 4. रूस

Question ID : **59445929228**  
Status : **Answered**  
Chosen Option : 4

Q.3 निम्नलिखित में से कौन सा असम राज्य का शास्त्रीय नृत्य रूप है?

- Ans
- 1. गोटिपुआ
  - 2. रोउफ
  - 3. सत्रीया
  - 4. छऊ

Question ID : **59445929223**  
Status : **Answered**  
Chosen Option : 3



Q.4 मैक्स थियोडोर फेलिक्स वॉन लॉय के संदर्भ में निम्नलिखित कथनों पर विचार करें।

1. वे 1914 में भौतिकी के लिए नोबेल पुरस्कार प्राप्त करने वाले जर्मन वैज्ञानिक थे।
2. उन्होंने एक्स-किरणों के विवर्तन की खोज की थी।
3. उन्होंने एक्स-किरणों की खोज की थी।

उपरोक्त कथनों में से कौन सा/से कथन सही है/हैं?

Ans

- ✓ 1. केवल 1 और 2
- ✗ 2. केवल 2
- ✗ 3. केवल 3
- ✗ 4. केवल 1

Question ID : 59445929233

Status : Not Answered

Chosen Option : --

ixamBee  
Prepare 50% Faster



Q.5 सूची -I का मिलान सूची -II से करें और नीचे दी गई सूचियों के कोड का उपयोग करके सही उत्तर चुनें।

सूची -I (अर्जुन पुरस्कार प्राप्तकर्ता 2020)	सूची -II (खेल)
A. अतानु दास	1. नौकायन
B. सावंत अजय अनंत	2. खो खो
C. काले सारिका सुधाकर	3. तीरंदाजी
D. दत्तू बाबन भोकनाल	4. घुड़सवारी

Ans

- ✓ 1. A-3, B-4, C-2, D-1  
 ✗ 2. A-4, B-2, C-1, D-3  
 ✗ 3. A-2, B-1, C-3, D-4  
 ✗ 4. A-3, B-1, C-2, D-4

Question ID : 59445929234

Status : Not Answered

Chosen Option : --

ixamBee  
 Prepare 50% Faster



**Q.6** अध्यादेशों के संदर्भ में निम्नलिखित कथनों पर विचार करें।

1. भारतीय संविधान का अनुच्छेद 123 राष्ट्रपति को कुछ कानून बनाने की शक्तियां प्रदान करता है, जो संसद के दोनों सदनों के संचालित न होने के समय लागू किए जाते हैं।
2. संसद का सत्र प्रारंभ होने के पश्चात 35 दिनों के अंदर उस अध्यादेश को विधेयक में परिवर्तित किया जाना अनिवार्य होता है, अन्यथा यह रद्द हो जाता है।
3. भारतीय संविधान का अनुच्छेद 213 राज्य की विधायिका का सत्र संचालित न हो रहे होने के दौरान भारत के राज्यपाल को अध्यादेश जारी करने की शक्तियां प्रदान करता है।

उपरोक्त कथनों में से कौन सा/से कथन सही है/हैं?

**Ans**

- 1. केवल 1 और 3
- 2. 1, 2 और 3
- 3. केवल 1 और 2
- 4. केवल 1

ixamBee

Question ID : 59445929240  
Status : Answered  
Chosen Option : 1

**Q.7** निम्नलिखित में से कौन संविधान सभा की व्यापार समिति के व्यवस्थापन के पहले अध्यक्ष थे?

**Ans**

- 1. जवाहरलाल नेहरू
- 2. सच्चिदानन्द सिन्हा
- 3. कन्हैयालाल माणिकलाल मुंशी
- 4. हरेन्द्र कुमार मुखर्जी

Prepare 50% Faster

Question ID : 59445929230  
Status : Answered  
Chosen Option : 4





Q.8 निम्नलिखित में से, शैवाल का उदाहरण \_\_\_\_\_ है।

- Ans  1. डायटम  
 2. राइजोपस  
 3. फ्यूनेरिया  
 4. अमीबा

Question ID : 59445929224  
Status : Answered  
Chosen Option : 1

Q.9 निम्नलिखित में से कौन सा प्राणी जगत का सबसे बड़ा संघ है?

- Ans  1. अर्थ्रोपोडा  
 2. मोलस्का  
 3. टेनोफोरा  
 4. प्लैटीहेल्मिन्थेस

Question ID : 59445929229  
Status : Answered  
Chosen Option : 1

Q.10 वर्ल्ड एथलेटिक्स डोपिंग निरोधक एजेंसी ने किरनजीत कौर को चार साल के लिए प्रतिबंधित कर दिया है। वह किस खेल से संबंधित है?

- Ans  1. लंबी दूरी की दौड़  
 2. भारोत्तोलन  
 3. टेनिस  
 4. निशानेबाजी

Question ID : 59445929225  
Status : Answered  
Chosen Option : 2



**Q.11** सुभाष चंद्र बोस द्वारा 1940 में मुस्लिम लीग पार्टी का समेकन करने के प्रयास के संदर्भ में निम्नलिखित कथनों पर विचार करें।

1. ब्लैक होल में मृत हुए लोगों की स्मृति में 1760 में, जी. हॉलवेल द्वारा कलकत्ता के गवर्नर के रूप में उनके छोटे कार्यकाल के दौरान स्थापित कराए गए हॉलवेल स्मारक को हटाने के लिए आंदोलन किया गया था।
2. हॉलवेल स्मारक, बंगाल के अंतिम नवाब सिराजुद्दौला की क्रूरता और अपना प्राणोत्सर्ग करने वाले ब्रिटिश सैनिकों की वीरता का प्रतीक माना जाता था।

उपरोक्त कथनों में से कौन सा/से कथन सही है/हैं?

Ans

- ✓ 1. 1 और 2 दोनों
- ✗ 2. केवल 2
- ✗ 3. केवल 1
- ✗ 4. न तो 1 और न ही 2

ixamBee

Question ID : 59445929231

Status : Answered

Chosen Option : 3

Prepare 50% Faster



Q.12 ब्रह्मपुत्र नदी के संदर्भ में निम्नलिखित में से कौन सा/से कथन सही है/हैं?

1. इसे तिब्बत में त्संगपो (Tsangpo) और चीन में यारलुंग जांगपो (Yarlung Zangpo) कहा जाता है।
2. चेमायुंगडुंग (Chemayungdung) ग्लेशियर इसका स्रोत है।
3. फरक्का बैराज से यह बांग्लादेश में प्रवाहित होती है जहाँ इसे पद्मा कहा जाता है।

नीचे दिए गए कोड का उपयोग करते हुए सही उत्तर चुनें।

- Ans
- 1. केवल 3
  - 2. केवल 2
  - 3. केवल 1 और 2
  - 4. केवल 1 और 3

Question ID : 59445929235  
Status : Answered  
Chosen Option : 4

Q.13 "वी आर डिसप्लेस्ड" के लेखक कौन हैं?

- Ans
- 1. एलिजाबेथ गिल्बर्ट
  - 2. चित्रा बनर्जी
  - 3. मलाला यूसूफजई
  - 4. बल्ली कौर जसवाल

Question ID : 59445929222  
Status : Answered  
Chosen Option : 3



**Q.14** हरबल्लभ संगीत सम्मेलन के संदर्भ में निम्नलिखित कथनों पर विचार करें।

1. यह विश्व में भारतीय शास्त्रीय संगीत के सबसे प्राचीन समारोहों में से एक है।
2. 130 वर्षों तक इसके सफल आयोजन के पश्चात पर्यटन मंत्रालय द्वारा इसे राष्ट्रीय उत्सव घोषित किया गया है।
3. इसका आयोजन पंजाब के लुधियाना में बाबा हरबल्लभ की समाधि पर किया जाता है।
4. इसे प्रत्येक वर्ष 27 से 30 नवंबर तक आयोजित किया जाता है।

उपरोक्त कथनों में से कौन सा/से कथन सही है/हैं?

Ans

1. केवल 2, 3 और 4
2. केवल 1, 2 और 3
3. केवल 1 और 3
4. केवल 1 और 2

Question ID : 59445929237

Status : Not Answered

Chosen Option : --

**Q.15** बजट 2020 में स्वास्थ्य सेवा क्षेत्र के संदर्भ में निम्नलिखित कथनों पर विचार करें।

1. स्वास्थ्य सेवा के लिए आवंटित कुल राशि में से ₹ 6,400 करोड़ 'प्रधानमंत्री जन आरोग्य योजना' के लिए निर्धारित किए गए थे।
2. इस बजट में, स्वास्थ्य सेवा के लिए ₹ 79,000 करोड़ आवंटित किए गए थे।

उपरोक्त कथनों में से कौन सा/से कथन सही है/हैं?

Ans

1. न तो 1 और न ही 2
2. केवल 2
3. केवल 1
4. 1 और 2 दोनों

Question ID : 59445929232

Status : Not Answered

Chosen Option : --



Q.16 भारत में निम्नलिखित में से कौन सी नदी पश्चिम की ओर बहती है?

- Ans
- 1. गोदावरी
  - 2. महानदी
  - 3. कृष्णा
  - 4. नर्मदा

Question ID : 59445929226

Status : Answered

Chosen Option : 4

Q.17 विश्व मौसम विज्ञान दिवस के संदर्भ में निम्नलिखित कथनों पर विचार करें।

1. यह 23 मार्च को मनाया जाता है क्योंकि 1950 में इसी दिन विश्व मौसम संगठन की स्थापना हुई थी।
2. इस संगठन में 150 सदस्य सम्मिलित हैं।
3. इसका पर्यवेक्षण विश्व मौसम विज्ञान संगठन (WMO) और संयुक्त राष्ट्र द्वारा किया जाता है।
4. 2020 में विश्व मौसम विज्ञान दिवस की थीम 'जलवायु और जल' थी।

उपरोक्त कथनों में से कौन सा/से कथन सही है/हैं?

- Ans
- 1. केवल 1, 3 और 4
  - 2. केवल 1 और 2
  - 3. केवल 1 और 3
  - 4. केवल 1, 2 और 3

Question ID : 59445929238

Status : Answered

Chosen Option : 4



**Q.18** मृदा में फास्फोरस को पादप पोषक तत्व के रूप में जोड़ने, संरक्षित करने और उत्प्रेरित करने के लिए निम्नलिखित में से किन जैव उर्वरकों का उपयोग किया जाता है?

1. एज़ोस्फिरिलम (Azospirillum)
2. माइकोराइजल फंफूँद (Mycorrhizal fungi)
3. एज़ोटोबैक्टर (Azotobacter)

नीचे दिए गए कोड का उपयोग करते हुए सही उत्तर चुनें।

- Ans
- 1. केवल 1 और 2
  - 2. केवल 2 और 3
  - 3. केवल 1
  - 4. केवल 2

Question ID : **59445929239**  
Status : **Not Answered**  
Chosen Option : --

ixamBee  
Prepare 50% Faster



Q.19 सूची -I का मिलान सूची -II से करें और नीचे दी गई सूचियों के कोड का उपयोग करके सही उत्तर चुनें।

सूची-I (नवपाषाणकालीन स्थल)	सूची-II (इन नवपाषाणकालीन स्थलों के स्थान)
A. उत्तनूर	1. तमिलनाडु
B. चिरांद	2. कश्मीर
C. गुफकराल	3. तेलंगाना
D. पड़यमपल्ली	4. बिहार

- Ans
- 1. A-4, B-2, C-1, D-3
  - 2. A-3, B-1, C-4, D-2
  - 3. A-3, B-4, C-2, D-1
  - 4. A-2, B-1, C-3, D-4

Question ID : 59445929236  
Status : Not Answered  
Chosen Option : --

Q.20 ओरिएंटल बैंक ऑफ कॉमर्स और यूनाइटेड बैंक ऑफ इंडिया विलय निम्नलिखित में से किस बैंक के साथ हुआ है?

- Ans
- 1. इंडियन बैंक
  - 2. यूनियन बैंक ऑफ इंडिया
  - 3. पंजाब नेशनल बैंक
  - 4. केनरा बैंक

Question ID : 59445929227  
Status : Not Answered  
Chosen Option : --

Section : Numerical aptitude



+91-9205524028

ixamBee  
Prepare 50% Faster



ixamBee.com

Q.1 2000 रुपए की धनराशि पर 5% वार्षिक ब्याज दर पर 2 वर्ष का साधारण ब्याज ज्ञात करें।

- Ans
- 1. 500 रुपए
  - 2. 100 रुपए
  - 3. 400 रुपए
  - 4. 200 रुपए

Question ID : 59445929252

Status : Answered

Chosen Option : 4

Q.2 निम्नलिखित में से कौन सा/से कथन सही है/हैं?

I.  $\frac{3}{7} < \frac{5}{9} < \frac{7}{11}$

II.  $\sqrt{6} > \sqrt[3]{12}$

- Ans
- 1. केवल I
  - 2. केवल II
  - 3. I तथा II दोनों
  - 4. न तो और I न ही II



Question ID : 59445929257

Status : Answered

Chosen Option : 3





Q.3 एक समांतर चतुर्भुज की सम्मुख भुजाओं की लंबाई 36 सेमी और 27 सेमी है। यदि छोटी भुजाओं के बीच की लंबवत दूरी 12 सेमी है, तो लंबी भुजाओं के बीच की लंबवत दूरी कितनी है?

- Ans
- 1. 9 सेमी
  - 2. 16 सेमी
  - 3. 12 सेमी
  - 4. 10 सेमी

Question ID : 59445929260  
Status : Answered  
Chosen Option : 1

Q.4 एक प्रतियोगिता में, एक प्रतिभागी ने 30 प्रतिशत अंक प्राप्त किए, लेकिन अगले राउंड में जाने के लिए 30 अंकों से आसफल हो गया। अर्हक (qualifying) अंक से 30 अंक अधिक प्राप्त करने वाले एक अन्य अभ्यर्थी ने 45 प्रतिशत प्राप्त किए। प्रतियोगिता में अर्हक (qualifying) अंक कितने हैं?

- Ans
- 1. 120
  - 2. 200
  - 3. 150
  - 4. 145

Question ID : 59445929254  
Status : Answered  
Chosen Option : 3



**Q.5** A और B, दो मजदूर किसी कार्य को क्रमशः 35 दिन और 45 दिन में पूरा कर सकते हैं। शुरू में, A और B दोनों एक साथ कार्य शुरू करते हैं। हालांकि, A, कुछ दिन के बाद कार्य छोड़ देता है और अकेले B, शेष कार्य को 29 दिन में पूरा करता है। A और B एक साथ कितने दिन तक कार्य करते हैं?

- Ans**
- 1. 7 दिन
  - 2. 5 दिन
  - 3. 9 दिन
  - 4. 6 दिन

Question ID : **59445929241**  
Status : **Answered**  
Chosen Option : 1

**Q.6** 7 लोगों का औसत वजन तब 5 kg बढ़ जाता है जब 55 kg वजन वाले व्यक्ति की जगह पर एक नया व्यक्ति आ जाता है। नए व्यक्ति का वजन कितना है?

- Ans**
- 1. 75kgs
  - 2. 90 kgs
  - 3. 85 kgs
  - 4. 100 kgs

Question ID : **59445929249**  
Status : **Answered**  
Chosen Option : 2



**Q.7** P, Q और R के पास कुल मिलाकर 180 कैंडी हैं। P, Q और R में से प्रत्येक को उतनी ही कैंडी देता है, जितनी कि उनके पास पहले से हैं। इसके बाद, R, Q को उसके आधी संख्या में कैंडी देता है, जितनी Q के पास पहले से है और R, P को भी उससे दोगुनी संख्या में कैंडी देता है, जितनी P के पास पहले से ही हैं। अब उनमें से प्रत्येक के पास समान संख्या में कैंडी हैं। P और R के पास आरंभ में जितनी संख्या में कैंडी थी, उनका क्रमशः अनुपात ज्ञात कीजिए।

- Ans
- 1. 3 : 2
  - 2. 2 : 1
  - 3. 5 : 3
  - 4. 1 : 2

Question ID : 59445929250

Status : **Not Attempted and Marked For Review**

Chosen Option : --

**Q.8** 7 cm की त्रिज्या और 10 cm की ऊंचाई वाले बेलन का आयतन ज्ञात करें। ( $\pi$  का मान 22/7 है)

- Ans
- 1. 1540 cm<sup>3</sup>
  - 2. 1800 cm<sup>3</sup>
  - 3. 1000 cm<sup>3</sup>
  - 4. 512 cm<sup>3</sup>

Question ID : 59445929243

Status : **Answered**

Chosen Option : 1



Q.9 एक लड़की 7500 रुपए में एक साइकिल खरीदी और इसे 25 प्रतिशत की हानि पर बेच दिया। साइकिल का विक्रय मूल्य कितना है?

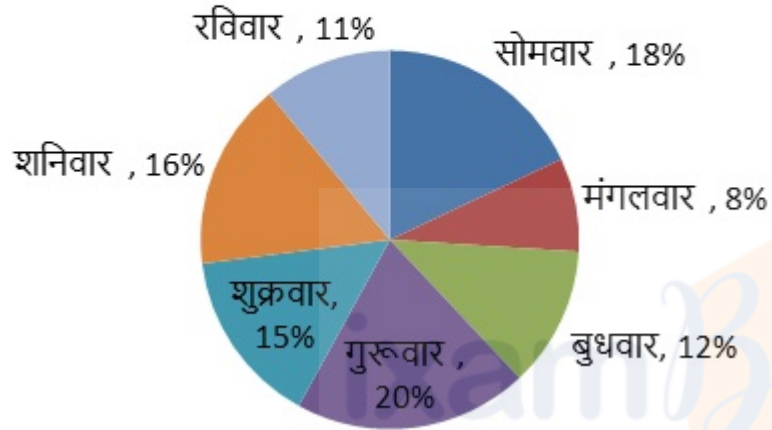
- Ans
- 1. 4895
  - 2. 6300
  - 3. 5755
  - 4. 5625

Question ID : **59445929246**  
Status : **Answered**  
Chosen Option : **4**



Q.10 नीचे दिया गया पाई-चार्ट एक सप्ताह के विभिन्न दिनों में एक दुकानदार द्वारा बेचे गए अण्डों की संख्या के प्रतिशत वितरण को दर्शाता है।

### एक दुकानदार द्वारा बेचे गए अण्डों की संख्या का प्रतिशत वितरण



यदि पूरे सप्ताह में बेचे गये कुल अण्डों की संख्या 1600 है, तो सोमवार को बेचे गये कुल अण्डों की संख्या कितनी होगी?

- Ans
- 1. 312
  - 2. 204
  - 3. 180
  - 4. 288

Question ID : 59445929256

Status : Answered

Chosen Option : 4



Q.11 मोनिका, रितु से दोगुनी कुशल है और एक कार्य को पूरा करने के लिए रितु से 60 दिन कम समय लेती है। वे दोनों एक साथ मिलकर उसी कार्य को कितने दिनों में पूरा कर सकती हैं?

- Ans
- 1. 70 दिन
  - 2. 50 दिन
  - 3. 40 दिन
  - 4. 22 दिन

Question ID : 59445929247  
Status : Answered  
Chosen Option : 3

Q.12 एक त्रिभुज की भुजाएँ 6 cm, 6 cm तथा 8 cm है। इसका क्षेत्रफल कितना है?

- Ans
- 1.  $16\sqrt{5} \text{ cm}^2$
  - 2.  $12\sqrt{5} \text{ cm}^2$
  - 3.  $4\sqrt{5} \text{ cm}^2$
  - 4.  $8\sqrt{5} \text{ cm}^2$

Question ID : 59445929259  
Status : Answered  
Chosen Option : 4



Q.13 निम्न प्रश्न में प्रश्नवाचक चिन्ह (?) के स्थान पर कितना मान आएगा?

$$(9^2 \times 23 + 7^3 \times 8 + ?) \frac{1}{2} = 87$$

Ans  1. 2968

2. -4433

3. -2971

4. 2947

Question ID : 59445929253

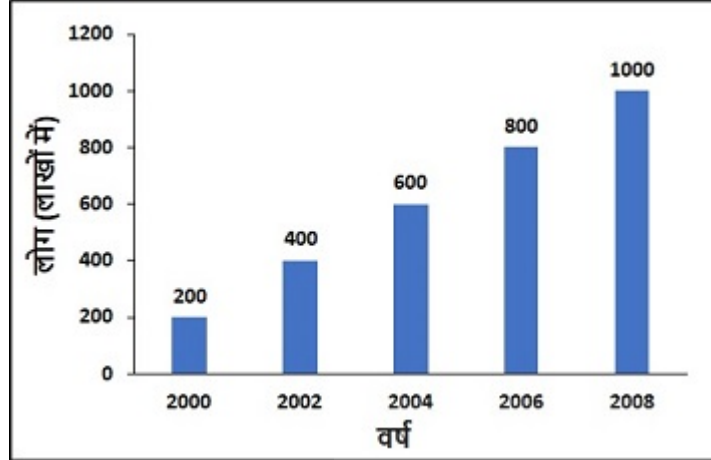
Status : Answered

Chosen Option : 2

ixamBee   
Prepare 50% Faster



Q.14 दिया गया ग्राफ कुछ वर्षों में किसी देश की जनसंख्या (लाखों में) को दर्शाता है। 2006 से 2008 तक जनसंख्या में हुई प्रतिशत वृद्धि की गणना करें।



- Ans
- 1. 30 प्रतिशत
  - 2. 25 प्रतिशत
  - 3. 20 प्रतिशत
  - 4. 15 प्रतिशत

ixamBee

Prepare 50% Faster

Question ID : 59445929242

Status : Answered

Chosen Option : 2





Q.15 दी गई तालिका एक वर्ष में एक परिवार द्वारा खपत किए गए सामानों की मात्रा को दर्शाता है। बाजरे की तुलना में जुआर की खपत कितने प्रतिशत अधिक है?

पण्यों	Kg में खपत
गेहूँ	200
बाजरा	50
चावल	150
जुआर	100

- Ans
- 1. 1 प्रतिशत
  - 2. 100 प्रतिशत
  - 3. 200 प्रतिशत
  - 4. 50 प्रतिशत

ixamBee

Question ID : 59445929248  
Status : Answered  
Chosen Option : 2

Q.16 एक धनराशि को पारस, रमेश और आरव के बीच 5 : 8 : 15 के अनुपात में विभाजित किया जाना है। यदि रमेश और आरव के हिस्से के बीच का अंतर 6000 रुपए हैं, तो कुल राशि ज्ञात करें?

- Ans
- 1. 63995 रुपए
  - 2. 28361 रुपए
  - 3. 52003 रुपए
  - 4. 24000 रुपए

Prepare 50% Faster

Question ID : 59445929251  
Status : Answered  
Chosen Option : 4



Q.17 निम्नलिखित में से कौन सा कथन सही है?

I. यदि मिश्रधन = 26500 रुपये, समय = 5 वर्ष तथा ब्याज की दर = 16.5 प्रतिशत वार्षिक है, तो साधारण ब्याज पर मूलधन 14000 रुपये है।

II. यदि मूलधन = 22000 रुपये, मिश्रधन = 39160 रुपये तथा समय = 6 वर्ष है, तो साधारण ब्याज पर ब्याज की दर 13 प्रतिशत वार्षिक है।

Ans  1. न तो और I न ही II

2. केवल I

3. केवल II

4. I तथा II दोनों

Question ID : 59445929258

Status : Answered

Chosen Option : 3

Q.18 4 अंकों की वह सबसे बड़ी संख्या ज्ञात करें जो 12 से पूर्णतः विभाज्य है।

Ans  1. 9998

2. 9994

3. 9996

4. 9999

Question ID : 59445929255

Status : Answered

Chosen Option : 3



Q.19 एक छात्र ने एक संख्या को 5/7 के बजाय 2/7 से गुणा किया। त्रुटि का प्रतिशत क्या है?

- Ans
- 1. 30 प्रतिशत
  - 2. 54 प्रतिशत
  - 3. 45 प्रतिशत
  - 4. 60 प्रतिशत

Question ID : 59445929245  
Status : Answered  
Chosen Option : 4

Q.20 घर को साफ करने के लिए प्रिया को कितने दिनों की आवश्यकता है, यदि मोना इसे 5 दिनों में कर सकती है और एक साथ मिलकर वे इसे 3 दिनों में पूरा कर सकती हैं।

- Ans
- 1. 7.5 दिन
  - 2. 5.5 दिन
  - 3. 12 दिन
  - 4. 9 दिन

Question ID : 59445929244  
Status : Answered  
Chosen Option : 1

Section : Reasoning Logical aptitude



Q.1 दिए गए विकल्पों में से, तीन एक निश्चित तरीके से समान हैं। हालाँकि, एक विकल्प अन्य तीन की तरह नहीं है। उस विकल्प का चयन करें जो अन्य से अलग है।

- Ans
- 1. 23 → 34 → 49
  - 2. 30 → 41 → 54
  - 3. 47 → 58 → 71
  - 4. 41 → 52 → 65

Question ID : **59445929266**  
Status : **Answered**  
Chosen Option : 1

Q.2 निम्नलिखित संख्या श्रृंखला में गलत संख्या ज्ञात करें:

10, 17, 26, 36, 50

- Ans
- 1. 26
  - 2. 17
  - 3. 50
  - 4. 36

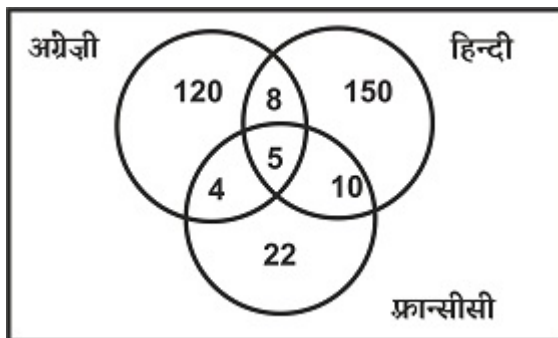


Prepare 50% Faster

Question ID : **59445929265**  
Status : **Answered**  
Chosen Option : 4



Q.3 दिया गया वेन आरेख उन छात्रों की संख्या को दर्शाता है जो अंग्रेजी, हिंदी और फ्रान्सीसी पढ़ सकते हैं। उनमें से कितने फ्रान्सीसी पढ़ सकते हैं?



- Ans
- 1. 38
  - 2. 30
  - 3. 41
  - 4. 39

Question ID : 59445929269

Status : Answered

Chosen Option : 3

Q.4 6 निदेशकमंडल A, B, C, D, E, और F एक दूसरे से समान दूरी पर एक गोल मेज के परितः बैठे हैं, लेकिन जरूरी नहीं है कि इसी क्रम में बैठें हों। B, D के विकर्णीय रूप से सामने हैं, लेकिन F के बाएं हैं, और D ठीक C और E के बीच में है। वामावर्त दिशा में A के से 120 डिग्री पर कौन है?

- Ans
- 1. B
  - 2. E
  - 3. F
  - 4. C

Question ID : 59445929274

Status : Answered

Chosen Option : 3



Q.5 प्रश्न में दो कथन दिए गए हैं, जिसके बाद दो निष्कर्ष I और II दिए गए हैं। आपको उन कथनों को सत्य मानना है, भले ही यह सामान्यतः ज्ञात तथ्य से भिन्न प्रतीत हों। आपको यह बताना है कि दिए गए निष्कर्षों में से कौन सा/से, यदि कोई हों, तो दिए गए कथनों का अनुसरण करता/करते हैं/हैं।

कथन 1: कुछ दूध, पनीर है।

कथन 2: समस्त पनीर, करी है।

निष्कर्ष I: कुछ करी, दूध है।

निष्कर्ष II: कुछ पनीर, दूध है।

- Ans
- 1. न तो निष्कर्ष I और न ही II अनुसरण करता है
  - 2. केवल निष्कर्ष II अनुसरण करता है
  - 3. केवल निष्कर्ष I अनुसरण करता है
  - 4. निष्कर्ष I और II दोनों अनुसरण करते हैं

Question ID : 59445929273

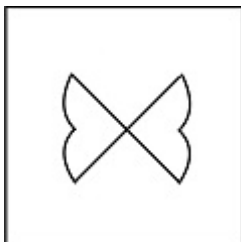
Status : Answered

Chosen Option : 4

Prepare 50% Faster




Q.6 दी गई उत्तर आकृतियों में से, उस आकृति का चयन करें जिसमें प्रश्न आकृति छिपी/सन्निहित है।




Ans

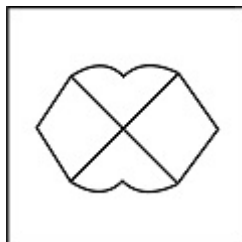
✗ 1.



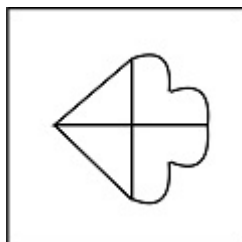
✗ 2.



✓ 3.



✗ 4.



ixamBee   
 Prepare 50% Faster

Question ID : 59445929270

Status : Answered



Q.7 Pointing to a photo Sunita said, she is my brother-in-law's only sister. How is that women in photo related to Sunita?

- Ans
- 1. Daughter-in-law
  - 2. Sister-in-law
  - 3. Sister
  - 4. Mother-in-law

Question ID : 59445929262  
Status : Answered  
Chosen Option : 2

Q.8 निम्नलिखित श्रृंखला में से लुप्त संख्या ज्ञात कीजिए।

41, 83, 168, 339, ?

- Ans
- 1. 680
  - 2. 674
  - 3. 672
  - 4. 682



Prepare 50% Faster

Question ID : 59445929272  
Status : Answered  
Chosen Option : 4





Q.9 निम्नलिखित प्रश्न में, अक्षरों का एक समूह दिया गया है। प्रत्येक समूह के अक्षर किसी न किसी तर्क/नियम/संबंध के आधार पर उस समूह के अक्षरों से संबंधित है। दिये गए विकल्पों में से अक्षरों के उस समूह को चुनिए जो उसी तर्क/नियम/संबंध का अनुसरण करता हो।

(AG, BK, CP)

- Ans
- 1. (JF, LJ, KO)
  - 2. (FM, GQ, HV)
  - 3. (TA, SE, RJ)
  - 4. (PC, QG, RK)

Question ID : 59445929278  
Status : Answered  
Chosen Option : 2

Q.10 निम्नलिखित श्रृंखला को पूरा करें।

Z1, Y4, X9, \_\_\_\_\_

- Ans
- 1. D25
  - 2. D16
  - 3. W25
  - 4. W16

Question ID : 59445929267  
Status : Answered  
Chosen Option : 4



**Q.11** A, B, C, D, E, F और G नामक सात छात्रों के समूह से दो टीमों बनाई जानी हैं। प्रत्येक टीम में अधिकतम चार सदस्य हो सकते हैं। A और B एक ही टीम में नहीं हो सकते हैं। C को E के साथ नहीं रखा जा सकता है। D और G को एक साथ रखा जाना है। F और D एक साथ नहीं हो सकते हैं। E और D को एक साथ रखा जाना है। A को F के साथ रखना है। तो बताएँ कि दिए गए आँकड़ों के अनुसार इनमें से कौन सी टीम गठित दो टीमों में से एक है?

- Ans**
- 1. GBFD
  - 2. FAD
  - 3. GDC
  - 4. EDGB

Question ID : **59445929275**

Status : **Answered**

Chosen Option : **4**

ixamBee  
Prepare 50% Faster



Q.12 नीचे दिए गए प्रश्न में कुछ कथन और उनके बाद उन कथनों पर आधारित कुछ निष्कर्ष दिए गए हैं। दिए गए कथनों को सही मानें, भले ही वे सामान्य रूप से ज्ञात तथ्यों से भिन्न प्रतीत होते हों। सभी निष्कर्ष पढ़ें और फिर निर्धारित करें कि दिए गए कौन से निष्कर्ष, दिए गए कथनों का अनुसरण करते हैं।

कथन:

- I. कुछ K, M हैं।
- II. कोई भी L, A नहीं है।
- III. कोई भी A, K नहीं है।

निष्कर्ष:

- I. कुछ K, A नहीं हैं।
- II. कुछ M, A नहीं हैं।
- III. कुछ L, A नहीं हैं।

Ans

- ✓ 1. सभी निष्कर्ष अनुसरण करते हैं
- ✗ 2. निष्कर्ष I तथा III दोनों अनुसरण करते हैं
- ✗ 3. निष्कर्ष I तथा II दोनों अनुसरण करते हैं
- ✗ 4. निष्कर्ष II तथा III दोनों अनुसरण करते हैं

Question ID : 59445929277

Status : Answered

Chosen Option : 1



**Q.13** यहाँ दो कथन और उनके चार निष्कर्ष I, II, III और IV दिए गए हैं। आपको इन कथनों को सत्य मानना है, भले ही ये सामान्यतः ज्ञात तथ्यों से भिन्न प्रतीत होते हों। बताएँ कि कौन सा/से निष्कर्ष तार्किक रूप से प्रदत्त कथनों का अनुसरण करता/ते है/हैं।

कथन:

- A. कुछ शार्पनर पेंसिलें हैं।
- B. कुछ पेंसिलें चटाइयाँ हैं।

निष्कर्ष:

- I. कोई भी शार्पनर चटाई नहीं है।
- II. कुछ चटाइयाँ पेंसिलें हैं।
- III. कुछ चटाइयाँ शार्पनर हैं।
- IV. कोई भी पेंसिल शार्पनर नहीं है।

Ans

- ✓ 1. केवल निष्कर्ष II और निष्कर्ष I या III अनुसरण करते हैं।
- ✗ 2. केवल निष्कर्ष III और IV अनुसरण करते हैं।
- ✗ 3. केवल निष्कर्ष I और III अनुसरण करते हैं।
- ✗ 4. केवल निष्कर्ष I और IV अनुसरण करते हैं।

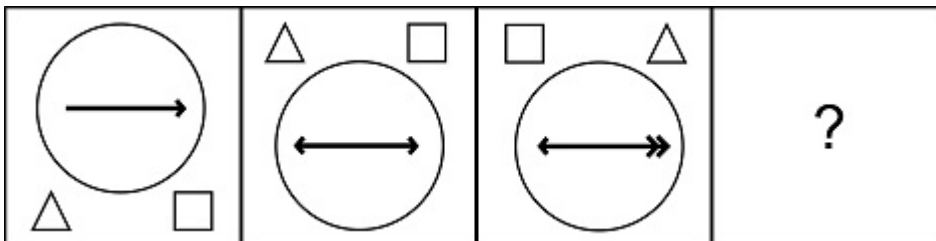
Question ID : 59445929279

Status : Answered

Chosen Option : 1



Q.14 दी गई उत्तर आकृतियों में से श्रृंखला की लुप्त आकृति ज्ञात करें।



Ans

- ✗ 1.
- ✗ 2.
- ✗ 3.
- ✓ 4.

ixamBee

Prepare 50% Faster

Question ID : 59445929263

Status : Answered



Q.15 निम्नलिखित संख्या श्रृंखला में लुप्त संख्या ज्ञात करें:

4, 9, 25, 49, 121, \_\_\_\_\_.

- Ans
- ✓ 1. 169
  - ✗ 2. 144
  - ✗ 3. 225
  - ✗ 4. 196

Question ID : 59445929264  
Status : Answered  
Chosen Option : 1

Q.16 उस विकल्प का चयन करें जो तीसरे पद से उसी प्रकार से संबंधित है जिस प्रकार से दूसरा पद पहले पद से संबंधित है।

DAX : WZC :: VKO : ?

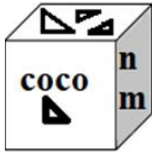
- Ans
- ✓ 1. EPL
  - ✗ 2. EQL
  - ✗ 3. FPL
  - ✗ 4. FQL

Question ID : 59445929268  
Status : Answered  
Chosen Option : 1



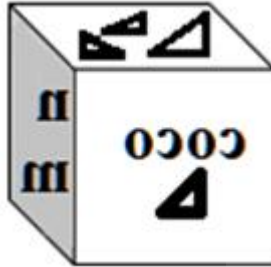
Q.17 यदि दर्पण को दाईं ओर रखा जाता है तो बताएँ कि इनमें से कौन सी उत्तर आकृति दी गई प्रश्न आकृति का सटीक दर्पण प्रतिबिंब (मिरर इमेज) होगी?

प्रश्न आकृति:

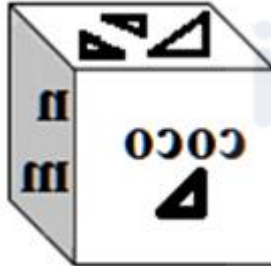


Ans

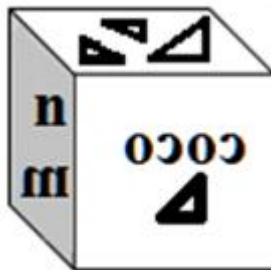
✗ 1.



✓ 2.

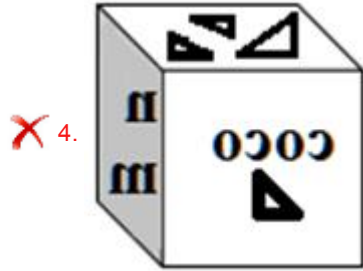


✗ 3.



Prepare 50% Faster





Question ID : 59445929280

Status : Answered

Chosen Option : 2

Q.18 एक निश्चित कोड में यदि 'M' का अर्थ '+' है, 'N' का अर्थ 'x' है, 'O' का अर्थ '+' है और 'P' का अर्थ '-' है, तो 27M3N5P6O9 का मान कितना होगा?

- Ans
- ✗ 1. 50
  - ✗ 2. 53
  - ✓ 3. 48
  - ✗ 4. 52



Question ID : 59445929261

Status : Answered

Chosen Option : 3





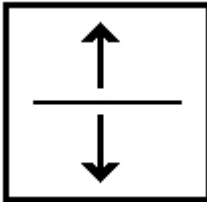
Q.19 निम्नलिखित विकल्पों में कौन सी आकृति समूह (शेष तीन विकल्पों) से संबंधित नहीं है?

Ans

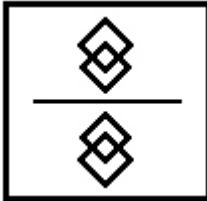
✓ 1.



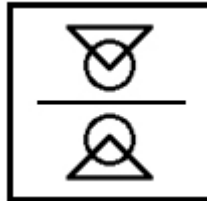
✗ 2.



✗ 3.



✗ 4.



ixamBee   
 Prepare 50% Faster

Question ID : 59445929271

Status : Answered

Chosen Option : 2



Q.20 नीचे दी गई श्रृंखला में लुप्त संख्या ज्ञात करें।

2, 6, 30, 210, ?, 30030

- Ans
- 1. 2730
  - 2. 2200
  - 3. 2310
  - 4. 2100

Question ID : 59445929276

Status : Answered

Chosen Option : 3

Section : English

Q.1 The question below consists of a set of labelled sentences. Out of four options given, select the most logical order of the sentences which forms a coherent paragraph.

Joseph Stalin was born Iosif Vissarionovich Dzhugashvili in the village of Gori, in the Russian province of Georgia, on Dec. 21, 1879.

P. It was she who directed his education, first in the local Gori Church School and then, thanks to a scholarship, at the Tiflis Theological Seminary.

Q. There, she hoped, he would train to become a priest.

R. Thus Joseph's mother, Yekaterina, made the more profound impact on his life

S. His father was a shoemaker with a penchant for drunkenness, who left Gori when Stalin was young to seek employment in the city of Tiflis.

Instead, the young Stalin became a devoted advocate for Marxist revolution.

- Ans
- 1. SQRP
  - 2. SRQP
  - 3. SPQR
  - 4. SRPQ

Question ID : 59445929290

Status : Answered

Chosen Option : 2



**Q.2 Select the most appropriate meaning of the given idiom.**

**"Hit the nail on the head"**

- Ans
- 1. When you already have it good and get something on top of what you already have
  - 2. To have a dispute with someone
  - 3. Do something exactly right or say something exactly right
  - 4. Raise controversy

Question ID : **59445929296**  
Status : **Answered**  
Chosen Option : **3**

**Q.3 Select the most appropriate 'one word' for the expression given below.**

**Harmful, poisonous, or very unpleasant.**

- Ans
- 1. Palpable
  - 2. Unanxious
  - 3. Innoxious
  - 4. Noxious

Question ID : **59445929298**  
Status : **Answered**  
Chosen Option : **4**



**Q.4 Select the most appropriate meaning of the given idiom.**

**"Idle hands are the devil's tools"**

- Ans
- 1. Uncomfortable or worried in a situation
  - 2. When one thing goes wrong, then another, and another
  - 3. You are more likely to get in trouble if you have nothing to do
  - 4. Before the time necessary to do something

Question ID : **59445929297**  
Status : **Answered**  
Chosen Option : **2**

**Q.5 Select the most appropriate synonym of the given word.**

**Accumulate**

- Ans
- 1. Dissemble
  - 2. Gather
  - 3. Scatter
  - 4. Distribute

Question ID : **59445929293**  
Status : **Answered**  
Chosen Option : **2**



**Q.6** Fill in the blank with the most appropriate option.

I would have waited for you \_\_\_\_\_ you were coming.

- Ans
- 1. because I was knowing
  - 2. if I would have known
  - 3. when it was known
  - 4. had I known

Question ID : **59445929291**  
Status : **Answered**  
Chosen Option : **4**

**Q.7** Select the most appropriate option to fill in the blank.

The police \_\_\_\_\_ mute spectators to the entire incident which took place right outside the KEM hospital.

- Ans
- 1. are
  - 2. was
  - 3. is
  - 4. were

Question ID : **59445929285**  
Status : **Answered**  
Chosen Option : **4**



**Q.8** Select the word that is opposite in meaning (ANTONYM) to the word given below.

**Apathetic**

- Ans  1. Eager  
 2. Unmoved  
 3. Impassive  
 4. Passive

Question ID : **59445929300**  
Status : **Answered**  
Chosen Option : **1**

**Q.9** Select the most appropriate option to fill in the blank.

In the wake of the recent cross-border tensions, forces have been \_\_\_\_\_ at strategic locations for immediate action, if required.

- Ans  1. deported  
 2. deposited  
 3. departed  
 4. deployed

Question ID : **59445929287**  
Status : **Answered**  
Chosen Option : **4**



**Q.10 Choose the most appropriate idiom to complete the sentence.**

The contract manager was told that the quality of construction was poor and he should \_\_\_\_\_ or face the consequences.

- Ans
- 1. get his nose out of joint
  - 2. get his act together
  - 3. get some shut - eye
  - 4. get his goat

Question ID : **59445929292**  
Status : **Answered**  
Chosen Option : 1

**Q.11 Identify the segment in the sentence which contains a grammatical error.**

There were some team members who do not agreed to the coach's suggestions about changing their strategy.

- Ans
- 1. who do not agreed
  - 2. to the coach's suggestions
  - 3. about changing their strategy.
  - 4. There were some team members

Question ID : **59445929281**  
Status : **Answered**  
Chosen Option : 1



**Q.12** Fill in the blank with the most appropriate option.

The national debt \_\_\_\_\_ at an alarming rate thereby causing concern among economists.

- Ans
- 1. had been grown
  - 2. is grown
  - 3. has been growing
  - 4. has to be growing

Question ID : **59445929288**

Status : **Answered**

Chosen Option : 2

**Q.13** Some parts of a sentence have been jumbled up, and labelled P, Q, R and S. Select the option that gives the correct sequence in which these parts can be rearranged to form a meaningful and grammatically correct sentence.

Regardless of the highly unstable

P. mutual funds are still considered

Q. nature of high risk and rewards,

R. as a viable investment opportunity

S. to make substantial gains

in short term.

- Ans
- 1. QSRP
  - 2. QRPS
  - 3. QSPR
  - 4. QPRS

Question ID : **59445929289**

Status : **Not Answered**

Chosen Option : --





**Q.14 Identify the segment in the sentence which contains a grammatical error.**

The government of India has allowed field trials of two new varieties of indigenous develop GM brinjals in eight states of the country.

- Ans
- 1. has allowed field trials
  - 2. two new varieties
  - 3. of indigenous develop
  - 4. of the country.

Question ID : **59445929282**  
Status : **Answered**  
Chosen Option : **3**

**Q.15 Four words are given, out of which only one word is spelt correctly. Choose the word with the correct spelling.**

- Ans
- 1. Magnanamous
  - 2. Maganimous
  - 3. Magnanimous
  - 4. Magnamos



Prepare 50% Faster

Question ID : **59445929295**  
Status : **Answered**  
Chosen Option : **3**



**Q.16** Select the most appropriate option to substitute the underlined segment in the given sentence. If there is no need to substitute it, select 'No improvement'.

In journals, writers records his experiences and reflect on their value or importance.

- Ans
- 1. record their experiences
  - 2. recording their experience
  - 3. recorded his experience
  - 4. No improvement

Question ID : **59445929286**  
Status : **Answered**  
Chosen Option : 1

**Q.17** Select the most appropriate synonym of the given word.

**Gradient**

- Ans
- 1. Learn
  - 2. Flag
  - 3. Ramp
  - 4. Manifest

Question ID : **59445929294**  
Status : **Answered**  
Chosen Option : 4



**Q.18** Select the word that is opposite in meaning (ANTONYM) to the word given below.

**Clandestine**

- Ans** ✓ 1. Overt  
✗ 2. Covert  
✗ 3. Furtive  
✗ 4. Futile

Question ID : **59445929299**  
Status : **Answered**  
Chosen Option : **1**

**Q.19** Identify the segment in the sentence which contains a grammatical error.

**I knew that something was amissed in the plan submitted by the supplier.**

- Ans** ✓ 1. something was amissed  
✗ 2. submitted by the supplier  
✗ 3. in the plan  
✗ 4. I knew that

Question ID : **59445929283**  
Status : **Not Answered**  
Chosen Option : **--**



**Q.20 Identify the segment in the sentence which contains a grammatical error.**

**His main argument was not to be consulted before the decision was taken by the committee.**

- Ans**
- 1. before the decision
  - 2. His main argument
  - 3. was not to be consulted
  - 4. was taken by the committee

Question ID : **59445929284**  
Status : **Not Answered**  
Chosen Option : --

