

# पिछले वर्षों के प्रश्न पत्र

ixamBee  
Prepare 50% Faster

## टियर - I

# IB ACIO Gr-II

## 18 फ़रवरी 2021 | पाली - 2



**SSC CHSL**



**AFCAT**



**SSC CGL**



**IB MTS**



**RRB NTPC**



**SSC CPO**



**IB SA**



+91-9205524028

ixamBee  
Prepare 50% Faster



ixamBee.com

## ACIO Grade II Executive 18th Feb 2021

Participant ID	
Participant Name	
Test Center Name	
Test Date	18/02/2021
Test Time :	12:00 PM - 1:00 PM
Subject	ACIO Grade II (Executive)

### Section : General awareness Current Affairs

Q.1 अगस्त 2020 में, किस संगठन ने विद्यालय इंटरनेट संयोजकता का मानचित्रण करने के लिए एरिक्सन के साथ साझेदारी की है?

- Ans
- 1. यू.एन.डी.पी. (UNDP)
  - 2. यूनेस्को (UNESCO)
  - 3. यूनिसेफ (UNICEF)
  - 4. यू.एन.एच.सी.आर. (UNHCR)

Question ID : 59445929105

Status : Not Answered

Chosen Option : --

Q.2 जुलाई 2020 में, कोचीन शिपयार्ड लिमिटेड (CSL), कोच्चि ने \_\_\_\_\_ की कंपनी 'ए.एस.के.ओ. मैरीटाइम ए.एस.' के लिए दो स्वायत्तशासी विद्युत नौका के निर्माण और आपूर्ति के अनुबंध पर हस्ताक्षर किए हैं।

- Ans
- 1. इज़रायल
  - 2. नॉर्वे
  - 3. पुर्तगाल
  - 4. फ्रांस

Question ID : 59445929110

Status : Not Answered

Chosen Option : --

Q.3 टोनी लुईस के संदर्भ में निम्नलिखित में से कौन सा/से कथन सत्य है/हैं?

1. वे खराब मौसम से प्रभावित सीमित ओवरों के मैचों में उपयोग किए जाने वाले डकवर्थ-लुईस-स्टर्न (DLS) सिद्धांत के प्रतिपादकों में से एक हैं।
2. उन्हें अपनी सेवाओं के लिए एम.बी.ई. - MBE (मेंबर ऑफ द ऑर्डर ऑफ द ब्रिटिश एम्पायर) से नवाजा गया है।

नीचे दिए गए कूट (code) का उपयोग करके सही उत्तर चुनिए।

- Ans
- 1. केवल 2
  - 2. न तो 1 और न ही 2
  - 3. केवल 1
  - 4. 1 और 2 दोनों

Question ID : 59445929112

Status : Not Answered

Chosen Option : --



Q.4 जुलाई 2020 में, किसे ब्रिक्स सी.सी.आई. (BRICS CCI) का मानद सलाहकार नियुक्त किया गया है?

- Ans  1. साहिल सेठ  
 2. इंजेती श्रीनिवास  
 3. इंद्रमणि पांडेय  
 4. अरुण कुमार

Question ID : 59445929109

Status : Not Answered

Chosen Option : --

Q.5 जम्मू और कश्मीर आधिकारिक भाषा विधेयक, 2020 के संदर्भ में निम्नलिखित में से कौन सा/से कथन सत्य है/हैं?

1. यह विधेयक केंद्र शासित प्रदेश जम्मू और कश्मीर की आधिकारिक भाषाओं की सूची में कश्मीरी, डोगरी और हिंदी भाषा को समाविष्ट करने के लिए प्रस्तुत किया गया था।
2. यह विधेयक केंद्र शासित प्रदेश जम्मू और कश्मीर की आधिकारिक भाषाओं की सूची में उर्दू और अंग्रेजी को समाविष्ट करने के लिए प्रस्तुत किया गया है।

नीचे दिए गए कूट (code) का उपयोग करके सही उत्तर चुनिए।

- Ans  1. केवल 1  
 2. न तो 1 और न ही 2  
 3. केवल 2  
 4. 1 और 2 दोनों

Question ID : 59445929113

Status : Not Answered

Chosen Option : --

Q.6 इनमें से किस संस्था ने विज्ञान और प्रौद्योगिकी विभाग, भारत सरकार के साथ साझेदारी में "शेडस्मार्ट (ShadeSmart)" नामक एक शेडिंग सिस्टम को विकसित किया है?

- Ans  1. रमन रिसर्च इंस्टीट्यूट, बैंगलोर  
 2. डिफेन्स रिसर्च एंड डेवलपमेंट ऑर्गेनाइजेशन  
 3. द एनर्जी एंड रिसोर्स इंस्टीट्यूट  
 4. सेंटर फॉर नैनो एंड सॉफ्ट मैटर साइंसेस, बैंगलोर

Question ID : 59445929108

Status : Not Answered

Chosen Option : --



Q.7 17 मार्च 2020 को, विज्ञान और प्रौद्योगिकी मंत्रालय ने कहा कि नैनो विज्ञान और प्रौद्योगिकी संस्थान (INST) के वैज्ञानिकों द्वारा 'हीमोस्टेट' नामक एक पदार्थ विकसित किया गया है जो रक्त में अतिरिक्त द्रव को भौतिक रूप से अवशोषित करते हुए प्राकृतिक रूप से थक्का बनाने वाले कारकों को केंद्रित कर देता है। यह उत्पाद मुख्य रूप से किन जैव अपघटनीय सामग्रियों से निर्मित है?

1. पॉलिथीन फिल्म
2. स्टार्च
3. सिंथेटिक बहुलक

नीचे दिए गए कोड का उपयोग करते हुए, सही उत्तर चुनें।

- (A) केवल 1  
 (B) 1 और 2 दोनों  
 (C) केवल 2  
 (D) 2 और 3 दोनों

- Ans  1. B  
 2. D  
 3. C  
 4. A

Question ID : 59445929118

Status : Not Answered

Chosen Option : --

Q.8 भारत सरकार (GoI) ई-20 ईंधन के अभिग्रहण की शुरुआत करने जा रही है।

1. इथेनॉल जैसे हरित ईंधन को प्रोत्साहन देने के लिए।
2. मोटर वाहन में काम आने वाले ईंधन के रूप में पेट्रोल के साथ 45 प्रतिशत इथेनॉल के मिश्रण के साथ ई-20 ईंधन का अभिग्रहण करने के लिए।
3. कार्बन डाइऑक्साइड और हाइड्रोकार्बन के उत्सर्जन में कमी लाने के लिए।

नीचे दिए गए कूट (code) का उपयोग करके सही उत्तर चुनिए।

- Ans  1. केवल 1  
 2. 1 और 2 दोनों  
 3. 1 और 3 दोनों  
 4. केवल 2

Question ID : 59445929114

Status : Not Answered

Chosen Option : --



Q.9 Match list I with list II and select the correct answer using the code given below the list

List I (Author)	List II (Book)
A. Diane Cook	1. The Shadow King
B. Tsitsi Dangarembga	2. The New Wilderness
C. Maaza Mengiste	3. This Mournable Body
D. Avni Doshi	4. Burnt Sugar

Code

- A) A B C D  
1 3 4 2
- B) A B C D  
2 3 1 4
- C) A B C D  
3 2 1 4
- D) A B C D  
4 3 2 1

- Ans  1. B
-  2. A
-  3. C
-  4. D

Question ID : 59445929116

Status : Answered

Chosen Option : 1

Q.10 प्रवासी श्रमिकों से संबंधित डेटा एकत्रित करने के लिए भारत सरकार ने 22 जनवरी 2021 को 'श्रमशक्ति' नामक एक पोर्टल प्रारंभ किया है। निम्न में से किस मंत्रालय ने गोवा सरकार के साथ मिलकर इस पोर्टल को प्रारंभ किया?

- जनजातीय कार्य मंत्रालय
- गृह मंत्रालय
- अल्पसंख्यक कार्य मंत्रालय
- इलेक्ट्रॉनिक्स और सूचना प्रौद्योगिकी मंत्रालय

नीचे दिए गए कोड का उपयोग करते हुए, सही उत्तर चुनें।

- (A) केवल 2  
(B) केवल 1  
(C) 3 और 4  
(D) केवल 4

- Ans  1. B
-  2. D
-  3. C
-  4. A

Question ID : 59445929119

Status : Answered

Chosen Option : 1



Q.11 युवा गणितज्ञ 2020 ,के लिए दिए गये रामानुजन पुरस्कार के संबंध में निम्नलिखित में से कौन सा/से कथन सत्य है/हैं?

1. इसे कैरोलिना अरुजो को प्रदान किया गया है,
2. वह यह पुरस्कार पाने वाली प्रथम गैर-भारतीय हैं।

नीचे दिए गए कूट (code) का उपयोग करके सही उत्तर चुनिए।

- Ans
- 1. केवल 2
  - 2. केवल 1
  - 3. न तो 1 और न ही 2
  - 4. 1 और 2 दोनों

Question ID : 59445929111

Status : Answered

Chosen Option : 4

Q.12 13 वर्षीया छात्रा, फ्रेया ठकराल को उसके \_\_\_\_\_ के लिए 2020 का डायना अवार्ड मिला है।

- Ans
- 1. रिकंस्ट्रक्ट ऐप
  - 2. रिसाइक्लर ऐप
  - 3. रिज्वाइन ऐप
  - 4. रियूज ऐप

Question ID : 59445929106

Status : Not Answered

Chosen Option : --

Q.13 स्वामित्व (SVAMITVA) योजना के संबंध में दिए गए कथनों पर विचार कीजिए।

1. इस योजना का उद्देश्य ग्रामीण भूमि अभिलेखों का अद्यतनीकरण (update) करना, ग्रामीण परिवारों को अधिकारों का अभिलेखों प्रदान करना और संपत्ति पत्रकों (cards) को जारी करना है।
2. स्वामित्व (SVAMITVA) पंचायती राज और ग्रामीण विकास मंत्रालय की एक केंद्रीय योजना है।
3. इस योजना को छह साल (2020-2026) की अवधि में पूरे देश में लागू किया जाएगा।

नीचे दिए गए कूट (code) का उपयोग करके सही उत्तर चुनिए।

- Ans
- 1. 1, 2 और 3 सभी
  - 2. केवल 1 और 3
  - 3. केवल 2 और 3
  - 4. केवल 1 और 2

Question ID : 59445929120

Status : Not Answered

Chosen Option : --



Q.14 "पूँजीगत व्यय के लिए राज्यों को विशेष सहायता" के संबंध में दिए गए कथनों पर विचार कीजिए।

1. वित्त मंत्रालय ने 27 राज्यों के लिए रु. 9,879.61 करोड़ के पूँजीगत व्यय प्रस्तावों को मंजूरी दी है।
2. तमिलनाडु को छोड़कर सभी राज्यों ने, "पूँजीगत व्यय के लिए राज्यों को विशेष सहायता" का लाभ उठा लिया है।

नीचे दिए गए कूट (code) का उपयोग करके सही उत्तर चुनिए।

- Ans
- 1. 1 और 2 दोनों
  - 2. न तो 1 और न ही 2
  - 3. केवल 2
  - 4. केवल 1

Question ID : 59445929117

Status : Not Answered

Chosen Option : --

Q.15 अगस्त 2020 में, प्रधानमंत्री जन-धन योजना ने \_\_\_\_\_ पूरे कर लिए।

- Ans
- 1. 7 वर्ष
  - 2. 4 वर्ष
  - 3. 5 वर्ष
  - 4. 6 वर्ष

Question ID : 59445929104

Status : Answered

Chosen Option : 4

Q.16 अगस्त 2020 में, नरेंद्र सिंह तोमर ने \_\_\_\_\_ के योनो (YONO) कृषि वेब एप्लिकेशन के साथ आई.सी.ए.आर.-आई.आई.एच.आर. (ICAR-IIHR) सीड पोर्टल के एकीकरण का शुभारंभ किया।

- Ans
- 1. एस.बी.आई. (SBI)
  - 2. आई.सी.आई.सी.आई. (ICICI)
  - 3. एच.डी.एफ़.सी. (HDFC)
  - 4. एक्सिस (Axis)

Question ID : 59445929103

Status : Answered

Chosen Option : 1

Q.17 जुलाई 2020 में, किस संगठन ने चुनाव आयुक्त, श्री अशोक लवासा को अपना उपाध्यक्ष (वाइस प्रेसीडेंट) नियुक्त किया था?

- Ans
- 1. यू.एन.एच.सी.आर. (UNHCR)
  - 2. एशियाई विकास बैंक
  - 3. यूनिसेफ (UNICEF)
  - 4. विश्व बैंक

Question ID : 59445929102

Status : Not Attempted and Marked For Review

Chosen Option : --



Q.18 राष्ट्रीय दिव्यांग सशक्तिकरण केंद्र के संबंध में दिए गए कथनों पर विचार कीजिए।

1. राष्ट्रीय दिव्यांग सशक्तिकरण केंद्र (NCDE) उन सी.आर.पी.एफ. (CRPF) कार्मिकों को प्रशिक्षण की सुविधा प्रदान करेगा जो चोट लगने के कारण शारीरिक रूप से विकलांग हो जाते हैं।
2. राष्ट्रीय दिव्यांग सशक्तिकरण केंद्र (NCDE) आर्थिक और समग्र सशक्तिकरण के लिए रियायती ऋण प्रदान करके जरूरतमंद विकलांग व्यक्तियों की सहायता करेगा।

नीचे दिए गए कूट (code) का उपयोग करके सही उत्तर चुनिए।

- Ans  1. केवल 1  
 2. 1 और 2 दोनों  
 3. केवल 2  
 4. न तो 1 और न ही 2

Question ID : 59445929115

Status : Not Answered

Chosen Option : --

Q.19 रीवा अल्ट्रा-मेगा सौर ऊर्जा परियोजना के बारे में इनमें से कौन-सा कथन सही नहीं है?

- Ans  1. इसका उद्घाटन 10 जुलाई 2020 को किया गया था  
 2. यह परियोजना मध्य प्रदेश राज्य में स्थित है  
 3. यह 850 MW की सौर ऊर्जा परियोजना है  
 4. नवीन और नवीकरणीय ऊर्जा मंत्रालय (MNRE) ने अपनी सौर पार्क योजना के तहत इस परियोजना को मंजूरी दी थी

Question ID : 59445929107

Status : Not Answered

Chosen Option : --

Q.20 इनमें से किसे 'व्यापार और उद्योग-प्रौद्योगिकी' के क्षेत्र में 2019 का पद्म भूषण पुरस्कार प्राप्त हुआ है?

- Ans  1. श्री दर्शन लाल जैन  
 2. श्री सुखदेव सिंह ढींढसा  
 3. श्री जॉन चैम्बर्स  
 4. श्री प्रवीण गोरधन

Question ID : 59445929101

Status : Not Answered

Chosen Option : --

Section : General studies





Q.1 Match List-I with List-II and select the correct answer using the codes given below the Lists.

List-I (Mesolithic Sites)	List-II (Locations)
A. Langhnaj	1. Telangana
B. Sanganakallu	2. Karnataka
C. Gauri Gundam	3. Uttar Pradesh
D. Chopani Mando	4. Gujarat

- Ans
- 1. A-2, B-1, C-3, D-4
  - 2. A-4, B-2, C-1, D-3
  - 3. A-3, B-1, C-2, D-4
  - 4. A-3, B-1, C-4, D-2

Question ID : 59445929136  
Status : Not Answered  
Chosen Option : --

Q.2 एक नदी विशिष्ट क्षेत्र से अपना जल बहा के लाती है, उस क्षेत्र को क्या कहते हैं?

- Ans
- 1. जलग्रहण क्षेत्र
  - 2. वृक्षाकार क्षेत्र
  - 3. जल संभर
  - 4. अपवाह द्रोणी

Question ID : 59445929126  
Status : Not Answered  
Chosen Option : --

Q.3 निम्नलिखित में से किस राज्य में कांगेर घाटी राष्ट्रीय उद्यान स्थित है?

- Ans
- 1. अरुणाचल प्रदेश
  - 2. छत्तीसगढ़
  - 3. गुजरात
  - 4. असम

Question ID : 59445929130  
Status : Not Answered  
Chosen Option : --



Q.4 विलहम कॉनरैड रॉटजन के संदर्भ में निम्नलिखित कथनों पर विचार करें।

1. उन्हें 1901 में भौतिकी का पहला नोबेल पुरस्कार प्रदान किया गया था।
2. एक्स-रे की उनकी खोज जिसने भौतिकी और चिकित्सा के क्षेत्र में क्रांति ला दी।
3. उन्होंने ध्वनि तरंगों के विवर्तन की खोज की थी।

उपरोक्त कथनों में से कौन सा/से सही है/हैं?

- Ans
- 1. केवल 2
  - 2. केवल 1 और 3
  - 3. केवल 1 और 2
  - 4. केवल 1

Question ID : 59445929133  
Status : Answered  
Chosen Option : 3

Q.5 ISWM stands for \_\_\_\_\_.

- Ans
- 1. Integrated Sanitation and Waste Management
  - 2. Integrated Solid Waste Management
  - 3. Integrated Solid Waste Ministry
  - 4. Integrated Sanitation Waste Ministry

Question ID : 59445929125  
Status : Not Answered  
Chosen Option : --

Q.6 भारतीय स्वतंत्रता लीग के संदर्भ में निम्नलिखित कथनों पर विचार करें:

1. यह भारतीय राष्ट्रवादियों द्वारा स्थापित एक राजनीतिक संगठन था जो भारतीय राष्ट्रवाद को सशक्त बनाने और भारतीय स्वतंत्रता आंदोलन के लिए जापान से समर्थन प्राप्त करने के लिए था।
2. 1928 में स्थापित, यह संगठन दक्षिण-पूर्व एशिया के विभिन्न भागों में स्थित था।

उपरोक्त कथनों में से कौन सा/से कथन सही है/हैं?

- Ans
- 1. केवल 1
  - 2. न तो 1 और न ही 2
  - 3. केवल 2
  - 4. 1 और 2 दोनों

Question ID : 59445929131  
Status : Not Answered  
Chosen Option : --



Q.7 जैविक अपशिष्टों से पौधों के आसपास की मिट्टी को ढंकने के लिए निम्नलिखित में से किस/किन पद्धतियों का उपयोग किया जाता है?

1. निहाई (स्टैकिंग)
2. पलवारना (मल्लिचंग)
3. छटाई (पूनिंग)

नीचे दिए गए कूट (Codes) का उपयोग करते हुए सही उत्तर चुनें।

- Ans
- 1. केवल 1 और 2
  - 2. केवल 2
  - 3. केवल 1
  - 4. केवल 3

Question ID : 59445929139

Status : Not Answered

Chosen Option : --

Q.8 सूची -I का मिलान सूची -II से करें और सूचियों के नीचे दिए गए कूटों (code) का उपयोग करके सही उत्तर चुनें।

सूची -I (पारंपरिक खेल)	सूची -II (राज्य, जहां वे खेले जाते हैं)
A. कलरीपायट्टु	1. तमिलनाडु
B. तीरंदाजी	2. केरल
C. जल्लीकट्टू	3. मध्य प्रदेश
D. मल्लखम्भ	4. मणिपुर

- Ans
- 1. A-2, B-3, C-1, D-4
  - 2. A-2, B-4, C-1, D-3
  - 3. A-2, B-1, C-4, D-3
  - 4. A-2, B-1, C-3, D-4

Question ID : 59445929134

Status : Answered

Chosen Option : 2



Q.9 कारा ताघ दरें के संदर्भ में निम्नलिखित कथनों पर विचार करें।

1. यह अरुणाचल प्रदेश राज्य में स्थित है।
2. यह विख्यात रेशम मार्ग (ग्रेट सिल्क रोड) की एक शाखा है और काराकोरम पर्वत-श्रेणी में स्थित है।
3. यह अरुणाचल प्रदेश को तिब्बत से जोड़ता है।

उपरोक्त कथनों में से कौन सा/से कथन सही है/हैं?

- Ans
- 1. केवल 3
  - 2. केवल 2
  - 3. केवल 1
  - 4. केवल 1 और 2

Question ID : 59445929135

Status : Not Answered

Chosen Option : --

Q.10 निम्नलिखित में से कौन सा त्योहार – राज्य युग्म सही है?

- I. मोढेरा नृत्य महोत्सव – गुजरात
- II. बाणेश्वर मेला - राजस्थान

- Ans
- 1. केवल I
  - 2. न तो I और न ही II
  - 3. I तथा II दोनों
  - 4. केवल II

Question ID : 59445929121

Status : Not Answered

Chosen Option : --

Q.11 Consider the following statements regarding Jal Jeevan Mission.

1. It aims to provide piped drinking water to all rural households by 2024.
2. It aims to provide 25 litres of tapped water per person per day to all households by 2024.
3. Goa has become the first 'Har Ghar Jal State' to provide 100% household tap connections in rural areas.
4. The Jal Shakti Ministry is the nodal ministry for the implementation of the scheme.

Which of the statements given above is/are correct?

- Ans
- 1. Only 1, 2 and 3
  - 2. Only 1, 3 and 4
  - 3. Only 1 and 3
  - 4. Only 1 and 2

Question ID : 59445929138

Status : Answered

Chosen Option : 2



Q.12 Which of the following is/are NOT a non-justifiable right?

1. Right to work
2. Equal pay for equal work (for men and women)
3. Right to education

Select the correct answer using the codes given below.

- Ans
- 1. Only 2 and 3
  - 2. Only 1 and 2
  - 3. Only 1, 2 and 3
  - 4. Only 1 and 3

Question ID : 59445929140

Status : Answered

Chosen Option : 3

Q.13 मंगल पर नासा क्यूरिऑसिटी रोवर द्वारा बड़ी मात्रा में किस गैस का पता लगाया गया है?

- Ans
- 1. मीथेन
  - 2. नाइट्रोजन
  - 3. हाइड्रोजन
  - 4. सल्फर

Question ID : 59445929122

Status : Not Answered

Chosen Option : --

Q.14 स्थानीय क्षेत्र बैंक (एल.ए.बी.) योजना किस वर्ष शुरू की गई थी?

- Ans
- 1. 1996
  - 2. 1993
  - 3. 1995
  - 4. 1994

Question ID : 59445929127

Status : Not Answered

Chosen Option : --

Q.15 प्रो कबड्डी लीग के पहले विजेता कौन थे?

- Ans
- 1. पटना पाइरेट्स
  - 2. बेंगलुरु बुल्स
  - 3. जयपुर पिंक पैथर्स
  - 4. बंगाल वॉरियर्स

Question ID : 59445929124

Status : Not Answered

Chosen Option : --



Q.16 किस राजा के शासनकाल में चीनी यात्री ह्वेन त्सांग भारत आया था?

- Ans  1. हर्षवर्धन  
 2. पुलकेशिन  
 3. कीर्तिवर्मन  
 4. राजवर्धन

Question ID : 59445929123  
 Status : Answered  
 Chosen Option : 1

Q.17 कंबाला एक वार्षिक भैंसा दौड़ है, जिसका आयोजन \_\_\_\_\_ में किया जाता है।

- Ans  1. कर्नाटक  
 2. हरियाणा  
 3. असम  
 4. केरल

Question ID : 59445929128  
 Status : Not Answered  
 Chosen Option : --

Q.18 बजट 2020 में स्वच्छता के संदर्भ में निम्नलिखित कथनों पर विचार करें।

1. जल जीवन मिशन के लिए ₹ 3.6 लाख करोड़ आवंटित किए गए थे।
2. स्वच्छ भारत मिशन के लिए ₹ 12,300 करोड़ आवंटित किए गए थे।

उपरोक्त कथनों में से कौन सा/से कथन सही है/हैं?

- Ans  1. 1 और 2 दोनों  
 2. न तो 1 और न ही 2  
 3. केवल 1  
 4. केवल 2

Question ID : 59445929132  
 Status : Not Answered  
 Chosen Option : --

Q.19 निम्नलिखित में से कौन धनुर्विद्या के लिए अर्जुन पुरस्कार से सम्मानित होने वाला पहला व्यक्ति था?

- Ans  1. हरीश नानगुनुरी  
 2. कृष्ण दास  
 3. बाबा श्रवण किशोर  
 4. संजीव कुमार सिंह

Question ID : 59445929129  
 Status : Not Answered  
 Chosen Option : --





Q.20 संगीतकार और उनके वाद्ययंत्रों के संबंध में निम्नलिखित कथनों पर विचार कीजिए।

1. रामनाद वी. राघवन चेन्नई के एक संगीतकार थे जो मृदंगम का वादन करते थे।
2. उस्ताद असद अली खान एक प्रसिद्ध रुद्र वीणावादक थे और 'धुपद' की चार शैलियों (schools) में से एक खांडेर शैली (school) के उस्ताद (master) थे।
3. पंडित शिव कुमार शर्मा नामक प्रसिद्ध संतूर वादक को 2005 में पद्म विभूषण से सम्मानित किया गया था।
4. थैताकुडी हरिहर विनायकराम एक भारतीय तालवादक हैं, जो घटम के साथ कर्नाटक संगीत बजाते हैं और घटम समाट के रूप में जाने जाते हैं।

उपर्युक्त कथनों में से कौन सा/से कथन सही है/हैं?

- Ans
- 1. केवल 1 और 2
  - 2. केवल 1 और 3
  - 3. केवल 1, 2 और 3
  - 4. केवल 1, 2 और 4

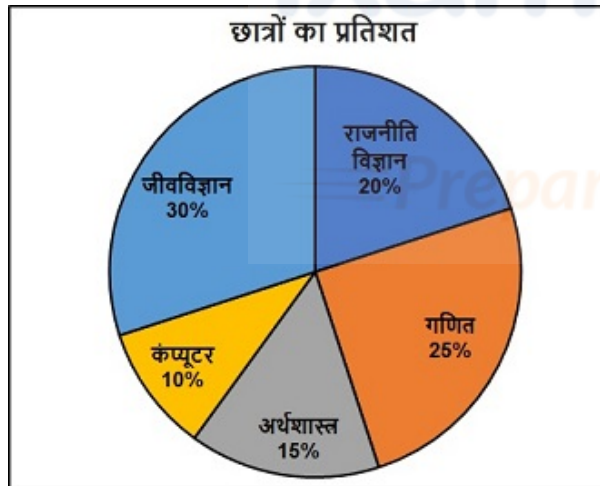
Question ID : 59445929137

Status : Not Answered

Chosen Option : --

Section : Numerical aptitude

Q.1 दिया गया पाई चार्ट उन छात्रों के प्रतिशत को दर्शाता है, जिन्होंने विभिन्न विषयों को अतिरिक्त विषय के रूप में चुना है।  
यदि महाविद्यालय में कुल छात्रों की संख्या 5000 है, तो उन छात्रों की संख्या ज्ञात करें, जिन्होंने गणित या अर्थशास्त्र का विकल्प चुना है।



- Ans
- 1. 1000
  - 2. 2500
  - 3. 2000
  - 4. 3000

Question ID : 59445929153

Status : Answered

Chosen Option : 3



Q.2 6 के प्रथम 6 सकारात्मक गुणकों का औसत \_\_\_\_\_ होगा।

- Ans
- 1. 6
  - 2. 12
  - 3. 21
  - 4. 126

Question ID : 59445929144  
Status : Answered  
Chosen Option : 3

Q.3 दो संख्याओं का ल.स. उनके म.स. का 12 गुना है। ल.स और म.स. का योग 403 है। यदि संख्याओं में से एक 124 है, तो दूसरी संख्या ज्ञात कीजिए।

- Ans
- 1. 93
  - 2. 112
  - 3. 64
  - 4. 76

Question ID : 59445929158  
Status : Answered  
Chosen Option : 1

Q.4 यदि किसी आयत की लंबाई और चौड़ाई क्रमशः 10 प्रतिशत बढ़ाई और घटाई जाती है, तो आयत के क्षेत्रफल में प्रतिशत परिवर्तन क्या है?

- Ans
- 1. 0.1 प्रतिशत
  - 2. 1 प्रतिशत
  - 3. 10 प्रतिशत
  - 4. कोई परिवर्तन नहीं

Question ID : 59445929146  
Status : Answered  
Chosen Option : 2

Q.5 A, B और C क्रमशः 5, 10 और 15 दिनों में अपने दम पर एक काम कर सकते हैं। एक साथ काम करने के लिए B और C द्वारा आवश्यक समय की गणना करें।

- Ans
- 1. 8 दिन
  - 2. 5 दिन
  - 3. 6 दिन
  - 4. 12 दिन

Question ID : 59445929148  
Status : Answered  
Chosen Option : 3





Q.6 एक परीक्षा में दो छात्र उपस्थित हुए। उनमें से एक ने दूसरे की तुलना में 15 अंक अधिक प्राप्त किए और उसके अंक उनके अंकों के योग का 55% थे। उनके द्वारा प्राप्त किए गए अंक हैं:

- Ans
- 1. 40, 60
  - 2. 73.5, 88.5
  - 3. 53, 68
  - 4. 67.5, 82.5

Question ID : 59445929152

Status : Answered

Chosen Option : 4

Q.7 निम्नलिखित समीकरण में प्रश्न चिह्न (?) के स्थान पर क्या मान आएगा?

$$\frac{40}{2} + 13 \times 4 = ? + \frac{60}{3} - 33$$

- Ans
- 1. 89
  - 2. 97
  - 3. 85
  - 4. 79

Question ID : 59445929154

Status : Answered

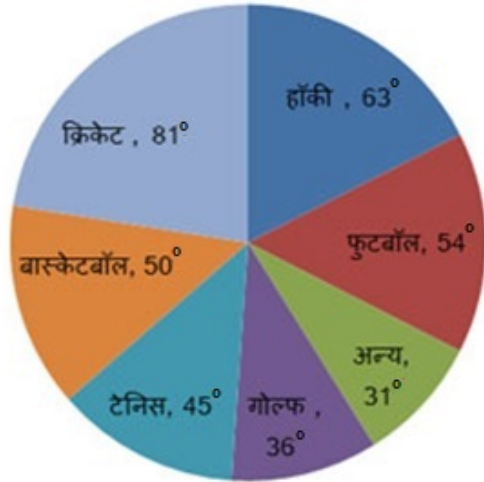
Chosen Option : 3

ixamBee

Prepare 50% Faster



Q.8 नीचे दिया हुआ वृत्त-ग्राफ किसी देश के किसी विशेष वर्ष में विभिन्न खेलों पर खर्च को दर्शाता है। ग्राफ को ध्यान से पढ़िए तथा नीचे दिए गए प्रश्नो का उत्तर दीजिए।



यदि पूरे वर्ष में सम्पूर्ण खेलों पर 2 करोड़ रुपये खर्च हुए हों, तो क्रिकेट तथा हॉकी पर कुल मिलाकर कितने रुपये खर्च हुए थे ?

- Ans
- 1. 12000000 रुपये
  - 2. 16000000 रुपये
  - 3. 8000000 रुपये
  - 4. 800000 रुपये

Question ID : 59445929156

Status : Answered

Chosen Option : 3

Q.9 एक निश्चित धनराशि साधारण ब्याज की दर से 3 वर्षों में 1250 रुपए और 8 वर्षों में 1600 रुपए हो जाती है, तो धनराशि ज्ञात कीजिए।

- Ans
- 1. 1050
  - 2. 1100
  - 3. 1040
  - 4. 1024

Question ID : 59445929159

Status : Answered

Chosen Option : 3

Q.10 एक ठोस शंकु का पार्श्व क्षेत्रफल आधार क्षेत्रफल से तीन गुना बड़ा है। यदि ठोस शंकु का व्यास 1 मीटर है, तो ठोस शंकु का कुल पृष्ठीय क्षेत्रफल क्या है?

- Ans
- 1.  $\pi$  Sq. m
  - 2.  $4\pi$  Sq. m.
  - 3.  $8\pi$  Sq. m.
  - 4.  $2\pi$  Sq. m.

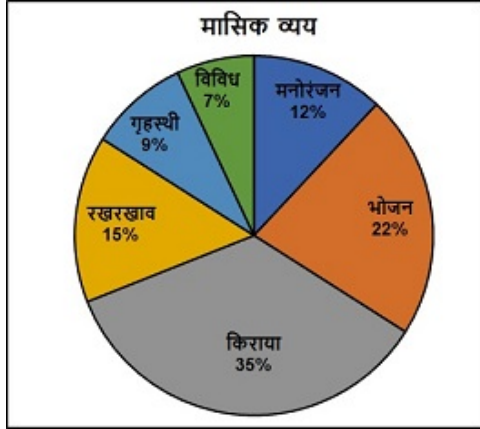
Question ID : 59445929157

Status : Answered

Chosen Option : 1



Q.11 पाई चार्ट विभिन्न वस्तुओं पर सुरेश के मासिक व्यय को दर्शाता है। यदि उसे 70000 रुपए किराए के रूप में भुगतान करना है, तो मनोरंजन पर व्यय की गई राशि की गणना करें।



- Ans
- 1. 12000 रुपए
  - 2. 8000 रुपए
  - 3. 24000 रुपए
  - 4. 35000 रुपए

Question ID : 59445929143

Status : Answered

Chosen Option : 3

ixamBee

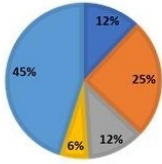
Prepare 50% Faster



Q.12 निम्नलिखित पाई चार्ट में वर्ष 2012-13 में मुंबई के कोलीवाड़ा सी-फूड केंद्र द्वारा विभिन्न प्रकार के सी-फूड को बेचकर अर्जित आय और लाभ को दर्शाया गया है।

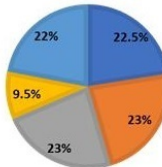
प्रत्येक प्रकार के सी-फूड बेचकर शुद्ध आय का हिस्सा

■ अन्य ■ कतला ■ झींगे ■ पॉम्फ्रेट ■ हिल्सा



प्रत्येक प्रकार के सी-फूड बेचकर शुद्ध लाभ का हिस्सा

■ अन्य ■ कतला ■ झींगे ■ पॉम्फ्रेट ■ हिल्सा



यदि वर्ष 2012-13 में सी-फूड केंद्र की कुल आय ₹ 31,25,000 थी और कंपनी का कुल लाभ ₹ 6,00,000 रहा, तो प्रति रूपए आय के लिए किस प्रकार के सी-फूड को बेचकर अर्जित लाभ अधिकतम था?

Ans  1. अन्य (Others)

2. पॉम्फ्रेट (Pomfret)

3. कतला (Catla)

4. झींगे (Prawns)

Question ID : 59445929149

Status : Answered

Chosen Option : 4

Q.13 जब किसी संख्या का 65 प्रतिशत उसमें से घटाया जाता है, तो परिणाम 784 के वर्गमूल के रूप में आता है। संख्या क्या है?

Ans  1. 64

2. 56

3. 80

4. 96

Question ID : 59445929160

Status : Answered

Chosen Option : 3

Q.14 उस गोले का क्षेत्रफल ज्ञात करें जिसकी त्रिज्या 7 cm है। ( $\pi$  का मान 22/7 है)

Ans  1. 729 cm<sup>2</sup>

2. 616 cm<sup>2</sup>

3. 144 cm<sup>2</sup>

4. 225 cm<sup>2</sup>

Question ID : 59445929142

Status : Answered

Chosen Option : 2



Q.15 एक समलम्ब चतुर्भुज का क्षेत्रफल ज्ञात कीजिए जिसकी समानांतर भुजाएँ क्रमशः 12 सेमी और 18 सेमी लंबाई की हैं और उनके बीच की न्यूनतम दूरी 20 सेमी है।

- Ans
- 1. 600 सेमी<sup>2</sup>
  - 2. 210 सेमी<sup>2</sup>
  - 3. 195 सेमी<sup>2</sup>
  - 4. 300 सेमी<sup>2</sup>

Question ID : 59445929155

Status : Answered

Chosen Option : 4

Q.16 सीता हर रोज़ साइकिल से अपनी पाठशाला जाने के लिए 5 km की यात्रा करती है। वह पूर्वाह्न 7:00 बजे अपने घर से निकलती है और पूर्वाह्न 7:30 बजे पहुँचती है। उसकी गति ज्ञात करें?

- Ans
- 1. 20 km/hr
  - 2. 8 km/hr
  - 3. 10 km/hr
  - 4. 5 km/hr

Question ID : 59445929147

Status : Answered

Chosen Option : 3

Q.17 5 संतरों का विक्रय मूल्य = 8 संतरों का लागत मूल्य। लाभ/हानि प्रतिशत ज्ञात करें।

- Ans
- 1. 10 प्रतिशत
  - 2. 60 प्रतिशत
  - 3. 25 प्रतिशत
  - 4. 30 प्रतिशत

Question ID : 59445929141

Status : Answered

Chosen Option : 2

Q.18 दो दोस्त A और B, कुछ फल खरीदने के लिए फल बाजार गए। पहली दुकान पर, B ₹ a प्रति आम की दर से कुछ आम खरीदता है और A, B से 9 अधिक आम खरीदता है। अगली दुकान पर, A इकाई मूल्य ₹ b प्रति सेब की दर से कुछ सेब खरीदता है और B, A से 18 अधिक सेब खरीदता है। बाद में, यह पाया गया कि A और B द्वारा खरीदे गए फलों की संख्या का अनुपात क्रमशः 4 : 7 है, जबकि फलों को खरीदने के लिए उनके द्वारा खर्च की गई धनराशि समान हैं। अनुपात a : b ज्ञात करें।

- Ans
- 1. 2 : 1
  - 2. 1 : 2
  - 3. 3 : 2
  - 4. 2 : 3

Question ID : 59445929150

Status : Not Attempted and Marked For Review

Chosen Option : --



Q.19 यदि 20 आदमी प्रतिदिन 5 घंटे काम करके 4 दिनों में एक काम पूरा करते हैं। तो 10 आदमी प्रतिदिन 10 घंटे काम करके कितने दिनों में समान काम को पूरा करेंगे? मान लें कि सभी पुरुष एक ही कार्यक्षमता से काम करते हैं।

- Ans
- 1. 5 दिन
  - 2. 40 दिन
  - 3. 4 दिन
  - 4. 2 दिन

Question ID : 59445929145

Status : Answered

Chosen Option : 3

Q.20 यदि  $768.792 \div 0.00823 = a$ , तो  $768792 \div 0.00823$  का मान ज्ञात कीजिए।

- Ans
- 1.  $a+1000$
  - 2.  $1000a$
  - 3.  $a+100$
  - 4.  $10a$

Question ID : 59445929151

Status : Answered

Chosen Option : 2

Section : Reasoning Logical aptitude

Q.1 प्रश्न में दो कथन दिए गए हैं, जिसके बाद दो निष्कर्ष I और II दिए गए हैं। आपको उन कथनों को सत्य मानना है, भले ही यह सामान्यतः ज्ञात तथ्य से भिन्न प्रतीत हो। आपको यह निर्णय लेना है कि दिए गए निष्कर्षों में से कौन सा/से, यदि कोई हो, तो दिए गए कथनों में से अनुसरण करता/ते है/ हैं।

कथन:

1. कोई भी पौधा फल नहीं है।
2. सभी बिस्कुट पौधे हैं।

निष्कर्ष:

- I. कुछ पौधे बिस्कुट हैं।
- II. कोई बिस्कुट फल नहीं है।

- Ans
- 1. केवल निष्कर्ष II अनुसरण करता है।
  - 2. न। और न ही II अनुसरण करता है।
  - 3. केवल निष्कर्ष I अनुसरण करता है।
  - 4. दोनों निष्कर्ष I तथा II अनुसरण करते हैं।

Question ID : 59445929171

Status : Answered

Chosen Option : 4



Q.2 निम्नलिखित श्रृंखला में लुप्त पद ज्ञात करें।

HS10, KP4, NM0, \_\_\_\_\_

- Ans
- 1. QJ5
  - 2. UF14
  - 3. QK5
  - 4. QJ6

Question ID : 59445929166

Status : Answered

Chosen Option : 4

Q.3 प्रश्न में दो कथन दिए गए हैं, जिसके बाद दो निष्कर्ष I और II दिए गए हैं। आपको उन कथनों को सत्य मानना है, भले ही यह सामान्यतः ज्ञात तथ्य से भिन्न प्रतीत हो। आपको यह निर्णय लेना है कि दिए गए निष्कर्षों में से कौन सा/से, यदि कोई हो, तो दिए गए कथनों में से अनुसरण करता/ते है/हैं।

कथन 1: कुछ लकड़ी फर्नीचर है।

कथन 2: कुछ फर्नीचर लोहा है।

निष्कर्ष I: सभी फर्नीचर लकड़ियाँ हैं।

निष्कर्ष II: सभी लकड़ियाँ लोहा हैं।

- Ans
- 1. केवल निष्कर्ष I अनुसरण करता है
  - 2. केवल निष्कर्ष II अनुसरण करता है !
  - 3. I और II दोनों अनुसरण करते हैं !
  - 4. न I और न ही II अनुसरण करता है

Question ID : 59445929173

Status : Answered

Chosen Option : 4

Q.4 एक निश्चित कूट भाषा में, MALE को 2375 के रूप में लिखा गया है और CIRCULAR को 98496734 के रूप में लिखा गया है, तो उस कूट भाषा में CLAIM को कैसे लिखा जा सकता है?

- Ans
- 1. 97382
  - 2. 87342
  - 3. 97384
  - 4. 67382

Question ID : 59445929168

Status : Answered

Chosen Option : 1



Q.5 नीचे दिए गए समीकरण को सही बनाने के लिए किन दो संख्याओं को परस्पर बदलना चाहिए?

$$700 + 42 \div 6 \times 45 - 54 \times 9 + 14 = 355$$

- Ans  1. 6 और 14  
 2. 9 और 14  
 3. 6 और 9  
 4. 45 और 54

Question ID : 59445929176  
 Status : Answered  
 Chosen Option : 1

Q.6 एक कूट भाषा में WHISPER को IHWSREP के रूप में लिखा जाता है, तो उसी कूट भाषा में, COLLECT को कैसे लिखा जाएगा?

- Ans  1. LCOLTCE  
 2. LOCLTCE  
 3. LOCTLEC  
 4. LOCTLCE

Question ID : 59445929178  
 Status : Answered  
 Chosen Option : 2

Q.7 'P + Q' का अर्थ है कि 'Q की पत्नी P है', 'P - Q' का अर्थ है कि 'Q के पिता P हैं', 'P × Q' का अर्थ है कि 'Q की बेटी P है', और 'P ÷ Q' का अर्थ है कि 'Q का बेटा P है'।

यदि V की बहन S है, तो बताएँ कि इनमें से कौन सा समीकरण सत्य है?

- Ans  1.  $R \times S \div T + U - V$   
 2.  $S \times R \div T + U - V$   
 3.  $R \div S \times T + U - V$   
 4.  $S \div R \times T + U - V$

Question ID : 59445929179  
 Status : Not Answered  
 Chosen Option : --

Q.8 निम्नलिखित प्रश्न में, दिए गये विकल्पों में से संबंधित अक्षरों का चयन कीजिए।

WKDL : XIGH :: DIHS : ?

- Ans  1. OEGE  
 2. GEKO  
 3. EGKO  
 4. OGGK

Question ID : 59445929177  
 Status : Answered  
 Chosen Option : 3





Q.9 निम्नलिखित समीकरण में, सही समीकरण प्राप्त करने के लिए किन दो चिह्नों को परस्पर बदला जाएगा?

$$119 - 21 \div 7 + 117 \times 3 = 11$$

- Ans
- 1. - और ×
  - 2. ÷ और ×
  - 3. - और +
  - 4. ÷ और +

Question ID : 59445929172

Status : Answered

Chosen Option : 2

Q.10 प्रश्न में एक कथन दिया गया है, जिसके बाद दो निष्कर्ष, I और II दिए गए हैं। आपको उस कथन को सत्य मानना है, भले ही यह सामान्यतः ज्ञात तथ्य से भिन्न प्रतीत हो। आपको यह निर्णय लेना है कि दिए गए निष्कर्षों में से कौन सा/से, यदि कोई हो, तो दिए गए कथन का अनुसरण करता/ते है/हैं।

कथन: इनपुट एलिमेंट्स के सेट और संभावित आउटपुट एलिमेंट्स के सेट के बीच सम्बन्ध फलन कहलाता है, जहां प्रत्येक इनपुट ठीक एक आउटपुट से सम्बंधित होता है !

निष्कर्ष I: प्रत्येक इनपुट एलिमेंट प्रत्येक आउटपुट एलिमेंट से संबंधित है।  
निष्कर्ष II: प्रत्येक इनपुट एलिमेंट आउटपुट के एक एलिमेंट से संबंधित है।

- Ans
- 1. केवल निष्कर्ष I अनुसरण करता है
  - 2. न। और न ही II अनुसरण करता है
  - 3. केवल निष्कर्ष II अनुसरण करता है
  - 4. I और II दोनों अनुसरण करते हैं

Question ID : 59445929161

Status : Not Answered

Chosen Option : --

Q.11 उस विकल्प का चयन करें जो तीसरे शब्द से उसी प्रकार से संबंधित है जिस प्रकार से दूसरा शब्द पहले शब्द से संबंधित है।

जोश : उत्साह :: व्यपहरण : ?

- Ans
- 1. अचानक
  - 2. स्वतंत्रता
  - 3. एहसास
  - 4. अपहरण

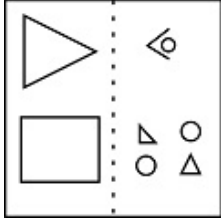
Question ID : 59445929165

Status : Answered

Chosen Option : 4

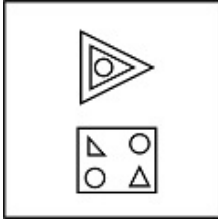


Q.12 एक पैटर्न के साथ एक पारदर्शी शीट दी गई है। चार विकल्पों में से वह विकल्प चुनें जो दर्शाए कि बिंदीदार रेखा पर पारदर्शी शीट को मोड़ने पर पैटर्न कैसा दिखाई देगा।

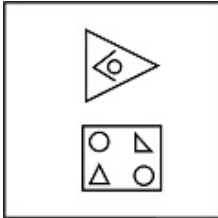


Ans

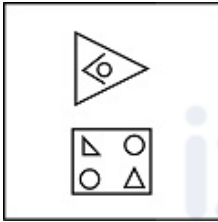
✗ 1.



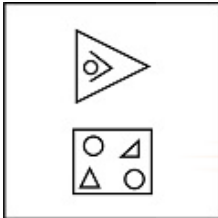
✗ 2.



✗ 3.



✓ 4.



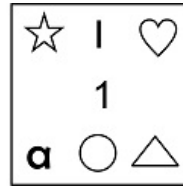
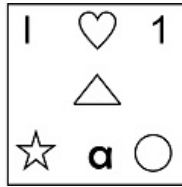

Question ID : 59445929163

Status : Answered

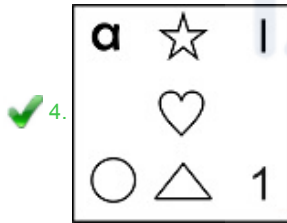
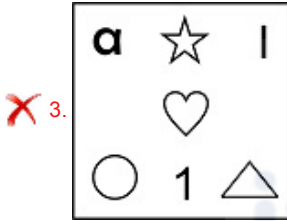
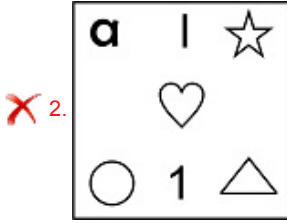
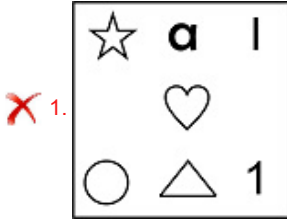
Chosen Option : 4



Q.13 दिए गए प्रश्न में से, ज्ञात करें कि कौन सी आकृति चार आकृतियों के बाद आती है जो श्रृंखला में हैं?



Ans



Question ID : 59445929170

Status : Answered

Chosen Option : 4

Q.14 एक लड़की की ओर इशारा करते हुए अभय ने कहा, वह मेरे ससुर की पत्नी की इकलौती बेटी की बेटी है। वह लड़की अभय से कैसे संबंधित है?

Ans ✓ 1. बेटी

✗ 2. बहन

✗ 3. भतीजी

✗ 4. बहू

Question ID : 59445929162

Status : Answered

Chosen Option : 1



Q.15 उस विकल्प का चयन करें जो तीसरे पद से उसी प्रकार से संबंधित है जिस प्रकार से दूसरा पद पहले पद से संबंधित है।

ABROAD : ZCPQXG :: MARKET : ?

- Ans
- 1. LBQNCW
  - 2. LBTMBW
  - 3. LBPLCV
  - 4. LBPMBW

Question ID : 59445929167

Status : Answered

Chosen Option : 4

Q.16 एक गोदाम में, 5 डिब्बे A से E को एक दूसरे के बिलकुल ऊपर रखने के लिए, निम्नलिखित शर्तें दी गई हैं:

1. डिब्बा A को डिब्बा D के ठीक तीन स्थानों के ऊपर रखा जाना चाहिए।
2. डिब्बा C को सबसे ऊपर पर नहीं रखा जाना चाहिए।
3. डिब्बा E और डिब्बा B के बीच केवल एक डिब्बा रखा जाना चाहिए।

यदि डिब्बा E सबसे नीचे है, तो ऊपर से डिब्बा C का स्थान क्या है?

- Ans
- 1. 3 रा
  - 2. अपर्याप्त डेटा
  - 3. 2रा
  - 4. 4था

Question ID : 59445929174

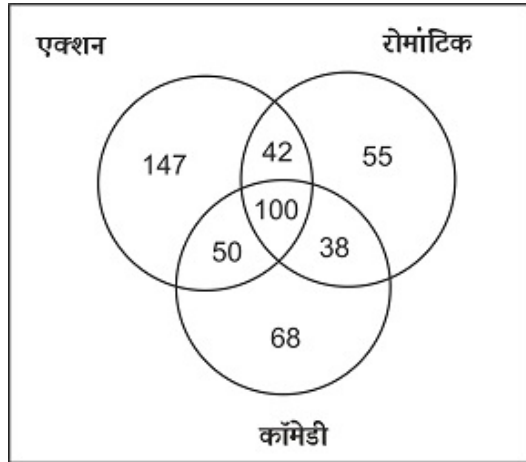
Status : Answered

Chosen Option : 3

ixamBee™  
Prepare 50% Faster



Q.17 नीचे दिया गया आरेख विभिन्न प्रकार की फिल्मों अर्थात एक्शन, रोमांटिक और कॉमेडी में छात्रों की रुचि के संदर्भ में 500 छात्रों के नमूने पर किए गए एक सर्वेक्षण का परिणाम दर्शाता है। यदि सभी छात्रों को तीनों प्रकार की फिल्मों में से कम से कम एक फिल्म पसंद है, तो एक्शन फिल्में पसंद करने वाले छात्रों की संख्या कॉमेडी फिल्मों को पसंद करने वालों की तुलना में कितनी अधिक है।



- Ans
- 1. 143
  - 2. 83
  - 3. 147
  - 4. 98

Question ID : 59445929169

Status : Answered

Chosen Option : 2

Q.18 निम्नलिखित संख्या श्रृंखला में लुप्त संख्या ज्ञात करें।

2,6,12,20,\_\_\_\_\_,42

- Ans
- 1. 34
  - 2. 32
  - 3. 30
  - 4. 36

Question ID : 59445929164

Status : Answered

Chosen Option : 3

Q.19 कारों की एक पंक्ति में, मारुति बाएं से आठवें और टोयोटा दायें से सत्रहवें स्थान पर है। यदि वे अपनी स्थितियों को परस्पर बदल देती हैं, तो मारुति बाएं से चौदहवें स्थान पर आ जाती है। पंक्ति में कितनी कारें हैं?

- Ans
- 1. 32
  - 2. 25
  - 3. 28
  - 4. 30

Question ID : 59445929175

Status : Answered

Chosen Option : 4



**Q.20** यदि दर्पण को दाईं ओर रखा जाता है, तो बताएँ कि इनमें से कौन सी उत्तर आकृति दी गई प्रश्न आकृति का सटीक दर्पण प्रतिबिंब (मिरर इमेज) होगी?

प्रश्न आकृति:



Ans

1.



2.



3.



4.



Question ID : 59445929180

Status : Answered

Chosen Option : 2

Section : English

**Q.1** Select the most appropriate 'one word ' for the expressions given below.

Done, occurring, or active at night.

- Ans
1. Cothurn
2. Adjournal
3. Diuturnal
4. Nocturnal

Question ID : 59445929196

Status : Not Answered

Chosen Option : --



Q.2 Select the most appropriate synonym of the given word.

PERISH

- Ans
- 1. Vacuum
  - 2. Toil
  - 3. Die
  - 4. Despair

Question ID : 59445929193

Status : Not Answered

Chosen Option : --

Q.3 Select the word that is closest in meaning (SYNONYM) to the word given below.

Vandalize

- Ans
- 1. Commemorate
  - 2. Desecrate
  - 3. Ascertain
  - 4. Venerate

Question ID : 59445929197

Status : Not Answered

Chosen Option : --

Q.4 Some parts of a sentence have been jumbled up, and labelled P, Q, R and S. Select the option that gives the correct sequence in which these parts can be rearranged to form a meaningful and grammatically correct sentence.

The dualism characteristic of medieval serfdom,

P. may be traced all through

Q. its formation out of debased

R. freedom and rising servitude,

S. the history of the

middle ages.

- Ans
- 1. PSQR
  - 2. QRPS
  - 3. RPQS
  - 4. QSPR

Question ID : 59445929189

Status : Answered

Chosen Option : 3



**Q.5** Four words are given, out of which only one word is spelt correctly. Choose the word with the correct spelling.

- Ans
- 1. Execerbate
  - 2. Exacarbate
  - 3. Exacarbete
  - 4. Exacerbate

Question ID : 59445929200  
Status : Answered  
Chosen Option : 1

**Q.6** Select the word that is opposite in meaning (ANTONYM) to the word given below.

**Avert**

- Ans
- 1. Compensate
  - 2. Elude
  - 3. Thwart
  - 4. Assist

Question ID : 59445929195  
Status : Answered  
Chosen Option : 4

**Q.7** Given below are four parts of a sentence which are jumbled. Pick the option that gives their correct order to make a grammatically correct, meaningful sentence.

- A. that they got from the grapevine
- B. the employees of the MNC were on tenterhooks all day
- C. and their nervousness could be seen on their faces
- D. having heard rumours of mass transfers

- Ans
- 1. BDCA
  - 2. DABC
  - 3. BCDA
  - 4. DBAC

Question ID : 59445929190  
Status : Answered  
Chosen Option : 1

**Q.8** Identify the segment in the sentence which contains a grammatical error.

Prior to this assignment, he work as an officer in the accounts department.

- Ans
- 1. Prior to this assignment
  - 2. he work
  - 3. as an officer
  - 4. in the accounts department

Question ID : 59445929182  
Status : Answered  
Chosen Option : 2





Q.9 The sentence below has been divided into three parts. Select the part of the sentence that has an error. If the sentence has no error, select the option 'No Error'.

- Ans
- 1. No error
  - 2. of popular chess streams, every
  - 3. once in a while.
  - 4. I like to tune into the live sessions

Question ID : 59445929185

Status : Not Attempted and  
Marked For Review

Chosen Option : --

Q.10 In the following question, some parts of the sentence may have errors. Select the option that has the error. If the sentence has no error then select 'No Error'.

The number of people on the planet still poses to a significant challenge for the countries struggling to provide a basic standard of living for everyone.

- Ans
- 1. No Error
  - 2. still poses to a significant challenge for the countries
  - 3. The number of people on the planet
  - 4. struggling to provide a basic standard of living for everyone.

Question ID : 59445929184

Status : Answered

Chosen Option : 2

Q.11 Select the most appropriate meaning of the given idiom.

"Haste makes waste"

- Ans
- 1. Intelligent people think like each other
  - 2. Angry and overcome by emotions
  - 3. Doing things quickly result in a poor ending
  - 4. Should, ought to, be advisable to

Question ID : 59445929192

Status : Answered

Chosen Option : 3

Q.12 Select the most appropriate option to substitute the underlined segment in the given sentence. In case no substitution is needed, select 'No substitution required'.

I requested the audience to refrain from speaking during the show.

- Ans
- 1. to remain away from
  - 2. No substitution required
  - 3. to restrict them for
  - 4. to restrain to

Question ID : 59445929191

Status : Answered

Chosen Option : 2



Q.13 The question below consists of a set of labelled sentences. Out of four options given, select the most logical order of the sentences which forms a coherent paragraph.

We know that dogs are a human's best friend.

P. They love us and we love them.

Q. Although wolves are wild and dogs are tame, they're still a lot alike.

R. Many scientists think they came from wolves 15,000 years ago.

S. Both wag their tails when happy and put their tails between their legs when scared.

These similarities today depict the relationship which they built with humans over 15,000 years ago.

- Ans
- 1. PSQR
  - 2. PRQS
  - 3. PRSQ
  - 4. PQRS

Question ID : 59445929188  
Status : Answered  
Chosen Option : 2

Q.14 Identify the segment in the sentence which contains a grammatical error.

If I was in his shoes, I would not have hesitated to take up the offer.

- Ans
- 1. to take up the offer
  - 2. would not have hesitated
  - 3. If I was
  - 4. in his shoes

Question ID : 59445929183  
Status : Answered  
Chosen Option : 3

Q.15 Select the most appropriate option to substitute the underlined segment in the given sentence. If there is no need to substitute it, select 'No improvement'.

If you want to grow, you must apply in whatever you do.

- Ans
- 1. ought to apply yourselves in
  - 2. should applied in
  - 3. must apply yourself to
  - 4. No improvement

Question ID : 59445929186  
Status : Answered  
Chosen Option : 3



Q.16 Select the most appropriate antonym of the given word.

Dilatory

- Ans  1. Prompt  
 2. Idle  
 3. Unhurried  
 4. Postponing

Question ID : 59445929198  
Status : Not Answered  
Chosen Option : --

Q.17 Select the most appropriate 'one word ' for the expression given below.

Self-pityingly or tearfully sentimental.

- Ans  1. Codlin  
 2. Maudlin  
 3. Cisplatin  
 4. Myelin

Question ID : 59445929199  
Status : Not Answered  
Chosen Option : --

Q.18 Fill in the blank with the appropriate word.

While it is undeniable that I have enjoyed living as \_\_\_\_\_ in the States, I would like to return home now.

- Ans  1. a depatriate  
 2. a patriate  
 3. a repatriate  
 4. an expatriate

Question ID : 59445929187  
Status : Not Answered  
Chosen Option : --

Q.19 In the following question, some parts of the sentence may have errors. Select the option that has the error. If the sentence has no error then select 'No Error'.  
After a stay of several years abroad he has returned back to Delhi.

- Ans  1. to Delhi.  
 2. No error  
 3. After a stay of several years abroad  
 4. he has returned back

Question ID : 59445929181  
Status : Answered  
Chosen Option : 4



**Q.20** Four words are given, out of which only one word is spelt correctly. Choose the word with the correct spelling.

- Ans**
- 1. Fallacious
  - 2. Fillicious
  - 3. Fillacious
  - 4. Fallicious

Question ID : 59445929194

Status : Answered

Chosen Option : 4



+91-9205524028

ixamBee™

Prepare 50% Faster



ixamBee.com

# पिछले वर्षों के प्रश्न पत्र

## टियर - I

# IB ACIO Gr-II

# All the Best



+91-9205524028

